

شكراً لتحميلك هذا الملف من موقع المناهج الإماراتية



أسئلة الامتحان النهائي الورقي بريدج

[موقع المناهج](#) ← [المناهج الإماراتية](#) ← [الصف السابع](#) ← [علوم](#) ← [الفصل الثاني](#) ← [الملف](#)

تاريخ نشر الملف على موقع المناهج: 08:18:21 2024-03-18

التواصل الاجتماعي بحسب الصف السابع



روابط مواد الصف السابع على تلغرام

[الرياضيات](#)

[اللغة الانجليزية](#)

[اللغة العربية](#)

[التربية الاسلامية](#)

المزيد من الملفات بحسب الصف السابع والمادة علوم في الفصل الثاني

[حل أسئلة الامتحان التحريبي انسابير](#)

1

[حل تدريبات كتابية وفق الهيكل الوزاري](#)

2

[حل نموذج تدريبي امتحاني](#)

3

[نموذج تدريبي امتحاني](#)

4

[أسئلة الجزء الكتابي وفق الهيكل الوزاري انسابير](#)

5

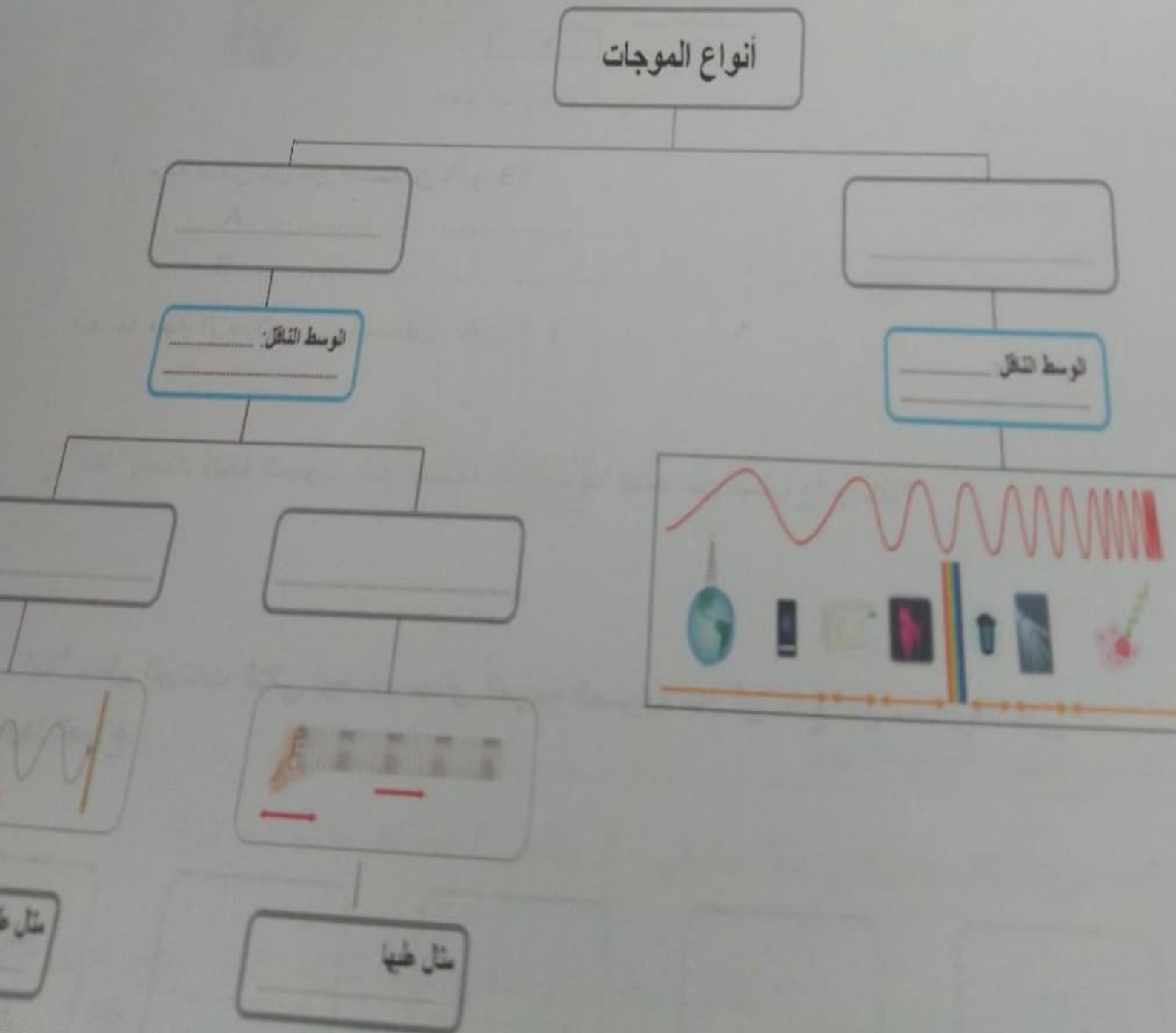
1

السؤال

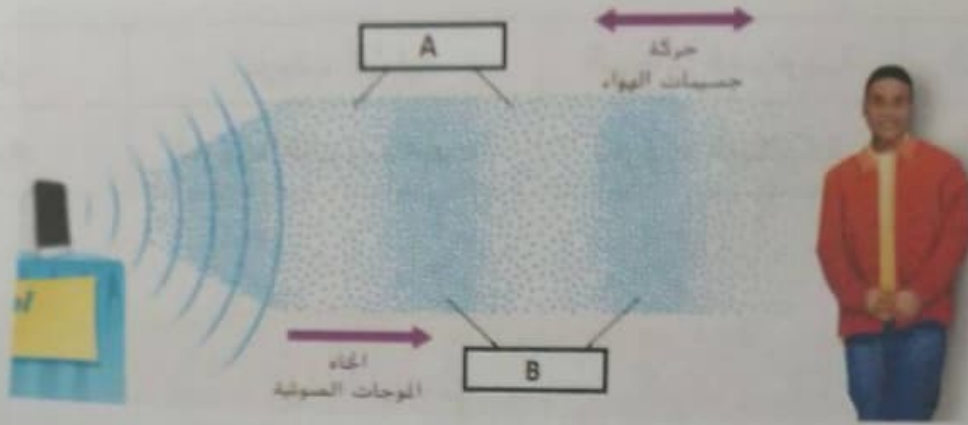
أكمل المتظم التالي، باستخدام المفاهيم أو الأمثلة أو الوسط مما يلي :

المادة والفراغ	الموجات المستعرضة	الموجات الطولية	الحبل
المادة فقط	الموجات الميكانيكية	الموجات الكهرومغناطيسية	الزنبرك

أنواع الموجات



في الشكل أدناه طالب يستمع إلى الصوت من المذياع، اجب عن الاسئلة التالية بناءاً عليه:



المصدر: كتاب الطالب درس الصوت، صفحة 229

أ. ماذا تسمى كل من المنطقتين A و B؟


..... A

..... B

ب. ما وجه الاختلاف بين المنطقتين A و B؟

ج. ماذا يحدث لشدة الصوت الذي يسمعه الطالب إذا ابتعد عن المذياع؟ ولماذا؟





د. املأ منظم البيانات التالي لوصف مسار الموجة الصوتية منذ أن تنتج عن مصدرها حتى يفسرها الدماغ.



السؤال

القسم الأول: التنظير في الكائنات الحية

1- أملاً الجدول بأدوع التنظير الصحيح لكل كائن حي في الجدول أثناء:

صورة الكائن الحي	اسمه	نوع التنظير
	إنسان	
	نجم البحر	
	قنديل البحر	
	ضفدح	

فيه. إذا اصطفت حيوان الاسفنج التالي، وأريدت دراسة نوع التنظير فيه، فماذا تصنفه؟ وأماذا؟



القسم الثاني: أنواع التكيف

اكتب نوع التكيف (تركيبى ، أو سلوكى ، أو وظيفى) أمام كل عبارة مما يلي:

1- (.....) للنمل جهاز دوري مفتوح بينما لدودة الأرض جهاز دوري مغلق

2- (.....) تنتج الاسفنجيات عددًا كبيرًا من الحيوانات المنوية في الماء

3- (.....) تتعلم الطيور المفردة الصغيرة كيفية التغريد عبر الاستماع

في الجدول أدناه مجموعة من الحبلليات الفقارية. ادرسها ثم اجب عن الاسئلة التالية:
أ- أكمل الجدول التالي بكتابة اسم المجموعة التي ينتمي إليها كل حيوان.

				صورة الكائن الحي
الذئب البري	المسندر	الدوري	الثعبان	اسمه
الثدييات				التصنيف حسب المجموعة

ب- ما وظيفة القشور للثعبان؟

ج- ما أهمية وجود الأجنحة القصيرة والعريضة لدى عصفور الدوري (بالإضافة إلى الطيران)؟

د- ما وجه الاختلاف بين الثعبان وعصفور الدوري من حيث حرارة جسمها؟

هـ- ما مجموعة الثدييات التي ينتمي إليها الذئب البري؟

5

السؤال

القسم الأول: الجذور

أ- املا الفراغ في الجدول أدناه للمقارنة بين أنواع الجذور.



(3)

(2)

(1)

ليفية

دعامة

وتدي

اسم نوع الجذر

ب- لماذا الجذور في الشكل (3) تُعد أفضل في امتصاص الماء عن الجذور في الشكل رقم (2)؟

لأنه متفرق ويمتص أكبر قدر من المياه

القسم الثاني: النباتات الزهرية

مستخدماً الرسم التخطيطي أدناه لزهرة، اجب عن الأسئلة التالية:



أ. أي من أجزاء الزهرة يكون غالباً زاهي اللون فيجذب الحشرات؟ البتلة

ب. ما هو الجزء الذي يُمثل العضو التناسلي الأنثوي للزهرة؟ المتاع

ج. ما العضو الذي ينتج حبوب اللقاح؟ المسك

د. إلى أي نوع من النباتات تنتمي هذه الزهرة؟ نباتات بدرية دعامة زهر

نهاية الأسئلة

