



شكراً لتحميلك هذا الملف من موقع المناهج الإماراتية



ورقة عمل مهارة قراءة الخرائط وتحليلها

[موقع المناهج](#) ← [المناهج الإماراتية](#) ← [الصف السابع](#) ← [اجتماعيات](#) ← [الفصل الثاني](#) ← [الملف](#)

التواصل الاجتماعي بحسب الصف السابع



روابط مواد الصف السابع على تلغرام

[الرياضيات](#)

[اللغة الانجليزية](#)

[اللغة العربية](#)

[التربية الاسلامية](#)

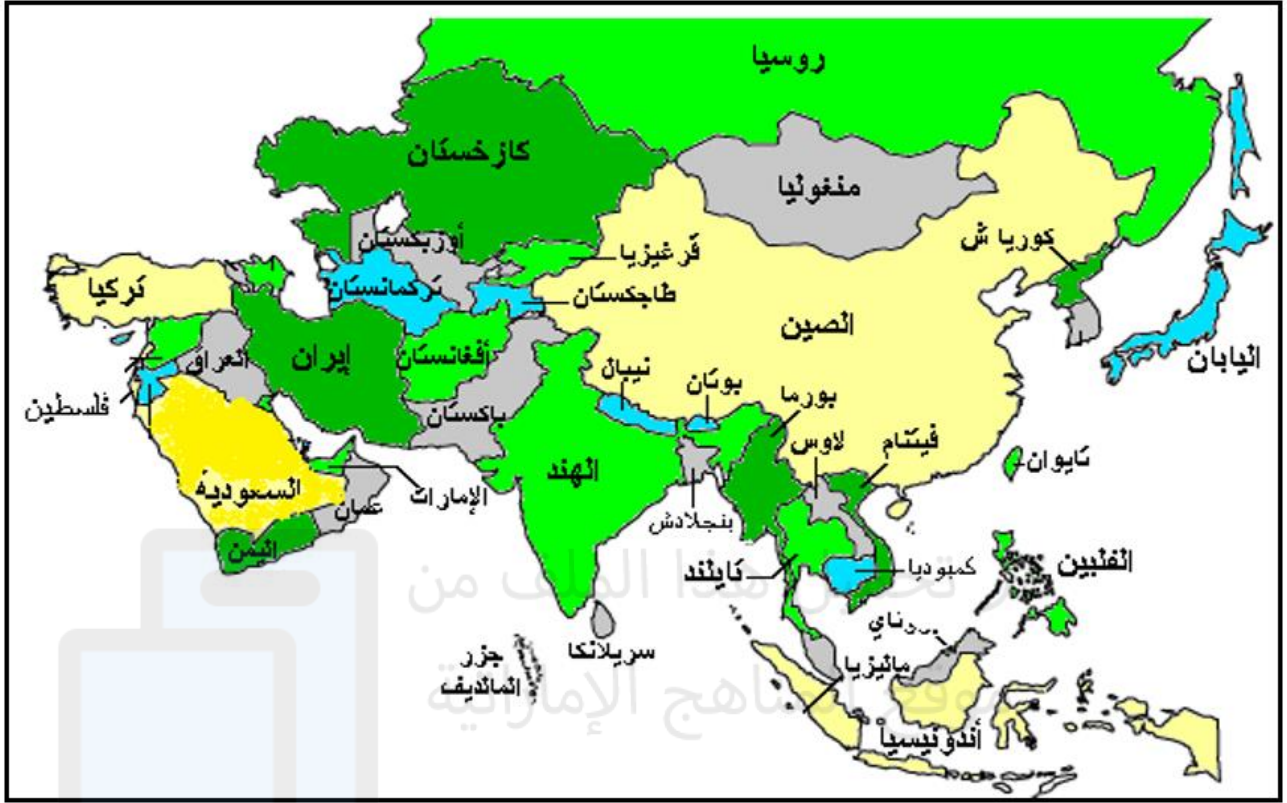
المزيد من الملفات بحسب الصف السابع والمادة اجتماعيات في الفصل الثاني

أسئلة الامتحان النهائي	1
مراجعة أسئلة وفق الهيكل الوزاري متبوعة بالإجابات النموذجية	2
ورقة عمل مهارة قراءة الخرائط وتحليلها	3
ورقة عمل مهارة قراءة النصوص وتحليلها	4
ورقة عمل مهارة قراءة الأشكال وتحليلها	5

اقرأ الخريطة جيداً، انتبه لجميع عناصر الخريطة (المفتاح/ العنوان/ ميين الجهات/)، اربط بين المعلومات الواردة فيها، وبين الظواهر المختلفة وفسرها وفقاً لما هو مطلوب.



- تقع معظم الدول العربية الأفريقية بالنسبة لقارة أفريقيا في جهة:
 - 1- الشرق
 - 2- الغرب
 - 3- الشمال
 - 4- الجنوب
- موريتانيا دولة عربية تطل على المحيط:
 - 1- المتجمد الشمالي
 - 2- الأطلسي
 - 3- الهادي
 - 4- الهندي
- الدولة العربية الجزرية المحاذية للسواحل الشرقية لقارة أفريقيا:
 - 1- جزر القمر
 - 2- الصومال
 - 3- جزيرة مدغشقر
 - 4- تنزانيا
- من الدول الأفريقية الحبيسة:
 - 1- الكاميرون
 - 2- موزمبيق
 - 3- نيجيريا
 - 4- تشاد
- الدولة العربية التي لها سواحل مطلة على البحر المتوسط والبحر الأحمر في آن معاً هي:
 - 1- اليمن
 - 2- مصر
 - 3- السودان
 - 4- السعودية



- اندونيسيا دولة اسلامية مسلمة تقع بالنسبة لقارة آسيا في جهة:

- 1- الشمال الشرقي 2- الشمال الغربي 3- الجنوب الشرقي 4- الجنوب الغربي

- دولة اسلامية تمتد أراضيها في قارتي آسيا وأوروبا:

- 1- أفغانستان 2- العراق 3- تركمانستان 4- تركيا

- تطل دولة العراق من الجنوب على مسطح مائي هو:

- 1- بحر عمان 2- الخليج العربي 3- بحر العرب 4- البحر الأحمر

- دولة اسلامية تقع شرق الأراضي الهندية:

- 1- أفغانستان 2- لاوس 3- بنجلاديش 4- إيران

- من الدول الجزرية التابعة قارة آسيا:

- 1- سريلانكا 2- فيتنام 3- الصين 4- تايلاند