

تم تحميل هذا الملف من موقع المناهج الإماراتية



الملف نموذج مراجعة وفق الهيكل الوزاري

موقع المناهج ⇨ المناهج الإماراتية ⇨ الصف السابع ⇨ اجتماعيات ⇨ الفصل الثالث

روابط مواقع التواصل الاجتماعي بحسب الصف السابع



روابط مواد الصف السابع على تلغرام

[الرياضيات](#)

[اللغة الانجليزية](#)

[اللغة العربية](#)

[التربية الاسلامية](#)

المزيد من الملفات بحسب الصف السابع والمادة اجتماعيات في الفصل الثالث

[نموذج مراجعة امتحانية وفق الهيكل الوزاري](#)

1

[نموذج الهيكل الوزاري الجديد](#)

2

[أسئلة امتحان التقويم المستمر الأول](#)

3

[ورقة عمل حول نص حوار اقتصادي متحدد](#)

4

[أسئلة امتحان نهاية الفصل الثالث](#)

5

الصف السابع

مراجعة عامة

الفصل الثالث

وفق الهيكل



تم تحديث هذا المحتوى
موقع المناهج الإماراتية
alManahj.com/ae

الاسم : الصف السابع التاريخ

السؤال الأول : اقرأ الشكل التالي، ثم أجب عما يليه من أسئلة :



6- من أبرز خصائص شجرة الغاف:

- (أ) تعيش لفترات قصيرة
(ب) مصدر غذاء ودواء للحيوانات فقط
(ج) تحتاج الى كميات كبيرة لريها
(د) تتغلب على ملوحة التربة

7- تمثل اشجار الغابات في الدولة بعد استثناء أشجار الغاف :

- (أ) 40 %
(ب) 50 %
(ج) 70 %
(د) 30 %

8- استفاد الأهالي في الامارات من شجرة الغاف عن طريق:

- (أ) اشعال النار عن طريق خشبها
(ب) تجمع الأهالي والاستفادة من ظلها
(ج) يستخدمونها في الزينة
(د) تستخدم في بناء السفن

9- تعتبر شجرة الغاف رمزا وطنيا بسبب اهميتها:

- (أ) المادية
(ب) العالمية
(ج) التراثية
(د) الإقليمية

10- تم اختيار شجرة الغاف عام 2019 شعارا :

- (أ) للخمسين
(ب) ل زايد
(ج) للخير
(د) للتسامح

السؤال الثاني : أجب عن الأسئلة الآتية مستعيناً بالفقرة المرفقة :

النباتات المعمرة هي نباتات تنمو طوال العام دون تدخل الانسان ومنها ما يعيش لسنوات عديدة وتتحمل درجات الحرارة والجفاف الشديد " حيث تحصل على الماء من أعماق التربة" كما تتحمل الملوحة العالية " مثال على ذلك نبات القرم الذي يعمل على التخلص من الاملاح من خلال عملية الترشيح بواسطة أحد أجزائه " كما لا يستهلك النبات الطبيعي المعمر الكثير من الماء ويتحمل تقلبات الجو ، وتنمو أغليبتها وتزهر خلال الربيع والصيف، ثم تموت الزهور خلال الخريف والشتاء ، إذ تعد النباتات المعمرة نوع من أنواع الأشجار التي تصنف بناء على مراحل نموها، وعند المقارنة بين النبات الحولي والنبات المعمر نجد أن النباتات الحولية تختلف عن النباتات المعمرة بعمرها الافتراضي، إذ تعيش النباتات الحولية لمدة عام واحد فقط ويتجدد نموها في كل عام، بينما تعيش النباتات المعمرة لسنوات عدّة وتحتاج إلى أكثر من عامين لتكمل دورة حياتها، ولا يموت منها إلا جزؤها العلوي الذي يعود للنمو في العام التالي ومن الفوائد التي نحصل عليها من النبات المعمر الاخشاب والغذاء والطب الشعبي وفي دولتنا يكثر انتشار النبات المعمر في شمال الدولة حيث تمثل ما نسبته 70% من مجموع النباتات البرية المنتشرة، يشكل النبات الحولي منها 60% ومن الأمثلة على النبات المعمر في دولتنا " النخيل والاشخرف والقرم _ الذي يعيش في المناطق الساحلية _ والسمر وغيرها " وكان للنبات الطبيعي دور كبير في تركيب الدواء الحالي المستخدم في الطب الحديث .

11- جزء من النبتة يستخدمه نبات القرم لترشيح الماء المالح هو :
A- الساق B- الاغصان C- الأوراق D- الزهور

12- يتميز النبات الطبيعي المعمر بالعديد من المميزات أهمها :
A- ينمو لعام واحد

B- يزهر في فصل الصيف والخريف
C- يحتاج لمزيد من المياه
D- يتحمل تقلبات الجو

13- في ضوء فهمك للنص يمكن وصف جذور النبات الطبيعي على انها :

A- طويلة B- قصيرة C- سطحية D- رفيعة

14- أي من النباتات التالية يمثل نبات معمر ساحلي ؟
A- القرم B- النخيل C- الاشخرف D- الغاف

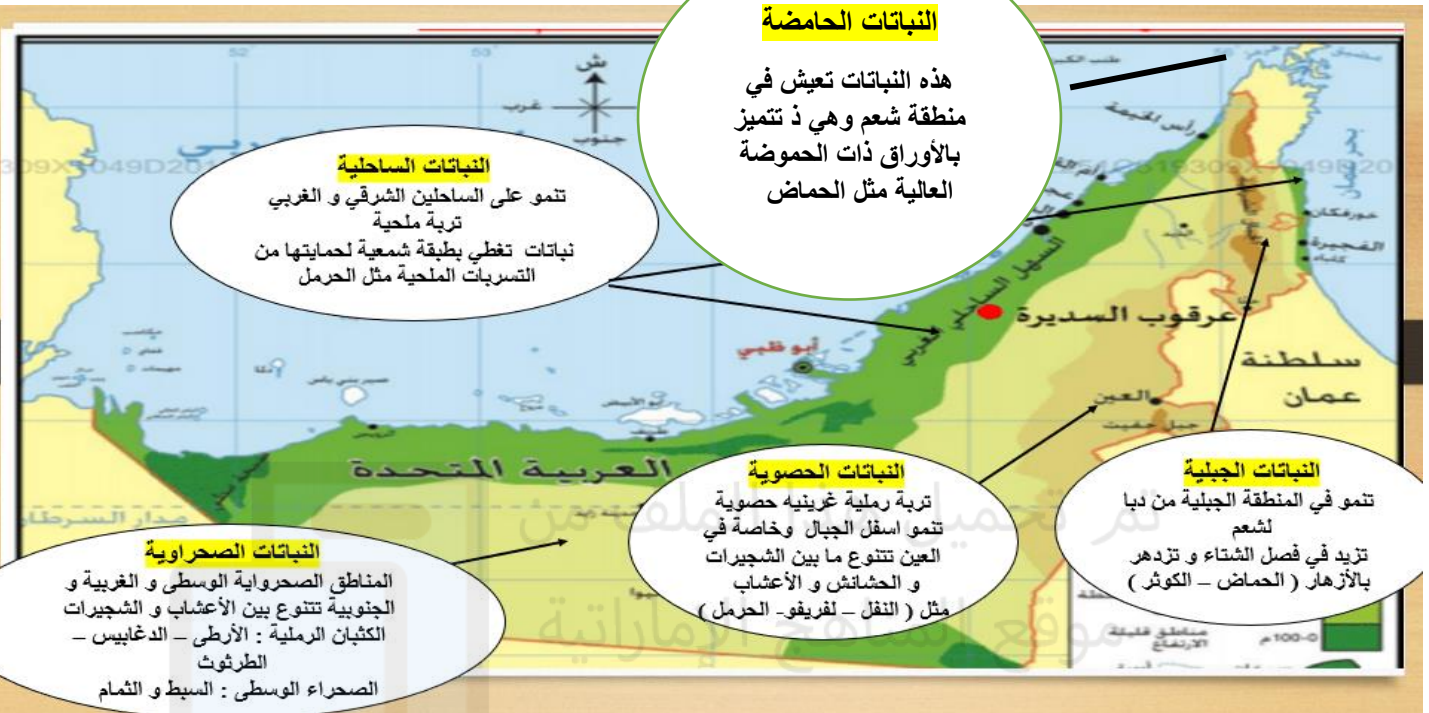
15- من التصرفات التالية أكثر ضرر على البيئة:

A- قطع الأشجار واستخدامها في التحطيب ضمن قانون معين .

B- استخدام الاخشاب في صناعة الأثاث .

C- القطع الجائر للغابات والتوسع العمراني على حساب الغابات .

D- التوسع الأفقي في انشاء المباني على حساب الأراضي الزراعية



السؤال الثالث : أستعن بالخريط والمعلومات الواردة عليها ثم أجب عن الأسئلة التالية :

1- تنقسم النباتات الحولية في دولة الامارات العربية المتحدة إلى:

- 1) أربع مجموعات على حسب المناطق
- 2) أربع مجموعات على حسب درجة الحرارة
- 3) أربع مجموعات على حسب تواجد المياه
- 4) أربع مجموعات على حسب الرطوبة

2- سبب وجود طبقة شمعية في نبات الحرمل :

- 1) لحمايتها من أشعة الشمس
- 2) لحمايتها من الرطوبة العالية
- 3) لحمايتها من التسربات الملحية
- 4) لحمايتها من الحشرات والحيوانات

3- نبات أوراقه حامضة ينمو بعد سقوط الامطار في شمع .

A-الائل B- النفط C- الارطي D- الحماض

4- ما نوع التربة الممتدة على أطراف الجبال والوديان ؟

- 1) الصحراوية
- 2) الساحلية
- 3) الحصوية
- 4) الجبلية

5- ذهب راشد مع أصدقائه إلى رحلة للشواء ولكنه اكتشف أنه لم يوجد لديه وقود للشواء قام بقطع العديد من الأشجار

الموجودة لاستخدامها في الوقود، بين رأيك في موقف راشد من قطع الأشجار؟ ولماذا؟

- 1) موقف خاطئ لأنه يجب عليه عدم قطع الأشجار تمثل ثروة وطنية.
- 2) موقف نبيل، لأنه أراد اكتمال الرحلة مع أصدقائه و شواء الأطعمة لهم
- 3) موقف صائب، لأنه فكر بحل للمشكلة التي وقع فيها وهي عدم إحضار الوقود.
- 4) موقف طريف، لأنه لا يوجد شخص على الإطلاق ينسى الوقود أثناء الشواء

الإمارات تتقدم لاستضافة COP 28

لماذا تحظى بهذا التأييد العالمي؟

دول تدعم طلب الإمارات
مجموعة آسيا والمحيط الهادئ

المتقدم
وزير الخارجية الإماراتي
الشيخ عبدالله بن زايد

المناسبة
الإمارات تتقدم لاستضافة مؤتمر المناخ (COP 28)

الموعد
2023

لماذا تلقى تأييد عالمي

- 30 عاما من الاهتمام بملف التغير المناخي
- أول الموقعين بالمنطقة على اتفاق باريس للمناخ عام 2015
- إطلاقها استراتيجية الحياد المناخي 2050
- استثمارها 17 مليار دولار بمشاريع الطاقة المتجددة في 70 دولة
- "إطلاقها مبادرة الابتكار الزراعي للمناخ بالتعاون مع 30 دولة"

أهداف الإمارات بـCOP

- التصدي لتداعيات تغير المناخ
- ابتكار حلول جديدة لبناء مستقبل أكثر استدامة

أبرز إنجازات الإمارات في 2021

- استضافة إكسبو 2020 دبي
- الحوار الإقليمي للتغير المناخي

تعمل دولة الإمارات على أن تجعل من قمة المناخ كوب 28، التي من المقرر أن تستضيفها في مدينة إكسبو دبي، خلال شهر نوفمبر/نشرين الثاني المقبل (2023) مؤتمراً للتنفيذ، وليس للتعهدات فحسب، من خلال استثمار المال والجهد في هذا الإطار. وتأتي قمة المناخ المقبلة في ظرف دولي بالغ التعقيد، مع تراجع كثير من الدول عن تعهداتها المناخية في سبيل

تحقيق أمن الطاقة لمواطنيها، في ظل استمرار الحرب في أوكرانيا، التي دفعت الدول الكبرى إلى حصار موسكو، ما أسفر عن أزمة طاقة، تلقي بظلالها على كثير من دول العالم. وفي سبيل تحقيق المستهدفات العالمية خلال قمة المناخ كوب 28، اختارت الإمارات مسؤولين معروفين بجهودهم في هذا المجال، وفي مقدمتهم المبعوث الخاص للتغير المناخي الدكتور سلطان الجابر، المعين رئيساً للقمة، وتعيين وزيرة الدولة لشؤون الشباب شما المزروعي رائدة المناخ للشباب.

السؤال الرابع : بعد قراءة النص والشكل المعلوماتي اجب عن الأسئلة التالية ؟

1- من أهداف كوب 28 العالمية في الامارات :

- A- التصدي للتداعيات تغير المناخ
B- التصدي للتداعيات السياسية في المنطقة
C- التصدي للتداعيات الاقتصادية في المنطقة
D- التصدي للحروب والكوارث العالمية

2- تعقد كوب 28 العالمية في :

A- الامارات 2023
B- الامارات 2024


C- الامارات اكسبو 2023
D- الامارات ابوظبي 2023

3- لماذا يلقى انعقاد قمة كوب 28 في الامارات تأييد عالمي :

- A- مكانة الامارات السياسية على مستوى العالم
B- إطلاقها استراتيجية تحدي المناخ 2050
C- اطلاق مبادرة الابتكار الصناعي
D- مركز الحوار الإقليمي لتغير المناخ

4- من مميزات كوب 28 العالمية في الامارات :

- A- مؤتمر للتعهدات
B- مؤتمر للتخطيط
C- مؤتمر للتنفيذ
D- مؤتمر يمهد للخطط مستقبلية
- 1- ازمة الطاقة العالمية سببها الحرب :
- A- الخليجية الاولى
B- الخلافات في السودان
C- الحرب روسيا وكرانيا
D- الازمة الكورية "الشمالية والجنوبية "



تم تحميل هذا الملف من
موقع المناهج الإماراتية

alManahj.com/ae

السؤال الخامس : أجب عن الأسئلة الواردة مستعيناً بالفقرة والشكل المرفق :

أستراليا : دولة ذات سيادة ،تضم البر الرئيسي لقارة أوقيانوسيا ،من أهم جزرها جزيرة تسمانيا، كما تحتوي العديد من الجزر الصغيرة. عاصمتها كانبرا. أستراليا بلدٌ يتمتع باستقرار وتنوع ثقافي واقتصاد من أقوى اقتصادات العالم. شكلت ثقافات السكان الأصليين وسكان جزر مضيق توريس وثقافات المهاجرين ملامح المجتمع الأسترالي. ومنذ عام 1996م، تضاعفت أعداد المهاجرين القادمين من أفريقيا والشرق الأوسط. حيث يعيش 75% من الأستراليين بأسلوب حياة متمدن في مناطق حضرية ويتركزون في العواصم والمدن الكبرى في المناطق الساحلية. تتلخص المبادئ الأساسية لسياسة التنوع الثقافي في أستراليا فيما يلي:

- اهتمام الحكومة الأسترالية واعترافها بمزايا التنوع الثقافي لكافة الأستراليين في ظل الديمقراطية.
- التزام الحكومة الأسترالية بالتأكيد على حق الجميع في الوصول إلى الفرص والخدمات .
- اهتمام الحكومة الأسترالية بالمزايا الاقتصادية والتجارية والاستثمارية للتنوع الثقافي.
- حرص الحكومة الأسترالية على تعزيز الوعي والتقبل في مساعيها الرامية لمناهضة التمييز العنصري بكل قوة.




1. جاء التزام الحكومة الأسترالية بالتأكيد على حق الجميع في الوصول إلى الفرص والخدمات ضمن القيم :
A- الديمقراطية B- الدينية C- السياسية D- الاقتصادية
2. في ضوء قراءة الخريطة ما الوصف الصحيح للموقع الفلكي لأستراليا هو ؟
A- شمال الاستواء وشرق غرينتش يمر بها مدار السرطان .
B- جنوب الاستواء وشرق غرينتش يمر بها مدار الجدي .
C- جنوب الاستواء وشرق غرينتش يمر بها مدار السرطان.
D- شمال الاستواء وغرب غرينتش يمر بها مدار الجدي
- 3- يمكن أن نطلق على المجتمع الأسترالي انه ؟
A- مجتمع متجانس B- مجتمع قروي C- مجتمع فني D- مجتمع متحضر
4. بلغ فارق التوقيت بين شرق استراليا وغربها حوالي ؟
A- 2 ساعة و 32 دقيقة B- 1 ساعة و 32 دقيقة C- ساعتان D- ثلاث ساعات
5. تقع استراليا ضمن قارة :
A- اسيا B- أوروبا C- أوقيانوسيا D- أفريقيا

. السؤال السادس : أجب عن الأسئلة الواردة مستعينا بالفقرة والشكل المرفق :



في يوم 4 مارس قام الشيخ زايد بن سلطان، بزيارة لمنطقة الذيد هدفت إلى تفقد المنشآت والمشاريع الزراعيّة التي يتمّ تنفيذها، ومتابعة المشاريع الزراعيّة القائمة. ومن الملامح الجميلة أن استقبل، رحمه الله، وهو في الذيد، الوفد الصومالي الذي جاء لتسليمه رسالة من الرئيس الصومالي سابقاً، محمد سياد بري، آنذاك. ثم تابع في اليوم التالي زيارته المباركة، حيث أطلع على مجريات تنفيذ المشاريع الحيويّة كالمساكن الشعبيّة الجديدة في منطقتي الذيد وفلج المعلا. ومن بركات حركته، رحمه الله، أنه في 6 مارس وصل إلى منطقة الحمراية بإمارة رأس الخيمة ثم انتقل منها إلى منطقة مليحة، وزار فيها المعالم الأثريّة المكتشفة حديثاً.. وعاد إلى قصره في الخوانيج. ثم في 7 مارس وصل إلى إمارة رأس الخيمة ليضع بيده المباركة حجر الأساس لمصنع إسمنت الاتحاد في منطقة خورخوير. ثم في 16 أبريل توجه إلى جزيرة أم

1. أي من التالي يمثل الخط الزمني الصحيح لجولات صاحب السمو الباني المؤسس الشيخ زايد رحمه الله :
 A- الذيد - مقابلة الوفد الصومالي - فلج المعلا - رأس الخيمة - جزيرة أم النار
 B- الذيد - فلج المعلا - زيارة الحمراية - رأس الخيمة - جزيرة أم النار
 C- الخوانيج - فلج المعلا - مقابلة الوفد الصومالي - رأس الخيمة - جزيرة أم النار
 D- رأس الخيمة - فلج المعلا - الحجر الأساس لمصنع الاسمنت - الذيد - جزيرة أم النار
2. كانت جولات الباني المؤسس صاحب السمو الشيخ زايد رحمه الله أكثر تركيز على الجانب :
 A- السياسي B- التنموي C- الاقتصادي D- العمراني
- 3- أي من المبادرات التالية التي حرص عليها الشيخ زايد رحمه الله وتخص الجوانب التعليمية :
 A- السدود B- تزويد عجمان بالكهرباء C- الالتقاء بخريجي الجامعات D- مصفاة تكرير النفط
4. القيم التي نستنتجها من النص ؟
 A- الإنسانية B- الإخلاص والعمل C- السياسية D- الدينية
5. ما هي أهم الصناعات التي تم تدشينها في جولات سموه رحمه الله :
 A- الاسمنت B- الحديد C- الزجاج D- الالمنيوم



تم تحميل هذا الملف من
موقع المناهج الإماراتية

alManahj.com/ae

السؤال السابع : استعن بالشكل المرفق في الإجابة عن الأسئلة الآتية: (10(2×5) علامات



1- ترتيب الإمارات في مؤشر مشاريع رأس المال المغامر

ا- 34 ب- 43 ج- 32 د- 68

2- أعلى مؤشرات الإنجازات المستدامة نحو الابتكار في دولة الإمارات العربية عام 2016م

ا- 63 ب- 48 ج- 53 د- 86

3- تصنيف الدولة في مؤشر الإنفاق على البحث والتطوير على مستوى العالم يدل على

ا- زيادة هجرة الشباب نحو الخارج

ب- ضعف الإنتاج وانخفاض الدخل

ج- إيجاد المزيد من فرص العمل

د- تراجع فرص التطوير والتقدم

4- حققت دولة الإمارات تقدماً كبيراً في مؤشر سرعة انتشار المعرفة :

أ- 84 درجة ب- 53 درجة ج- 137 درجة د- 34 درجة

5- التطور الكبير الـ حقته دولة الإمارات العربية المتحدة في مجال التكنولوجيا والبنية التحتية يعكس

أ- عدم القدرة على التخطيط المستقبلي

ب- تراجع في الدخل والنتائج المحلي

ج- ضعف القدرة على مواكبة التغيير

د- دوعي مستقبلي متميز للقيادة

تصدر دولة الإمارات عربياً في مؤشر الابتكار العالمي لعام 2022. يعتبر الابتكار عنصراً من المحاور الوطنية لرؤية الإمارات 2021 التي تدرج تحت عنوان متحدون في المعرفة ، والذي ينشد تحقيق اقتصاد معرفي ومتنوع ومرن تقوده كفاءات إماراتية ماهرة، وتعززه أفضل الخبرات بما يضمن الازدهار بعيد المدى لدولة الإمارات وشعبها. اقرأ في هذه الصفحة عن مبادرات الدولة لتشجيع الابتكار. دبي في 31 يناير / وام / تنطلق غداً الأربعاء 1 فبراير 2023، فعاليات شهر الإمارات للابتكار "الإمارات تبتكر 2023" في نسخته الثامنة، الذي يعد الحدث الوطني الأكبر من نوعه ويشهد تنظيم فعاليات وأنشطة في كافة إمارات الدولة، طوال شهر فبراير، للاحتفاء بالابتكار والمبتكرين وتعزيز المشاركة المجتمعية في ابتكار تجارب ومبادرات يتم توظيفها في تحسين حياة الناس، لتكون الإمارات من أكثر دول العالم ابتكاراً. ويشرف مركز محمد بن راشد للابتكار الحكومي على فعاليات "الإمارات تبتكر 2023" التي تقام بمشاركة الجهات الحكومية الاتحادية والمحلية، والقطاع الخاص والمؤسسات الأكاديمية، وأفراد المجتمع، ويحتضن في دورته الحالية مشاركات عالمية، لأول مرة منذ إنطلاقه، من عدد من الدول، ما يعد إضافة نوعية لفعاليات هذا الحدث الوطني، وتأكيداً لما يتمتع به من سمعة عالمية، بين أفضل مهرجانات الابتكار في العالم. وقالت سعادة هدى الهاشمي مساعد وزير شؤون مجلس الوزراء لشؤون الاستراتيجية إن "الإمارات تبتكر 2023"، في دورته الحالية، يحتفي بالابتكارات ذات الأثر في خدمة المجتمع ويتميز بتركيز فعالياته على مواكبة توجهات الدولة وإعلان العام 2023 عام الاستدامة، من خلال تبني موضوع الابتكار في تحقيق الاستدامة محوراً رئيسياً للفعاليات. وأضافت أن مركز محمد بن راشد للابتكار الحكومي سينظم نسخة جديدة لجائزة الإمارات تبتكر، يتم الاحتفاء بالفائزين فيها بنهاية فبراير، تشمل 7 فئات هي: أفضل ابتكار لأتمتة الإجراءات الحكومية، وأفضل ابتكار لتحقيق الريادة الرقمية، وأفضل ابتكار في استخدام الموارد، وأفضل ابتكار في تسهيل الإجراءات، وأفضل ابتكار في الخدمات الاجتماعية، وأفضل ابتكار جذري، كما تشهد الجائزة إضافة فئة جديدة تتمثل في أفضل ابتكار في تحقيق الاستدامة، ما يترجم جهود المركز للاحتفاء بأكثر المبادرات والمشاريع المبتكرة تأثيراً في صناعة مستقبل دولة الإمارات، والتي ستسهم في دعم توجهات الدولة لتحقيق مستهدفات رؤية "نحن الإمارات 2031" التي تعكس رؤى القيادة المستقبلية.

1- القيمة التي يتحدث عنها النص

ا- الابتكار ب- التواضع ج- الابداع د- الاختراع

2- الهدف من الابتكار تحقيق

ا- المعرفة ب- السيادة ج- الامن د- الاستدامة

3- كان شعار الابتكار في دولة الإمارات العربية المتحدة

ا- متحدون في المعرفة ب- متحدون في المصير

ج- متحدون في الآمال د- متحدون في الاقتصاد

4- رؤية نحن الامارات 2031 تعكس

ا- مواكبة العصر ب- زيادة الدخل ج- رؤى القيادة د- صناعة المستقبل

تنوع ونمو

ترتبط الإمارات بعلاقات وثيقة مع أستراليا، مما ينعكس إيجاباً عبر الزخم المتواصل الذي تشهده حركة الاستثمار والتجارة بين البلدين، ويأتي ذلك في ظل التقارب وما تتمتع به الروابط الاقتصادية البينية من تنوع ومو، إذ تقوم على تجارة السلع والخدمات وحركة الأفراد، إضافة إلى الاستثمار المتبادل والمشارك.



15

تصنيف الإمارات بين شركاء أستراليا التجاريين عالمياً كما تحتل المرتبة الأولى بين دول الشرق الأوسط



صادرات الإمارات
إلى أستراليا (مليار درهم)



74.6

مليار درهم الاستثمارات
الإماراتية في أستراليا

22.5

مليار درهم قيمة التبادل التجاري
بين الإمارات وأستراليا في 2016



%60

حصة طيران الإمارات والاتحاد للطيران من حركة المسافرين القادمين إلى مختلف المدن الأسترالية، وخاصة من أوروبا وإفريقيا وأمريكا اللاتينية وغيرها

صدارة

تأتي موانئ دبي العالمية في صدارة الاستثمارات الإماراتية في أستراليا، حيث توجد في كل من برسبن وملبورن وسيدني وبيرث

360

الشركات الأسترالية
العاملة في الدولة

وجهات

تشكل كل من «غولد كوست» وسيدني وملبورن أبرز وجهات السياح القادمين من الإمارات إلى أستراليا



واردات الدولة
من أستراليا (مليار درهم)



التعليم

تتميز أستراليا بقطاع تعليم متقدم جداً في مختلف المراحل والاختصاصات، حيث يأتي في المرتبة الثانية كأكبر مساهم في الناتج المحلي الإجمالي بعد السياحة.

البيانات

اعداد: بشار باغ - جرافيك: حسام الحوراني

1-تبلغ نسبة شركات الكيران الأخرى في حركة المسافرين الى استراليا حوالي

ا- 60% ب- 50% ج- 40% د- 100%

2-تصنف الامارات على مستوى الشرق الأوسط من حيث شركاء استراليا التجاريين في المرتبة

ا- 15 ب- 1 ج- 3 د- 5

3-صادرات استراليا للدولة من السلع تبلغ

ا- 1.78 ب- 8.3 ج- 3.8 د- 7.8

4-تبلغ قيمة الفرق بين صادرات الامارات الى استراليا واصدارات استراليا الى الامارات في قطاع الخدمات

ا- 824 ب- 6.6 ج- 8.3 د- 1.78



تم تحميل هذا الملف من
موقع المناهج الإماراتية

alManahj.com/ae