


شكراً لتحميلك هذا الملف من موقع المناهج الإماراتية



أوراق عمل المساحة الكلية للمناشير والأسطوانات وحجومها

[موقع المناهج](#) ← [المناهج الإماراتية](#) ← [الصف الثامن](#) ← [رياضيات](#) ← [الفصل الثاني](#) ← [الملف](#)

التواصل الاجتماعي بحسب الصف الثامن



روابط مواد الصف الثامن على تلغرام

[الرياضيات](#)

[اللغة الانجليزية](#)

[اللغة العربية](#)

[التربية الاسلامية](#)

المزيد من الملفات بحسب الصف الثامن والمادة رياضيات في الفصل الثاني

[الخطة الفصلية المسار العام - بريدج](#)

1

[دليل تصحيح أسئلة الامتحان الورقي - بريدج](#)

2

[دليل تصحيح أسئلة الامتحان الورقي - ريفيل](#)

3

[أسئلة الامتحان النهائي - بريدج](#)

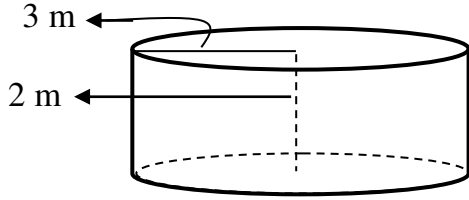
4

[حل مراجعة نهائية وفق الهيكل الوزاري - ريفيل](#)

5

المساحة والكمية والمساحة والكمية والمساحة والكمية

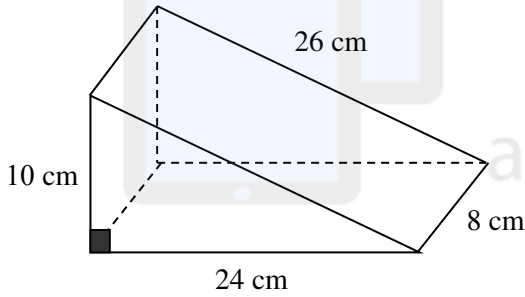
* أوجد :



- (أ) مساحة سطح الاسطوانة إلى أقرب جزء من عشرة .
(ب) حجم الاسطوانة إلى أقرب سنتيمتر مكعب .

تم تحميل هذا الملف من
موقع المناهج الإماراتية

* أوجد :



- (أ) مساحة سطح المنشور .
(ب) حجم المنشور .

الشبكة : هي نمط ثنائي الأبعاد يمكن طيه ليشكل شكلا ثلاثي الأبعاد
* ارسم شبكة للشكل الثلاثي الأبعاد التالي :

