

تم تحميل هذا الملف من موقع المناهج الإماراتية



* للحصول على أوراق عمل لجميع الصفوف وجميع المواد اضغط هنا

<https://almanahj.com/ae>

* للحصول على أوراق عمل لجميع مواد الصف الثامن اضغط هنا

<https://almanahj.com/ae/8>

* للحصول على جميع أوراق الصف الثامن في مادة اجتماعيات وجميع الفصول, اضغط هنا

<https://almanahj.com/ae/8social>

* للحصول على أوراق عمل لجميع مواد الصف الثامن في مادة اجتماعيات الخاصة بـ الفصل الأول اضغط هنا

<https://almanahj.com/ae/8social1>

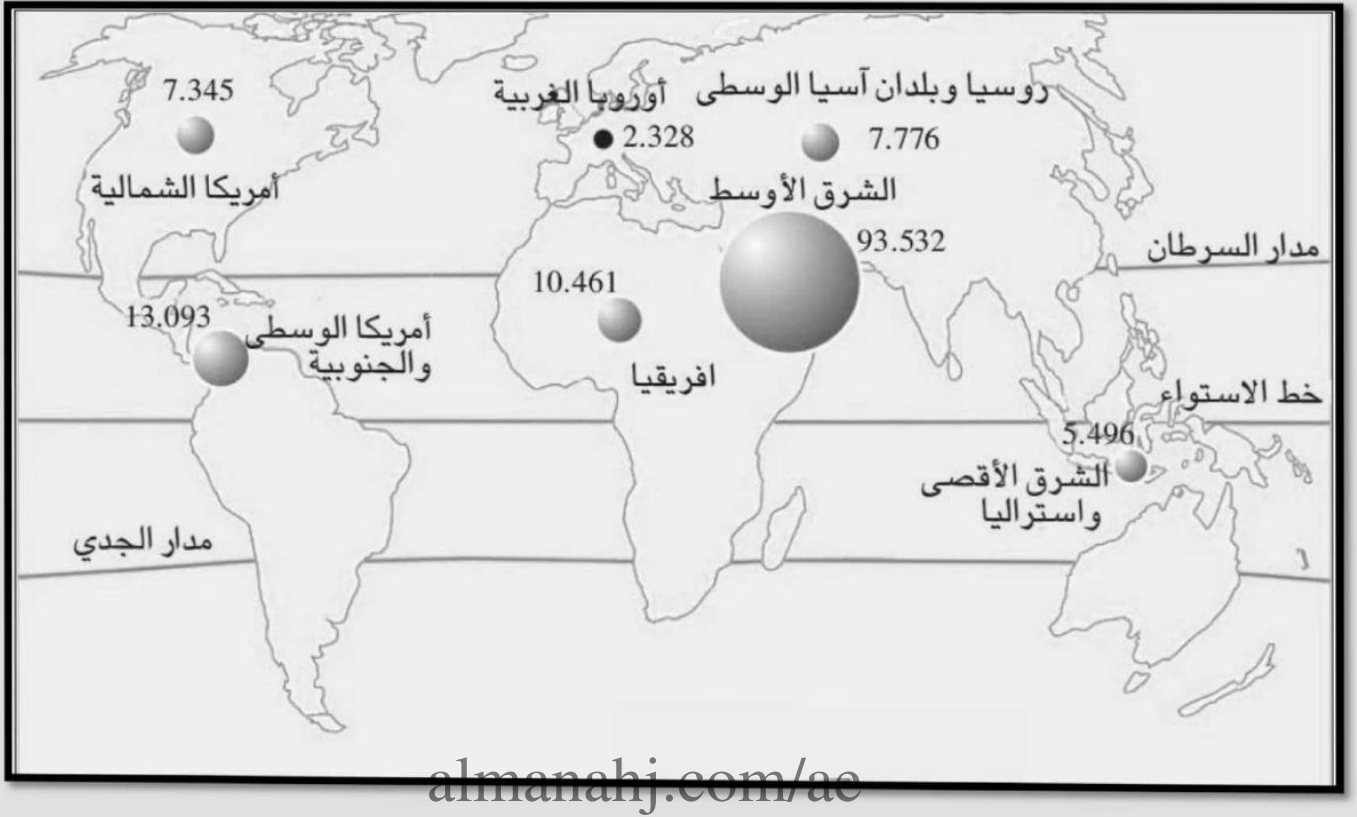
* لتحميل كتب جميع المواد في جميع الفصول للـ الصف الثامن اضغط هنا

<https://almanahj.com/ae/grade8>

للتحدث إلى بوت المناهج على تلغرام: اضغط هنا

https://t.me/almanahj_bot

تدريب (1) : لاحظ خريطة احتياطات النفط بالعالم ثم أجب عن الأسئلة التي تليها :



1- أكثر مناطق العالم امتلاكاً لاحتياطي النفط هي :

أ- أمريكا الشمالية ب- أفريقيا ج- الشرق الأقصى وأستراليا د- الشرق الأوسط

2- تتركز أغلب احتياطات النفط في العالم :

أ- شمال خط الاستواء ب- جنوب مدار الجدي ج- جنوب خط الاستواء د- غرب خط جرينتش

3- يبلغ إجمالي ما تمتلكه أمريكا الشمالية وأمريكا الوسطى والجنوبية :

أ- 13.093 ب- 23.554 ج- 20.438 د- 7.345

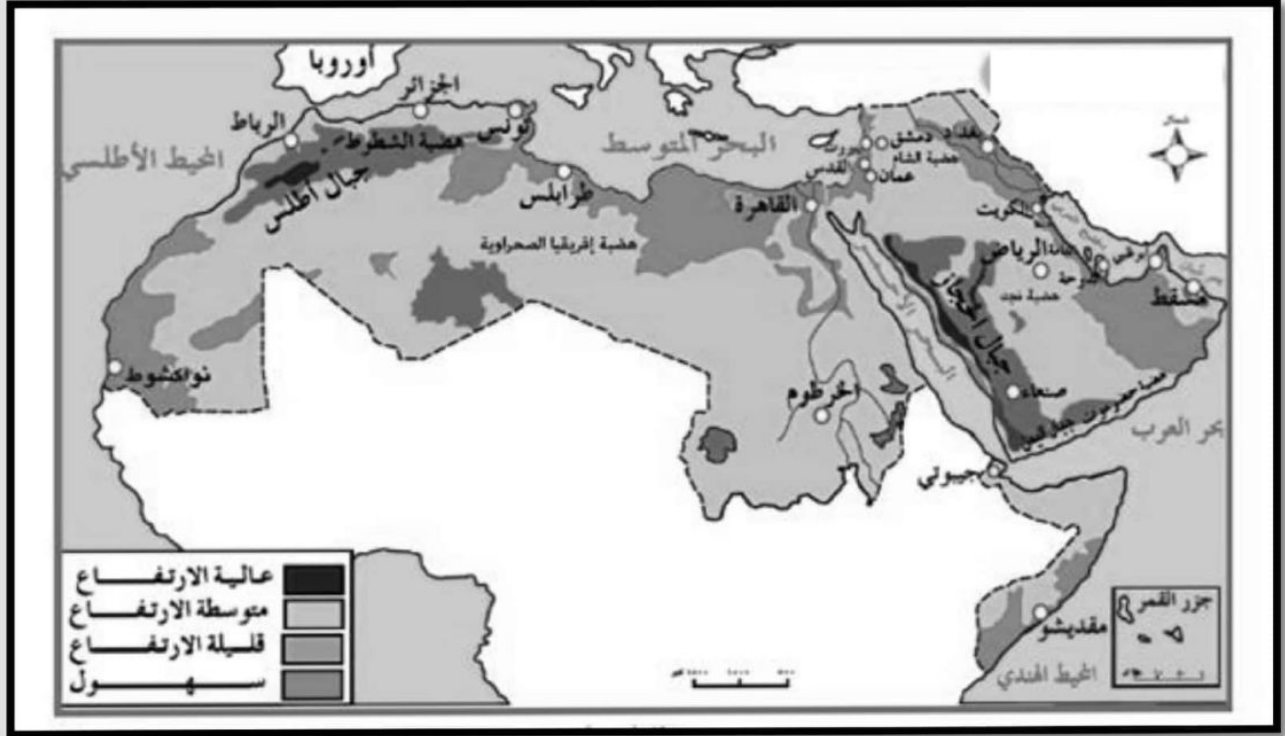
4- دائرة العرض الرئيسية التي تمر بشمال قارة أفريقيا :

أ- مدار السرطان ب- مدار الجدي ج- خط الاستواء د- الدائرة القطبية لجنوبية

5- أقل أماكن العالم امتلاكاً لاحتياطات النفط على الخريطة :

أ- الشرق الأقصى وأستراليا ب- أمريكا الشمالية ج- أوروبا الغربية د- روسيا وبلدان آسيا الوسطى

تدريب (13) : لاحظ خريطة الوطن العربي التالية ثم أجب عن الأسئلة :



- 1- ضع عنواناً مناسباً للخريطة almanahj.com/ac
- 2- استنتج حقيقة جغرافية من خلال قراءتك للألوان ودلالاتها على الخريطة
- 3- البحر الذي يحد الوطن العربي من جهة الشمال
- 4- البحر الذي يفصل بين جناحي الوطن العربي الأفريقي والآسيوي
- 5- المحيط الذي يحد الوطن العربي من جهة الغرب
- 6- المحيط الذي يحد الوطن العربي من جهة الجنوب الشرقي
- 7- المضيق الذي يفصل يصل بين الخليج العربي وخليج عمان
- 8- اثنين من الهضاب الموجودة بالوطن العربي و
- 9- الرياح المحلية التي تهب على دولة الإمارات العربية المتحدة
- 10- الدولة التي تقارب حدود المغرب شمالاً بالقارة الأوروبية
- 11- الدولة الإسلامية غير العربية التي تحد الوطن العربي من جهة الشمال
- 12- دولة إسلامية غير عربية تجاور الوطن العربي من جهة الشرق

تدريب (15) : لاحظ الشكل التالي ثم أجب عن الأسئلة التالية :

الإمارات الأكثر أماناً عالمياً

تطمح الأجندة الوطنية لرؤية الإمارات 2021 إلى أن تكون دولة الإمارات العربية المتحدة المكان الأكثر أماناً على المستوى العالمي.



البيان

غرافيك: محمد أبو عبيدة

1- تسببت السرعة الزائدة في وفيات الحوادث في دولة الإمارات العربية المتحدة بنسبة

أ- 11.2% ب- 11.4% ج- 12.3% د- 21%

2- ارتف تصنيف دولة الإمارات عالمياً في كفاءة النظام القضائي خلال الفترة بين 2015 – 2017 م بواقع

أ- مركز واحد ب- مركزين ج- ثلاث مراكز د- أربع مراكز

3- 10.6% من وفيات حوادث الطرق كانت بسبب

أ- عدم تقدير مستعملي الطريق ب- عدم ترك مسافة كافية ج- الإهمال وعدم الانتباه د- الانحراف المفاجئ

4- تحتل دولة الإمارات العربية في مؤشر الاعتماد على الخدمات الشرطية عالمياً المركز

أ- الثالث ب- الرابع ج- الخامس د- السابع

5- بلغ عدد الوفيات الناتجة عن حوادث الطرق 6.3 لكل 100 ألف من السكان خلال

أ- 2013 ب- 2014 ج- 2015 د- 2017

تدريب (16) : لاحظ الأنفوجرافيك التالي ثم أجب عن الأسئلة التي تليه :



- 1- ارتفع نمو سوق تكنولوجيا المعلومات عالمياً عام 2016 ليصل إلى :
 أ- 1.3% ب- 2.3% ج- 3.6% د- 4.7%
- 2- بلغ إجمالي إنفاق حكومات الشرق الأوسط وشمال أفريقيا على منتجات وخدمات تكنولوجيا المعلومات :
 أ- 4.6 مليار دولار ب- 11.6 مليار دولار ج- 14 مليار دولار د- 14.7 مليار دولار
- 3- من المتوقع تراجع الإنفاق العالمي على تكنولوجيا المعلومات بسبب :
 أ- زيادة عدد الشركات المقدمة للخدمة ب- زيادة التطبيقات المستخدمة
 ج- خفض الضرائب على تكنولوجيا المعلومات د- خفض قيمة الدولار
- 4- بلغ الإنفاق العالمي على تكنولوجيا المعلومات 3.5 ترليون دولار عام :
 أ- 2014 ب- 2015 ج- 2016 د- 2017
- 5- زاد الإنفاق بمعدل 12 % على :
 أ- التطبيقات ب- أنظمة مراكز التدريب ج- البرمجيات د- شبكات المحمول

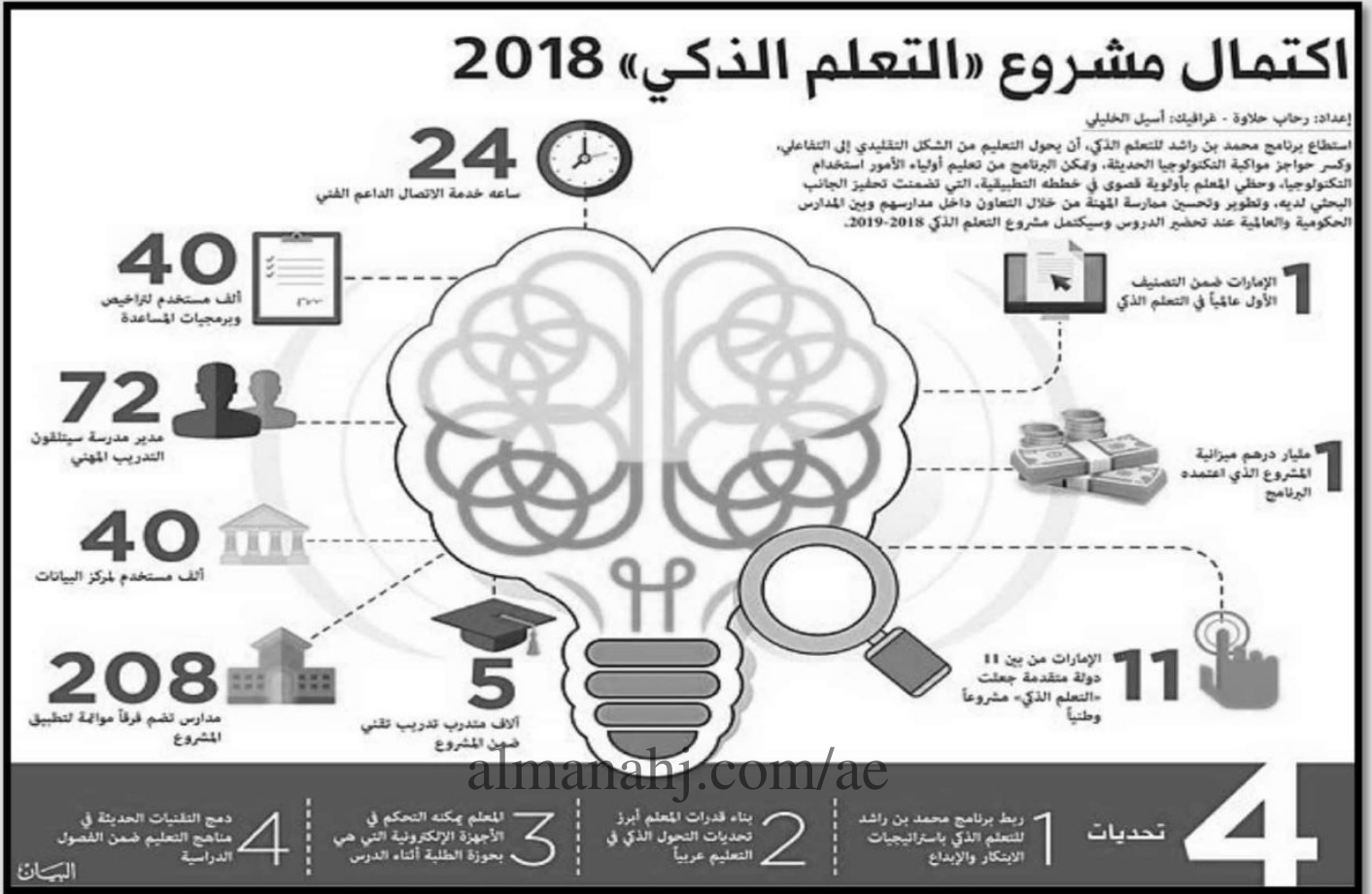
تدريب (17) : لاحظ الأنفوجرافيك التالي ثم أجب عن الأسئلة التي تليه :



almanahj.com/ae

- النسبة الأكبر من متابعي نورة الكعبي ينتمون للفئة العمرية :
أ- 17-12 عام ب- 24-18 عام ج- 34-25 عام د- 35-49 عام
- أكثر المدن العربية متابعة لنورة الكعبي :
أ- الإمارات العربية المتحدة ب- الرياض ج- الكويت د- دبي
- بلغ نسبة متابعي نورة الكعبي المتخصصون في مجال التسويق :
أ- 10% ب- 14% ج- 16% د- 21%
- بلغ مجمل المشاهدات لتغريدات نورة الكعبي على موقع تويتر :
أ- 24 ألف ب- 51 ألف ج- 62 ألف د- 90 ألف
- 21% من متابعي نورة الكعبي يعملون في تخصص :
أ- تقنية المعلومات ب- التسويق ج- الكتابة والمدونات د- الهندسة

تدريب (19) : لاحظ الأنفوجرافيك التالي ثم أجب عن الأسئلة التي تليه :



- 1- بلغت ميزانية برنامج محمد بن راشد للتعليم الذكي بالدرهم الإماراتي :
- أ- 72 مليون ب- 208 مليون ج- 1 مليار د- 5 مليار
- 2- تصنيف الإمارات ضمن التصنيف الأول عالمياً في التعلم الذكي :
- أ- الأول ب- الثاني ج- الثالث د- الخامس
- 3- وصل عدد المتدربين تدريب تقني ضمن المشروع :
- أ- 4000 ب- 5000 ج- 24000 د- 40000
- 4- من التحديات التي تواجه برنامج محمد بن راشد للتعليم الذكي :
- أ- تحويل التعليم من الشكل التقليدي إلى التفاعلي ب- ربط البرنامج باستراتيجيات الابتكار والإبداع
- ج- تعليم أولياء الأمور استخدام التكنولوجيا د- كسر حواجز مواكبة التكنولوجيا الحديثة
- 5- يبلغ عدد المدارس التي تضم فرقاً موائمة لتطبيق المشروع :
- أ- 11 ب- 72 ج- 140 د- 208

تدريب (23) : اقرأ النص التالي ثم أجب عن الأسئلة التي تليه :

أكدت نورة بنت محمد الكعبي، وزيرة الثقافة وتنمية المعرفة، أن يوم العلم مناسبة وطنية، تجسد التلاحم الوطني بين القيادة الرشيدة وشعبها الوفي المحب لوطنه، وتعبّر عن قيم الوحدة والولاء والوفاء والتعاضد بين أبناء الدولة.

وقالت معاليها : تكتسب هذه المناسبة أهمية مضاعفة كونها تتزامن مع تولي صاحب السمو الشيخ خليفة بن زايد آل نهيان رئيس الدولة، حفظه الله، مقاليد الحكم في الدولة، فهي فرصة لتجديد الولاء للوطن والقيادة بمواصلة مسيرة الرخاء والازدهار التي تشهدها الإمارات في مختلف مناحي الحياة، وأن نبقي أوفياء لقيم الاتحاد التي أرسى دعائمها الوالد المؤسس المغفور له الشيخ زايد بن سلطان آل نهيان، طيب الله ثراه، وإخوانه الآباء المؤسسون الذين بذلوا الغالي والنفيس في سبيل بناء دولة عصرية تحت راية علم الاتحاد.

وأضافت معالي الكعبي: علمنا هو رمز طموحاتنا وقوتنا ووحدتنا وأملنا لصنع مستقبل أفضل لأجيال الغد، نستظل جميعاً بظله، وليس هناك أسمى من رفع العلم في كل أنحاء دولتنا، لأنه فخر أمتنا، نتشارك جميعاً في محبته، ونواصل العمل لتحقيق المزيد من الإنجازات لرفعة ونهضة وطننا، لتبقى راية الوطن خفاقة عالية تعانق عنان السماء .

almanahj.com/ae

1- الفكرة الرئيسية في النص :

ب- يوم الشهيد ب- عيد الاتحاد ج- يوم العلم د- أهمية الوحدة والترابط

2- المناسبة فرصة :

أ- للتعبير عن حب العمل ب- لتجديد الولاء للوطن والقيادة
ج- للوقوف على آخر المستجدات د- لتخليد التراث والتقاط الصور

3- (علمنا هو رمز طموحاتنا وقوتنا ووحدتنا وأملنا لصنع مستقبل أفضل لأجيال الغد)

هذه العبارة تدل على :

أ- الفخر والطموح ب- العزيمة والتطور ج- الرفعة والنهضة د- جميع ما سبق

4- قيم الاتحاد أرسى دعائمها :

أ- الشيخ زايد بن سلطان آل نهيان – طيب الله ثراه ب- الشيخ راشد بن سعيد آل مكتوم – طيب الله ثراه
ج- الشيخ الدكتور سلطان بن محمد القاسمي – حفظه الله د- الشيخ خليفة بن زايد آل نهيان – حفظه الله

5- تحتفل دولة الإمارات العربية المتحدة بيوم العلم في :

أ- 1 نوفمبر ب- 2 نوفمبر ج- 3 نوفمبر د- 4 نوفمبر

تدريب (24) : اقرأ النص التالي ثم أجب عن الأسئلة التي تليه :

إن دولة الإمارات العربية المتحدة اتخذت العديد من التدابير التي أصلت قيمة التسامح وحولتها إلى منهج ثابت وراسخ في المجتمع بمختلف مؤسساته ومكوناته، ومن تلك التدابير سنت قوانين عديدة مثل قانون التعاون القضائي الدولي في المسائل الجنائية عام 2006، وتشكيل اللجنة الوطنية لمكافحة الإرهاب عام 2009، وقانون الكراهية والتمييز عام 2015، وقانون مكافحة الجرائم الإرهابية عام 2014، ولذلك أصبحت دولة الإمارات حاضنة للشعوب ويعيش على أرضها أكثر من 200 جنسية في سلام ووثام واحترام، وفي كنف المودة والتعاون والمحبة والتضامن .

(1) ضع عنواناً مناسباً للنص :

..... ■

(2) استخرج من النص اثنين من القيم السلوكية الإيجابية :

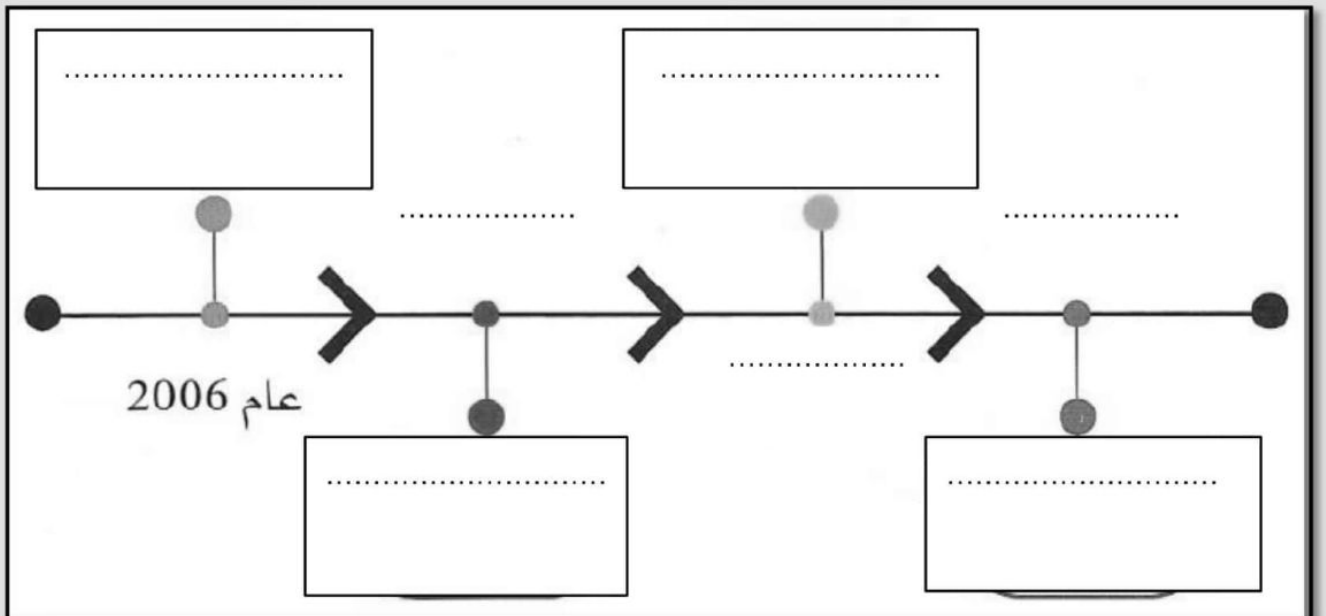
..... ■

(3) استنتج العوائد الإيجابية التي حصلت عليها دولة الإمارات العربية المتحدة من المساواة بين أفراد المجتمع :

..... ■

..... ■

(4) استكمل بناء الخط الزمني التالي مستعيناً بالنص السابق



تدريب (25) : اقرأ النص التالي ثم أجب عن الأسئلة التي تليه :

تتطلع دولة الإمارات قيادة وحكومة وشعباً إلى مستقبل يتسع فيه أفق الوطن على العلم والمعرفة والإنجاز المستدام.. مستقبل يحمل لأبنائها الكثير من المشروعات الاستراتيجية التي تمتد لعقود وفق خطط وبرامج واضحة المعالم محسوبة بالأرقام ومحددة الوسائل والأدوات، حيث لا شيء يعتمد على الصدفة والمصادفة إنما هو عزيمة وتصميم.

ويشهد العالم أن الإمارات بتجربة النهضة كانت الاستثناء على قمم النجاح والإنجاز في وقت قياسي .. وكانت نموذجاً تنموياً ملهماً للكثير من الدول والشعوب بفضل الرؤية الثاقبة في استشراف المستقبل التي امتلكها الآباء المؤسسون الذين برعوا في تأسيس واقع إماراتي أفضل ينعم في ظلاله اليوم أبناء الوطن وبناته كافة بأرقى معايير العيش الكريم والرخاء وينطلقون بإنجازاتهم النوعية في مختلف آفاق العلم والعمل الرحبة حتى بات أهل الإمارات أحد أسعد شعوب المعمورة على الإطلاق.

وتمضي القيادة الرشيدة للدولة برئاسة صاحب السمو الشيخ خليفة بن زايد آل نهيان رئيس الدولة، حفظه الله، في استكمال هذا النهج القائم على الإدراك التام لأهمية استشراف المستقبل والحفاظ على مكتسبات الدولة والارتقاء بها وضمان الغد الواعد المشرق للأجيال المتعاقبة.

وفي ظل توجيهات القيادة الرشيدة لا يكفي الإماراتيون في خططهم المستقبلية التقليدية بل إنها في سباق متواصل مع الزمن والتغيرات المتسارعة بغية مواكبتها أولاً بأول ووضع التصورات العلمية البناءة القادرة على مواجهتها وتطويعها بما يخدم أهداف الدولة وتطلعاتها..

1- ضع عنواناً مناسباً للنص .

2- الأسباب التي جعلت دولة الإمارات العربية المتحدة في سباق متواصل مع الزمن :

-
-

3- بات أهل الإمارات أحد أسعد شعوب العالم بفضل :

-
-

4- استخرج من النص اثنين من القيم السلوكية الإيجابية .

-
-