

تم تحميل هذا الملف من موقع المناهج الإماراتية



*للحصول على أوراق عمل لجميع الصفوف وجميع المواد اضغط هنا

<https://almanahj.com/ae>

* للحصول على أوراق عمل لجميع مواد الصف الثامن اضغط هنا

<https://almanahj.com/ae/8>

* للحصول على جميع أوراق الصف الثامن في مادة رياضيات وجميع الفصول, اضغط هنا

<https://almanahj.com/ae/8math>

* للحصول على أوراق عمل لجميع مواد الصف الثامن في مادة رياضيات الخاصة بـ الفصل الثاني اضغط هنا

<https://almanahj.com/ae/8math2>

* لتحميل كتب جميع المواد في جميع الفصول للـ الصف الثامن اضغط هنا

<https://almanahj.com/ae/grade8>

للتحدث إلى بوت المناهج على تلغرام: اضغط هنا

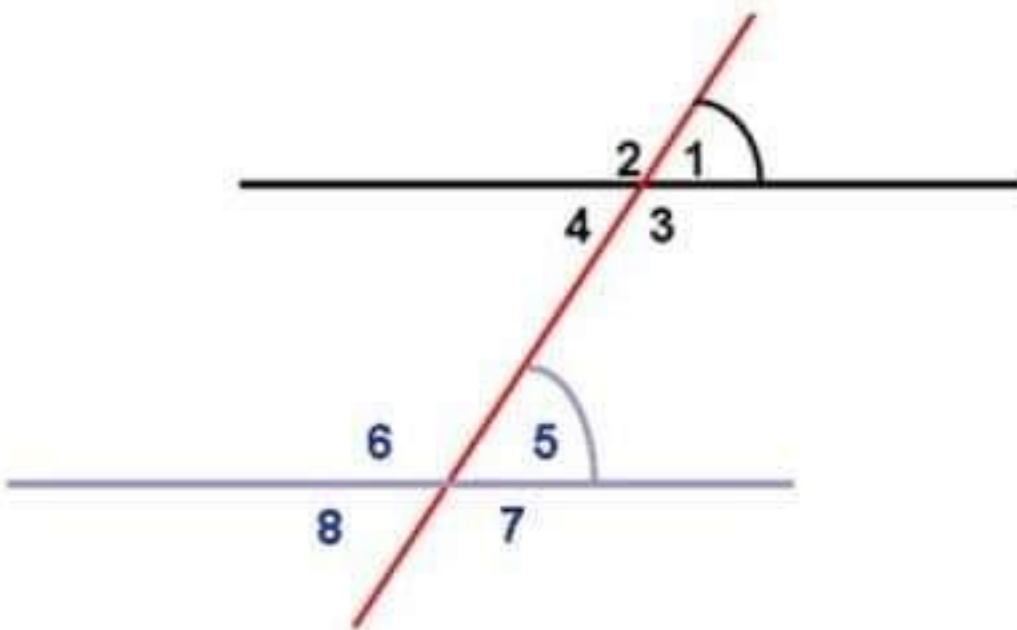
https://t.me/almanahj_bot



اختبار التقويم الاول الصف الثامن
الفصل الثاني رياضيات 2020-
2021

الدرجة : 2/2

سؤال 3:



الزوايا 1 والزوايا 5 هما

تبادلي داخلي

تناظري

تقابلي بالراس

الدرجة : 2/2

سؤال 4:

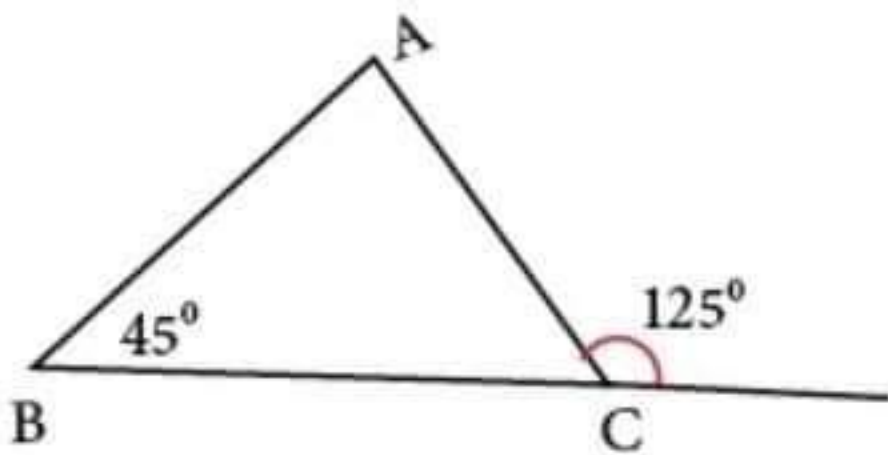




اختبار التقويم الاول الصف الثامن
الفصل الثاني رياضيات 2020-
2021

الدرجة : 2/2

سؤال 4:



قياس الزاوية A =

180

55

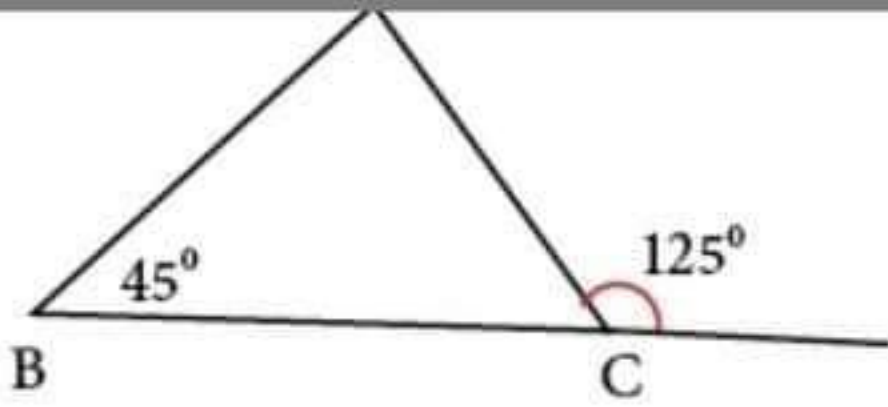
80

الدرجة : 2/2

سؤال 5:

المسافة بين النقطتين

= (6.8) (0.0)



قياس الزاوية A =

180

55

✓ 80

الدرجة : 2/2

سؤال 5:

المسافة بين النقطتين

= (6,8) (0,0)

14

✓ 10

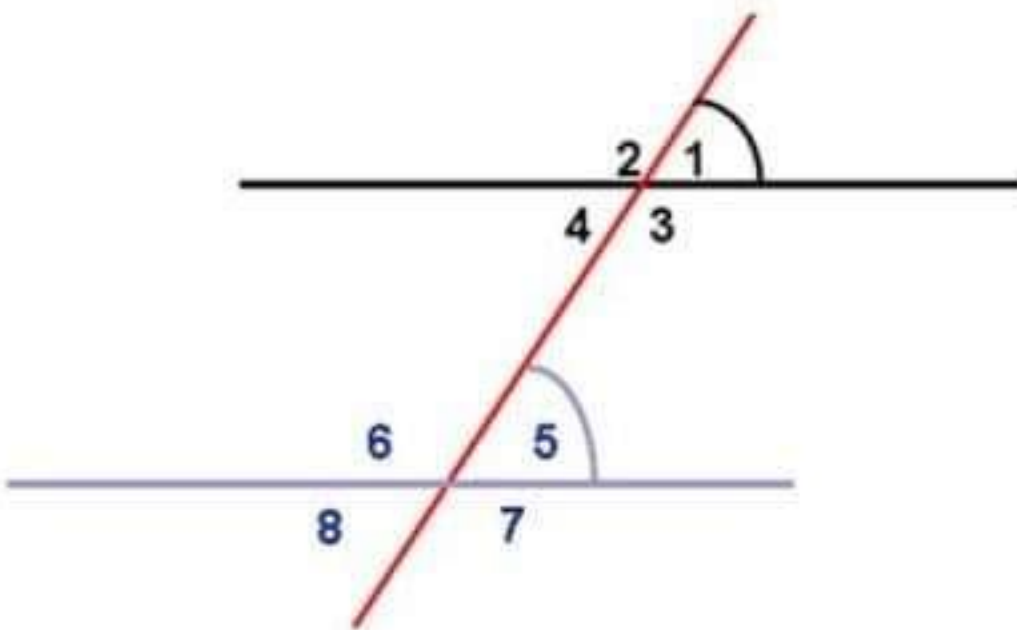
2



اختبار التقويم الاول الصف الثامن
الفصل الثاني رياضيات 2020-
2021

الدرجة : 2/2

سؤال 3:



الزوايا 1 والزوايا 5 هما

تبادلي داخلي

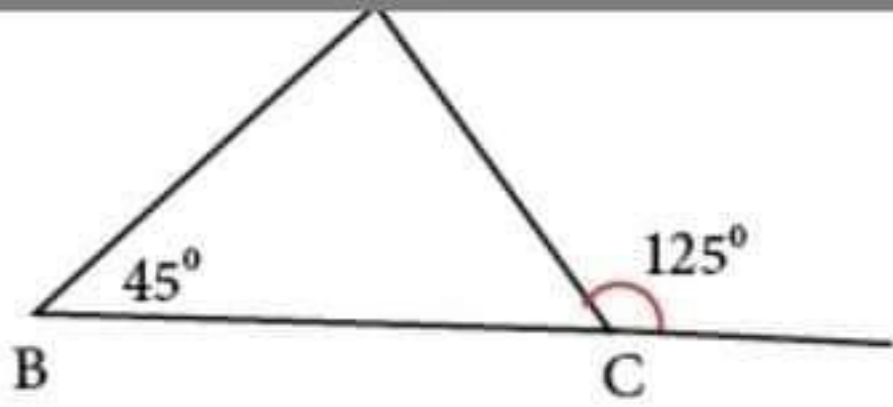
تناظري

تقابلي بالراس

الدرجة : 2/2

سؤال 4:





قياس الزاوية $A =$

180

55

✓ 80

الدرجة : 2/2

سؤال 5:

المسافة بين النقطتين

$(0,0)$ $(6,8)$

14

✓ 10

2