

شكراً لتحميلك هذا الملف من موقع المناهج الإماراتية



## حل أسئلة الامتحان التعويضي

[موقع المناهج](#) ← [المناهج الإماراتية](#) ← [الصف الثامن](#) ← [علوم](#) ← [الفصل الثاني](#) ← [الملف](#)

## التواصل الاجتماعي بحسب الصف الثامن



## روابط مواد الصف الثامن على تلغرام

[الرياضيات](#)

[اللغة الانجليزية](#)

[اللغة العربية](#)

[التربية الاسلامية](#)

## المزيد من الملفات بحسب الصف الثامن والمادة علوم في الفصل الثاني

<a href="#">أسئلة الامتحان النهائي - بريدج</a>	1
<a href="#">حل أسئلة الامتحان النهائي - انسباير</a>	2
<a href="#">حل مراجعة الوحدة الثامنة وفق الهيكل الوزاري</a>	3
<a href="#">حل مراجعة الوحدة السابعة وفق الهيكل الوزاري</a>	4
<a href="#">حل مراجعة الوحدة السادسة وفق الهيكل الوزاري</a>	5

Grade8



تم نوع الاختبار: هذا الملف من  
موقع المناهج الإماراتية

الإمتحان:

الصف الثامن - العام - مادة... Final


[alManahj.com/ae](http://alManahj.com/ae)

je?

ما الذي يُكون صورة مُصغرة دائماً؟

المخرجات التعليمية المرتبطة

SCI.4.3.02.011 ○



تم تحميل هذا الملف من  
موقع المناهج الإماراتية

مرآة مقعرة

.a

alManahj.com/ae

مرآة مستوية

.b

عدسة محدبة

.c

عدسة مقعرة

.d

ما الترتيب الصحيح لكل من الجين و DNA والكروموسوم والخلية

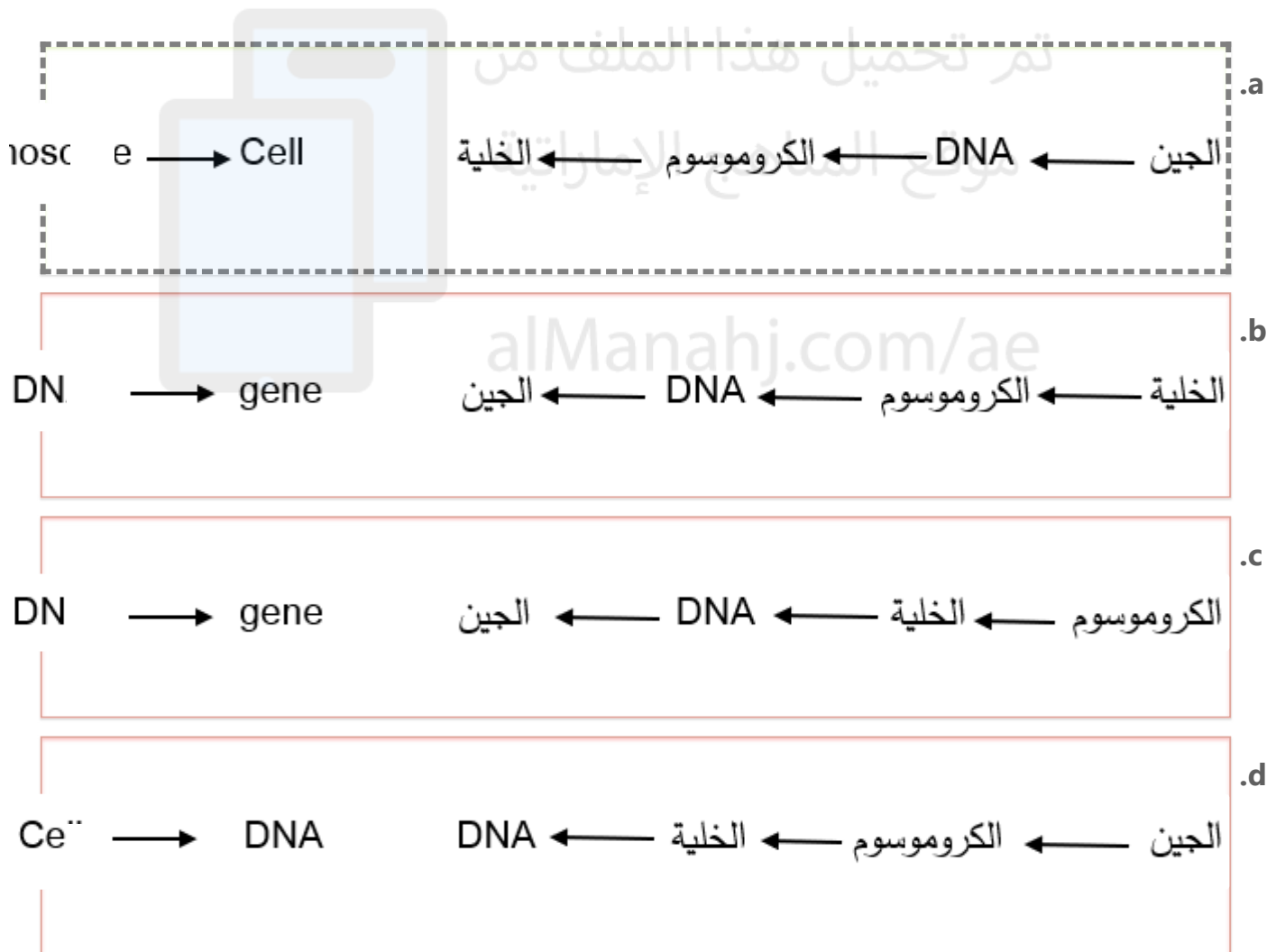
f gene, DNA,

o largest?

من الأصغر إلى الأكبر؟

المخرجات التعليمية المرتبطة

SCI.3.1.03.022 o



s the visual

أي مما يأتي يصف بشكل صحيح الجهاز البصري في الشكل أدناه؟



المخرجات التعليمية المرتبطة

SCI.4.3.02.010 ○

alManahj.com/ae

convex

.a

تلسكوب كاسر ويستخدم عدستين محدبتين

convex

.b


تلسكوب عاكس ويستخدم عدستين محدبتين

mirrors

.c

تلسكوب كاسر ويستخدم مرآتين وعدسة عينية

.d



تم تحميل هذا الملف من  
موقع المناهج الإماراتية

[alManahj.com/ae](http://alManahj.com/ae)

أي مما يلي غير صحيح فيما يتعلق بالشكل أدناه؟

is NOT true related to the figure



المخرجات التعليمية المرتبطة

SCI.4.3.02.007 ◦

alManahj.com/ae

.a

الصورة المتكونة مُعتدلة

.b

الصورة المتكونة مقلوبة جانبياً

.c

المرآة في الصورة مستوية

.d

الصورة المتكونة مُكبّرة

Where are the villi found?


في أي أعضاء الجهاز الهضمي تُوجد الخملات؟

المخرجات التعليمية المرتبطة

SCI.3.1.01.038 ○

SCI.3.1.01.040 ○

تحميل هذا الملف من  
موقع المناهج الإماراتية



.a

المرئ

alManahj.com/ae

.b

المعدة

.c

الأمعاء الدقيقة

.d

الأمعاء الغليظة



أين يحدث الهضم الكيميائي للبروتينات والكربوهيدرات والأحماض النووية والدهون؟

Where does chemical digestion of proteins, carbohydrates, and nucleic acids take place?

المخرجات التعليمية المرتبطة

SCI.3.1.02.014 ○

تم تحميل هذا الملف من

موقع المناهج الإماراتية

.a  
الفم

alManahj.com/ae

.b  
المريء

.c  
الاثنى عشر

.d  
الأمعاء الغليظة

تعمل الكليتان على تنقية الفضلات من .....

المخرجات التعليمية المرتبطة

SCI.3.1.01.039 ○

SCI.3.1.01.040 ○

تم تحميل هذا الملف من  
موقع المناهج الإماراتية

.a  
الرئتين

alManahj.com/ae

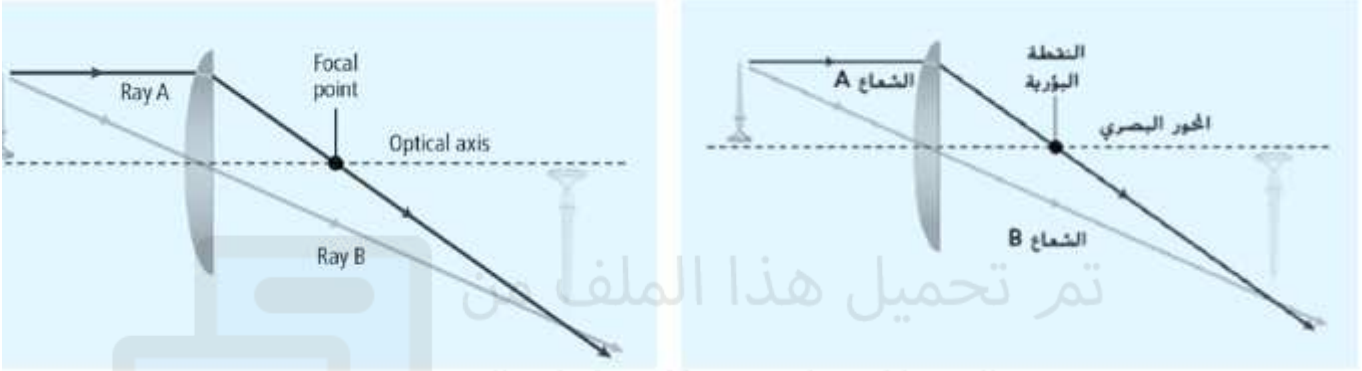
.b  
الجلد

.c  
الأمعاء

.d  
الدم

one and two  
ue?

في الشكل أدناه، يقع الجسم بين البؤري وضعفه. أي مما يأتي صحيح؟



المخرجات التعليمية المرتبطة

SCI.4.3.02.010 ○

alManahj.com/ae

1

.a

2

.b

3

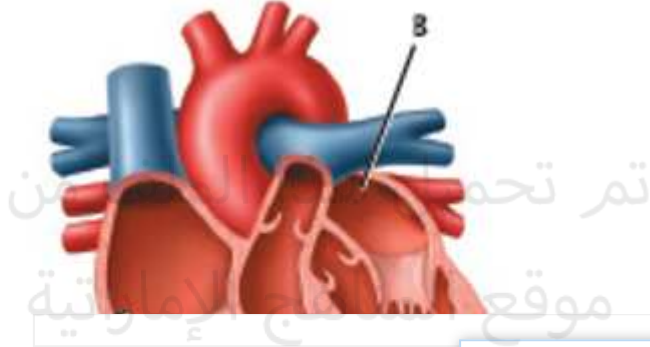
.c

4

.d

icle?

أي حرف يُمثل البطين الأيمن؟



المخرجات التعليمية المرتبطة

SCI.3.1.01.039 ○

SCI.3.1.01.040 ○

alManahj.com/ae

**A**

.a

**B**

.b

**C**

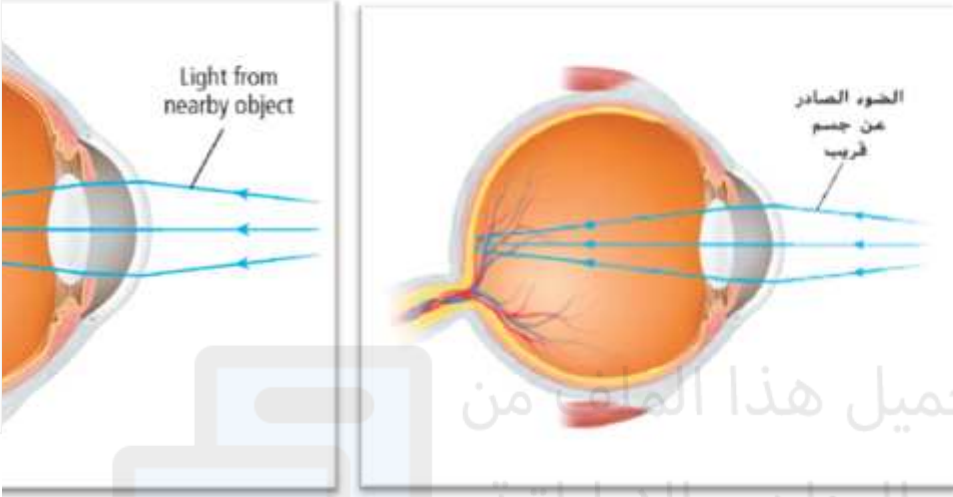
.c

**D**

.d

following is

فيما يتعلق بالشكل أدناه، أي مما يأتي صحيح؟



تم تحميل هذا الملف من  
موقع المناهج الإماراتية

المخرجات التعليمية المرتبطة

SCI.4.3.02.010 ○

alManahj.com/ae

I a concave

.a العين مُصابة بطول النظر وتُستخدم عدسة مقعرة لتصحيحه

d


.b العين مُصابة بطول النظر وتُستخدم عدسة محدبة لتصحيحه

ind

.c العين مُصابة بقصر النظر وتُستخدم عدسة مقعرة لتصحيحه

it

العين مُصابة بقصر النظر وتُستخدم عدسة مُحدبة لتصحيحه



تم تحميل هذا الملف من  
موقع المناهج الإماراتية

[alManahj.com/ae](http://alManahj.com/ae)

عندما يُجرح وعاء دموي صغير في يدك. أي مما يلي يلعب دورًا دفاعيًا فاعلاً ضد الأمراض المحتملة؟

المخرجات التعليمية المرتبطة

SCI.3.1.01.041 ○

تم تحميل هذا الملف من

موقع المناهج الإماراتية

.a الصفائح الدموية

alManahj.com/ae

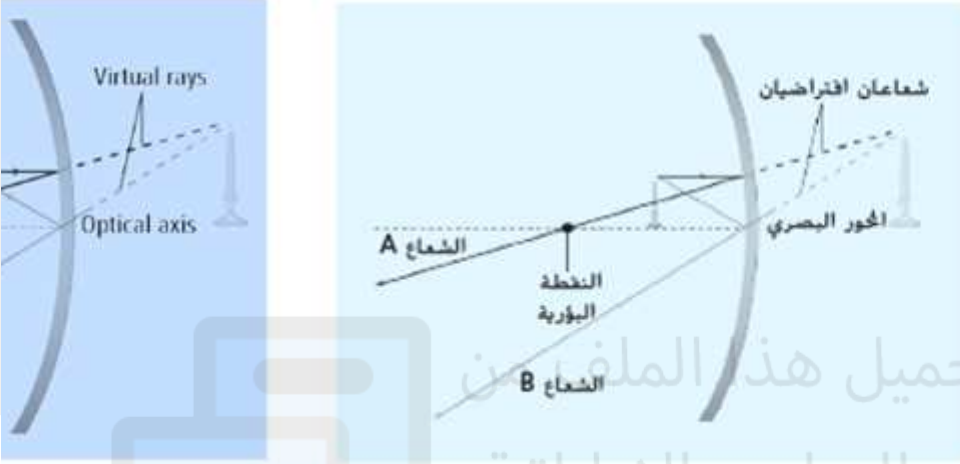
.b خلايا الدم الحمراء

.c البلازما

.d كريات الدم البيضاء

regarding the

أي العبارات التالية صحيحة فيما يتعلق بالشكل أدناه؟



المخرجات التعليمية المرتبطة

SCI.4.3.02.011 ○

alManahj.com/ae

formed is

.a المرآة محدبة والصورة المتكونة حقيقية مقلوبة مصغرة

.a

.b المرآة محدبة والصورة المتكونة تقديرية معتدلة مكبرة

.b

formed is


.c المرآة مقعرة والصورة المتكونة حقيقية مقلوبة مصغرة

.c



.d

المرأة مقعرة والصورة المتكونة تقديرية معتدلة مكبرة



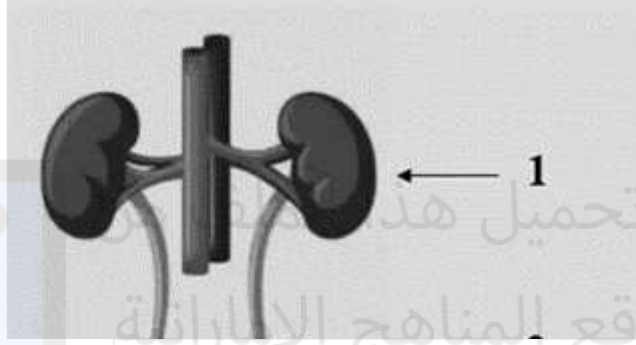
تم تحميل هذا الملف من  
موقع المناهج الإماراتية

[alManahj.com/ae](http://alManahj.com/ae)

and sphincters that

أين تُوجد العضلات المستديرة المعروفة باسم العاصرات والتي

تتحكم في إخراج البول؟



المخرجات التعليمية المرتبطة

SCI.3.1.01.039 ○

SCI.3.1.01.040 ○

alManahj.com/ae

.a

المثانة

.b

الإحليل

.c

الحالب

.d


of proteins?

أي مما يأتي ليست من وظائف البروتينات؟

المخرجات التعليمية المرتبطة

- SCI.3.1.04.010
- SCI.3.1.05.001

لم تحميل هذا الملف من  
موقع المناهج الإماراتية



alManahj.com/ae

.a

توصيل الإشارات بين الخلايا

.b

الحماية ضد الأمراض

.c

تسريع التفاعلات الكيميائية

.d

مُساعدة الجسم على امتصاص الفيتامينات

used by all cells?

أي من الغازات التالية تحتاج إليه كل الخلايا؟

المخرجات التعليمية المرتبطة

SCI.3.1.01.041 ○

.a

ثاني أكسيد الكبريت

موقع المناهج الإماراتية

.b

الهيدروجين

alManahj.com/ae

.c

ثاني أكسيد الكربون

.d

الأكسجين

ماذا يُطلق التنفس الخلوي؟

المخرجات التعليمية المرتبطة

SCI.3.1.01.041 ○

.a

ثاني أكسيد الكربون والماءيل هذا الملف من

موقع المناهج الإماراتية

.b

ثاني أكسيد الكربون والأكسجين

alManahj.com/ae

.c

الأكسجين والماء

.d

النيتروجين والأكسجين

, stars and

تمكن العلماء من اكتشاف الضوء الصادر عن الكواكب والنجوم  
والمجرات باستخدام .....

المخرجات التعليمية المرتبطة

SCI.4.3.02.010 ○

scope and it is one of the  
scopes

تم تحميل هذا الملف من

تلسكوب هابل وهو أحد التلسكوبات الكاسرة  
موقع المشاهج الإماراتية

.a

scope and it is one of the  
scopes

alManahj.com/ae

تلسكوب هابل وهو أحد التلسكوبات العاكسة

.b

المجهر

.c

الكاميرا

.d

إذا سقط شعاع ضوئي مازًا بالنقطة البؤرية على سطح مرآة مقعرة

at point on the

.....

فإنه.....

### المخرجات التعليمية المرتبطة

SCI.4.3.02.009 ○

SCI.4.3.02.011 ○

تم تحميل هذا الملف من

موقع المناهج الإماراتية

ينعكس منتقلًا في مسار مواز للمحور البصري

.a

alManahj.com/ae

ينكسر منتقلًا في مسار مواز للمحور البصري

.b

ينعكس ليمر بالنقطة البؤرية

.c

ينكسر ليمر بالنقطة البؤرية

.d

Which of the following

فيما يتعلق بملصق الطعام أدناه. أي العبارات التالية غير صحيحة؟

Nutrition Facts	
Serving Size 1/2 cup (121g)	
Servings Per Container about 3.5	
Amount Per Serving	
<b>Calories</b> 25	Calories from Fat 0
% Daily Value*	
<b>Total Fat</b> 0g	0%
Saturated Fat 0g	0%
Trans Fat 0g	0%

المخرجات التعليمية المرتبطة

SCI.3.1.04.010 ○

SCI.3.1.05.001 ○

alManahj.com/ae

ents

.a

يُبين ملصق الطعام المواد الغذائية الموجودة

في كل حصة من الطعام

re amount

.b

تُساعد ملصقات الأطعمة على تحديد كميات

od

المجموعات الغذائية الموجودة في الطعام

.c



ents


يُبين مُلصق الطعام المواد الغذائية الموجودة

في كل عبوة

eat

يُساعد تقييم ملصقات الأطعمة على تناول

وجبات متوازنة



تم تحميل هذا الملف من  
موقع المناهج الإماراتية

[alManahj.com/ae](http://alManahj.com/ae)

أي مما يأتي من الصفات الموروثة؟

المخرجات التعليمية المرتبطة

SCI.3.1.03.020 ○

.a

فقدان مخالب تم تحميل هذا الملف من

موقع المناهج الإماراتية

.b

تعلم حيلة جديدة

alManahj.com/ae

.c

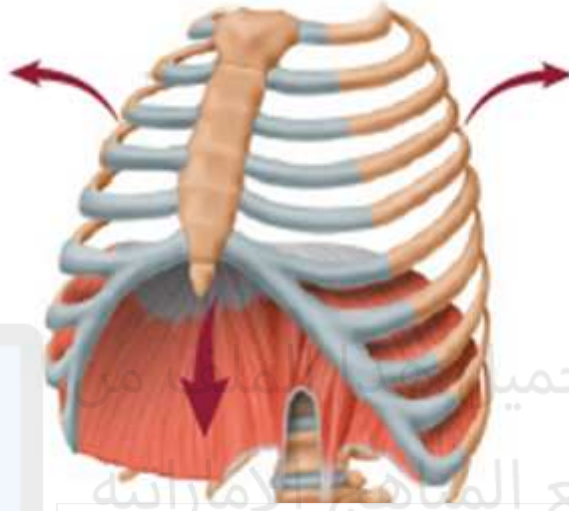
المنقار المعقوف

.d

تعلم القراءة

أي من العمليات مُبينة في الشكل أدناه؟

Figure below?



تم تحميل هذا الملف من موقع المناهج الإماراتية

المخرجات التعليمية المرتبطة

SCI.3.1.01.041 ○

alManahj.com/ae

.a

الزفير

.b

التنفس الخلوي

.c

الشهيق

.d

ما جزء الحمض النووي *DNA* الذي يحتوي على معلومات وراثية  
لصفة وراثية واحدة؟

تم تحميل هذا الملف من

موقع المناهج الإماراتية

المخرجات التعليمية المرتبطة

SCI.3.1.03.022 ○

alManahj.com/ae

.a

الكروموسوم

.b

الجين

.c

البويضة

.d

الحيوان المنوي

genetic

يُعتبر البيئات الشتوي مثالاً على .....

المخرجات التعليمية المرتبطة

SCI.3.1.03.022 ○



تم تحميل هذا الملف من  
موقع المناهج الإماراتية

ptati

.a

التكيف الوظيفي

alManahj.com/ae

.b

التمويه

ptati

.c

التكيف السلوكي

.d

التقليد

beetles can be inherited  
an adaptation through

قد ينتقل تنوع اللون الذي ظهر في خنفسة أو بضع خنافس عبر  
الوراثة إلى العديد من الخنافس الأخرى ليصبح وسيلة للتكيف من  
خلال .....



المخرجات التعليمية المرتبطة

SCI.3.1.03.022 ○

alManahj.com/ae

on

ling

.a

الانتخاب الطبيعي

.b

التناسل الانتقائي

.c

الطفرة

.d

التنوع

amounts for

ما المواد الغذائية التي يحتاج إليها الجسم بكميات صغيرة بغرض النمو

and prevention of

وتنظيم الوظائف والوقاية من بعض الأمراض؟

المخرجات التعليمية المرتبطة

SCI.3.1.05.002 ○

تم تحميل هذا الملف من

موقع المناهج الإماراتية

الكربوهيدرات

.a

alManahj.com/ae

البروتينات

.b

الدهون

.c

الفيتامينات

.d