

تم تحميل هذا الملف من موقع المناهج الإماراتية



*للحصول على أوراق عمل لجميع الصفوف وجميع المواد اضغط هنا

<https://almanahj.com/ae>

* للحصول على أوراق عمل لجميع مواد الصف الثامن اضغط هنا

<https://almanahj.com/ae/8>

* للحصول على جميع أوراق الصف الثامن في مادة اجتماعيات وجميع الفصول, اضغط هنا

<https://almanahj.com/ae/8>

* للحصول على أوراق عمل لجميع مواد الصف الثامن في مادة اجتماعيات الخاصة بـ اضغط هنا

<https://almanahj.com/ae/8>

* لتحميل كتب جميع المواد في جميع الفصول للـ الصف الثامن اضغط هنا

<https://almanahj.com/ae/grade8>

للتحدث إلى بوت المناهج على تلغرام: اضغط هنا

https://t.me/almanahj_bot

المعين في الاجتماعيات

الصف الثامن – جزء 3

المحتوى

ملاحظات	الدرس	
	1- النباتات الطبيعية	الوحدة 1
محذوف	2- أمريكا اللاتينية	
	3- الدولة والحكومة	
	1- النهضة الأوروبية	الوحدة 2
	2- استكشاف البحار	
	3- الثورة الصناعية الرابعة	

اعداد

خليل ابراهيم الشواخ

الوحدة الأولى

الدرس الأول : النباتات الطبيعية في دولة الإمارات العربية المتحدة

أولاً - ما المقصود بالنبات الطبيعي :

هي النباتات التي تنمو من تلقاء ذاتها دون ان يتدخل الانسان فيها

ثانياً - تقسم النباتات الطبيعية في دولة الإمارات العربية المتحدة الى قسمين :

نباتات ساحلية

نباتات جبلية

ثالثاً - من أبرز النباتات الطبيعية الساحلية :

الهرم	العكرش	النجم	القرم- المانغروف
-------	--------	-------	------------------

رابعاً - من أبرز النباتات الطبيعية الجبلية :

السمر	الشوع	العسيج
-------	-------	--------

خامساً - اختر الاجابة الصحيحة من بين الأقواس :

- 1- من النباتات الساحلية (نبات القرم - نبات الهرم - نبات النجم - كل ماسبق)
- 2- من النباتات الجبلية (السمر - الشوع - العسيج - كل ماسبق)
- 3- تنمو شجرة السمر على امتداد (التلال السفحية - اسفل المرتفعات - السهول الحصوية - كل ماسبق)
- 4- من أهم مناطق انتشار شجرة السمر (العين - سويحان - الذيد - كل ماسبق)
- 5- يستفاد من نبات العسيج (في اسقف المنازل - علاج الجروح - غذاء للحيوانات - كل ماسبق)
- 6- من ميزات شجرة السمر :

ا- تعد من أشجار الظل ب- لها القدرة على إنتاج الاوكسجين

ج- تتحمل الجفاف والملوحة د- حاضنة للأسماك والروبيان

7- ينمو نبات القرم (المانغروف) عند :

أ- المناطق الصحراوية ب- المناطق المرتفعة ج- سفوح التلال د- السواحل الغربية والشرقية

8- من ميزات شجرة القرم

أ- تعتمد على نفسها في الحصول على الماء والغذاء

ب- تعد من اشجار الظل

ج- خضراء على مدار السنة

د- تسهم في انتاج الأوكسجين

9- من ميزات نبات النجم (أ- غذاء للإنسان ب- يتحمل الملوحة ج- يكثر بالمناطق الصحراوية د- كل ماسبق)

10- ينتشر نبات العكرش (أ- المناطق الحصوية ب- المناطق الصحراوية ج- قمم الجبال د- المناطق الملحية الرطبة

11- يمتاز نبات الهرم :

أ- أوراقه بيضوية سميكة منتفخة خازنة للماء

ب- أوراقه بيضوية رقيقة

ج- أوراقه دائرية رقيقه

د- أوراقه دائرية سميكة منتفخة خازنة للماء

12- يستفاد من نبات الهرم (أ- علاج للابل ب- غذاء للابل ج- يحمي فسيل النخيل من الدود د- كل ماسبق)

13- - تمتلك أبو ظبي من أشجار القرم حوالي (75 % 80 % 85 % 90 %)

14- تقدر مساحة الأراضي المزروعة في أبو ظبي من أشجار القرم :

(أ- 120 كم مربع ب- 130 كم مربع ج- 140 كم مربع د- 110 كم مربع)

15- تمتد النباتات الجبلية بشكل شريط يبدأ من :

أ- من شعم ودبا الى حتا والعين

ب- من شعم ودبا الى الشارقة

ج- من شعم ودبا الى رأس مسندم شرقاً

د- شعم ودبا فقط

16- صدرت أوامر بزراعة نباتات الغاف والسدر وكذلك بعدم التعرض لشجرة السمر عند تنفيذ المشاريع من قبل الشيخ :

أ- محمد بن راشد حفظه الله

ب- زايد رحمه الله

ج- محمد بن زايد حفظه الله

د- نهيان بن مبارك حفظه الله

17 - يطلق على شجرة السمر أسماء مختلفة مثل :

أ- شجرة الرضوان

ب- شجرة الزعفران

ج - شجرة الريحان

د- شجرة الجنان)

18 - من مجالات استخدام النباتات الطبيعية :

ا- تحضير الأدوية

ب- انتاج الزيوت

ج- تصنيع المبيدات الحشرية لقتل الحشرات

د- كل ماسبق

19- اجراءات الدولة للحفاظ على النباتات الطبيعية (العبارة الغير متوافقة)

ا- اصدار القوانين وفرض العقوبات والرسوم

ب- السجن لمدة سنة

ج- قيام البلديات بأسبوع التشجير

د- الاحتفال بيوم البيئة

سادساً - مميزات وفوائد شجرة السمر

فوائد شجرة السمر	مميزات شجرة السمر
1- يستفاد من الازهار رحيق للنحل	1- تتحمل الجفاف والملوحة
2- تحد من زحف الصحراء	2- تمتد جذورها بالترربة الرملية مايقارب 17 متر
3- جمال ومنظر طبيعي	3- تعرف بشجرة المظلة الشائكة

سابعاً - مميزات وفوائد شجرة الشوع

فوائد شجرة الشوع	مميزات شجرة الشوع
1- غذاء للاغنام والماعز والابل	1- تعتمد على ذاتها بتوفير الماء والغذاء
2- ثمارها وازهارها دواء للإنسان	2- تنمو بدرجات حرارة مرتفعة
3- تكافح التصحر وتطف الجو	3- تقاوم الآفات في الجو وتنتج الاوكسجين

ثامناً - مميزات وفوائد نبات القرم (المانغروف)

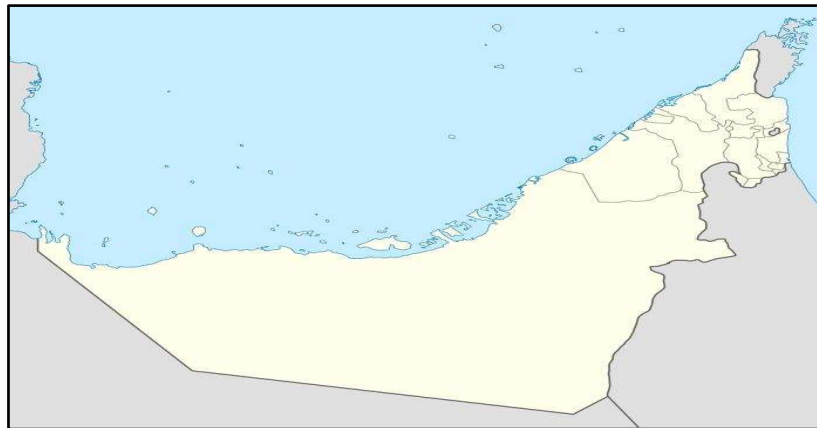
فوائد شجرة القرم	مميزات شجرة القرم
1- حاضنة للأسماك والروبيان	1- خضراء طول العام
2- حامية للشواطئ من الانجراف	2- تقاوم الملوحة الزائدة
3- حماية السواحل من التعرية بفعل الامواج والاعاصير	3- تنمو بالحد الفاصل بين البحار واليابسة

تاسعاً - ما لإجراءات المتبعة في دولة الإمارات العربية المتحدة للحفاظ على النباتات الطبيعية

1- وضع القوانين
2- انشاء هيئة البيئة للحفاظ على البيئة
3- اهتمام البلديات باسبوع التشجير
4- الاحتفال السنوي بيوم البيئة

عاشراً - على خريطة دولة الإمارات العربية المتحدة الصماء حدد النباتات الآتية :

(شجرة القرم - شجرة السمر - شجرة الشوع - شجرة النخيل)



الوحدة الأولى

الدرس الثالث : الدولة والحكومة

أولاً - ضع المفهوم المناسب :

(الدولة - الحكومة - الأمة - الحدود السياسية - الحدود الهندسية - المياه الإقليمية - الدول البسيطة - الدول المركبة المندمجة - الدول المركبة المتحدة - المجال الجوي - الدول المفتوحة - الدول الحبيسة (المغلقة)

1- الدول المغلقة (الحبيسة)	دول تحيطها اليابسة من جميع الجهات
2- الحدود الهندسية	عبارة خطوط وهمية تفصل بين الدول موجودة فقط على الخرائط
3- المياه الإقليمية	مياه تجاور شواطئ الدولة حيث تمارس عليها سيادتها الأمنية والاقتصادية
4- دول مركبة	اندماج بعض الدول أو الإمارات أو الولايات في دولة واحدة
5- الدول المفتوحة	هي الدول التي تشرف على جبهة بحرية أو أكثر من جبهة
6- الحدود الهندسية	حدود سياسية تماشى مع خطوط الطول ودوائر العرض
7- دول متحدة مركبة	عبارة عن اتحاد بين الدول بناءً على رغبتهم ومحدد ضمن اتفاقيات تخدم مصالح تلك البلاد
8- دول بسيطة	الدولة التي تتكون من حكومة واحدة
9- الدولة	مجموعة منظمة من الأفراد تعيش على مساحة محددة من الأرض تجمعها سلطة حاكمة
10- الأمة	مجموعة من الشعوب الواحدة التي تتفق من حيث العادات والتقاليد واللغة والدين - العرب مثلاً
11- الحكومة	من يشرع القوانين ويحمي البلاد ويؤمّن مصالح الشعوب ويوفر لهم الأمن والدفاع عنهم والخدمات اللازمة
12- المجال الجوي	مساحة من الفضاء الجوي خاصة بدولة ما

ثانياً - اذكر أمثلة على نفس النمط من خلال الجدول الآتي (بالإمكان الاعتماد على الخريطة المرفقة) ص 7

مثال 2	مثال 1	
العراق - الأردن - قطر - البحرين	لبنان	1- الدول البسيطة
سويسرة - بارغواي -	تشاد	2- دول مغلقة (حبيسة)
مصر وليبيا - كندا والولايات المتحدة	حدود بين مصر والسودان	3- حدود تساير خطوط الطول والعرض
السنغال وموريتانيا	حدود جبلية بين العراق وإيران	4- حدود تساير ظواهر طبيعية
الإمارات العربية المتحدة	استراليا	5- دول مركبة (مندمجة)
مصر وسوريا -	مصر واليمن	6- دول مركبة (متحدة)

ثالثاً - بين النتائج المترتبة على :

أ- عدم مراعاة اللغة والدين والعرق اثناء الفصل ورسم الحدود بين الشعوب

قيام نزاعات بين الشعوب وصراعات مستمرة تطالب بالانفصال

ب- عدم التزام بعض الدول بحدود المياه الإقليمية المحددة عالمياً

يعود ذلك الى قوتها وحاجتها الى مياه اقليمية اكبر من التي حددتها الأمم المتحدة

ج- وجود دولة بدون حكومة

فوضى ودمار ونهب وسلب

رابعاً - اختر الاجابة الصحيحة من بين الأقواس :

1- تختلف الدول فيما بينها بجوانب عدة :

أ- الموقع والمساحة ب- الامكانات الطبيعية والبشرية ج- النظام السياسي د- كل ماسبق (

2- من اسس قيام الدولة (أ- الموقع والمساحة ب- الشعب ج- الموارد الاقتصادية د- التضاريس)

3- من الدول الكبيرة المساحة في العالم (أ- البحرين ب- جيبوتي ج- لبنان د- الصين)

4- من الدول صغيرة المساحة (أ- الولايات المتحدة ب- كندا ج- قطر د- الهند)

5- دولة عربية تشرف على واجهتين بحريتين هي : (ممكن الاستناد على خريطة العالم المرفقة) في هذه الملزمة

(أ- الجزائر ب- الامارات العربية المتحدة ج- فلسطين د- العراق)

6- عدد الدول العربية الحبيسة (المغلقة) :

(أ- دولتان ب- 3 دول ج- 4 دول د- لا توجد دول حبيسة مغلقة - جميعها مفتوحة)

7- من الدول الحبيسة في العالم (الدول المغلقة) :

(أ- سويسرة ب- تشاد ج- بارجواي د- كل ماسبق)

8- من الدول العربية المفتوحة (المطلة على البحار أو المحيطات) :

(أ- فلسطين ب- لبنان ج- الجزائر د- كل ماسبق)

9- يطلق على المياه التي تشرف عليها دولة الامارات العربية المتحدة بالمياه :

(أ - المجاورة ب- الشاطئية ج- الاقليمية د- الساحلية)

10 - من أبرز الظواهر التي يستند اليها في تعيين الحدود ورسماها :

(أ- التركيب اللغوي ب- التركيب العرقي ج- المذهب والدين د- كل ماسبق)

11- من أهم الدول التي اتخذت الجبال أساساً في تخطيط حدودها السياسية :

أ- مصر والسودان ب- مصر وليبيا ج- العراق وإيران د- السعودية والإمارات

12- الحدود الهندسية هي :

أ- حدود تتماشى مع خطوط الطول ب- حدود تتماشى مع دوائر العرض

ج- حدود تتماشى مع خطوط الطول ودوائر العرض د- حدود ليس لها علاقة بخطوط الطول والعرض

13- من الدول البسيطة ذات الحكومة الواحدة :

أ- مصر وسوريا ب- الامارات العربية المتحدة ج- الولايات المتحدة الامريكية د- تونس

- 14- من الدول المركبة المندمجة (أ- الصين ب- الامارات ج- تركيا د- سوريا)
 15- من الدول المركبة المتحدة (أ- مصر وسوريا ب- مصر والسودان ج- مصر والعراق د- مصر فقط)
 16- زيادة حجم عدد السكان في أي دولة ينجم عنه :

أ- زيادة بعدد القوى العاملة ب- زيادة بعدد أفراد الجيش ج- زيادة الخبرات والمهارات د- كل ماسبق

17 - الجهة المعنية في تأمين الخدمات للسكان والدفاع عنهم وحمايتهم هي :

أ- الحكومة ب- الرئيس ج- وزارة البيئة د- وزارة الداخلية

18- يطلق على الدول العربية مفهوم : (أ- الشعب العربي ب- الأمة العربية ج- العرب د - العريان)

19- تأسست مدينة مصدر عام (أ- 2005 ب - 2006 ج- 2007 د- 2008)

20- تقع مدينة مصدر بالقرب من مطار : (أ- دبي ب- الفجيرة ج- أبوظبي د- الشارقة)

21- من ميزات الدول المركبة - المتحدة :

أ- العلم واحد ب- القانون واحد ج- الدستور واحد د- العملة مختلفة

خامساً - من عوامل قيام الدول :

العوامل البشرية

العوامل الطبيعية

سادساً - من العوامل الطبيعية لقيام الدول :

الموقع الجغرافي	المساحة	التضاريس	المناخ	النبات الطبيعي
-----------------	---------	----------	--------	----------------

سابعاً - من العوامل البشرية لقيام الدول :

السكان	الموارد الاقتصادية
--------	--------------------

ثامناً - من اسس قيام الدولة

السلطة	الشعب	الأرض
--------	-------	-------

تاسعاً - من وظائف الحدود السياسية

1- ضبط عمليات التسلل والتهرب
2- تنظيم انتقال السلع والبضائع
3- حماية الدولة من الامراض والأوبئة
4- تحديد سيادة الدولة



الوحدة الثانية

الدرس الأول : النهضة الأوروبية

أولاً - ضع المفهوم المناسب :

(الهرطقة - الانسانيون - محمد الثاني - عصر النهضة - كوبر نيكوس - مكيا فيلي- ليوناردو دافينشي - دانتي الجيبري - ارسموس الروترdami - مايكل انجلو- جون كالفن - فاطمة الزعابي - فاطمة المنصوري

1-محمد الثاني	-سلطان عثماني كان له أثر كبير في فتح مدينة القسطنطينية عام 1453 م
2-الهرطقة	-البدعة أو الخروج عن المألوف وعن العقيدة المعترف بها من قبل الكنيسة
3-مايكل انجلو	-رسام ونحات ومهندس ايطالي له لوحة تعرف بلوحة يوم القيامة
4-مكيا فيلي	- رائد أوربي ايطالي له كتاب يسمى (الأمير)
5- ارسموس الروترdami	- مفكر أوربي هولندي ولد في مدينة امستردام وله كتاب يسمى (مدح الجنون)
6-كوبر نيكوس	- مفكر أوربي هولندي له نظرية حول دوران الارض حول الشمس
7-ليوناردو دافينشي	- رسام عالمي أوربي اشتهر برسم لوحة الموناليزا أو الجيوكندة
8-دانتي الجيبري	- رائد ايطالي له كتاب يدعى بالكوميديا الالهية
9-جون كالفن	- مفكر اوربي فرنسي وضع كتب (تأسيس الديانة المسيحية)
10-فاطمة الزعابي	- مهندسة امارايتة وضعت برنامج لتطوير الباور بوينت في تصميم القصور هندسياً
11-الانسانيون	-مجموعة من المفكرون الأوروبيون اهتموا بدراسة الانسان من كل جوانبه الأدبية والفنية والعلمية
12-عصر النهضة	- مفهوم أطلق على الفترة الممتدة ما بين العصور الوسطى والعصور الحديثة

ثانياً - ما لسبب الرئيسي في قيام النهضة في ايطاليا قبل غيرها من الدود الأوروبية الأخرى

1-الاتصال الحضاري مع المسلمين
2- ثراء المدن الايطالية
3- الموقع الجغرافي المتميز
4- وجود البابوية في روما

ثالثاً- من عوامل قيام النهضة في أوربا قبل غيرها من العالم

1- ظهور المدن الكبرى
2- الاختراعات
3- فتح القسطنطينية
4- حركة احياء العلوم والآداب

رابعاً- من أبرز الاختراعات التي ظهرت في أوربا خلال عصر النهضة

البوصلة	العدسات	المنظار	الطباعة وصناعة الورق
---------	---------	---------	----------------------

خامساً- أجب عن جميع الأسئلة الآتية :

أ- ما سبب هجرة العلماء من مدينة القسطنطينية الى اليونان خلال عصر النهضة

بسبب الحروب التي تعرضت اليها مدينة القسطنطينية

ب- مالعوامل التي أدت الى جعل اماره الشارقة مركزاً وعاصمة للثقافة الاسلاميه لسنة 2014

جهود الامارة في تشجيع القراءة ونشر الثقافة وقيام المعارض والمهرجانات الثقافية

سادساً - اختر الاجابة الصحيحة من بين الآقواس :

1- يطلق مفهوم (عصر النهضة الأوروبية) على الفترة الممتدة من :

أ- من العصور الوسطى الى العصور الحديثة

ب- من العصور الحجرية الى العصور الوسطى

ج- العصر الحديث

د- كل ماسبق

2- يقصد بالهرطقة :

أ- البدعة والخروج عن معتقدات الكنيسة

ب- الالتزام بمعتقدات الكنيسة وعدم الخروج عنها

ج- انقسام المجتمع الاوربي الى عدة طبقات

د- كل ماسبق

3- يطلق مفهوم الانسانيون على :

أ- كل مايتعلق بحياة الانسان الأدبية

ب- كل مايتعلق بحياة الانسان العلمية

ج- كل ما يتعلق بحياة الانسان الفنية

د- كل ماسبق

4- ظهرت المدن في أوروبا وتوسعت وكان ذلك بفضل :

أ- ازدهار التجارة

ب- ازدهار الصناعة

ج- ازدهار الزراعة

د- كل ماسبق

5- تقع مدينة القسطنطينية في :

أ- ايطاليا

ب- تركيا

ج- اليونان

د- فلسطين

6- فتحت مدينة القسطنطينية عام 1453 على يد السلطان :

أ- محمد الثاني

ب- محمد الثالث

ج- سليم الأول

د- سليمان القانوني

7- من أبرز الاختراعات في عصر النهضة :

أ- الطباعة

ب- صناعة الورق

ج- العدسات

د- كل ماسبق

8- تعود جنسية فاطمة الزعابي المهندسة في تصميم القصور هندسيا عبر الباور بوينت الى :

أ- الإمارات العربية المتحدة

ب- البحرين

ج- السعودية

د - الكويت

9- من عوامل قيام النهضة في ايطاليا قبل غيرها من الدول الأوروبية

أ- ثراء المدن الايطالية

ب- الاتصال الحضاري مع المسلمين

ج- وجود البابوية في روما

د- كل ماسبق

10- من أبرز مؤلفات راند النهضة أراسموس الروترdami :

أ- الكوميديا الالهية

ب- لوحة الموناليزا

ج- الأمير

د- مدح الجنون

11- يعود اصل اراسموس الروترdami الى :

أ- هولندا

ب- بولندا

ج- إيرلندا

د- اسبانيا

12- رسام ونحات ومهندس وشاعر ايطالي :

أ- مكيافيلي

ب- مايكل انجلو

ج- جون كالفن

د- ليوناردو دافينشي

13- عالم بولندي وضع نظرية مخالفاً اليوناني بطليموس حول دوران الارض حول الشمس هو :

أ- جون كالفن

ب- اراسموس الروترdami

ج- فرديناند ماجلان

د- كوبرنيكوس

14- تتبع جزيرة السعديت الى امانة :

أ- أبو ظبي

ب- امانة الشارقة

ج- امانة الفجيرة

د- امانة أم القيوين

15- تقع البابوية (مركز البابا) الفاتيكان حالياً في :

أ- روما

ب- مدريد

ج- لندن

د- برلين

سابعاً : ما لعوامل التي أدت الى قيام النهضة في أوروبا

1- ظهور المدن

2- فتح
القسطنطينية

3- الاختراعات











4- حركة احياء
العلوم والاداب

انتهى الدرس بالتوفيق والنجاح

الوحدة الثانية

الدرس الثاني : استكشاف البحار

أولاً - صل بين الصورة ومايناسبها

	
مضيق ماجلان (أمريكا الجنوبية)	كريستوفر كولومبوس
	
أمريكا الشمالية	فرديناند ماجلان
	
راس الرجاء الصالح	فاسكو دي جاما
	
أمريكا الجنوبية	بارثلميو دياز
	
ساحل ملبار - الهند	أمريكو فيسبو تيشي

ثانياً - صنف دوافع الكشوف الجغرافية حسب الجدول :

(نشر الدين المسيحي - تطويق العالم الاسلامي - تقدم المعرفة الجغرافية - نهب الثروات - التوسع والهيمنة

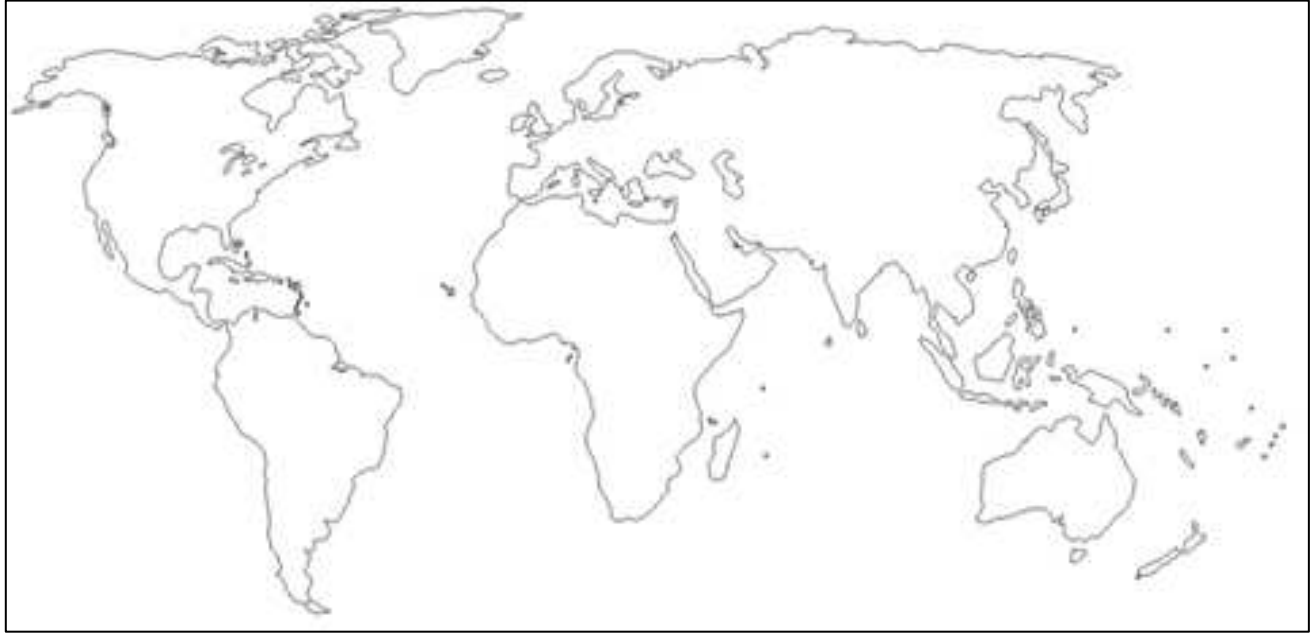
- تطوير صناعة السفن - البحث عن التنقيب)

دوافع اقتصادية	دوافع علمية	دوافع سياسية
نهب الثروات	تقدم المعرفة الجغرافية	التوسع والهيمنة
تطوير صناعة السفن - البحث عن التنقيب	-----	تطويق العالم الاسلامي

ثالثاً - حدد على خريطة العالم الصماء الآتية كلاً مما يلي :

(1- جزر البهاما 2 - مضيق ماجلان 3- راس الرجاء الصالح 4- ساحل ملبار

5- دولة الامارات العربية المتحدة 6- البرتغال)



رابعاً - من نتائج الكشوفات الجغرافية السياسية :

أ- أفرزت الكشوفات الجغرافية مفهومي الاستعمار والاستيطان

ب- بناء الاساطيل الضخمة الحديثة

ج- ظهور قوميات ودول جديدة مثل الولايات المتحدة الامريكية و استراليا

السؤال :

----- -----	1- اذكر أياً من النتائج السابقة يعد الأكثر أهمية من وجهة نظرك
----- -----	2- بين مبررات اختيارك

خامساً - أن ظاهرة الاتجار بالبشر تعد جريمة كبرى يعاقب عليها القانون , وهناك الكثير من الدول تتساهل حول تلك الظاهرة لما لها من مخاطر كبيرة على الأطفال والنساء والشباب , بين ماذا فعلت دولة الامارات حول هذه الظاهرة .



سادساً - قدم 3 من الخدمات التي يمكن أن يقدمه مشروع الإمارات لاستكشاف المريخ - لتحقيق التقدم والازدهار للمجتمع الاماراتي والعالمي .



سابعاً - اذكر 2 فقط لكل مما يلي : (من نتائج الكشوفات الجغرافية)

النتائج العلمية	النتائج الدينية	النتائج الاقتصادية

ثامناً : اختر الاجابة الصحيحة من بين الأقواس :

1- من المستكشفين والرحالة الإسبان :

أ- بارثلميو دياز ب- فاسكو دي جاما ج- أمريكو فيسبوتشي د- كريستوفر كولومبس

2- الرحالة الذي أثبت كروية الأرض :

أ- فاسكو دي جاما ب- فرديناند ماجلان ج- جيمس كوك د- جان كارتية

3- يعود الفضل في اكتشاف قارة استراليا الى الرحالة والبحار :

أ- جيمس كوك ب- كريستوفر كولومبس ج- جان كارتية د- بارثلميو دياز

4- تم اكتشاف رأس الرجاء الصالح على يد البحار البرتغالي :

أ- أمريكو فيسبوتشي ب- فاسكو دي جاما ج- جان كارتية د- جيمس كوك

5- وصل الرحالة البرتغالي فاسكو دي جاما الى :

أ- سواحل الهند (ملبار) ب- شواطئ كندا ج- استراليا د- جزر البهاما

6- أطلق مفهوم رأس العواصف من قبل البرتغالي :

أ فاسكو دي جاما ب - كريستوفر كولومبس ج- بارثلميو دياز د- لأحد منهم

7- من اشهر البحارة العربي والملقب بأسد البحار :

أ- المسعودي ب- ابن بطوطة ج- شهاب الدين أحمد بن ماجد د- الإدريسي

8- يعود الفضل الأول في اكتشاف البحار الى :

أ- البرتغال واسبانيا ب- اسبانيا ج- البرتغال د- ايطاليا

9- من النتائج العلمية لحركة الكشوف الجغرافية :

أ- اثبات كروية الارض ب- نشر الدين المسيحي الكاثوليكي
ج- انتشار تجارة الرقيق ج- زيادة كمية المعادن الثمينة

10- أكثر دولة يطلق عليها مفهوم الاستعمار والاستيطان هي :

أ- البرتغال ب- اسبانيا ج- ايطاليا د - إسرائيل

11- أكثر الدول العربية التي اهتمت بمكافحة تجارة البشر هي :

أ- السعودية ب- الجزائر ج- الامارات د - الكويت

انتهى الدرس

الوحدة الثانية





الدرس الثالث : الثورة الصناعية الرابعة

أولاً - ضع المفهوم المناسب :

(الثورة الصناعية الرابعة - الذكاء الاصطناعي - الروبوت - مجلس الثورة الصناعية - برنامج الثورة الصناعية اكس x)

1- الروبوت	- آلة تتحرك أو توماتيكياً بأوامر بشرية لتنفيذ مهمة معينة
2- الثورة الصناعية الرابعة	جمع تكنولوجيا الجيل القادم والتقاء العالم الحسي بالعالم الرقمي , تقودها محركات اساسية مثل الذكاء الاصطناعي والروبوت والطابعات ثلاثية الأبعاد و
3- برنامج الثورة الصناعية الرابعة اكس (x)	- برنامج تدريبي تعليمي يستثمر في تطوير قدرات ومهارات النخبة من الطلاب الاماراتيين المتميزين في المجالات العلمية
4- الذكاء الاصطناعي	- سلوك وخصائص معينة تتسم بها البرامج الحاسوبية تجعلها تحاكي القدرات الذهنية البشرية وأنماط عملها .
5- مجلس الثورة الصناعية	- مجلس أنشأته دولة الامارات لتصبح أول مختبر عالمي مفتوح لتطبيق تكنولوجيا الثورة الصناعية الرابعة .

ثانياً - صل بين الصورة ومايناسبها :

أواخر القرن التاسع عشر	
أواخر القرن الثامن عشر	
الثورة الصناعية الرابعة	
أواخر القرن العشرين	

ثالثاً - أكمل الجدول الآتي : الثورة الصناعية الرابعة

السلبيات	الإيجابيات
1- انتشار البطالة	1- ارتفاع معدلات التنمية الاقتصادية
2- سيطرة الشركات الكبرى على الصغرى والمتوسطة	2- انخفاض التكاليف

رابعاً- أهداف مجلس الامارات للثورة الصناعية الرابعة :



خامساً - ما لغرض من وضع اشارة (x) للثورة الصناعية الرابعة - ص 91

كرمز للدلالة على استدامته ومواكبته للتطورات المرتبطة بالثورات الصناعية القادمة

سادساً- كيف لدولة الامارات ان ترفع من مهارة العاملين لديها - ص 92

من خلال التدريب المهني والفني

سابعاً- ماهي المحاور الستة التي تبنتها تكنولوجيا الثورة الصناعية الرابعة في الامارات - ص 88

أ- تأسيس أول مجلس للثورة الصناعية الرابعة على مستوى العالم

ب- اطلاق برنامج خاص لضم حكومات المنطقة الى مجلس المستقبل

ج - تأسيس مجلس الثورة الصناعية الرابعة لدعم صناع القرار حول العالم

ثامناً : اختر الاجابة الصحيحة من بين الأقواس

1- ظهرت الثورة الصناعية الثانية في أواخر القرن :

أ - 17 ب- 18 ج- 19 د- 20

2- يقصد بالثورة الصناعية الرابعة :

أ- التوصل الى استخدام الطاقة الكهربائية ب- اختراع الحاسب الالي

ج- استخدام الطاقة البخارية د- التقاء العالم الحسي بالعالم الرقمي

3- من مميزات الثورة الصناعية الرابعة :

أ- السرعة ومستوى التنفيذ ب- التأثير الممتد والشامل لجميع نواحي الحياة

ج- تعددية النظام د- كل ماسبق

4- من ايجابيات الثورة الصناعية الرابعة

أ- انتشار البطالة بشكل واسع ب- اتساع الفجوة بين الفقراء والأغنياء

ج- تخفيض تكاليف الانتاج د - كل ماسبق

5- من سلبيات الثورة الصناعية الرابعة :

- أ- تأمين وسائل النقل والمواصلات بثمن أقل
ب- اختصار للوقت
ج- هيمنة الشركات الكبرى على الانتاج
د- كل ماسبق

6- أولى الدول العربية في تأسيس مجلس الثورة الصناعية الرابعة :

- أ- مصر
ب- الامارات العربية المتحدة
ج- السعودية
د- الكويت

7- ترأس الشيخ حمدان بن محمد بن راشد آل مكتوم وفد الإمارات الى المنتدى الاقتصادي العالمي في سويسرة عام :

- أ- 2017
ب- 2018
ج- 2019
د- 2020

***** بالتوفيق والنجاح *****

مدرس المادة

خليل ابراهيم الشواخ