

تم تحميل هذا الملف من موقع المناهج الإماراتية



نموذج اختبار تجريبي ثاني وفق الهيكل الوزاري القسم الكتابي

موقع المناهج ← المناهج الإماراتية ← الصف الثامن ← رياضيات ← الفصل الأول ← اختبارات ← الملف

تاريخ إضافة الملف على موقع المناهج: 2024-12-07 16:04:38

ملفات اكتب للمعلم اكتب للطالب الاختبارات الكترونية | اختبارات | حلول | عروض بوربوينت | أوراق عمل
منهج انجليزي | ملخصات وتقارير | مذكرات وبنوك | الامتحان النهائي للمدرس

المزيد من مادة
رياضيات:

إعداد: مدارس الخليل الدولية الخاصة

التواصل الاجتماعي بحسب الصف الثامن



صفحة المناهج
الإماراتية على
فيسبوك

الرياضيات

اللغة الانجليزية

اللغة العربية

التربية الاسلامية

المواد على تلغرام

المزيد من الملفات بحسب الصف الثامن والمادة رياضيات في الفصل الأول

نموذج اختبار تجريبي أول وفق الهيكل الوزاري القسم الكتابي

1

حل تجميعية أسئلة مراجعة وفق الهيكل الوزاري منهج بريدج

2

حل تجميعية أسئلة وفق الهيكل الوزاري منهج ريفيل المسار المتقدم

3

حل تجميعية أسئلة وفق الهيكل الوزاري منهج ريفيل المسار العام

4

تجميعية نماذج اختبارات سنوات سابقة

5

اسم الطالب / الطالبة	الصف	الشعبة	التاريخ	الفصل	نشاط كتابي
	الثامن		2024 / 9 / ...	الأول 2025 / 2024 م	صفي (1)

اختبار تجريبي 1 لمادة الرياضيات الفصل الدراسي الأول 2024 -

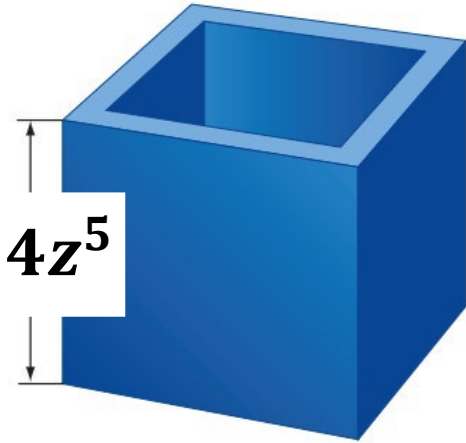


40 درجة

القسم المقالّي

السؤال الأول ::

تزين حصة الفناء الأمامي في بيت جدها استعداداً لفصل الربيع بأحواض لزراعة الزهور على شكل المكعب الموضح أوجد كمية التربة التي تحتاجها للحوض الواحد ::



.....
.....
.....
.....
.....
.....
.....
.....

السؤال الثاني :

أوجد قيمة التعبير التالي بصورة الترميز العلمي :

a. $(8.2 \times 10^4)(4.2 \times 10^5) =$

b. $\frac{28 \times 10^{-11}}{4 \times 10^7} =$

.....
.....
.....
.....
.....
.....
.....
.....

التفاهم العالمي هو أفضل صورة ترسمها لنفسك



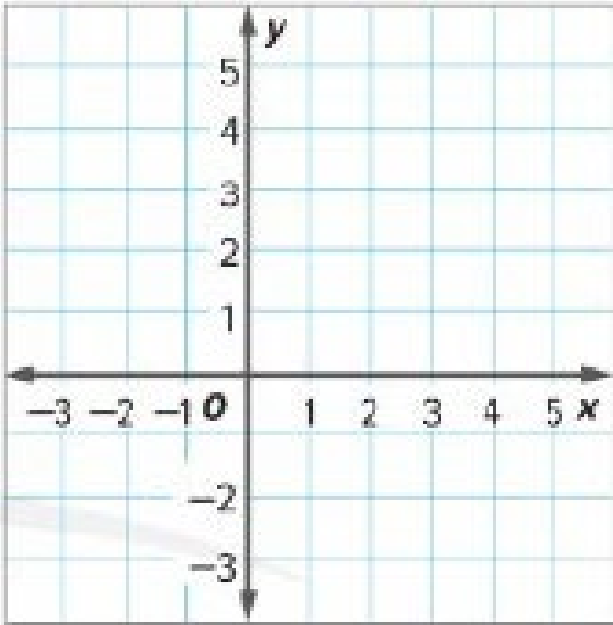
اسم الطالب / الطالبة	الصف	الشعبة	التاريخ	الفصل	نشاط كتابي
	الثامن		2024 / 9 / ...	الأول 2024 / 2025 م	صفي (1)

السؤال الثالث :

1. حل نظام المعادلات التالية بيانياً ::

$$-x + y = -2$$

$$y = 2$$



.....

.....

.....

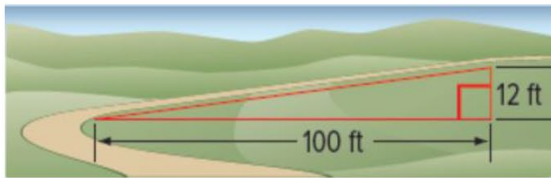
.....

اختبار تدريبي حسب الهيكل

الفصل الدراسي الأول 2024 - 2025

السؤال الرابع ::

أوجد ميل طريق يرتفع عن الأرض بمقدار 12 قدماً لكل تغير أفقي قدره 100 قدم.



.....

.....

.....

.....

.....

علم

نصف

طموح

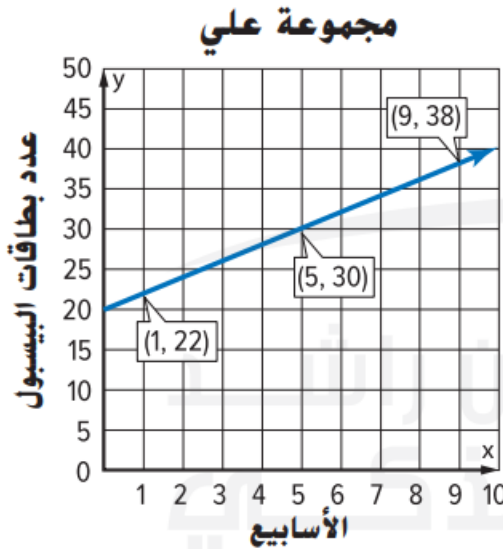
التسامح هو أفضل صورة ترسمها لنفسك

اسم الطالب / الطالبة	الصف	الشعبة	التاريخ	الفصل	نشاط كتابي
	الثامن		2024 / 9 / ...	الأول 2025 / 2024 م	صفي (1)

السؤال الخامس::

يشترى علي وعمر بطاقات بيسبول كل أسبوع . عدد البطاقات التي يجمعها كل منهما بالجدول والتمثيل البياني ، فمن سيكون معه بطاقات أكثر بعد 20 أسبوع ؟؟ علل إجابتك ؟؟

مقتنيات عمر	
عدد البطاقات	الأسبوع
4	1
8	2
12	3



اختبار تدريبي حسب الهيكل

الفصل الدراسي الأول 2024 - 2025

.....

.....

.....

.....

.....

.....

.....

.....

.....

.....



التسامح هو أفضل صورة ترسمها لنفسك

