

تم تحميل هذا الملف من موقع المناهج الإماراتية



الملف أسئلة الامتحان النهائي الورقي بريدج

[موقع المناهج](#) ← [المناهج الإماراتية](#) ← [الصف الثامن](#) ← [رياضيات](#) ← [الفصل الثالث](#)

روابط مواقع التواصل الاجتماعي بحسب الصف الثامن



روابط مواد الصف الثامن على تلغرام

[الرياضيات](#)

[اللغة الانجليزية](#)

[اللغة العربية](#)

[التربية الاسلامية](#)

المزيد من الملفات بحسب الصف الثامن والمادة رياضيات في الفصل الثالث

[حل أسئلة الاختبار التحريبي نخبة](#)

1

[حل أسئلة الاختبار التحريبي](#)

2

[حل أسئلة الاختبار التحريبي ريفيل](#)

3

[إجابات أسئلة الاختبار التحريبي](#)

4

[حل أسئلة وفق الهيكل الوزاري نخبة](#)

5

Paper Part

الجزء الورقي

your work when answering these questions.

يجب كتابة خطوات الحل التفصيلية للمفردات الاختبارية كافة.

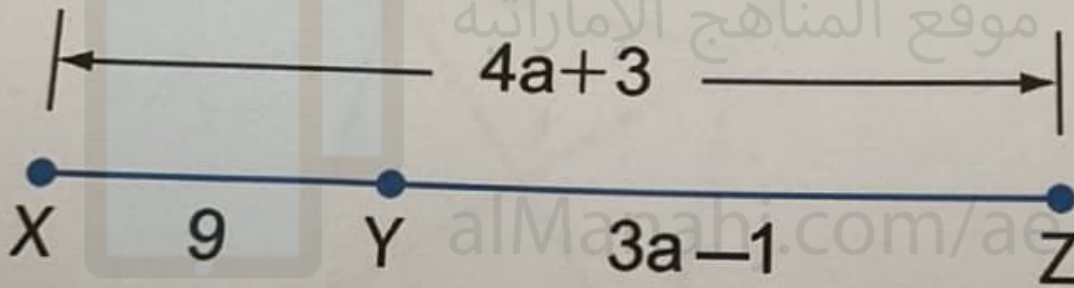
Question

1

السؤال

the value of a .

أوجد قيمة a .



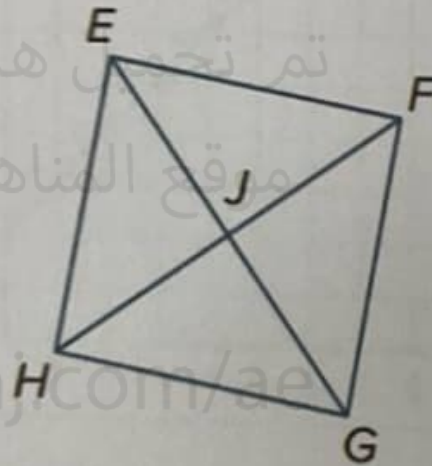
Question

2

السؤال

The diagonals of square $EFGH$ intersect at J . If $FG = 3x + 9$ and $GH = 5x - 3$. Find the value of x .

يتقاطع قطرا المربع $EFGH$ عند J . إذا كان $FG = 3x + 9$ و $GH = 5x - 3$. أوجد قيمة x .



تم تحميل هذا الملف من
موقع المناهج الإماراتية

alManahj.com/ae


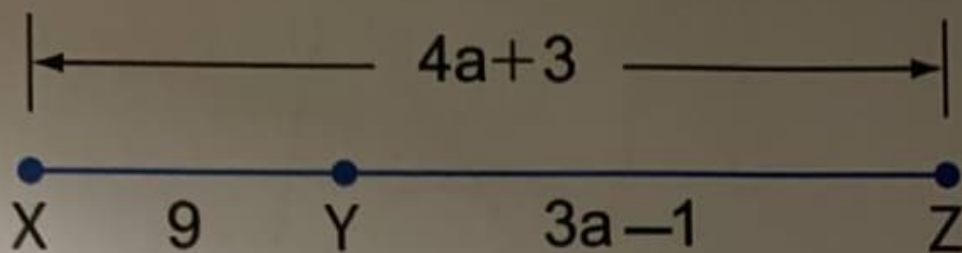
.....

.....

.....

Find the value of a.

جد قيمة a .



تم تحميل هذا الملف من
موقع المناهج الإماراتية

alManahj.com/ae