

تم تحميل هذا الملف من موقع المناهج الإماراتية



مراجعة مهارية استعداداً للامتحان متبوعة بالإجابات

موقع المناهج ← المناهج الإماراتية ← الصف الثامن ← اجتماعيات ← الفصل الأول ← ملفات متنوعة ← الملف

تاريخ إضافة الملف على موقع المناهج: 2024-12-10 22:02:54

ملفات اكتب للمعلم اكتب للطالب الاختبارات الكترونية الاختبارات ا حلول اعروض بوربوينت أوراق عمل
منهج انجليزي املخصات وتقارير ا مذكرات وبنوك الامتحان النهائي للمدرس

المزيد من مادة
اجتماعيات:

إعداد: عمر حسن

التواصل الاجتماعي بحسب الصف الثامن



صفحة المناهج
الإماراتية على
فيسبوك

الرياضيات

اللغة الانجليزية

اللغة العربية

التربية الاسلامية

المواد على تلغرام

المزيد من الملفات بحسب الصف الثامن والمادة اجتماعيات في الفصل الأول

تدريبات امتحانية وفق الهيكل الوزاري متبوعة بالإجابات

1

مراجعة عامة على مهارات اختبار نهاية الفصل

2

مراجعة مهارات عامة وفق الهيكل الوزاري

3

حل الكراسة التدريبية للاختبار النهائي وفق الهيكل الوزاري

4

الكراسة التدريبية للاختبار النهائي وفق الهيكل الوزاري

5

مراجعة مهارية الصف الثامن


مدرسة الهير

المعلم عمر حسن

العام الدراسي 2024-2025

الفصل الأول


عمر



السؤال الأول

يوظف الاشكال لبيان أهمية التنمية البشرية
الوحدة : قضايا وطنية
نوع السؤال : معلوماتي

عمر



مؤشرات وبيانات رئيسية

تصدرت الإمارات المنطقة العربية، حيث حصلت على المرتبة 45 عالمياً من بين 130 دولة شملها مؤشر رأس المال البشري العالمي في تقرير التنمية البشرية الصادر عن المنتدى الاقتصادي العالمي.

درجة التطور على مؤشر رأس المال البشري العالمي

65.48%



9.270

ملايين نسمة إجمالي السكان



3644

متوسط الأجر الشهري



4.2%

معدل البطالة



72.4%

مشاركة قوة العمل



67133

نصيب الفرد من الناتج المحلي بالدولار



9

سنوات التعليم الأساسي



1.1%

نسبة الإنفاق على التعليم (من إجمالي الناتج المحلي)



100485

إنتاجية العامل سنوياً (بالدولار)



1- ما هو تصنيف الإمارات من بين الدول عالمياً حسب مؤشر رأس المال البشري؟

أ. 41

ب. 42

ج. 45

د. 43

2- كم تبلغ نسبة التطور على مؤشر رأس المال البشري في الإمارات؟

أ. 45.5%

ب. 65.48%

ج. 72.4%

د. 4.2%

3- ما هو متوسط الأجر الشهري في الإمارات بالدولار؟

أ. 100,485

ب. 67,133

ج. 36,44

د. 9,270

4- كم يبلغ نصيب الفرد من الناتج المحلي الإجمالي في الإمارات بالدولار؟

أ. 67,133

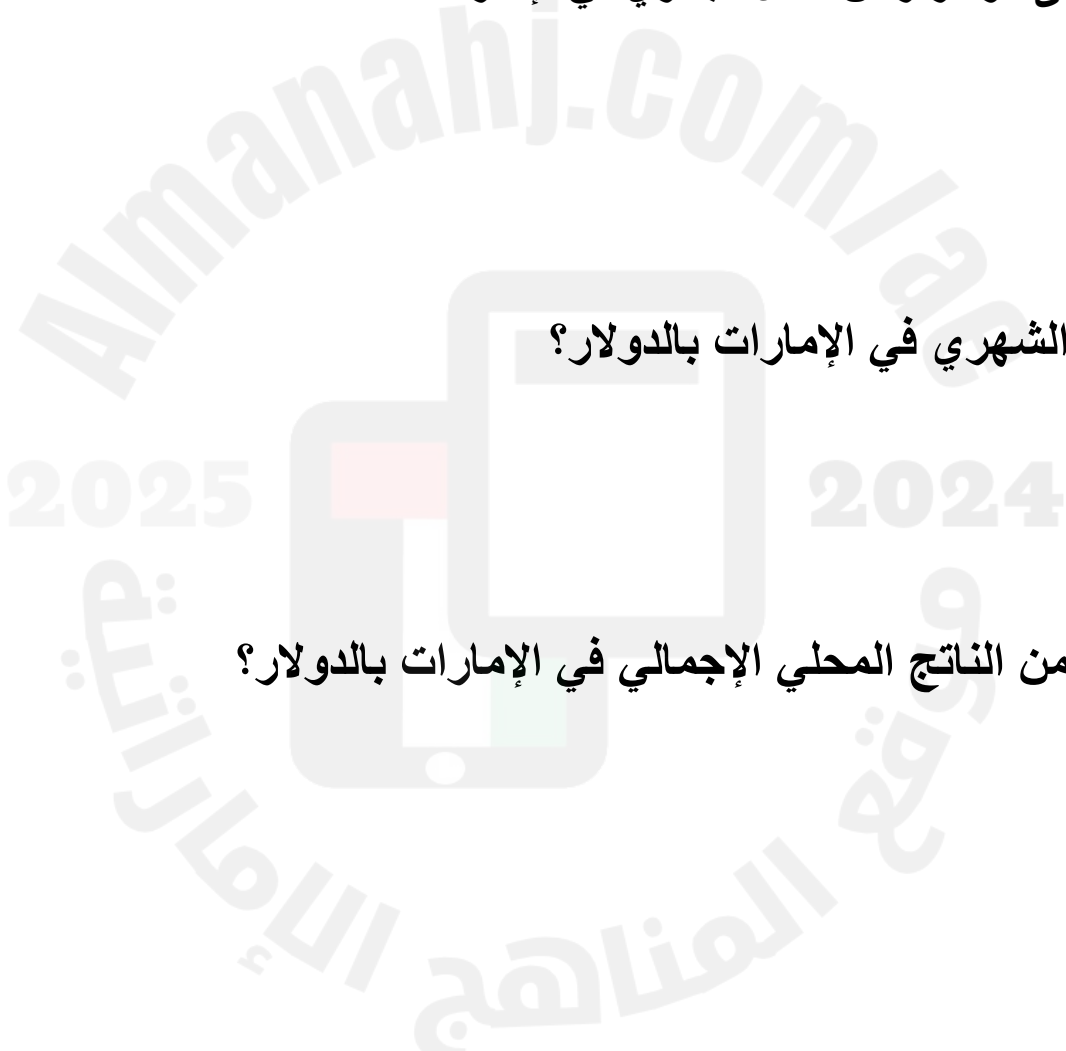
ب. 36,444

ج. 100,485

د. 9,270

نحن
الإمارات
WE THE UAE
2031

عمر





5- ما هي نسبة البطالة في الإمارات؟

(أ) 4.2%

(ب) 1.1%

(ج) 65.48%

(د) 72.4%

6- ما نسبة الإنفاق على التعليم من إجمالي الناتج المحلي؟

(أ) 4.2%

(ب) 1.1%

(ج) 65.48%

(د) 72.4%

7- كم تبلغ سنوات التعليم الأساسي في الإمارات؟

(أ) 12 سنة

(ب) 9 سنوات

(ج) 6 سنوات

(د) 15 سنة

8- كم يبلغ عدد سكان الإمارات بالملايين؟

(أ) 4.2

(ب) 1.1

(ج) 9.27

(د) 3.6



9- ما هي نسبة مشاركة قوة العمل في الإمارات؟

أ. 65.48%

ب. 4.2%

ج. 72.4%

د. 1.1%

10- كم يبلغ إنتاجية العامل السنوية بالدولار؟

أ. 36,444

ب. 67,133

ج. 100,485

د. 9,27




عمر



السؤال الأول

الإجابات



2025

2024

عمر






رقم السؤال	الإجابة الصحيحة
1	أ
2	ب
3	ج
4	أ
5	أ
6	ب
7	ب
8	ج
9	ج
10	ج

السؤال الثاني

يوظف الاشكال لبيان بعض الأفكار عن البيت متوحد
الوحدة : قضايا وطنية
نوع السؤال : معلوماتي

عمر



إبداعات تتهادى على وقع التلاحم

إبداعات فنية كثيرة تهادت على وقع «البيت متوحد»، لتنهال الروائع على هيئة أغنيات وأناشيد ومسرحيات وأوبريتات وقصائد، عكست ما يعتري نفوس أبناء هذا الوطن والمقيمين على أرضه من مشاعر جميلة تجاهه، وعبّرت عن الاتحاد والتلاحم بأجمل صورته.

مسرحيات

2013



قدمت فرقة مسرح عيال زايد للفنون عملاً مسرحياً حمل عنوان «البيت متوحد» تأليف وإخراج «عبد الله بوهاجوس».

مسرحية بعنوان «البيت متوحد» فكرة مريم الظاهري، وتأليف وإخراج محمد الكعبي، وبطولة الفنان خليفة الكعبي، وأحمد سالاري، سيف الظاهري، يوسف الساعدي، حسن محمود.

رسالة حب أرسلتها مصر ودول الخليج للإمارات في يومها الوطني 44، جاءت على هيئة أوبريت غنائي شارك فيه فنانون وإعلاميون محليون وخليجيون وعرب أبرزهم هاني رمزي وماجد المصري وداليا البحيري أحمد جمال وحمادة هلال ومدحت صالح ورؤى الصبان وأمل محمد وأحمد عبدالله وأمل العوضي وریم أرحة.

2015



إعداد: دارين شبير - جرافيك: محمد أبوعبيدة

قصائد 41

ألهمت مقولة «البيت متوحد» 41 شاعراً من أبناء الوطن شاركوا في كتابة قصيدة مكونة من 41 بيتاً، وهي فكرة الشاعر سعيد بن غمض الراشدي.

صدق المنشد الوسمي بأشودته «البيت متوحد» في اليوم الوطني 42، معبراً عن حالة وطنية متفردة، والأشودة من كلمات غانم الهاجري.



2016

قدم أطفال الإمارات أغنية حملت عنوان «البيت متوحد» عكست مشاعرهم الرقيقة ومحبتهم الكبيرة لوطنهم، والأغنية من كلمات الشاعر حسان العبيدي.

تألّق الشاعر كريم العراقي في أوبريت حمل عنوان «البيت متوحد» وهو من إخراج الفنان د.حبيب غلوم، ويضم مجموعة من اللوحات الغنائية والاستعراضية تتهادى في حب الوطن.

42

أناشيد



قدم كل من المنشدين محمد عبيد وإدريس أبكر أناشيد جميلة لاقت نسب استماع عالية وحملت عنوان «البيت متوحد».

40 أفلام

قدم المخرج منصور البيهوني الظاهري فيلماً وثائقياً بعنوان «البيت متوحد»، يُبحر في ماضي الإمارات، ويعرض آراء وتجارب مجموعة من المقيمين ممن عاشوا فيها ما يزيد على 40 عاماً.

جسدت أغنية عيضة المنهالي «البيت متوحد» مشاعر وطنية عميقة، وهي من كلمات الشاعر حميد بن سعيد النيايدي.

2012

أغنيات



البيان

1- في أي عام أُطلقت مسرحية "البيت متوحد"؟

أ. 2013

ب. 2012

ج. 2015

د. 2016

2- من هو الشاعر الذي كتب كلمات مسرحية "البيت متوحد"؟

أ. كريم العراقي

ب. سعيد بن دري الفلاحي

ج. منصور اليبهوني الظاهري

د. محمد عبيد

3- ما هو عنوان الأغنية التي كتب كلماتها الشاعر كريم العراقي في عام 2016؟

أ. البيت متوحد

ب. أوبريت خليفة

ج. عيال زايد

د. حبيب الشعب

4- كم كان عمر دولة الإمارات عندما أنتج فيلم وثائقي يتناول مسيرة الاتحاد؟

أ. 30 عامًا

ب. 35 عامًا

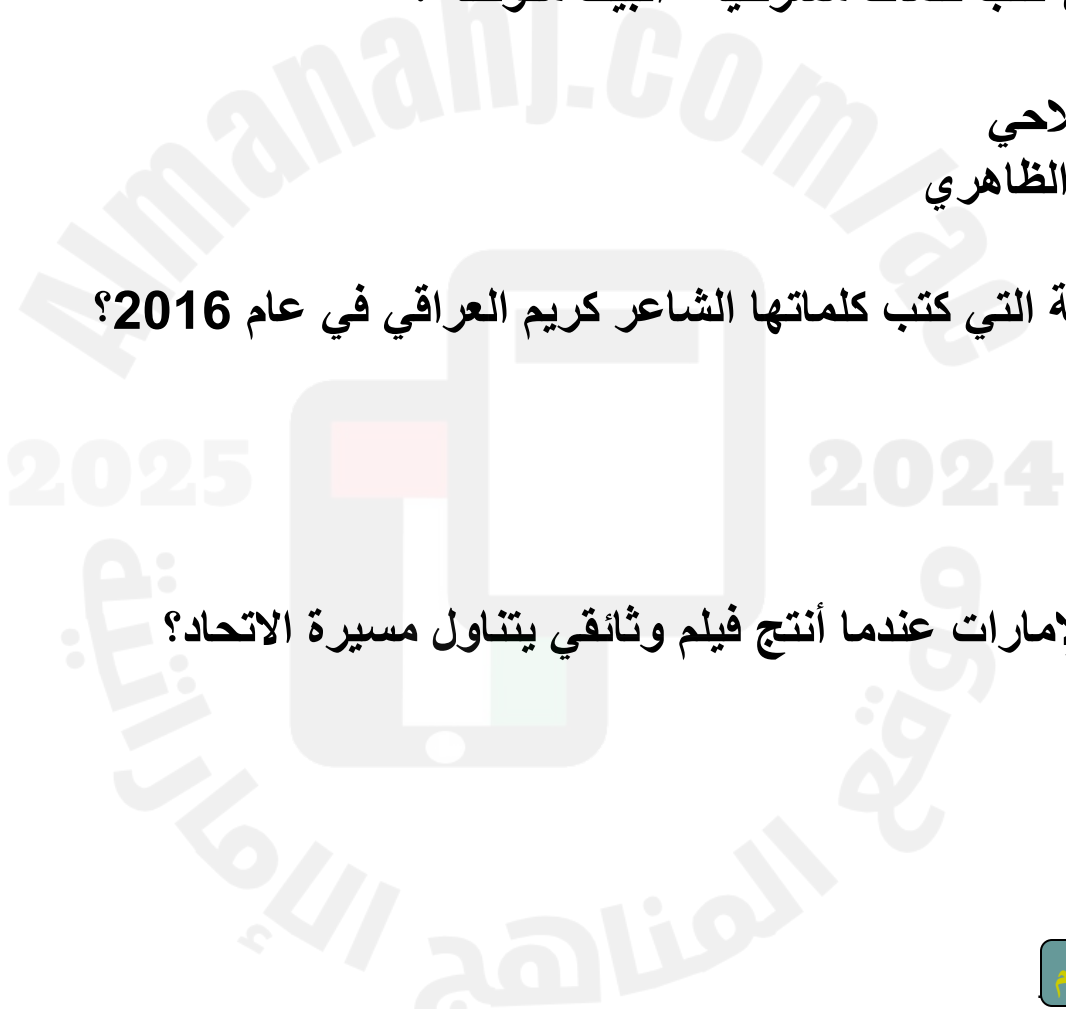
ج. 40 عامًا

د. 45 عامًا



نحن
الإمارات
WE THE UAE
2031

عمر



5-ن قام بأداء الأغنية التي أصدرت في عام 2012 بعنوان "حبيب الشعب"؟

- أ) حسين الجسمي
- ب) محمد عبده
- ج) عيضة المنهالي
- د) حمد العامري

6-في أي عام تم إنتاج فيلم وثائقي يحكي عن الاتحاد في الإمارات؟

- أ) 2012
- ب) 2013
- ج) 2015
- د) 2016

7-من هو الشاعر الذي كتب مقولة البيت "إني أسمع صوت زايد" في قصيدة عن الاتحاد؟

- أ) كريم العراقي
- ب) سعيد بن دري الفلاحي
- ج) منصور اليبهوني الظاهري
- د) حمد العامري

8-كم استغرقت كتابة أبيات قصيدة "البيت متوحد"؟

- أ) 40 ساعة
- ب) 42 ساعة
- ج) 41 ساعة
- د) 45 ساعة



نحن
الإمارات
WE THE UAE
2031

عمر



9- من قام بكتابة كلمات الأغنية الخاصة بأطفال الإمارات في عام 2016؟

أ. محمد بن راشد

ب. كريم العراقي

ج. حسين الجسمي

د. منصور اليبهوني الظاهري

10- ما هو الحدث الذي تم فيه إصدار أوبريت "خليفة"؟

أ. عيد الاتحاد

ب. يوم الشهيد

ج. يوم العلم


د. عيد الأضحى

نحن
الإمارات
WE THE UAE
2031

عمر

السؤال الثاني

الإجابات




2025

2024

عمر





الإجابة الصحيحة	رقم السؤال
أ	1
ب	2
ب	3
ج	4
ب	5
ج	6
ب	7
ج	8
ب	9
أ	10


عمر



السؤال الثالث

يوظف الاشكال لبيان بعض الأفكار عن الجزر
الوحدة : قضايا وطنية
نوع السؤال : معلوماتي

عمر



تقع الجزر الثلاث (طنب الكبرى، طنب الصغرى، وأبو موسى) في الخليج العربي، وقد أصبحت محل نزاع طويل الأمد بين دولة الإمارات العربية المتحدة وإيران. الإمارات تؤكد أن الجزر هي جزء لا يتجزأ من أراضيها وتطالب بعودتها إلى السيادة الإماراتية، فيما تسيطر إيران على هذه الجزر منذ عام 1971. هذا النزاع يعكس أهمية الموقع الجغرافي للجزر على طرق التجارة في الخليج، وتستمر الجهود الدولية والإقليمية لحل القضية بشكل سلمي.

30/11/1971

الاحتلال الإيراني للجزر



أبو موسى



طنب الكبرى



طنب الصغرى

تقع الجزر الثلاث في منطقة استراتيجية فريدة نظراً لإشرافها على سواحل إيران والعراق والسعودية و يفوق موقعها في أهميته موقع جزيرة هرمز التي تطل على ساحل المضيق



alkhaleejonline.net

جزر الإمارات الثلاث

الخليج أونلاين
للتبليغ الآراء ولكن أطرحدما



1- ماهي الجزر الثلاث المتنازع عليها بين الإمارات العربية المتحدة وإيران؟

أ) طناب الكبرى، طناب الصغرى، وسرى

ب) طناب الكبرى، طناب الصغرى، وأبو موسى

ج) طناب الكبرى، طناب الصغرى، ودلما

د) طناب الكبرى، سرى، ودلما

2- في أي بحر تقع الجزر المتنازع عليها؟

أ) البحر الأحمر

ب) بحر العرب

ج) البحر المتوسط

د) الخليج العربي

3- متى بدأت إيران السيطرة على الجزر؟

أ) 1965

ب) 1971

ج) 1980

د) 1990

4- لماذا تعتبر الجزر ذات أهمية استراتيجية؟

أ) لأنها غنية بالنفط

ب) لأنها تحوي الكثير من السكان

ج) لأنها تقع في طريق تجارة مهم

د) لأنها تعد وجهة سياحية رئيسية

5- ما هو موقف دولة الإمارات من قضية الجزر؟

أ) تدعي إيران أن الجزر لها

ب) تؤكد الإمارات سيادتها على الجزر

ج) ترفض الإمارات أي محادثات حول الموضوع

د) تسعى الإمارات لبيع الجزر

نحن
الإمارات
WE THE UAE
2031

عمر



Almanahj.com

2025

2024

جميع الحقوق محفوظة للمعلم



نحن
الإمارات
WE THE UAE
2031

عمر



6- اي من التالي يعتبر من الجزر الثلاث؟

1. (أ) جزيرة دلمأ

2. (ب) جزيرة سقطرى

3. (ج) جزيرة طناب الكبرى

4. (د) جزيرة فرسان

7- ما الحل الذي تفضله الإمارات لحل قضية الجزر؟

1. (أ) التدخل العسكري

2. (ب) التسوية السلمية

3. (ج) التحكيم الدولي

4. (د) لا يوجد موقف محدد

8- أي من هذه الدول يتشارك الخليج العربي؟

1. (أ) السعودية فقط

2. (ب) العراق فقط

3. (ج) الإمارات وإيران

4. (د) مصر

9- ما هو السبب الرئيس للنزاع على الجزر؟

1. (أ) الموارد الطبيعية

2. (ب) الموقع الجغرافي الاستراتيجي

3. (ج) التاريخ الثقافي المشترك

4. (د) الاختلاف في اللغة

10- ما هو اسم الجزيرة الصغرى بين الجزر الثلاث؟

1. (أ) طناب الكبرى


2. (ب) طناب الصغرى

3. (ج) أبو موسى

4. (د) سري

السؤال الثالث

الإجابات



2025

2024

عمر






الإجابة الصحيحة	رقم السؤال
ب.	1
د.	2
ب.	3
ج.	4
ب.	5
ج.	6
ب.	7
ج.	8
ب.	9
ب.	10

السؤال الرابع

يوظف الاشكال لبيان بعض الأفكار عن النظم الاقتصادية
الوحدة : الوحدَةُ الثَّانِيَّةُ (الإماراتُ والعالمُ)
نوع السؤال : معلوماتي

عمر



النظام الرأسمالي

1.1 الملكية الفردية

2.1 دور الدولة التوجيه والتنظيم

1. الخصائص

3.1 للفرد حرية امتلاك وسائل الانتاج

1.2 الولايات المتحدة

2.2 أوروبا الغربية

2. الدول

3.2 اليابان وكوريا الجنوبية

مجلس 6 نطاق 8
مدرسة الهير

1.3 الفكر الاقتصادي الحرية
الفردية في التملك

3. الفكر النابع منه النظام

2.3 الفكر الايدلوجي يقوم على فصل الدين عن الدولة

3.3 الحلف السياسي حلف شمال الاطلسي

1.4 الناتو من الناحية العسكرية

2.4 الوصول الى الفضاء

3.4 الحرب الباردة

4. سباق عالمي

تاريخ الظهور
القرنين السادس عشر والسابع عشر
عمر حسن

2025

2024

www.almanahj.com

www.almanahj.com

السؤال 1:

ما هي إحدى الخصائص الرئيسية للنظام الرأسمالي حسب الخريطة الذهنية؟

- (أ) الملكية الجماعية
- (ب) الملكية الفردية
- (ج) إلغاء الملكية الخاصة
- (د) تحكم الدولة الكامل في وسائل الإنتاج

السؤال 2:

أي دولة تُعتبر نموذجًا بارزًا للنظام الرأسمالي حسب الخريطة؟

- (أ) اليابان
- (ب) الولايات المتحدة الأمريكية
- (ج) الصين
- (د) كوريا الجنوبية

السؤال 3:

في الفكر الرأسمالي، ما هو المبدأ المتعلق بعلاقة الدين بالدولة؟

- (أ) يقوم على فصل الدين عن الدولة
- (ب) يدمج الدين في السياسة
- (ج) يعتمد على الدين في القرارات الاقتصادية
- (د) تمويل الدولة للمؤسسات الدينية

السؤال 4:

ما هو الحدث العالمي المرتبط بالنظام الرأسمالي كما هو موضح في الخريطة؟

- (أ) الحرب الباردة
- (ب) الحرب العالمية الأولى
- (ج) تأسيس الأمم المتحدة
- (د) الثورة الصناعية

السؤال 5:

أي من الخصائص الاقتصادية التالية تمثل سمة للنظام الرأسمالي؟

- (أ) تحكم الدولة الكامل في وسائل الإنتاج
- (ب) حرية امتلاك وسائل الإنتاج
- (ج) تقليص حقوق الملكية للأفراد
- (د) إلغاء المنافسة

السؤال 6:

وفقاً للخريطة، ما هو الحلف السياسي المرتبط بالنظام الرأسمالي؟

- (أ) حلف الناتو
- (ب) حلف وارسو
- (ج) الاتحاد الأوروبي
- (د) منظمة الدول المصدرة للبترول (أوبك)

السؤال 7:

ما هي واحدة من الوسائل التي تدعم بها الدولة النظام الرأسمالي حسب الخريطة؟

- (أ) توجيه وتنظيم الدولة
- (ب) الملكية العامة لوسائل الإنتاج
- (ج) تقييد حرية السوق
- (د) منع التوسع الرأسمالي




نحن
الإمارات
WE THE UAE
2031

عمر



السؤال الرابع

الإجابات



2025

2024

عمر






الإجابة الصحيحة	رقم السؤال
ب	1
ب	2
أ	3
د	4
ب	5
أ	6
أ	7

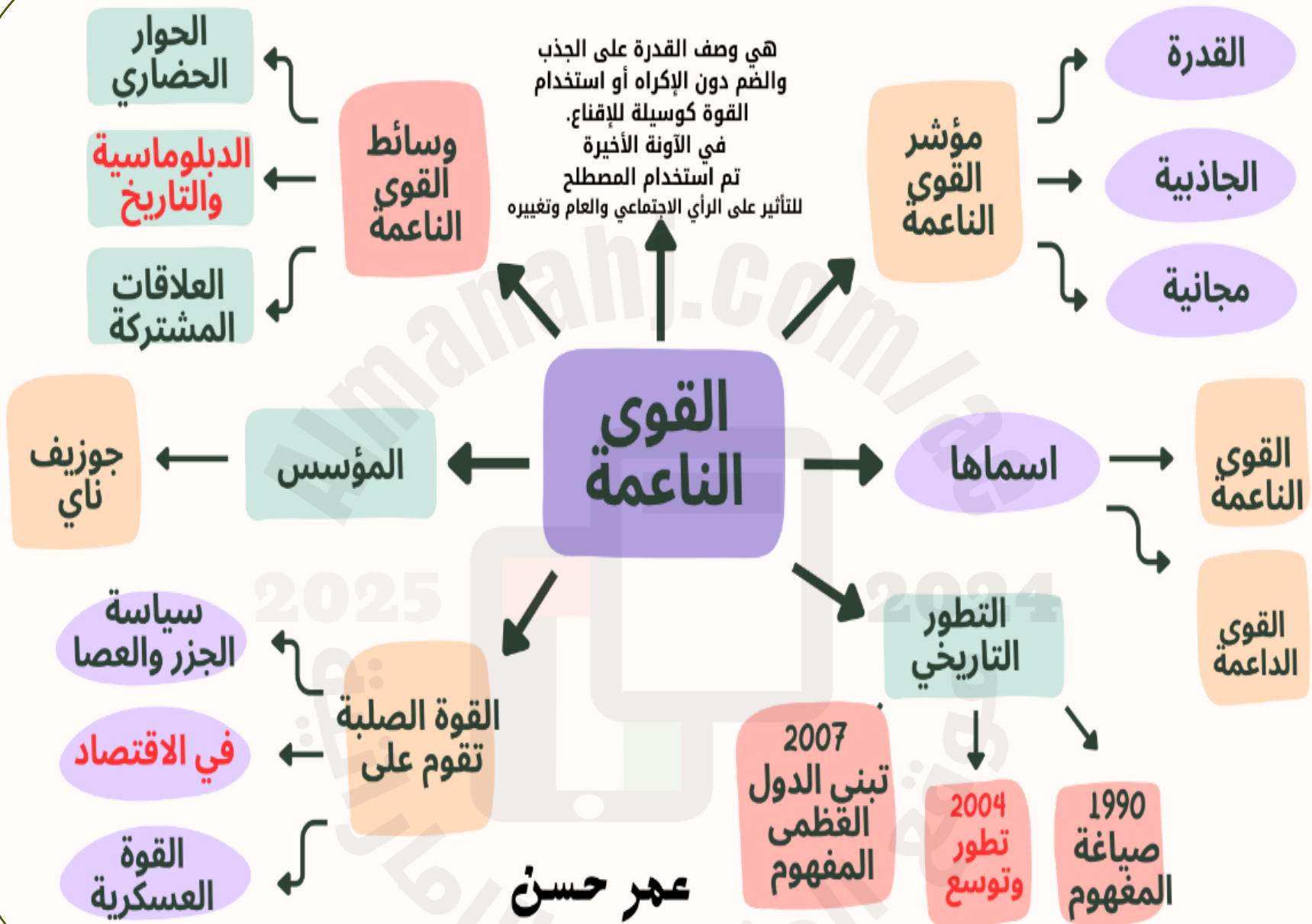


السؤال الخامس

يوظف الاشكال لبيان بعض الأفكار عن القوى الناعمة
الوحدة : الوحدَة الأولى (قضايا وطنية)
نوع السؤال : معلوماتي

عمر





1- ما هو التعريف الأفضل للقوى الناعمة؟

- أ. استخدام القوة العسكرية لتحقيق الأهداف
- ب. القدرة على الجذب والتأثير دون استخدام الإكراه أو القوة
- ج. استخدام القوة الاقتصادية والسياسية
- د. السيطرة على الدول من خلال الوسائل الدبلوماسية

2- من هو مؤسس مفهوم "القوى الناعمة"؟

- أ. جوزيف ناي
- ب. صامويل هنتغتون
- ج. فرانسيس فوكوياما
- د. توماس فريدمان

3- في أي عام تم صياغة مفهوم "القوى الناعمة"؟

- أ. 1990
- ب. 2004
- ج. 2007
- د. 1995

4- ما هي الوسائل التي تعتمد عليها "القوى الناعمة"؟

- أ. القوة العسكرية
- ب. الحوار الحضاري والدبلوماسية
- ج. سياسة الجزر والعصا
- د. الاقتصاد الصلب



نحن
الإمارات
WE THE UAE
2031

عمر



5- أي من الصفات التالية تُعد جزءًا من مؤشر "القوى الناعمة"؟

أ. المجانية والجاذبية

ب. القوة الاقتصادية

ج. الاعتماد على القوة العسكرية

د. سياسة العصا

6- كيف تطور مفهوم "القوى الناعمة" مع مرور الزمن؟

أ. من استخدام القوة العسكرية إلى الجذب الثقافي

ب. من الدبلوماسية إلى القوة الاقتصادية

ج. من الحوار إلى سياسة الجزر والعصا

د. توسع المفهوم وتبني الدول له بين عامي 2004 و 2007

7- أي من الخيارات التالية يمثل "القوى الصلبة"؟

أ. القوة العسكرية

ب. الحوار الحضاري

ج. العلاقات المشتركة

د. الدبلوماسية والتاريخ




نحن
الإمارات
WE THE UAE
2031

عمر



السؤال الخامس

الإجابات



2025

2024

عمر






الإجابة الصحيحة	رقم السؤال
ب	1
أ	2
أ	3
ب	4
أ	5
د	6
	7

السؤال الخامس

يوظف الاشكال لبيان بعض الأفكار عن الامن الوطني
الوحدة : قضايا وطنية
نوع السؤال : معلوماتي

عمر



اقرأ الشكل الآتي، ثم اختر الإجابة الصحيحة من بين البدائل:

10.00 علامة 5 - 1

- خدمة الأمين عبارة عن تواصل الجمهور مع الشرطة لتحقيق الأمن والاستقرار أطلقتها شرطة:

- a. أبوظبي
- b. رأس الخيمة
- c. دبي
- d. الشارقة

نحو مجتمع أمن

تجسد خدمة الأمين ملاماً مثالياً لمجتمع آمن، عبر تواصل الجمهور مع شرطة دبي لتحقيق الأمن والاستقرار، وقد شكّلت الاتصالات الواردة عبر الرقم المجاني لهـ الأمين» التصيب الأكبر من المداخلات التي تصدرت فيها القضايا الجنائية. وتواصل خدمة الأمين عطاءها على صعيد الأمن المجتمعي للعام الثالث عشر على التوالي.

طرق التواصل

495) رسالة عبر الرسائل النصية

4839) اتصالاً عبر الهاتف المجاني (8004888)

5) رسائل عبر الفاكس

1507) رسائل عبر البريد الإلكتروني


طريق حل القضايا

تصنيف الاتصالات حسب نوعها إلى معلومات تسليم الفريق المختص لمناقشتها والتأكد منها

نوع البلاغات

4607 جنائية

163 قضايا إجتماعية



إستعراض سؤال - Google Chrome

sa.moe.gov.ae/Questions/Assessment/Preview/Universal?smtreq=8o9BjaymvAOQEeQDmNVkw+sTzK5o30aOsPRBQGi7lv0uQh98wM7tiuNV9+vhomm2A3nQhmHK/3f1vwJ8kaABZQ==

إستعراض سؤال

بنك الأسئلة < إستعراض سؤال

No Limit

1 - 1

10.00 علامة 5 - 2

اقرأ الشكل الآتي، ثم اختر الإجابة الصحيحة من بين البدائل:

-أكثر الأدوات التي تستخدم للإبلاغ عن الظواهر الأمنية والإجرامية:

a. الاتصال بالهاتف المجاني

b. البريد الإلكتروني

c. الرسائل النصية

d. رسائل الفاكس

نحو مجتمع آمن

تجسد خدمة الأمين ملاذاً مثالياً لمجتمع آمن، عبر تواصل الجمهور مع شرطة دبي لتحقيق الأمن والاستقرار، وقد شكلت الاتصالات الواردة عبر الرقم المجاني «الأمين» النصب الأكبر من المداخلات التي تصدرت فيها القضايا الجنائية. وتواصل خدمة الأمين عطاءها على صعيد الأمن المجتمعي للعام الثالث عشر على التوالي.

طرق التواصل

495) رسالة عبر الرسائل النصية

4839) اتصالاً عبر الهاتف المجاني (8004888)

5) رسائل عبر الفاكس

1507) رسائل عبر البريد الإلكتروني

طريق حل القضايا

تصنيف الاتصالات حسب نوعها إلى معلومات تسليم الفريق المختص


نوع البلاغات

4607 جنائية

163 قضايا إجتماعية

PM 58:7 2021-01-14

اكتب هنا للبحث




اقرأ الشكل الآتي، ثم اختر الإجابة الصحيحة من بين البدائل:

5 - 3 10.00 علامة

- الخطوة الأخيرة لحل القضايا التي ترد عبر خدمة الأمين:

- a. إرشاد المتصلين إلى المحاكم مباشرة
- b. اتخاذ الجهات المختصة الإجراءات اللازمة لحل الشكوى
- c. حفظ الشكوى في الأرشيف
- d. عدم الرد على الشكوى الواردة





إستعراض سؤال - Google Chrome

sa.moe.gov.ae/Questions/Assessment/Preview/Universal?smtreq=8o9BjaymAOQEeQDmNVkw+sTzK5o30aOsPRBQGi7lv0uQh98wM7tiuNV9+vhomm2A3nQhmHK/3f1vwJ8kaABZQ==

إستعراض سؤال

بنك الأسئلة < إستعراض سؤال

No Limit

1 - 1

10.00 علامة 5 - 4

اقرأ الشكل الآتي، ثم اختر الإجابة الصحيحة من بين البدائل:

- بدأت خدمة الأمين عام 2016 ومضى منذ انطلاقتها إلى نهاية عام 2020 ما يقارب:

a. سنتان

b. ثلاث سنوات

c. أربع سنوات

d. سنة واحدة

نحو مجتمع
آمن

تجسد خدمة الأمين ملاذاً مثالياً لمجتمع آمن، عبر تواصل الجمهور مع شرطة دبي لتحقيق الأمن والاستقرار، وقد شكلت الاتصالات الواردة عبر الرقم المجاني «الأمين» النصب الأكبر من المداخلات التي تصدرت فيها القضايا الجنائية. وتواصل خدمة الأمين عطاءها على صعيد الأمن المجتمعي للعام الثالث عشر على التوالي.

طرق التواصل

495) رسالة عبر الرسائل النصية

4839) اتصالاً عبر الهاتف المجاني (8004888)

5) رسائل عبر الفاكس

1507) رسائل عبر البريد الإلكتروني

طريق حل القضايا

تصنيف الاتصالات حسب نوعها إلى معلومات تسليم الفريق المختص


نوع البلاغات

4607 جنائية

163 قضايا اجتماعية

PM 59:7
2021-01-14

اكتب هنا للبحث



اقرأ الشكل الآتي، ثم اختر الإجابة الصحيحة من بين البدائل:

5 - 5 10.00 علامة

- تتعدد أنواع البلاغات التي تصل عبر خدمة الأمين ومنها:


- a. مرورية
- b. أمنية
- c. جنائية
- d. كل ما ذكر




السؤال السادس

يوظف الاشكال لبيان بعض الأفكار عن النمو الحضري
الوحدة : الامارات والعالم
نوع السؤال : معلوماتي

عمر





اقرأ النص والشكل المصاحب ، ثم اختر الإجابة الصحيحة من بين البدائل:

1 - 5 10.00 علامة

- سمي هذا البرج بهذا الاسم تكريماً لصاحب السمو الشيخ:

- a. خليفة بن زايد آل نهيان
- b. زايد بن سلطان آل نهيان
- c. محمد بن راشد آل مكتوم
- d. محمد بن زايد آل نهيان



تم تشييد برج خليفة كمعلم حضاري وناطقة سحاب وسط مدينة دبي، وافتتح بشكل رسمي في 4 يناير 2010، وسمي بهذا الاسم تكريماً لسمو الشيخ خليفة بن زايد آل نهيان حفظة الله رئيس دولة الإمارات، وأطلق عليه اسم المدينة العمودية لأنه يتألف من 200 طابق منها 160 طابق سكني، وتم إكساء الهيكل الخارجي للبرج بطبقة عازلة ليكون مقاوم لحرارة الصيف، ومصاعده هي الأسرع في العالم، فيمقدورها إيصال الزوار إلى الطوابق العلوية بسرعة 10 متر في الثانية، واستغرق بناؤه 22 مليون ساعة عمل، واستخدم 39 ألف طن من الحديد المسلح، واشترك في بنائه 380 مهندس وفني، بلغت تكلفة بناء البرج 1.5 مليار دولار.



Google Chrome - استعراض سؤال

sa.moe.gov.ae/Questions/Assessment/Preview/Universal?smtreq=8o9BjajmVAOQEcQDmNVk6LTfbMxhj19fY9SBiVi1d6Ler7Qqxp0cXGyl9KzaOf3AzjJ00clh8SC2l9w4sDVeg==

إضافة سؤال سيناريو جديد

تفاصيل السؤال

استعراض سؤال

بنك الأسئلة < استعراض سؤال

No Limit

1 - 1

اقرأ النص والشكل والمصاحب ، ثم اختر الإجابة الصحيحة من بين البدائل:

10.00 علامة 5 - 2

- أكمل برج خليفة منذ افتتاحه بشكل رسمي إلى نهاية عام 2020 عامه:

a. السابع

b. الثامن

c. التاسع

d. العاشر

حقائق مذهلة عن برج خليفة

يمكن أن يستوعب برج خليفة ما يصل إلى 35.000 شخص

يضم برج خليفة محطة كهربائية في الطابق 155 تعد الأعلى في العالم

وزن الخرسانة المستخدمة لبناء برج خليفة يعادل وزن 100.000 فيل

كل لوح زجاج في برج خليفة يزن 369 كيلو غرام

يبلغ وزن برج خليفة وهو فارغ 500.000 طن

يطلق على برج خليفة المدينة العمودية ويتسع لـ 900 مسكن

تم تشييد برج خليفة كمعلم حضاري وناطقة سحاب وسط مدينة دبي، وافتتح بشكل رسمي في 4 يناير 2010، وسمي بهذا الاسم تكريماً لسمو الشيخ خليفة بن زايد آل نهيان حفظه الله رئيس دولة الإمارات، وأطلق عليه اسم المدينة العمودية لأنه يتألف من 200 طابق منها 160 طابق سكني، وتم إكساء الهيكل الخارجي للبرج بطبقة عازلة ليكون مقاوم لحرارة الصيف، ومصاعده هي الأسرع في العالم، فبمقدورها إيصال الزوار إلى الطوابق العلوية بسرعة 10 متر في الثانية، واستغرق بناؤه 22 مليون ساعة عمل، واستخدم 39 ألف طن من الحديد المسلح، واشترك في بناؤه 380 مهندس وفني، بلغت تكلفة بناء البرج 1.5 مليار دولار.



اقرأ النص والشكل المصاحب ، ثم اختر الإجابة الصحيحة من بين البدائل:

10.00 علامة 5 - 3

-أطلق على برج خليفة اسم المدينة العامودية لأنه:

- a. لأنه يستوعب ما يصل 53.000 شخص
- b. استغرق بناؤه 22 مليون ساعة عمل
- c. يتألف من 200 طابق منها 160 طابق سكني
- d. اشترك في بنائه 380 مهندس وفني



تم تشييد برج خليفة كمعلم حضاري وناطقة سحاب وسط مدينة دبي ، وافتتح بشكل رسمي في 4 يناير 2010 ، وسعي بهذا الاسم تكريماً لسمو الشيخ خليفة بن زايد آل نهيان حفظه الله رئيس دولة الإمارات ، وأطلق عليه اسم المدينة العامودية لأنه يتألف من 200 طابق منها 160 طابق سكني ، وتم إكساء الهيكل الخارجي للبرج بطبقة عازلة ليكون مقاوم لحرارة الصيف ، ومصاعده هي الأسرع في العالم ، فبمقدورها إيصال الزوار إلى الطوابق العلوية بسرعة 10 متر في الثانية ، واستغرق بناؤه 22 مليون ساعة عمل ، واستخدم 39 ألف طن من الحديد المسلح ، واشترك في بنائه 380 مهندس وفني ، بلغت تكلفة بناء البرج 1.5 مليار دولار.



اقرأ النص والشكل المصاحب ، ثم اختر الإجابة الصحيحة من بين البدائل:

10.00 علامة 5 - 4

- تم إكساء الهيكل الخارجي لبرج خليفة بطبقة عازلة ليكون مقاوم لـ:

- a. الزلازل
- b. الضوضاء
- c. الحرارة
- d. الأعاصير




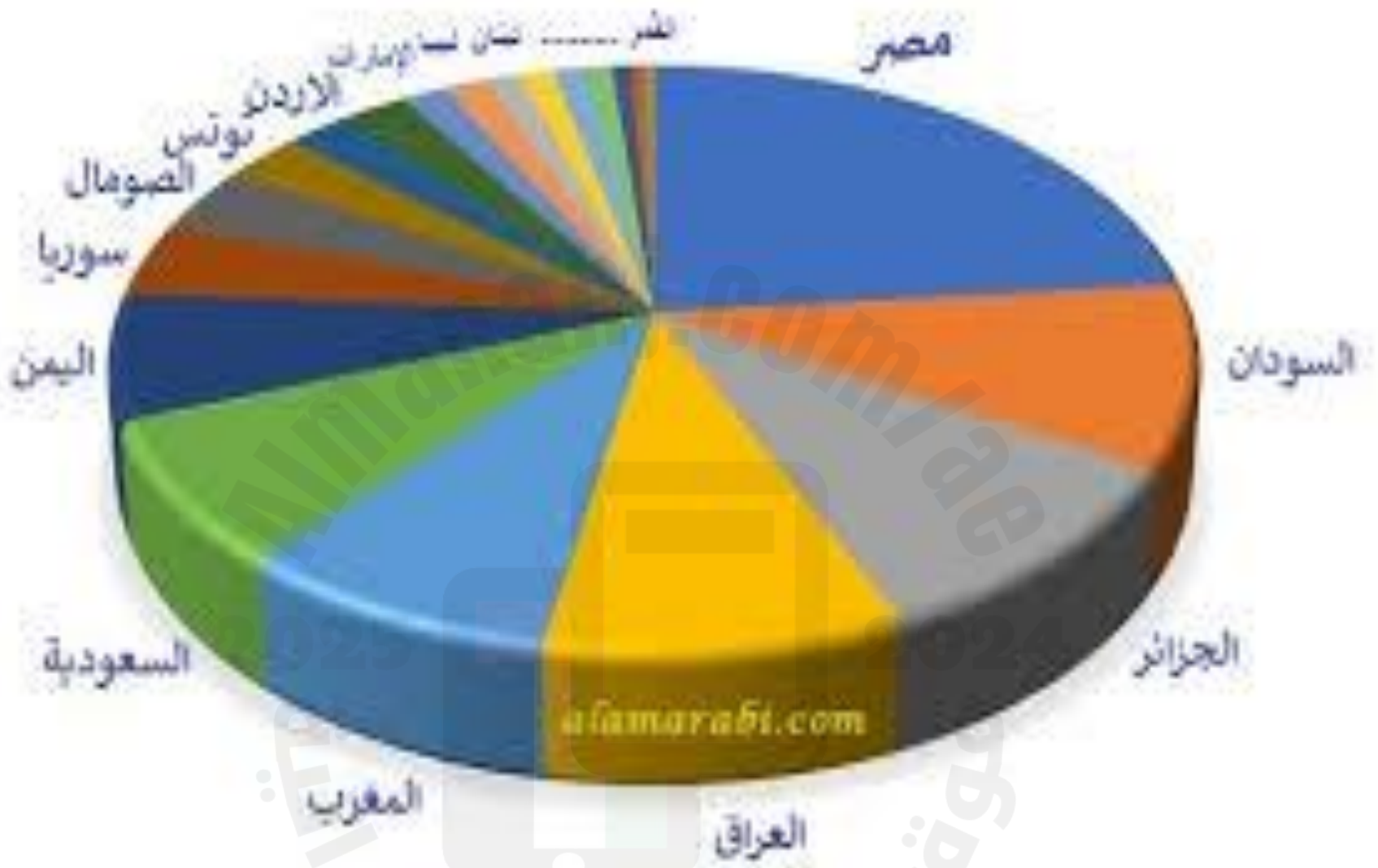
تم تشييد برج خليفة كمعلم حضاري و ناطحة سحاب وسط مدينة دبي ، وافتتح بشكل رسمي في 4 يناير 2010 ، وسمي بهذا الاسم تكريماً لسمو الشيخ خليفة بن زايد آل نهيان حفظه الله رئيس دولة الإمارات ، وأطلق عليه اسم المدينة العمودية لأنه يتألف من 200 طابق منها 160 طابق سكني ، وتم إكساء الهيكل الخارجي للبرج بطبقة عازلة ليكون مقاوم لحرارة الصيف ، ومساعدته هي الأسرع في العالم ، فبمقدورها إيصال الزوار إلى الطوابق العلوية بسرعة 10 متر في الثانية ، واستغرق بناؤه 22 مليون ساعة عمل ، واستخدم 39 ألف طن من الحديد المسلح ، واشترك في بنائه 380 مهندس وفني ، بلغت تكلفة بناء البرج 1.5 مليار دولار.

السؤال السابع

يوظف الاشكال لبيان بعض الأفكار عن النمو الحضري
الوحدة : سكان العالم
نوع السؤال : معلوماتي

عمر





توزيع السكان في العالم العربي 2021

السؤال الأول

أي دولة تشغل أكبر نسبة من هذا الرسم البياني؟

1. السودان
- . المغرب
- . مصر
- . الجزائر

السؤال الثاني:

ما هي الدولة التي تشغل النسبة الثانية من الرسم البياني بعد مصر؟

1. العراق
- . المغرب
- . الجزائر
- . السودان

السؤال الثالث:

ما هي الدولة التي تشغل أقل نسبة في الرسم البياني؟

1. تونس
- . الصومال
- . لبنان
- . الإمارات


السؤال الرابع:

أي الدول التالية تظهر بحجم متساوٍ تقريباً في الرسم البياني؟

1. تونس والصومال
- المغرب واليمن
- الأردن وسوريا
- الجزائر والعراق

السؤال السابع

الإجابات



2025

2024

عمر





رقم السؤال	الإجابة الصحيحة
1	مصر
2	الجزائر
3	الإمارات
4	الجزائر والعراق