

شكراً لتحميلك هذا الملف من موقع المناهج الإماراتية



المراجعة النهائية وفق الهيكل الوزاري

[موقع المناهج](#) ⇨ [المناهج الإماراتية](#) ⇨ [الصف التاسع](#) ⇨ [اجتماعيات](#) ⇨ [الفصل الأول](#) ⇨ [الملف](#)

تاريخ نشر الملف على موقع المناهج: 2023-12-05 13:43:13 | اسم المدرس: عيشة عبد المنعم

التواصل الاجتماعي بحسب الصف التاسع



روابط مواد الصف التاسع على تلغرام

[الرياضيات](#)

[اللغة الانجليزية](#)

[اللغة العربية](#)

[التربية الاسلامية](#)

المزيد من الملفات بحسب الصف التاسع والمادة اجتماعيات في الفصل الأول

[أسئلة الامتحان النهائي برنامج دعم وتمكين](#)

1

[نموذج الهيكل الوزاري](#)

2

[حل أنشطة درس موقع الوطن العربي وأهميته](#)

3

[كتاب الطالب](#)

4

[أسئلة الامتحان النهائي](#)

5



1992
مدرسة الحكمة الخاصة
AL HIKMAH PRIVATE SCHOOL

المراجعة النهائية لهيكله امتحان مادة الدراسات الاجتماعية الصف التاسع - الفصل الدراسي الأول م 2023-2024

موجة الدراسات الاجتماعية

أ/ وفاء حساينين

معلمة الدراسات الاجتماعية

أ/ عيشة عبد المنعم

معرفة مقروء

الإمارات نبض العالم

يتعرف أهمية الدستور والقانون للمجتمع وحقوق الإنسان الأساسية في دولة الإمارات العربية المتحدة

السؤال الثاني : اقرأ النص الأتي ثم أجب عن الأسئلة التالية :

قامت دولة الإمارات العربية منذ نشأتها في 2 ديسمبر 1971م بوضع دستور مؤقت لها , تحول الي دستور دائم في عام 1996 , ويمثل الدستور الإماراتي وثيقة وطنية توضح القواعد الأساسية للتنظيم السياسي في الدولة و الاختصاصات التشريعية والتنفيذية والدولية بين الاتحاد والإمارات الأعضاء فيه ويؤكد الدستور علي الحريات والحقوق والواجبات العامة للمواطنين ويهدف الي النهوض بالبلاد وشعبها إلي المنزلة التي تؤهلها لتبوء المكان اللائق بين الدول . كما تنص المادة 25 من الدستور بأن جميع الأفراد سواء أمام القانون ولا يميز بين مواطني الاتحاد بسبب الأصل أو الموطن أو العقيد الديني أو المركز الاجتماعي ويؤكد الدستور على الاتجاهات الاجتماعية كحمايه كيان الأسرة وصونها من الانحراف وتوفير الرعاية الصحية ووسائل الوقايه والعلاج من الأمراض .

المصدر : دستور دولة الإمارات العربية المتحدة

1 . يعد من الأهداف الوطنية للدستور دولة الإمارات العربية المتحدة
تأييد القضايا العربية الإسلامية
رعاية الأمومه والطفولة
ضمان حق التعليم لكل مواطن
النهوض بالوطن والشعب

2 . من الحقوق العامة التي يكفلها الدستور في دولة الإمارات العربية المتحدة :

المساواة أمام القانون أداء الضرائب الدفاع عن الاتحاد والوطن احترام الدستور

3 . أصبح دستور دولة الإمارات العربية المتحدة دستوراً دائماً بعد مرور من وضعه .

35 عام 22 عام 25 عام 27 عام

4 . تتضمن الفكرة الرئيسية في النص السابق

السلطات الاتحادية لدستور دولة الإمارات العربية المتحدة
الحقوق العامة لدستور دولة الإمارات العربية المتحدة
الدستور في دولة الإمارات العربية المتحدة
الاتجاهات الاجتماعية لدستور دولة الإمارات العربية المتحدة
المتحدة

5 . تيقه وطنية توضح القواعد الأساسية للتنظيم السياسي والاختصاصات التشريعية والتفذييه والدولية .

القانون الأعراف القبلية الدستور الاحكام التشريعية

يعتبر القانون الاتحادي رقم (6) لسنة 2014 الصادر في دولة الإمارات العربية المتحدة بشأن الخدمة الوطنية والاحتياطية، الخطوة الإستراتيجية الأكثر تأثيراً وأهمية في مسيرة الوطن. انطلاقاً من العائد الإستراتيجي الذي ستحققه الخدمة الوطنية على الصعيد السياسي والعسكري والأمني والوطني والاجتماعي والاقتصادي، فالخدمة الوطنية ستساعد الدولة في المقام الأول على المحافظة على سيادتها وأمنها واستقرارها بما يضمن تعزيز مكانتها الإقليمية والعالمية، وعلى الصعيد الأمني ستعزز الخدمة الوطنية القدرات الدفاعية والعسكرية للدولة في مواجهة الأزمات والكوارث، وستساهم أيضاً في تعزيز الحس الأمني لدى المواطنين، وتحصينهم من الأفكار الهدامة وستعرفهم على التهديدات الأمنية التي تحدق بوطنهم داخلياً وخارجياً. أما وطنياً فسترسخ قيم الولاء والانتماء والتضحية لدى أبناء الوطن وستعزز مفهوم المواطنة الصالحة. إن حُب الوطن يحتاج منا جميعاً إلى عمل مخلص وتضحيات جادة، ونحن على ثقة تامة بأن "عيال زايد" على قدر المسؤولية وأنهم قادرين على حمل الأمانة وأنهم - بإذن الله - سيحققون الرفعة لوطنهم، لأن ما سيزرعونه اليوم سيقطف أبنائهم ثماره غداً، لذا عليهم أن يحسنوا الصنيع وأن يبروا بأوطانهم وبقيادتهم وأن يخدموا هذه الدولة بكل ما أوتوا من عزم وقوة.

1 - الفكرة الرئيسية الأنسب للنص هي :

(الخدمة الوطنية شرف عظيم وواجب مقدس - مسيرة وطن - الإلتناء للوطن واجب اختياري للفرد - البطالة تقلل فرص العمل)

2 - تسعى الخدمة الوطنية على الصعيد الأمني إلى :

(التنشئة السليمة والصحية للأفراد - شغل وقت الفراغ للشباب - المحافظة على اللياقة البدنية - تحصين المواطنين من الأفكار الهدامة)

3 - تتجلى مبادئ الولاء والإلتناء والتضحية في نفوس أبناء الوطن من خلال :

(تلبية نداء الواجب رغم كل الظروف - تقديم المساعدات لتحقيق مصلحة ذاتية - الطموحات الشخصية للإرتقاء - الإكتفاء بتقديم المساعدة للأقارب)

4 - يقصد بعيال زايد الواردة في النص :

(أنجال زايد - زوار دولة الإمارات - السكان المقيمون في الدولة - شعب الإمارات)

5 - من مظاهر التعبير عن المواطنة الصالحة :

(المشاركة بالأعمال التطوعية لخدمة الدولة - تجنب مساعدة الآخرين من أفراد المجتمع - احترام الأقارب وأفراد الأسرة فقط - تجاهل القوانين والإجراءات الإحترازية)

تعبر الصورة عن أحد الاتجاهات الواردة في دستور دولة الإمارات العربية المتحدة وهو الاتجاه :

نص الدستور على أن دولة الإمارات العربية المتحدة دولة اتحادية
مستقلة ذات سيادة
يمارس الاتحاد السيادة على جميع الأراضي والمياه الإقليمية
داخل حدود الدولة.
عدم التنازل عن سيادة الاتحاد أو التخلي عن أي جزء من أراضيه
أو مياهه.

a. الوطني

b. الاجتماعي

c. الاقتصادي

d. الإسلامي

- الصورة تعبر عن أحد الواجبات العامة الواردة في دستور دولة الإمارات العربية المتحدة :



a. أداء الضرائب المالية للدولة

b. الحرية الشخصية للأفراد

c. تقديم العون والمساعدة للمتضررين

d. الدفاع عن الوطن وحمايته

معرفة مقروء

الإمارات نبض العالم

يستخلص أسس العلاقة بين دولة الإمارات العربية المتحدة والمملكة العربية
السعودية

السؤال الثاني: اقرأ الشكل الآتي ثم أجب عن الأسئلة؟

السعودية والإمارات

علاقات تجارية قوية بين أكبر اقتصادين عربيين

147% نمو التبادل التجاري بينهما في آخر 10 سنوات



www.al-ain.com 2019-2020



واردات سعودية من الإمارات في 2018

- معادن ثمينة
- سيارات
- أجزاء سيارات
- منتجات معدنية

www.al-ain.com 2019-2020

مدينة الرياض.. وجهة سكنية متكاملة

سيكون مشروع تطوير «مدينة الرياض» أول مشروع سكني لشركة «مدن العقارية» إذا سلّطت الشركة بتطوير الخطة العام للمشروع خلال المرحلة المقبلة، كمتجمع حديث متكامل ومستدام.

200 ألف نسمة الطاقم الاستيعابية للمدينة مع نهاية العمل بالمشروع

8 آلاف حكر المساحة الإجمالية لمشروع مدينة الرياض

المكان: قراية: حزام الحدياق

45% من إجمالي الأراضي السكنية في أبوظبي

مطابق 85% من مساحة جزيرة أبوظبي

مراكز طبية ومراكز صحية وترفيهية وأماكن الترفيه العالمية في الأحياء

مستشفيات ومراكز ومراكز

مجموعة متكاملة من المرافق العامة

أجزاء سكنية وشققات مدرّجة

مراقب المشروع:



صادرات سعودية للإمارات في 2018

- منتجات معدنية
- لدائن
- كيماويات
- أجهزة

المصدر: الهيئة العامة للإحصاء السعودي

1- الرابط المشترك بين البلدين الذي يمكنك من سهولة التجارة بين البلدين دون حواجز أو عوائق

أ- الدين الإسلامي ب- اللغة العربية ج- الوحدة الجغرافية د- العادات والتقاليد

2- تبلغ مساحة مدينة الرياض وفقاً للشكل 45% من المساحة السكنية لمدينة :

أ- دبي ب- الشارقة ج- جدة د- أبو ظبي

3- بلغت نسبة نمو التبادل التجاري بين الإمارات والسعودية في آخر عشر سنوات :

أ- 45% ب- 100% ج- 147% د- 200%

4- ازداد حجم التبادل التجاري بين الإمارات والسعودية من عام 2009 إلى عام 2018 بمقدار:

أ- 11.39 مليار ب- 16.55 مليار ج- 16.74 مليار د- 28.13 مليار

5- يعد التبادل التجاري بين الإمارات والسعودية الأعلى على مستوى :

أ- الدول الأوروبية ب- الدول الآسيوية ج- دول مجلس التعاون د- العالم



بالارقام

السعودية والإمارات تحالف صناعي تجاري

- الإمارات من أهم الشركاء التجاريين للسعودية بحجم تبادل تجاري يصل إلى 22 مليار درهم
- العلاقة التجارية والاقتصادية بينهما الأكبر من بين مثيلاتها في دول الخليج
- الإمارات تصدر الدول الخليجية المصدرة والمستوردة من السعودية

35 مليار درهم
الاستثمارات السعودية في الإمارات

206

مشاريع

سعودية في الإمارات

▼



66

وكالة تجارية

سعودية في الإمارات

▼



2366

شركة سعودية

مستقلة في الإمارات

▼



114 عدد المشاريع الإماراتية المشتركة في السعودية

برأسمال 15 مليار ريال

100 مليار ريال

- تكلفة إطلاق مدينة الملك عبد الله الاقتصادية وتمثل نقلة في العلاقات الاقتصادية بين البلدين
- تجمع إماراتي سعودي بقيادة إعمار الإماراتية لتنفيذ المشروع على ساحل البحر الأحمر



«تحالف المستقبل»



الطاقة المتجددة في الإمارات والسعودية

التحالف يشمل



الطاقة الشمسية



طاقة الرياح



إدارة وتحلية المياه

خبرات سعودية

مدينة الملك عبد الله للطاقة الذرية
تأسست عام 2010

مشاريع تحلية المياه بالاعتماد على العلوم والأبحاث والصناعات المتقدمة

خبرات إماراتية

شركة أبوظبي لطاقة المستقبل مصدر مبادرة أبوظبي للطاقة المتجددة والتقنيات النظيفة شركة مبادلة للتنمية



www.al-ain.com
2016 - 2017

بلغ عدد المشاريع الإماراتية في السعودية
114 مشروعاً برأس مال حوالي:



a. 10 مليار ريال



b. 15 مليار ريال



c. 18 مليار ريال



d. 25 مليار ريال



تجمع إماراتي سعودي بقيادة شركة إعمار
الإماراتية لتنفيذ المشروع على ساحل :



a. البحر الأحمر



b. خليج العقبة



c. الخليج العربي



d. بحر العرب



«تحالف المستقبل»



الطاقة المتجددة في الإمارات والسعودية

التحالف يشمل



الطاقة الشمسية



طاقة الرياح



إدارة وتحلية المياه

خبرات سعودية

مدينة الملك عبد الله للطاقة الذرية
تأسست عام 2010

مشاريع تحلية المياه بالاعتماد على
العلوم والأبحاث والصناعات المتقدمة

خبرات إماراتية

شركة أبوظبي لطاقة المستقبل مصدر
مبادرة أبوظبي للطاقة المتجددة
والتقنيات النظيفة

شركة مبادلة للتنمية

www.al-ain.com
2016 - 2017



الإمارات من أهم الشركاء التجاريين للسعودية
إذ بلغ حجم التبادل التجاري بينها حوالي:



a. 18 مليار درهم



b. 20 مليار درهم



c. 22 مليار درهم



d. 24 مليار درهم



تحالف مستقبل الطاقة المتجددة بين الإمارات والسعودية يشمل:



a. طاقة الرياح



b. مياه الأودية



c. الوقود الأحفوري (النفط)



d. طاقة مياه الأنهار



35
مليار درهم
الاستثمارات السعودية
في الإمارات

206 مشاريع سعودية في الإمارات	66 وكالة تجارية سعودية في الإمارات	2366 شركة سعودية مسجلة في الإمارات
▼	▼	▼

114
عدد المشاريع الإماراتية
المشاركة في السعودية

برأسمال 15 مليار ريال

100 مليار ريال

تكلفة إطلاق مدينة الملك عبد الله الاقتصادية وتمثل نقلة في العلاقات الاقتصادية بين البلدين

تجمع إماراتي سعودي بقيادة إعمار الإماراتية لتنفيذ المشروع على ساحل البحر الأحمر



«تحالف المستقبل» الطاقة المتجددة في الإمارات والسعودية

التحالف يشمل

الطاقة الشمسية

طاقة الرياح

إدارة وتحلية المياه

خبرات سعودية

مدينة الملك عبد الله للطاقة الذرية
تأسست عام 2010

مشاريع تحلية المياه بالاعتماد على
العلوم والأبحاث والصناعات المتقدمة

خبرات إماراتية

شركة أبوظبي لطاقة المستقبل مصدر
مبادرة أبوظبي للطاقة المتجددة
والتقنيات النظيفة

شركة مبادلة للتنمية

www.al-ain.com
2016 - 2017

تأسست مدينة الملك عبد الله للطاقة الذرية
عام:



2008 .a



2010 .b



2012 .c



2014 .d



المجلس التنسيقي الإماراتي السعودي:

وقّعت المملكة العربية السعودية ودولة الإمارات العربية المتحدة في قصر السلام بجدة على محضر إنشاء مجلس تنسيق بينهما وذلك بحضور خادم الحرمين الشريفين الملك سلمان بن عبدالعزيز آل سعود، وصاحب السمو الشيخ محمد بن زايد آل نهيان ولي عهد أبوظبي نائب القائد الأعلى للقوات المسلحة - حفظهما الله، ويهدف المجلس إلى التشاور والتنسيق في الأمور والمواضيع ذات الاهتمام المشترك في المجالات كافة.

يعتبر إطلاق مدينة الملك عبدالله الاقتصادية بتكلفته تتجاوز 100 مليار ريال ثقلة مهمة في العلاقات الاقتصادية بين البلدين حيث تم تشكيل تجمع إماراتي سعودي بقيادة شركة " إعمار " الإماراتية ووبالتحالف مع شركات سعودية لتنفيذ المشروع علي ساحل البحر الأحمر .

المصدر : البيان



33

مليار درهم واريات المملكة من الإمارات



16.5

مليار درهم الصادرات السعودية إلى الإمارات



10

مليارات دولار حجم الاستثمارات السعودية في الإمارات



9

مليارات دولار استثمارات الإمارات في المملكة



206

عدد المشاريع السعودية في الإمارات



114

عدد المشاريع الإماراتية في السعودية



2360

شركة سعودية تمارس انشطتها الاستثمارية في الإمارات

1 . تجمع إماراتي سعودي بقيادة شركة إعمار الإماراتية لتنفيذ مشروع علي ساحل

الخليج العربي البحر الاحمر بحر العرب خليج العقبة

2 . وقعت دولة الإمارات العربية المتحدة والمملكة العربية السعودية علي محضر المجلس التنسيقي الإماراتي السعودي في مدينة

جدة الشارقة الرياض ابوظبي

3 . بلغ حجم استثمارات الامارات في المملكة العربية السعودية

6 مليارات دولار 9 مليارات دولار 10 مليارات دولار 8 مليارات دولار

4 . أصبح عدد المشاريع السعوديه في دولة الإمارات 206 مشروع سعودي تعد هذه العبارة

حقيقة سياسية حقيقة اقتصادية حقيقة جغرافية توقع

5 . تعد مدينة الملك عبدالله الاقتصادية نقلة اقتصادية بين البلدين التي تجاوز تكلفتها

100 مليار ريال 200 مليار ريال 300 مليار ريال 1000 مليار ريال

- محتوى الصورة يعبر عن أهداف الشراكة الإماراتية - السعودية في المجال :



a. الاقتصادي

b. السياسي

c. الاجتماعي

d. الأمني

معلوماتي مقروء
(خرائط وأشكال)

الملامح الطبيعية للوطن
العربي

يتعرف على الوطن العربي من حيث الخصائص والتحديات التي تفرضها طبيعته
الجغرافية

- عدد خطوط الطول التي يمتد عليها الوطن العربي تبلغ :

- a. 60
- b. 17
- c. 77
- d. 39

- من الظواهر الطبيعية التي تحد الوطن العربي من جهة الشرق :

- a. البحر المتوسط وجبال طوروس
- b. البحر المتوسط وجبال زاغروس
- c. الصحراء الكبرى والمحيط الأطلنطي
- d. جبال زاغروس والخليج العربي

يتمتع الوطن العربي بحدود طبيعية تعد من أفضل الحدود من حيث فلة الزراعات مع الدول الأخرى ، فهو يمتد بين خطي طول 17 غرباً إلى 60 شرقاً ، وبين دائرتي عرض 2 درجة جنوباً باستثناء جمهورية جزر القمر على المحيط الهندي إلى 37 درجة شمالاً على البحر المتوسط وجبال طوروس، ومن المحيط الأطلنطي غرباً إلى الخليج العربي وبحر عمان وجبال زاغروس شرقاً، ويشرف الوطن العربي على مضائق مائية مهمة ، مثل مضيق باب المندب ومضيق هرمز الذي يصل بين الخليج العربي وبحر عمان، وبعد طريقاً للتجارة، ومهداً للدبابات السماوية وتنوع موارده وثرواته خاصة بعد اكتشاف النفط والمعادن نتيجة اتساع مساحته وتنوع صحوره وتضاريسه التي ساهمت مجموعة من العوامل الداخلية والخارجية في تكوينها مثل: درجات الحرارة والزلازل والمياه والحركات التوائية والرياح

- تتنوع الموارد المعدنية والثروات الطبيعية في الوطن العربي نتيجة :

a. اتساع مساحته

b. ضيق مساحته

c. تشابه صخوره

d. تداخل بين توزيع اليابس والماء

- من العوامل الخارجية التي أسهمت في تشكيل تضاريس الوطن العربي :

a. الحركات الانكسارية

b. الحركات الإلتوائية

c. الزلازل

d. الرياح

يتمتع الوطن العربي بحدود طبيعية تعد من أفضل الحدود من حيث قلة النزاعات مع الدول الأخرى ، فهو يمتد بين

خطي طول 17 غرباً إلى 60 شرقاً ، وبين دائرتي عرض 2 درجة جنوباً باستثناء جمهورية جزر القمر على المحيط

الهندي إلى 37 درجة شمالاً على البحر المتوسط وجبال طوروس، ومن المحيط الأطلسي غرباً إلى الخليج العربي

وبحر عمان وجبال زاغروس شرقاً، ويشرف الوطن العربي على مضائق مائية مهمة ، مثل مضيق باب المندب

ومضيق هرمز الذي يصل بين الخليج العربي وبحر عمان، وبعد طريقاً للتجارة، ومهداً للديانات السماوية وتنوع

موارده وثرواته خاصة بعد اكتشاف النفط والمعادن نتيجة اتساع مساحته وتنوع صخوره وتضاريسه التي ساهمت

مجموعة من العوامل الداخلية والخارجية في تكوينها مثل: درجات الحرارة والزلازل والمياه والحركات الإلتوائية والرياح

- الدولة العربية المشار إليها بالسهم على الخريطة التي أمامك هي :



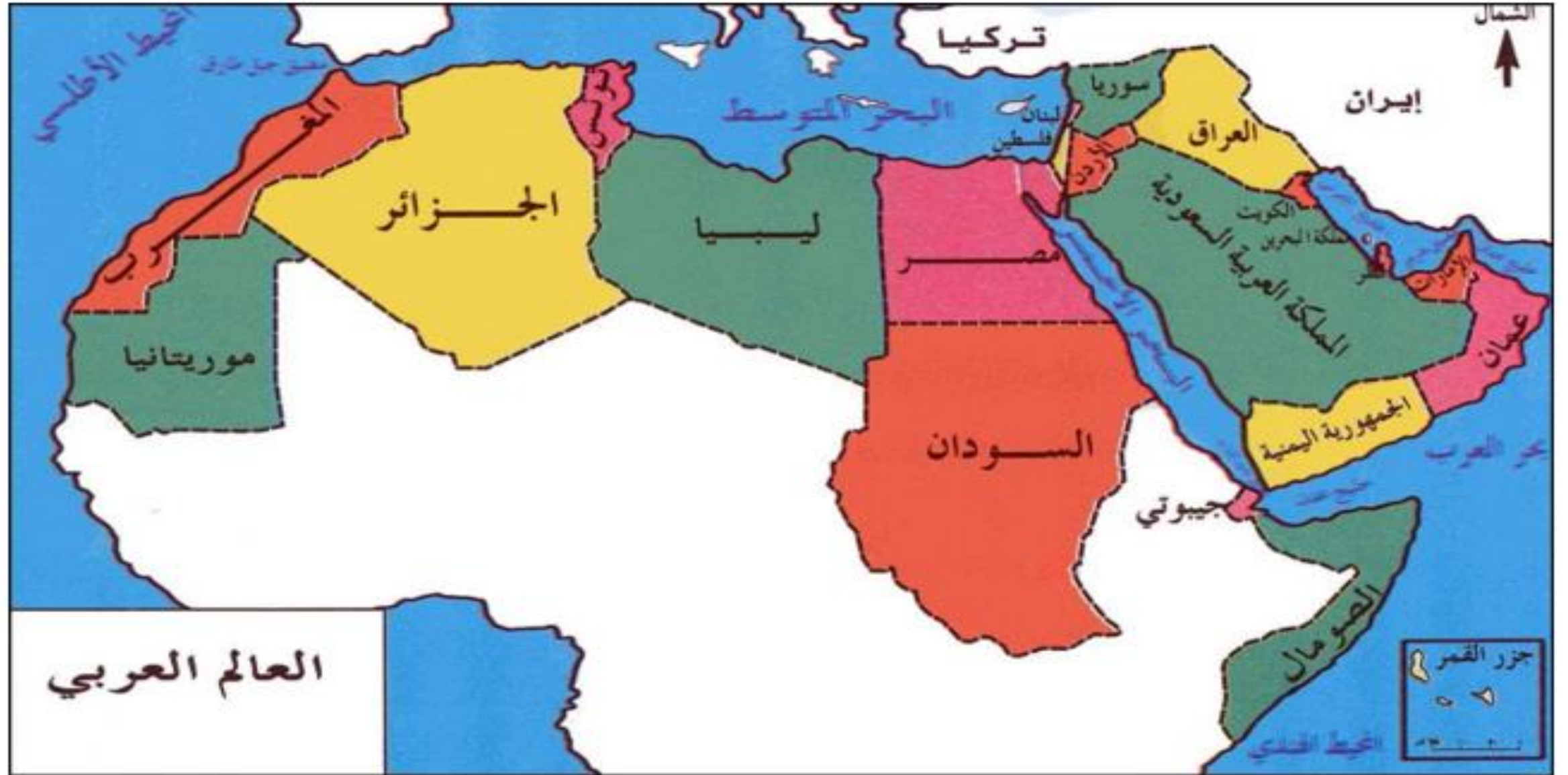
a. دولة الكويت

b. دولة الإمارات العربية المتحدة

c. المملكة العربية السعودية

d. سلطنة عمان

السؤال الثاني : اقرأ الخريطة التي أمامك ثم أجب عن الأسئلة التالية :



العالم العربي

1 . يبلغ عدد الدول العربية

20 دولة

21 دولة

22 دولة

23 دولة

2 . المسطح المائي الذي يتوسط جناحي الوطن العربي الافريقي والاسيوي

الخليج العربي

البحر الاحمر

بحر العرب

المحيط الاطلنطي

3 . اصغر الدول العربية من حيث المساحة

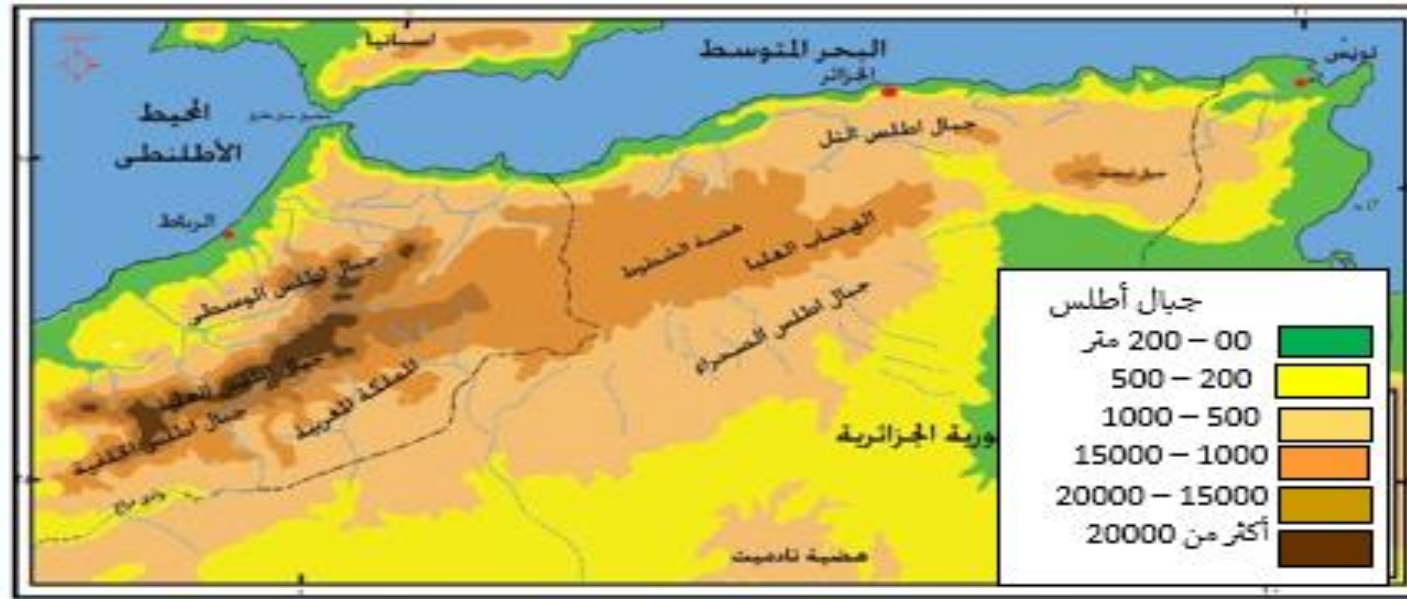
البحرين	الكويت	الامارات	عمان
---------	--------	----------	------

4 . يقع الخليج العربي بالنسبة للدول العربية في جهة

الجنوب	الغرب	الشرق	الشمال
--------	-------	-------	--------

5 . الدولة العربية التي تمدت اراضيها في الجناح الأفريقي و الآسيوي

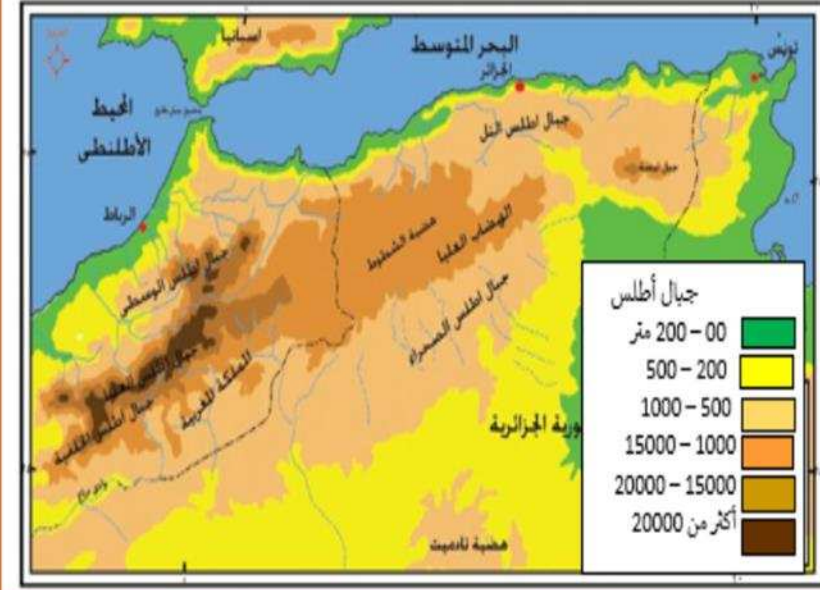
الأردن	مصر	فلسطين	السودان
--------	-----	--------	---------



اكتسب الوطن العربي بسبب موقعه الجغرافي أهمية كبرى، حيث يطل على مسطحات مائية هامة ويتحكم في مضائق وممرات، ويعد مضيق هرمز المسيطر على حركة تصدير النفط من دول الخليج العربي، وتدفق النفط في الوطن العربي بكميات كبيرة أكسبه أهمية كبيرة في أوقات السلم الحرب، مما أدى إلى تنافس وتصارع القوى السياسية الكبيرة عليه، ووقوع الوطن العربي بين النطاق المداري الحار، والنطاق البارد إقليم البحر المتوسط، جعله منطقة يحظى بما تنتجه كل منطقة من منتجات مميزة خاصة بها. وبسبب ضخامة الإنتاج العربي للنفط وضخامة الاحتياطي أصبح الوطن العربي يشارك في التجارة العالمية بما لا يقل عن 20% من الإنتاج العالمي للنفط، وتتنوع الخامات المعدنية في الوطن العربي بسبب تعدد التراكيب الجيولوجية، كما يتميز الوطن العربي بكثرة سواحله على البحار ما أكسبه أهمية اقتصادية كبيرة إذا يتمتع بالعديد من الموانئ التجارية التي يكثر فيها صيد الأسماك، وسهولة اتصاله بالعالم الخارجي.

الممر المائي الذي يربط بين المحيط الاطلنطي والبحر المتوسط هو:

- a. مضيق جبل طارق
- b. مضيق هرمز
- c. قناة السويس
- d. مضيق باب المندب



اكتسب الوطن العربي بسبب موقعه الجغرافي أهمية كبرى، حيث يطل على مسطحات مائية هامة ويتحكم في مضائق وممرات، ويعد مضيق هرمز المسيطر على حركة تصدير النفط من دول الخليج العربي، وتدفق النفط في الوطن العربي بكميات كبيرة أكسبه أهمية كبيرة في أوقات السلم الحرب، مما أدى إلى تنافس وتصارع القوى السياسية الكبيرة عليه، ووقوع الوطن العربي بين النطاق المداري الحار، والنطاق البارد إقليم البحر المتوسط، جعله منطقة يحظى بما تنتجه كل منطقة من منتجات مميزة خاصة بها. وبسبب ضخامة الإنتاج العربي للنفط وضخامة الاحتياطي أصبح الوطن العربي يشارك في التجارة العالمية بما لا يقل عن 20% من الإنتاج العالمي للنفط، وتتنوع الخامات المعدنية في الوطن العربي بسبب تعدد التراكيب الجيولوجية، كما يتميز الوطن العربي بكثرة سواحل على البحار ما أكسبه أهمية اقتصادية كبيرة إذا يتمتع بالعديد من الموانئ التجارية التي يكثر فيها صيد الأسماك، وسهولة اتصاله بالعالم الخارجي.

تتنافس القوى السياسية الكبرى على الوطن العربي بسبب توافر :



a. مصادد الأسماك



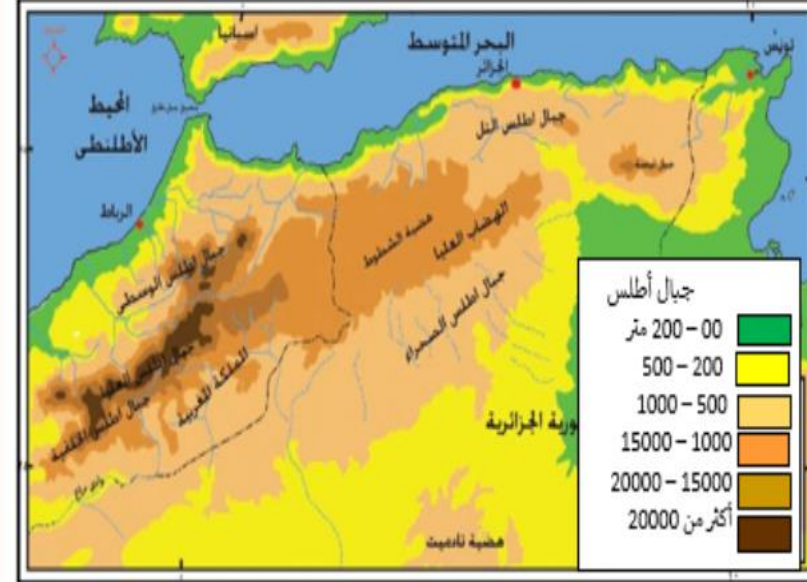
b. النفط



c. المناطق الأثرية



d. الثروة الحيوانية



اكتسب الوطن العربي بسبب موقعه الجغرافي أهمية كبرى، حيث يطل على مسطحات مائية هامة ويتحكم في مضائق وممرات، ويعد مضيق هرمز المسيطر على حركة تصدير النفط من دول الخليج العربي، وتدفق النفط في الوطن العربي بكميات كبيرة أكسبه أهمية كبيرة في أوقات السلم الحرب، مما أدى إلى تنافس وتصارع القوى السياسية الكبيرة عليه، ووقوع الوطن العربي بين النطاق المداري الحار، والنطاق البارد إقليم البحر المتوسط، جعله منطقة يحظى بما تنتجه كل منطقة من منتجات مميزة خاصة بها. وبسبب ضخامة الإنتاج العربي للنفط وضخامة الاحتياطي أصبح الوطن العربي يشارك في التجارة العالمية بما لا يقل عن 20% من الإنتاج العالمي للنفط، وتتنوع الخامات المعدنية في الوطن العربي بسبب تعدد التراكيب الجيولوجية، كما يتميز الوطن العربي بكثرة سواحله على البحار ما أكسبه أهمية اقتصادية كبيرة إذا يتمتع بالعديد من الموانئ التجارية التي يكثر فيها صيد الأسماك، وسهولة اتصاله بالعالم الخارجي.

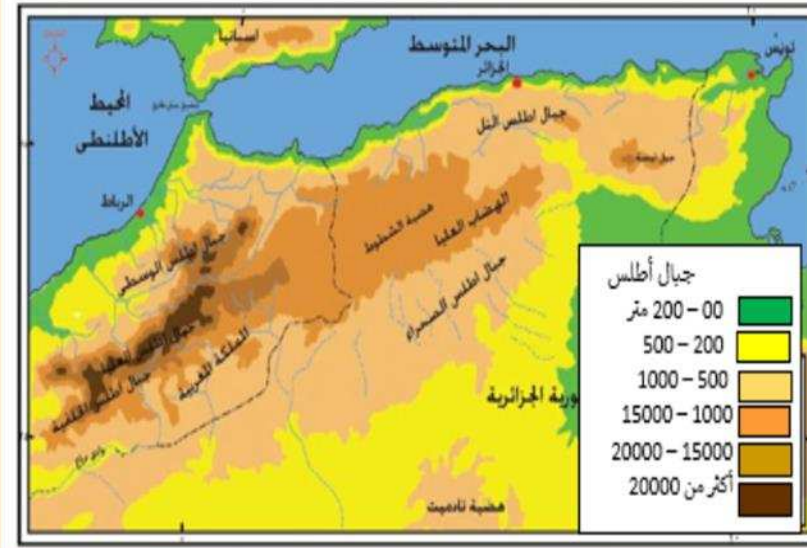
دائرة العرض الرئيسية التي تمر في وسط الوطن العربي:

a. الدائرة القطبية الشمالية

b. خط الاستواء

c. مدار الجدي

d. مدار السرطان



اكتسب الوطن العربي بسبب موقعه الجغرافي أهمية كبرى، حيث يطل على مسطحات مائية هامة ويتحكم في مضائق وممرات، ويعد مضيق هرمز المسيطر على حركة تصدير النفط من دول الخليج العربي، وتدفق النفط في الوطن العربي بكميات كبيرة أكسبه أهمية كبيرة في أوقات السلم الحرب، مما أدى إلى تنافس وتصارع القوى السياسية الكبيرة عليه، ووقوع الوطن العربي بين النطاق المداري الحار، والنطاق البارد إقليم البحر المتوسط، جعله منطقة يحظى بما تنتجه كل منطقة من منتوجات مميزة خاصة بها. وبسبب ضخامة الإنتاج العربي للنفط و ضخامة الاحتياطي أصبح الوطن العربي يشارك في التجارة العالمية بما لا يقل عن 20% من الإنتاج العالمي للنفط، وتتنوع الخامات المعدنية في الوطن العربي بسبب تعدد التراكيب الجيولوجية، كما يتميز الوطن العربي بكثرة سواحل على البحار ما أكسبه أهمية اقتصادية كبيرة إذا يتمتع بالعديد من الموانئ التجارية التي يكثر فيها صيد الأسماك، وسهولة اتصاله بالعالم الخارجي.

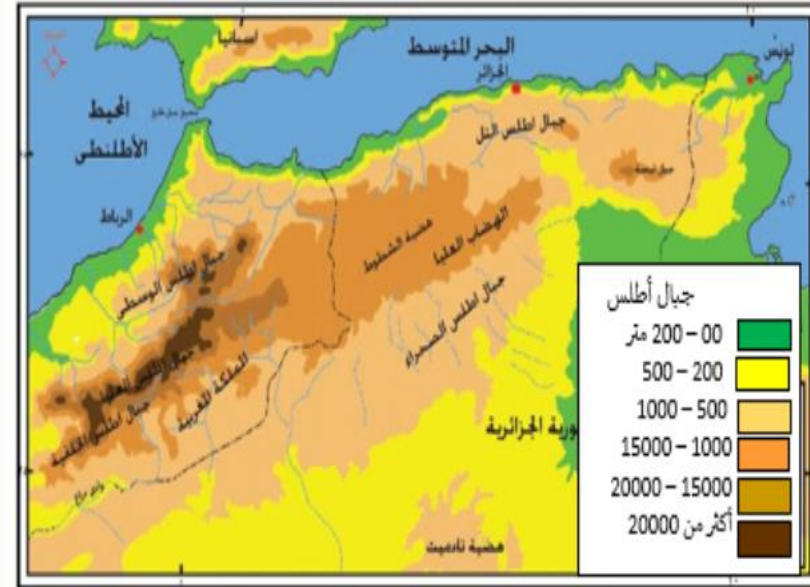
تتنوع الخامات المعدنية في الوطن العربي بسبب:

a. تعدد التراكيب الجيولوجية

b. وجود الصحاري

c. صغر المساحة

d. توافر الأيدي العاملة



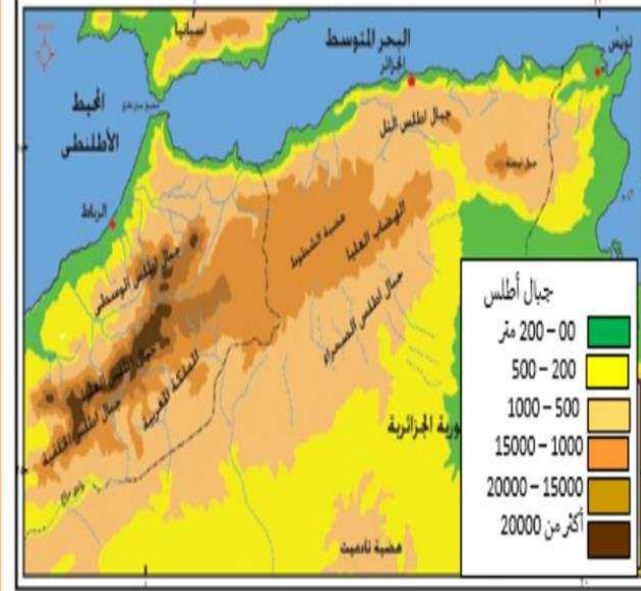
اكتسب الوطن العربي بسبب موقعه الجغرافي أهمية كبرى، حيث يطل على مسطحات مائية هامة ويتحكم في مضائق وممرات، ويعد مضيق هرمز المسيطر على حركة تصدير النفط من دول الخليج العربي، وتدفق النفط في الوطن العربي بكميات كبيرة أكسبه أهمية كبيرة في أوقات السلم الحرب، مما أدى إلى تنافس وتصارع القوى السياسية الكبيرة عليه، ووقوع الوطن العربي بين النطاق المداري الحار، والنطاق البارد إقليم البحر المتوسط، جعله منطقة يحظى بما تنتجه كل منطقة من منتجات مميزة خاصة بها. وبسبب ضخامة الإنتاج العربي للنفط و ضخامة الاحتياطي أصبح الوطن العربي يشارك في التجارة العالمية بما لا يقل عن 20% من الإنتاج العالمي للنفط، وتتنوع الخامات المعدنية في الوطن العربي بسبب تعدد التراكيب الجيولوجية، كما يتميز الوطن العربي بكثرة سواحله على البحار ما أكسبه أهمية اقتصادية كبيرة إذا يتمتع بالعديد من الموانئ التجارية التي يكثر فيها صيد الأسماك، وسهولة اتصاله بالعالم الخارجي.



السعودية



العراق



اكتسب الوطن العربي بسبب موقعه الجغرافي أهمية كبرى، حيث يطل على مسطحات مائية هامة ويتحكم في مضائق وممرات، ويعد مضيق هرمز المسيطر على حركة تصدير النفط من دول الخليج العربي، وتدفق النفط في الوطن العربي بكميات كبيرة أكسبه أهمية كبيرة في أوقات السلم الحرب، مما أدى إلى تنافس وتصارع القوى السياسية الكبيرة عليه، ووقوع الوطن العربي بين النطاق المداري الحار، والنطاق البارد إقليم البحر المتوسط، جعله منطقة يحظى بما تنتجه كل منطقة من منتجات مميزة خاصة بها. وبسبب ضخامة الإنتاج العربي للنفط وضخامة الاحتياطي أصبح الوطن العربي يشارك في التجارة العالمية بما لا يقل عن 20% من الإنتاج العالمي للنفط، وتنوع الخامات المعدنية في الوطن العربي بسبب تعدد التركيب الجيولوجية، كما يتميز الوطن العربي بكثرة سواحله على البحار ما أكسبه أهمية اقتصادية كبيرة إذا يتمتع بالعديد من الموانئ التجارية التي يكثر فيها صيد الأسماك، وسهولة اتصاله بالعالم الخارجي.



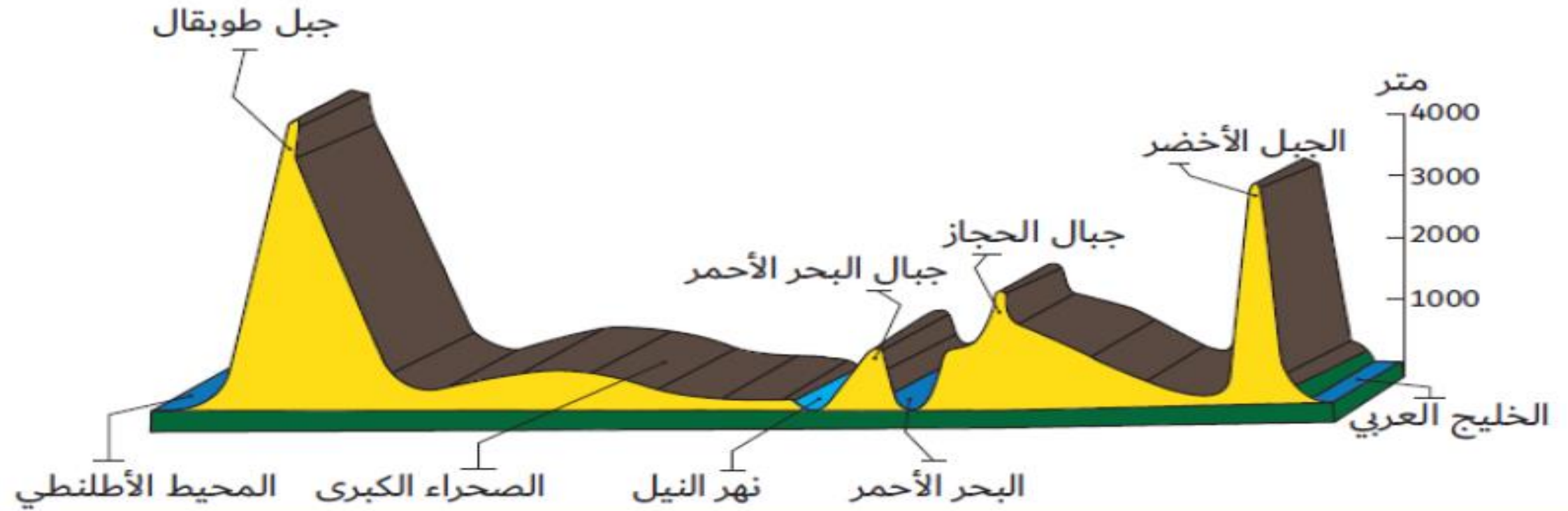
الصومال



موريتانيا



تأمل الشكل الظاهر في الصورة ثم أجب عن الأسئلة التي تليه

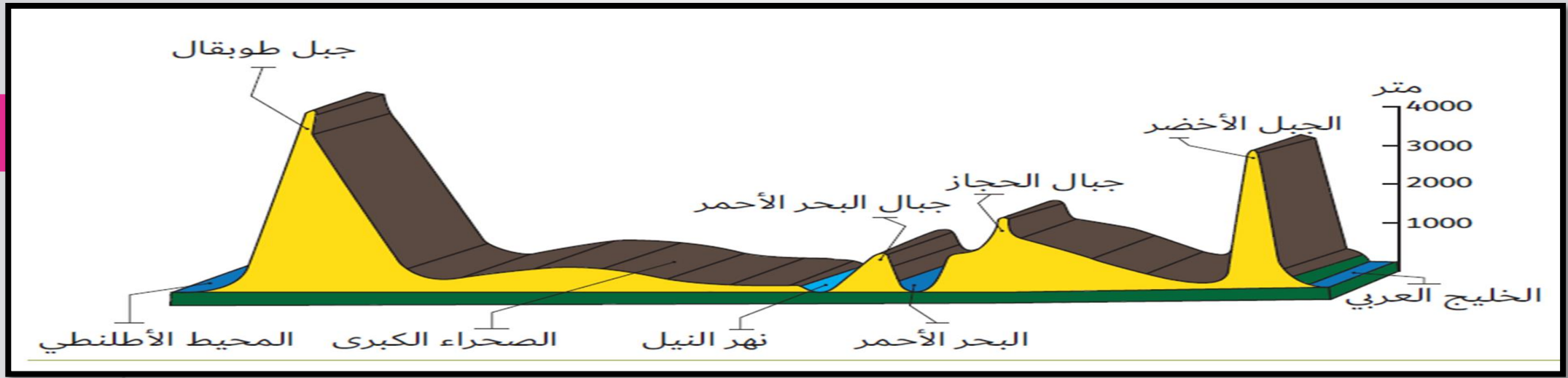


1 - الشكل الظاهر امامنا في الصورة يمثل :

أ - مسطح مائي ب - شاطئ بحر ج - مقطع تضاريسي . د - خارطة الوطن العربي

2 - أسماء الجبال التي يزيد ارتفاعها عن 3000 م في الشكل السابق :

أ - جبال الحجاز . ب - جبال البحر الأحمر ج - قمة افرست د - الجبل الأخضر وجبل طوبقال .



3 - يقع نهر النيل في الشكل السابق بين كل من :

أ - الخليج العربي والبحر الأحمر .

ج - الصحراء الكبرى والمحيط الأطلنطي

ب - البحر الأحمر والصحراء الكبرى

د - الجبل الأخضر وجبال البحر الأحمر .

4 - يظهر الشكل السابق أن أكثر الجبال ارتفاعا :

أ - الجبل الأخضر . ب - جبال الهملايا

5 - يجاور جبل طوبقال من جهة الغرب :

أ - الصحراء الكبرى .

ج - الصحراء الكبرى والمحيط الأطلنطي

ج - جبل طوبقال د - جبال البحر الأحمر

ب - المحيط الأطلنطي

د - جبال البحر الأحمر

السؤال الأول: اقرأ الخريطة الأتية ثم أجب عن الأسئلة



1- دائرة العرض الرئيسية التي تمر بدولة الإمارات العربية المتحدة :

أ- خط الاستواء ب- مدار الجدي ج- مدار السرطان د- الدائرة القطبية الشمالية

2- المناخ السائد في دولة الإمارات العربية المتحدة :

أ- الاستوائي ب- المداري ج- الصحراوي د- البحر المتوسط

3- يتميز مناخ البحر المتوسط:

أ-دافئ صيفا بارد شتاء ب- بارد صيفا ممطر شتاء ج- ممطر صيف بارد شتاء د- حار جاف صيفا دافئ ممطر شتاء

4- يسود المناخ الاستوائي في الوطن العربي:

أ-السعودية ب- الأردن ج- جنوب الصومال د- شمال ليبيا

5- الدولة المشار إليها بالحرف (A) :

أ- إيران ب- تركيا ج- ايطاليا د- اليونان



نجد عبارة عن هضبة من رمال صحراء الدهناء شرقاً، وحدود الربع الخالي جنوباً، بينما يحدها من الغرب جبال الحجاز ومن الجنوب الغربي مرتفعات عسير، ومعنى نجد المكان المستوي المرتفع عن سطح البحر. و يتراوح ارتفاع هضبة نجد ما بين 762 و 1656 متر فوق سطح البحر حيث يعتبر جبل حُضن أعلى نقطة في نجد كلها، وتتسم معظم أرجاء نجد بالجفاف والوعورة. وتشق نجد العديد من الأودية التي تحتفظ بالماء بعد

نزول الأمطار في فصل الربيع مما يسمح بالزراعة، ومن أشهر أوديتها وادي الرمة في القصيم الذي يغوص في رمال صحراء الدهناء ليظهر على الجانب الآخر باسم وادي الباطن حيث توجد بعض أكبر المراعي في الجزيرة العربية في فصل الربيع، ووادي الخرج، ووادي تربة ويبلغ طوله حوالي 350 كلم. ووادي الدواسر في أقصى جنوب نجد.

يعتبر جبل حرضن أعلى نقطة في نجد كلها إذ يصل ارتفاعه فوق سطح البحر إلى نحو:



a. 1524 متر



b. 1656 متر



c. 1556 متر



d. 1620 متر

من الأفكار الفرعية للنص:



a. شبه الجزيرة العربية



b. الطقس في نجد



c. أودية هضبة نجد



d. الزراعة في هضبة نجد

السمة الغالبة على معظم مناطق هضبة نجد:

a. وفرة المياه

b. الجفاف والوعورة

c. اعتدال المناخ

d. خصوبة التربة

يحد هضبة نجد من الجهة الغربية:

a. صحراء الدهناء

b. جبال الحجاز

c. صحراء النفوذ

d. مرتفعات عسير

من أشهر أودية هضبة نجد، وادي:



a. حام



b. الباطن



c. العبادلة



d. السدر

معلوماتي مقروء
(أشكال)

قضايا اقتصادية

يقدم أمثلة توضح تطور التجارة الدولية في دولة الإمارات العربية المتحدة

المدينة تحتضن 60٪ من شركات «فورتشن 500»

استقطبت مدينة دبي للإنترنت باعتبارها مجمع الأعمال الوحيد المتخصص في التكنولوجيا بالمنطقة، أكثر من 60% من الشركات المدرجة في قائمة فورتشن 500 في العالم. ويغطي شركاء أعمال مدينة دبي للإنترنت اليوم طيفاً واسعاً من قطاعات صناعة التكنولوجيا، بما في ذلك البرامج والإنترنت والوسائط المتعددة وشبكات الاتصالات وخدمات تكنولوجيا المعلومات.



إعداد: وائل اللبابيدي
غرافيك: أسيل الخليلي

البيكان



أعلن صاحب السمو الشيخ محمد بن راشد آل مكتوم عام 1999م عن تأسيس مدينة دبي للإنترنت، كمنطقة اقتصادية حرة تستهدف الأسواق الناشئة، وتلتزم مدينة دبي للإنترنت بالاستثمار في البنية التحتية الذكية، لجعل مجتمعها أكثر اخضراراً وأكثر راحة واستدامة بما يتماشى مع مبادرة دبي الذكية التي تسعى إلى جعل دبي أسعد مدينة في العالم.

بلغ حجم استثمار الشركات الناشئة في مدينة الإنترنت حوالي :

a. 10 مليار درهم

b. 15 مليار درهم

c. 17 مليار درهم

d. 20 مليار درهم

المدينة تحتضن 60% من شركات «فورتشن 500»

استقطبت مدينة دبي للإنترنت باعتبارها مجمع الأعمال الوحيد المتخصص في التكنولوجيا بالمنطقة، أكثر من 60% من الشركات المدرجة في قائمة فورتشن 500 في العالم. ويغطي شركاء أعمال مدينة دبي للإنترنت اليوم طيفاً واسعاً من قطاعات صناعة التكنولوجيا، بما في ذلك البرامج والإنترنت والوسائط المتعددة وشبكات الاتصالات وخدمات تكنولوجيا المعلومات.

32% شركات البرمجيات

20% شركات الإنترنت والوسائط المتعددة

20% شركات خدمات تكنولوجيا المعلومات

16% شركات الاتصالات والشبكات

12% القطاعات الأخرى

17

مليار درهم حجم
الاستثمار في
الشركات الناشئة في
المدينة

+150

عدد الجنسيات العاملة في المدينة

+24000

عدد أصحاب المواهب التقنية
العاملة بمدينة دبي للإنترنت

إعداد: وائل اللبابيدي
غرافيك: أسيل الخليبي

البيكان

أعلن صاحب السمو الشيخ محمد بن راشد آل مكتوم عام 1999م عن تأسيس مدينة دبي للإنترنت، كمنطقة اقتصادية حرة تستهدف الأسواق الناشئة، وتلتزم مدينة دبي للإنترنت بالاستثمار في البنية التحتية الذكية، لجعل مجتمعها أكثر اخضراراً وأكثر راحة واستدامة بما يتماشى مع مبادرة دبي الذكية التي تسعى إلى جعل دبي أسعد مدينة في العالم.

تغطي مدينة دبي للإنترنت قطاعات صناعة التكنولوجيا، منها شركات:

a. خدمات تكنولوجيا المعلومات

b. الاتصالات والشبكات

c. البرمجيات

d. جميع ما ذكر

المدينة تحتضن 60% من شركات «فورتشن 500»

استقطبت مدينة دبي للإنترنت باعتبارها مجمع الأعمال الوحيد المتخصص في التكنولوجيا بالمنطقة، أكثر من 60% من الشركات المدرجة في قائمة فورتشن 500 في العالم. ويغطي شركاء أعمال مدينة دبي للإنترنت اليوم طيفاً واسعاً من قطاعات صناعة التكنولوجيا، بما في ذلك البرامج والإنترنت والوسائط المتعددة وشبكات الاتصالات وخدمات تكنولوجيا المعلومات.

32% شركات البرمجيات

20% شركات الإنترنت والوسائط المتعددة

20% شركات خدمات تكنولوجيا المعلومات

16% شركات الاتصالات والشبكات

12% القطاعات الأخرى

17

مليار درهم حجم
الاستثمار في
الشركات الناشئة في
المدينة

+150

عدد الجنسيات العاملة في المدينة

+24000

عدد أصحاب المواهب التقنية
العاملة بمدينة دبي للإنترنت

إعداد: وائل اللبائدي
غرافيك: أسيل الخليبي

البيكان

أعلن صاحب السمو الشيخ محمد بن راشد آل مكتوم عام 1999م عن تأسيس مدينة دبي للإنترنت، كمنطقة اقتصادية حرة تستهدف الأسواق الناشئة، وتلتزم مدينة دبي للإنترنت بالاستثمار في البنية التحتية الذكية، لجعل مجتمعها أكثر اخضراراً وأكثر راحة واستدامة بما يتماشى مع مبادرة دبي الذكية التي تسعى إلى جعل دبي أسعد مدينة في العالم.

بلغ عدد الجنسيات العاملة في مدينة دبي للإنترنت ما يزيد عن:

a. 138 جنسية

b. 150 جنسية

c. 155 جنسية

d. 158 جنسية

المدينة تحتضن 60% من شركات «فورتشن 500»

استقطبت مدينة دبي للإنترنت باعتبارها مجمع الأعمال الوحيد المتخصص في التكنولوجيا بالمنطقة، أكثر من 60% من الشركات المدرجة في قائمة فورتشن 500 في العالم. ويغطي شركاء أعمال مدينة دبي للإنترنت اليوم طيفاً واسعاً من قطاعات صناعة التكنولوجيا، بما في ذلك البرامج والإنترنت والوسائط المتعددة وشبكات الاتصالات وخدمات تكنولوجيا المعلومات.



17

مليار درهم حجم
الاستثمار في
الشركات الناشئة في
المدينة

+150

عدد الجنسيات العاملة في المدينة

+24000

عدد أصحاب المواهب التقنية
العاملة بمدينة دبي للإنترنت

إعداد: وائل اللبائدي
غرافيك: أسيل الخليبي

البيكان

أعلن صاحب السمو الشيخ محمد بن راشد آل مكتوم عام 1999م عن تأسيس مدينة دبي للإنترنت، كمنطقة اقتصادية حرة تستهدف الأسواق الناشئة، وتلتزم مدينة دبي للإنترنت بالاستثمار في البنية التحتية الذكية، لجعل مجتمعها أكثر اخضراراً وأكثر راحة واستدامة بما يتماشى مع مبادرة دبي الذكية التي تسعى إلى جعل دبي أسعد مدينة في العالم.

التزام مدينة دبي للإنترنت في الاستثمار في البنية التحتية الذكية لجعل مجتمعها أكثر:

a. اقتصاداً نشطاً

b. اخضراراً وراحةً واستدامةً

c. أماناً واطمئناناً

d. ترفيهياً ومنتعاً

المدينة تحتضن 60% من شركات «فورتشن 500»

استقطبت مدينة دبي للإنترنت باعتبارها مجمع الأعمال الوحيد المتخصص في التكنولوجيا بالمنطقة، أكثر من 60% من الشركات المدرجة في قائمة فورتشن 500 في العالم. ويغطي شركاء أعمال مدينة دبي للإنترنت اليوم طيفاً واسعاً من قطاعات صناعة التكنولوجيا، بما في ذلك البرامج والإنترنت والوسائط المتعددة وشبكات الاتصالات وخدمات تكنولوجيا المعلومات.



17

مليار درهم حجم
الاستثمار في
الشركات الناشئة في
المدينة

+150

عدد الجنسيات العاملة في المدينة

+24000

عدد أصحاب المواهب التقنية
العاملة بمدينة دبي للإنترنت

إعداد: وائل اللبابيدي
غرافيك: أسيل الخليبي

البيكان

أعلن صاحب السمو الشيخ محمد بن راشد آل مكتوم عام 1999م عن تأسيس مدينة دبي للإنترنت، كمنطقة اقتصادية حرة تستهدف الأسواق الناشئة، وتلتزم مدينة دبي للإنترنت بالاستثمار في البنية التحتية الذكية، لجعل مجتمعها أكثر اخضراراً وأكثر راحة واستدامة بما يتماشى مع مبادرة دبي الذكية التي تسعى إلى جعل دبي أسعد مدينة في العالم.

تسعى مبادرة دبي الذكية إلى جعل دبي أسعد مدينة في:

a. قارات العالم القديم

b. شبه الجزيرة العربية

c. الوطن العربي

d. العالم

المدينة تحتضن 60% من شركات «فورتشن 500»

استقطبت مدينة دبي للإنترنت باعتبارها مجمع الأعمال الوحيد المتخصص في التكنولوجيا بالمنطقة، أكثر من 60% من الشركات المدرجة في قائمة فورتشن 500 في العالم. ويغطي شركاء أعمال مدينة دبي للإنترنت اليوم طيفاً واسعاً من قطاعات صناعة التكنولوجيا، بما في ذلك البرامج والإنترنت والوسائط المتعددة وشبكات الاتصالات وخدمات تكنولوجيا المعلومات.

32% شركات البرمجيات

20% شركات الإنترنت والوسائط المتعددة

20% شركات خدمات تكنولوجيا المعلومات

16% شركات الاتصالات والشبكات

12% القطاعات الأخرى

17

مليار درهم حجم
الاستثمار في
الشركات الناشئة في
المدينة

+150

عدد الجنسيات العاملة في المدينة

+24000

عدد أصحاب المواهب التقنية
العاملة بمدينة دبي للإنترنت

إعداد: وائل اللبابيدي
غرافيك: أسيل الخليبي

البيكان

أعلن صاحب السمو الشيخ محمد بن راشد آل مكتوم عام 1999م عن تأسيس مدينة دبي للإنترنت، كمنطقة اقتصادية حرة تستهدف الأسواق الناشئة، وتلتزم مدينة دبي للإنترنت بالاستثمار في البنية التحتية الذكية، لجعل مجتمعها أكثر اخضراراً وأكثر راحة واستدامة بما يتماشى مع مبادرة دبي الذكية التي تسعى إلى جعل دبي أسعد مدينة في العالم.

«كورونا»

ينشط التجارة الإلكترونية في الإمارات

توقع خبراء في قطاع التجارة الإلكترونية نمو الطلب الإلكتروني على السلع والمنتجات الاستهلاكية والغذائية الرئيسة في الإمارات بنسبة لا تقل عن 40% خلال الربع الثاني من العام الجاري، بالتزامن مع رغبة الكثير من التسوقين في البقاء بعيداً عن مراكز الازدحام والتجمعات إلا في حالات الضرورة إلى حين الانتهاء من أزمة فيروس «كورونا».

40%

حصة الإمارات من إجمالي سوق التجارة الإلكترونية في الشرق الأوسط

84%

من سكان الإمارات يفضلون الدفع بطاقات الائتمان

4.2%

معدل انتشار التجارة الإلكترونية في المنطقة

40%

نموً متوقعاً للتجارة الإلكترونية نهاية 2020



نمو استخدام برمجيات الذكاء الاصطناعي في التسويق الرقمي

ارتفاع أمن منظومة الدفعات الإلكترونية في الدولة

انتشار خدمات الإنترنت بشكل كبير

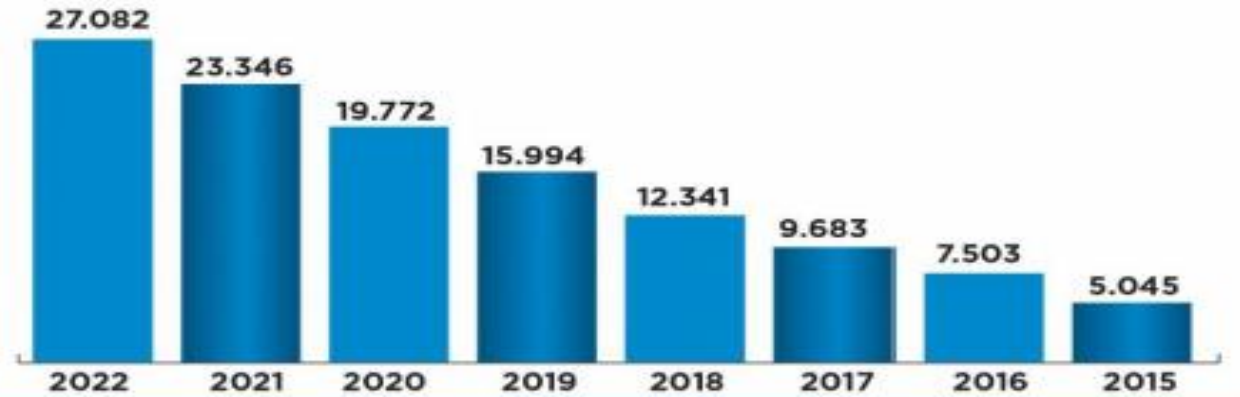
الدعم الحكومي الكبير لتبني اقتصاد قائم على الابتكار والتعرفة

الرغبة في تفادي الازدحام في مراكز التسوق الكبرى

زيادة الوعي بأهمية البقاء في المنازل

محركات النمو

مبيعات التجارة الإلكترونية في الإمارات



البيان

غرافيك: حسام الحوراني

1- حصة الإمارات من إجمالي سوق التجارة الإلكترونية في الشرق الأوسط

أ- 4.2% ب- 40% ج- 84% د- 100%

2- يصل حجم التجارة الإلكترونية في الإمارات 27 مليار عام :

أ- 2018 ب- 2019 ج- 2020 د- 2022

3- 84% من سكان الإمارات يفضلون الدفع في المعاملات التجارية ب :

أ- الأوراق النقدية ب- العملات المعدنية ج- بطاقات الائتمان د- العملات الإلكترونية

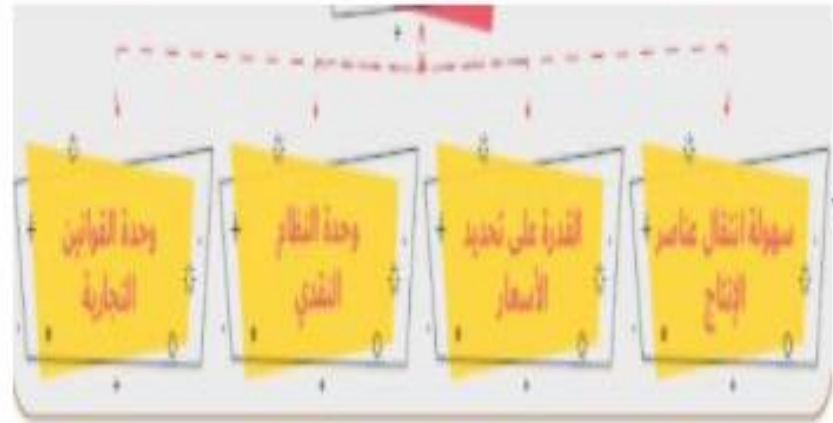
4- ازداد حجم التجارة الإلكترونية من عام 2005 إلى عام 2022 بمقدار:

أ- 11.39 مليار ب- 16.55 مليار ج- 16.74 مليار د- 22.37 مليار

5- يعد الدعم الحكومي الكبير لبناء اقتصاد قائم على المعرفة والابتكار من :

أ- نتائج التجارة الإلكترونية ب- محركات النمو ج- مقومات الاتحاد د- الخدمات والسلع

- الخصائص الواردة في الصورة تعبر عن مزايا التجارة :



الداخلية

.a

الإلكترونية

.b

الدولية

.c

الخارجية

.d

- إحدى البضائع الآتية تعد من السلع شبه الدولية :



a. النفط

b. السيارات

c. الأدوات المنزلية

d. الأكلات الشعبية