

تم تحميل هذا الملف من موقع المناهج البحرينية



* للحصول على أوراق عمل لجميع الصفوف وجميع المواد اضغط هنا

<https://almanahj.com/bh>

* للحصول على أوراق عمل لجميع مواد الصف الأول اضغط هنا

<https://almanahj.com/bh/1>

* للحصول على جميع أوراق الصف الأول في مادة التربية للمواطنة ولجميع الفصول, اضغط هنا

<https://almanahj.com/bh/1country>

* للحصول على أوراق عمل لجميع مواد الصف الأول في مادة التربية للمواطنة الخاصة بـ الفصل الأول اضغط هنا

<https://almanahj.com/bh/1country1>

* لتحميل كتب جميع المواد في جميع الفصول للـ الصف الأول اضغط هنا

<https://almanahj.com/bh/grade1>

* لتحميل جميع ملفات المدرس ياسر العلويات اضغط هنا

[almanahjbhbot/me.t//:https](https://t.me/almanahjbhbot)

للتحدث إلى بوت على تلغرام: اضغط هنا





التربية للمواطنة الصف الأول الابتدائي الفصل الدراسي الاول



اعداد: ياسر العلويات

معلم فصل

ضع علامة (√) أسفل صورة الجواز البحريني



ضع (√) أسفل البطاقة الذكية التي تستخدمها عند الذهاب للمركز الصحي.



أحوط قلاع بلادي.



أجب عن ما يلي:



1- هذا اسمه



2- ملك:

- أ- المملكة العربية السعودية
- ب- مملكة البحرين
- ت- الامارات العربية السعودية

اختر الإجابة الصحيحة فيما يلي:

1- يتكون علم البحرين من:

أ- خمس مثلثات	ب- أربع مثلثات	ج- ست مثلثات
---------------	----------------	--------------

2- يتكون علم البحرين من لونين هما:

أ- الأحمر والاصفر	ب- الأحمر والابيض	ج- الأبيض والازرق
-------------------	-------------------	-------------------

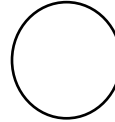


3- تدل المثلثات الخمس في علم البحرين على:

أ- دول الخليج	ب- أصابع اليد	ج- أركان الاسلام
---------------	---------------	------------------

4- مساحة اللون الأحمر هي:

أ- أكبر من اللون الابيض	ب- أصغر من اللون الابيض	ج- نفس المساحة
-------------------------	-------------------------	----------------

ضع (✓) أسفل الصورة التي تعبر عن السلوك الصحيح أثناء السلام الملكي.



حوط علم البحرين الصحيح.

