

تم تحميل هذا الملف من موقع المناهج البحرينية



* للحصول على أوراق عمل لجميع الصفوف وجميع المواد اضغط هنا

<https://almanahj.com/bh>

* للحصول على أوراق عمل لجميع مواد الصف الأول اضغط هنا

<https://almanahj.com/bh/1>

* للحصول على جميع أوراق الصف الأول في مادة رياضيات ولجميع الفصول, اضغط هنا

<https://almanahj.com/bh/1math>

* للحصول على أوراق عمل لجميع مواد الصف الأول في مادة رياضيات الخاصة بـ الفصل الأول اضغط هنا

<https://almanahj.com/bh/1math1>

* لتحميل كتب جميع المواد في جميع الفصول للـ الصف الأول اضغط هنا

<https://almanahj.com/bh/grade1>

* لتحميل جميع ملفات المدرس مدرسة اليرموك الإبتدائية للبنين اضغط هنا

[almanahjbhbot/me.t//:https](https://t.me/almanahjbhbot)

للتحدث إلى بوت على تلغرام: اضغط هنا

مراجعة التقويم في الرياضيات

الأعداد حتى ٢٠

للصف الأول الابتدائي



الفصل الأول للعام الدراسي ٢٠١٩/٢٠٢٠م

الاسم:


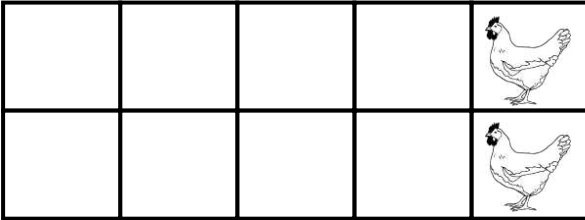
الصف: ١ /

التاريخ: / /

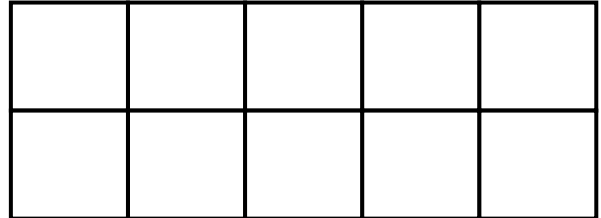
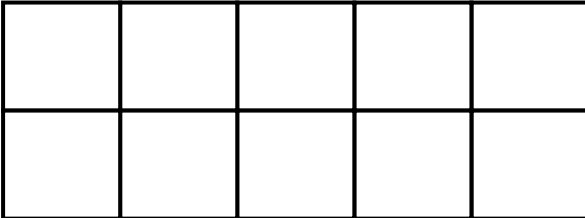
احسب القطط ، ثم اكتب العدد :



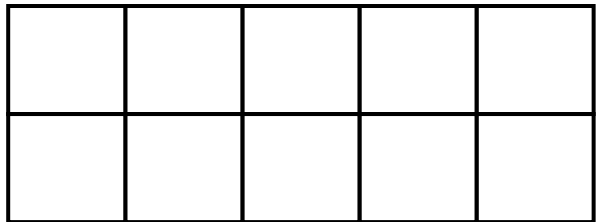
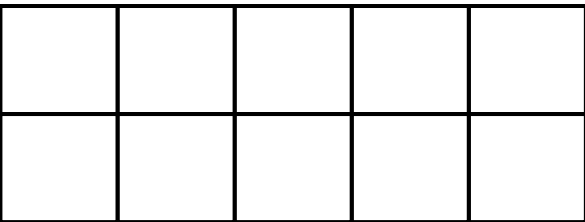
احسب الدجاج ، ثم اكتب العدد :



مثل العدد المكتوب :



مثل العدد المكتوب :



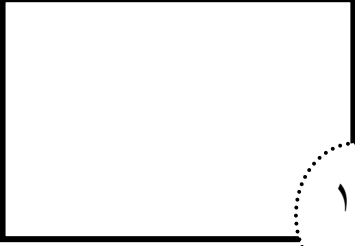
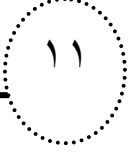




١٧

١٩




اكتب ما يملئ عليك من أعداد :

--	--	--	--	--	--

ارسم مجموعات تمثل العدد المكتوب :

					
--	---	---	--	---	---

لون بقدر العدد المكتوب :

	١١
	١٤
	١٧

حوظ على العدد الأكبر :

١٦	١٨	٢٠
----	----	----

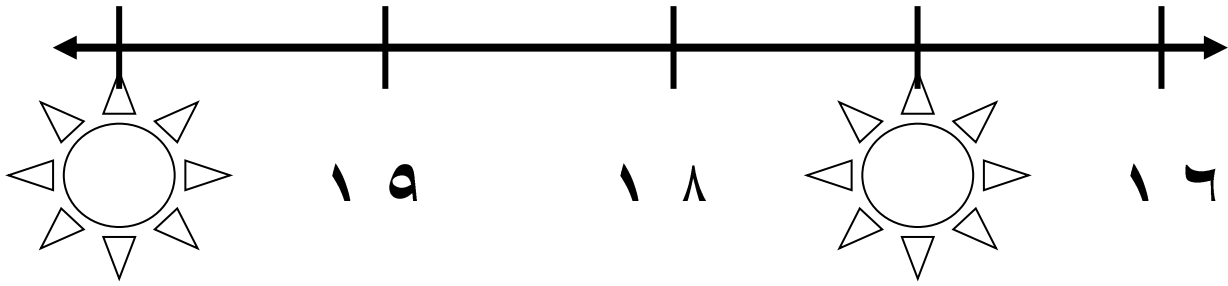
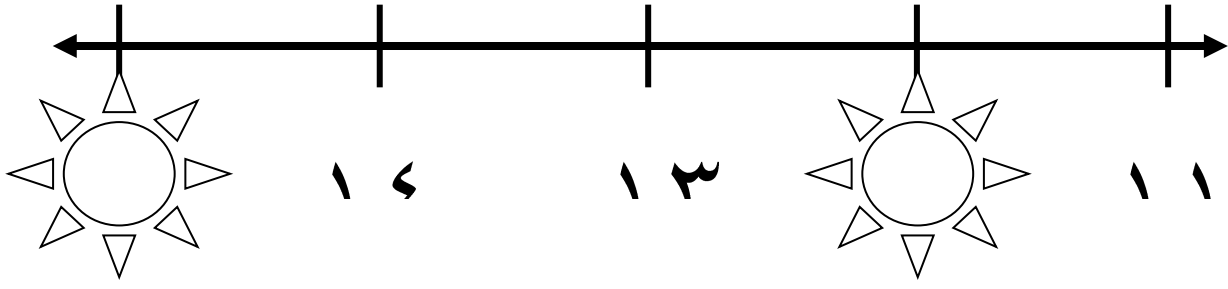
١٩	٢٠
----	----

١٢	١١
----	----

أكمل الأعداد التالية تصاعدياً (ابدأ من اليسار):

	١٩		١٧				١٣		١١
--	----	--	----	--	--	--	----	--	----

- اكتب العدد المفقود:



اكتب عدد العناصر التالية ، ثم حوط المجموعة الأكثر :

