

تم تحميل هذا الملف من موقع المناهج البحرينية



*للحصول على أوراق عمل لجميع الصفوف وجميع المواد اضغط هنا

<https://almanahj.com/bh>

* للحصول على أوراق عمل لجميع مواد الصف الأول اضغط هنا

<https://almanahj.com/bh/1>

* للحصول على جميع أوراق الصف الأول في مادة رياضيات ولجميع الفصول, اضغط هنا

<https://almanahj.com/bh/1>

* للحصول على أوراق عمل لجميع مواد الصف الأول في مادة رياضيات الخاصة بـ اضغط هنا <https://almanahj.com/bh/1>

* لتحميل كتب جميع المواد في جميع الفصول للـ الصف الأول اضغط هنا

<https://almanahj.com/bh/grade1>

[almanahjbhbot/me.t//:https](https://t.me/almanahjbhbot)

للتحدث إلى بوت على تلغرام: اضغط هنا

نشاط

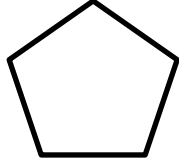
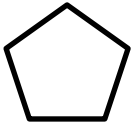
الاسم :
الصف : الأول /
التاريخ : الأحد / /

الكفاية : يُقارن بين الأطوال والسعات والمساحات ويُرتبها.

١٤

السؤال الأول: أضغ دائرة ○ حول:

٢. الشَّيء الذي يُغطي مساحةً أكبر



١. الشَّيء الذي سِعته أقل



٤. أيُّهُما أثقل؟

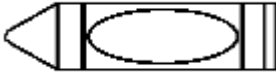


٣. أيُّهُما أقصر؟



١٣

السؤال الثاني: أرتب الأشياء من الأطول إلى الأقصر مُستعملًا ١، ٢، ٣:




.....

.....

.....

١٣

السؤال الثالث: أرتب الأشياء من الأخف وزنًا إلى الأثقل مُستعملًا ١، ٢، ٣:



.....

.....

.....

لا أدري



لا يعجبني



يعجبني



رأي التلميذ:

تعليق ولي الأمر:

توقيع ولي الأمر:

توقيع المُعلم الأول: