

تم تحميل هذا الملف من موقع المناهج البحرينية



*للحصول على أوراق عمل لجميع الصفوف وجميع المواد اضغط هنا

<https://almanahj.com/bh>

* للحصول على أوراق عمل لجميع مواد الصف الأول اضغط هنا

<https://almanahj.com/bh/1>

* للحصول على جميع أوراق الصف الأول في مادة رياضيات ولجميع الفصول, اضغط هنا

<https://almanahj.com/bh/1>

* للحصول على أوراق عمل لجميع مواد الصف الأول في مادة رياضيات الخاصة بـ اضغط هنا <https://almanahj.com/bh/1>

* لتحميل كتب جميع المواد في جميع الفصول للـ الصف الأول اضغط هنا

<https://almanahj.com/bh/grade1>

[almanahjbhbot/me.t//:https](https://t.me/almanahjbhbot)

للتحدث إلى بوت على تلغرام: اضغط هنا



طرائق الجمع والطرح

الطرح بالعد التنازلي



أطرح بالعد التنازلي، مستعملا



$$\dots = 1 - 4$$

\dots ، ٤



$$\dots = 1 - 5$$

\dots ، ٥

$$\dots = 2 - 6$$

\dots ، \dots ، ٦

$$\dots = 2 - 3$$

\dots ، \dots ، ٣

$$\dots = 2 + 5$$

\dots ، \dots ، ٥

$$\dots = 3 + 5$$

\dots ، \dots ، \dots ، ٥

ملاك البحر



أطرح بالعد التنازلي، مستعملا



$$\dots = 8 - 9$$



$$\dots = 3 - 9$$

$$\dots = 5 - 5$$

$$\dots = 2 - 3$$

$$\dots = 3 - 4$$



$$\dots = 4 - 8$$

$$\dots = 1 - 9$$

$$\dots = 1 - 2$$

$$\dots = 3 - 7$$

$$\dots = 1 - 7$$



$$\dots = 2 - 5$$

$$\dots = 5 - 6$$



٤

٨

٩

٥

٣

—

٢


—

٣

—

٤

—



ملاك البحر



طرائق الجمع والطرح




أكتب جملة عددية

أحل المسألة:



الفصل


=



.....

مع ضحى ٨ وردات اخذ منها
احمد ٣ وردات كم وردة مع
ضحى؟


=



.....

كم عصفورا على الشجرة، إذا
علمت عدد العصافير ٩، طار
منهم ٣ عصفورا؟

=



.....

مع علا ٦ دنائير، صرفت منه
دينارين كم بقي معها؟؟


ملاك البحر



في الحديقة ٦ أطفال، عاد
منهم ٣ إلى بيوتهم. كم طفلا
بقي في الحديقة؟



في حقيبة مريم ٩ كتب، وفي
حقيبة دانة عدد يزيد على
مريم بكتابين، كم كتابا في
حقيبة دانة؟



كانت في الحديقة ١٠ وردات
قطفت نور منها ٤ وردات كم
وردة بقي في الحديقة؟



رسم مناف ٧ فراشات، ورسم
فيصل عددا أكبر من ذلك بـ ٣
فراشات. كم فراشة رسم
فيصل؟

١٠-٦

ملاك البحر




طرائق الجمع والطرح



الطرح باستعمال خط الأعداد

أستعمل خط الاعداد؛ لأجد ناتج الطرح:



$$\dots = 1 - 3$$



$$\dots = 3 - 8$$

$$\dots = 8 - 10$$

$$\dots = 2 - 5$$

$$\dots = 3 - 10$$

$$\dots = 4 - 6$$



$$\dots = 1 - 6$$

$$\dots = 2 - 8$$

٩

٨

٦



١٢

٣

٣

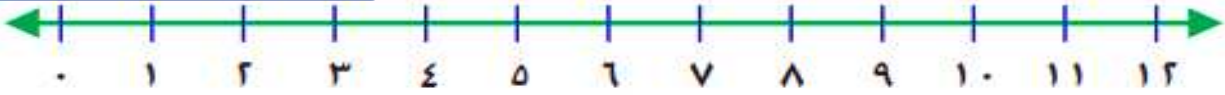
٣

٣




أستعمل خط الاعداد؛ لأجد ناتج الطرح :


ملاك البحر



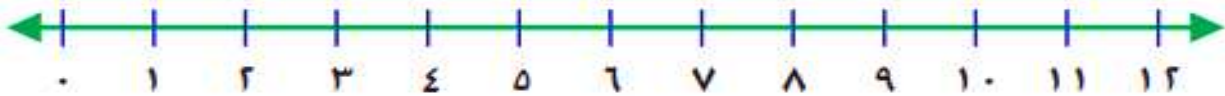
$$\dots = 3 - 7$$



$$\dots = 3 - 9$$



$$\dots = 2 - 12$$



$$\dots = 3 - 2$$



$$\dots = 2 - 9$$

ملاك البحر