

تم تحميل هذا الملف من موقع المناهج البحرينية



* للحصول على أوراق عمل لجميع الصفوف وجميع المواد اضغط هنا

<https://almanahj.com/bh>

* للحصول على أوراق عمل لجميع مواد الصف الأول اضغط هنا

<https://almanahj.com/bh/1>

* للحصول على جميع أوراق الصف الأول في مادة علوم ولجميع الفصول, اضغط هنا

<https://almanahj.com/bh/1science>

* للحصول على أوراق عمل لجميع مواد الصف الأول في مادة علوم الخاصة بـ الفصل الأول اضغط هنا

<https://almanahj.com/bh/1science1>

* لتحميل كتب جميع المواد في جميع الفصول للـ الصف الأول اضغط هنا

<https://almanahj.com/bh/grade1>

* لتحميل جميع ملفات المدرس ملاك البحر اضغط هنا

[almanahjbhbot/me.t//:https](https://t.me/almanahjbhbot)

للتحدث إلى بوت على تلغرام: اضغط هنا

الوحدة الأولى : النباتات من حولنا

الفصل الأول: النباتات مخلوقات حية

ملخص الفصل الأول (النباتات مخلوقات حية)

الأشياء من حولنا .

أشياء غير حية

* لا تنمو وتتغير

* لا تحتاج إلى الماء ، الغذاء ،
الهواء .

أمثال : القلم ، الملابس ، الأثاث ...

مخلوقات حية


*تنمو وتتغير

تحتاج إلى الماء ، الغذاء ، الهواء ، الضوء .

أمثال : الانسان ، الحيوان ، النباتات ...

حوظ الأشياء الحية باللون الأزرق والأشياء الغير الحية باللون الأحمر.


1



ملاك البحر


2

لون الصور التي تمثل أشياء لا تنمو ولا تكبر.




3

ضع دائرة على الأشياء التي لا تحتاج إلى ماء وهواء والغذاء



4

ضع دائرة على الأشياء التي تحتاج إلى ماء وهواء والغذاء



ملاك البحر

5

ماذا تحتاج مخلوقات حية ؟ ضع علامة (✓)

السفر

الماء

الكهرباء

الضوء

الهواء

الغذاء

6

أضع علامة (✓) أمام الاجابة الصحيحة وعلامة (✗) امام الإجابة الخاطئة :

المخلوقات الحية تنمو وتتغير .

من المخلوقات غير الحية الثعبان .



النباتات من الاشياء غير الحية .

الاشياء الحية بحاجة الى ماء ، والهواء والغذاء .

ملاك البحر

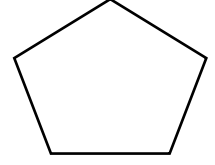
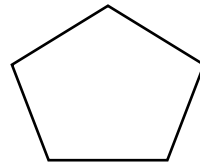
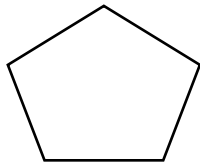
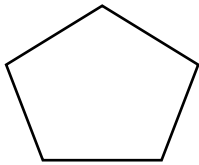
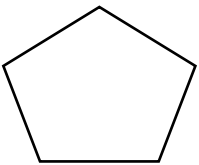
7

صل بخط (الحصان) مع الاشياء التى يحتاج إليها.




8


رقم الرسوم بحسب نموالاتسان .



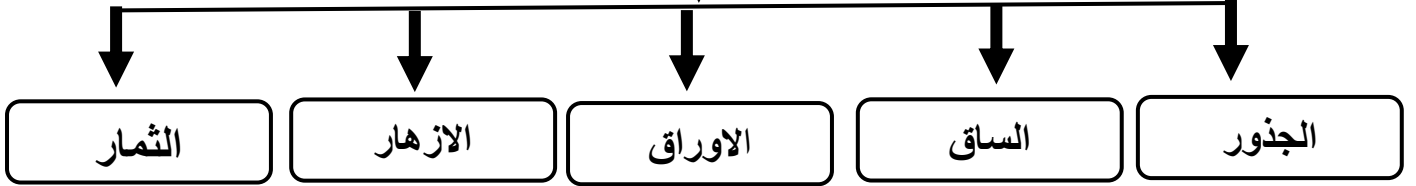
ملاك البحر



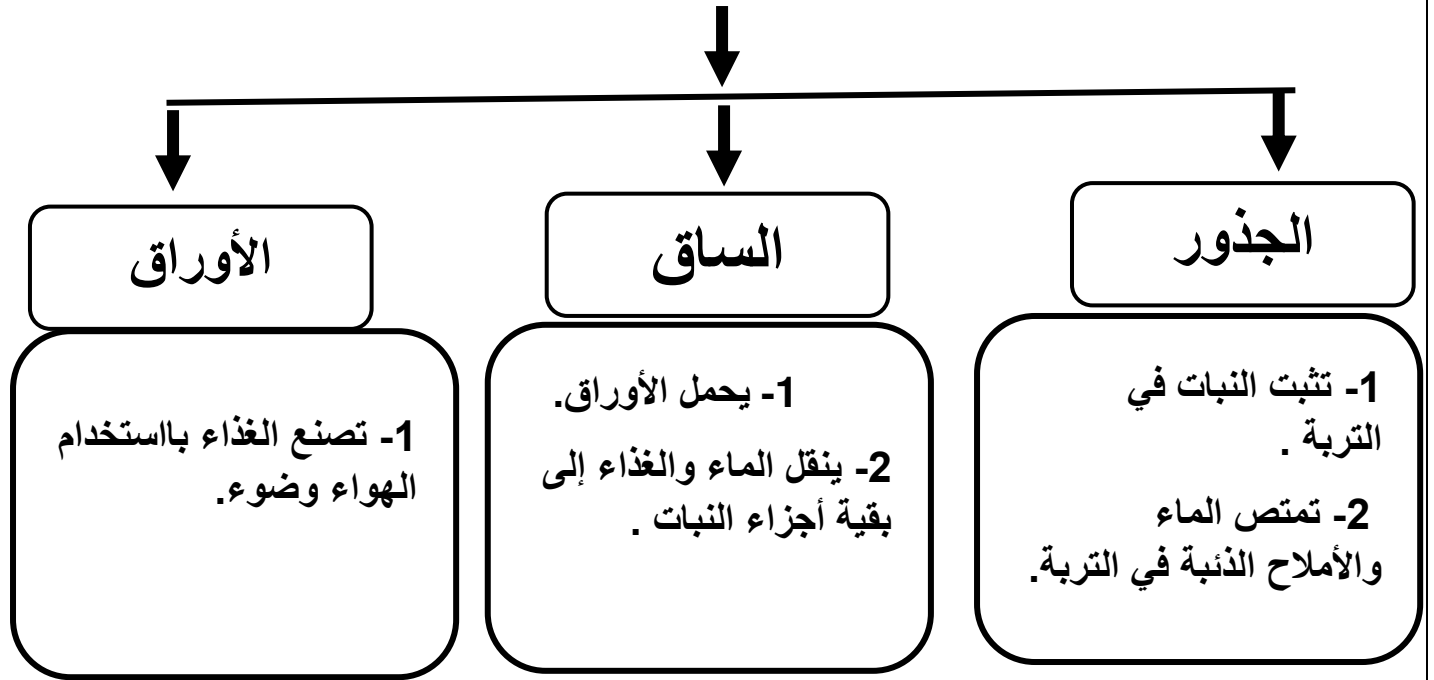
النباتات وأجزاؤها



أجزاء النبات

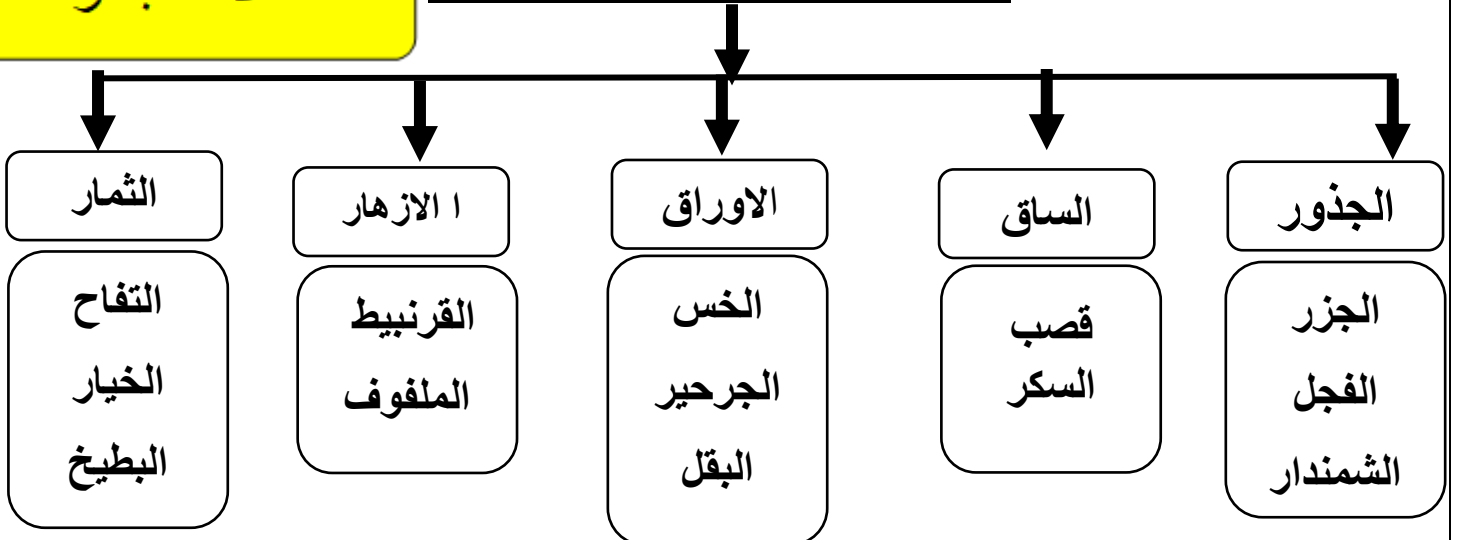


وظائف اجزاء النباتات



ملاك البحر

الأجزاء التي تؤكل من النبات

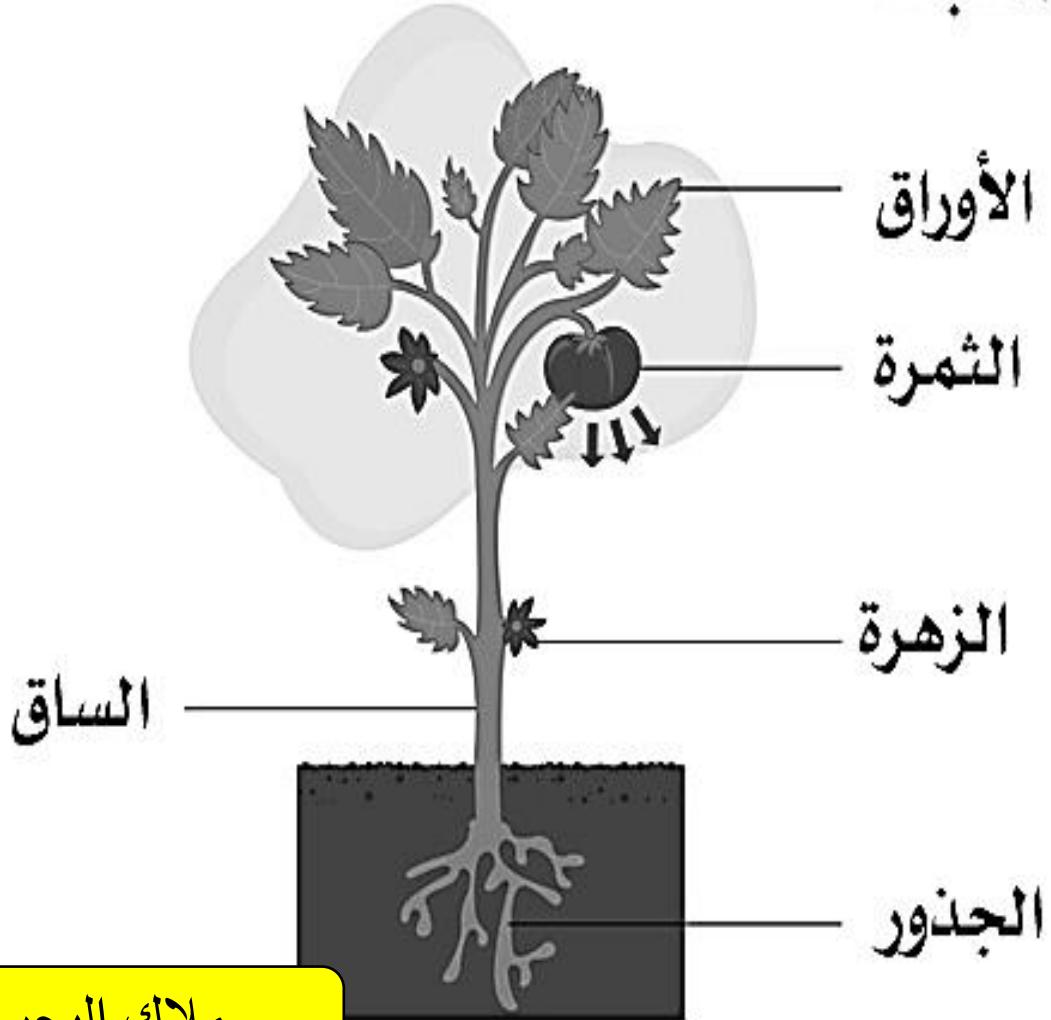


تختلف النباتات في : أشكالها ، وتختلف في شكل الأوراق ، والسيقان.

تعرف على أجزاء النبات .

1


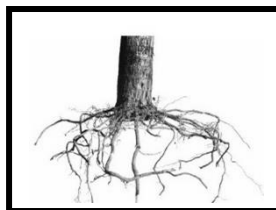

أجزاء النبات




ملاك البحر

اكتب أجزاء النبات

2





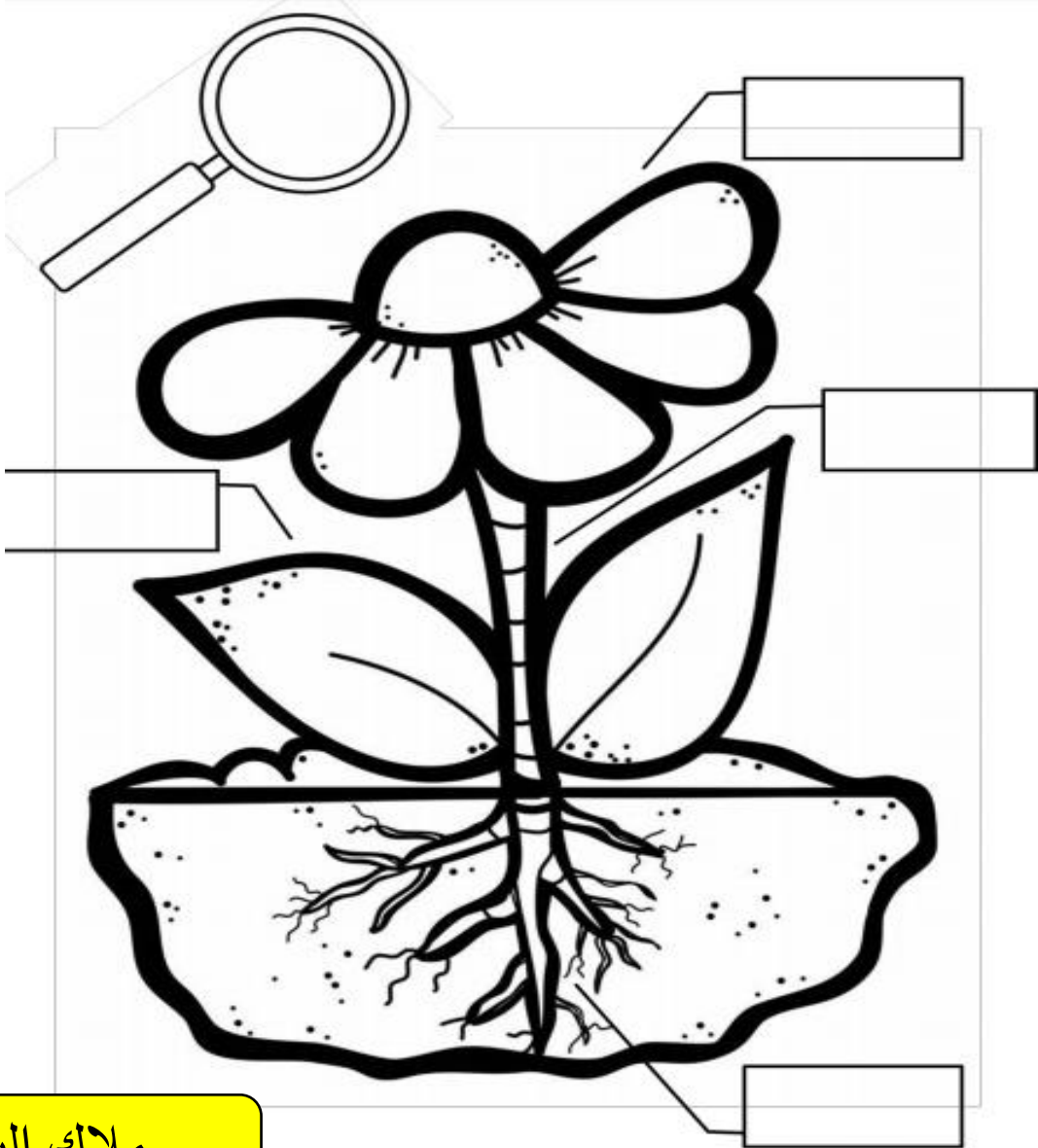
الساق

الازهار

الاوراق

الثمار

الجنور



ملاك البحر

ضع الرقم المناسب في المربع اسفل الصورة

4



1. الساق
2. الأوراق
3. الجذور
4. الأزهار
5. الثمار
6. ضوء



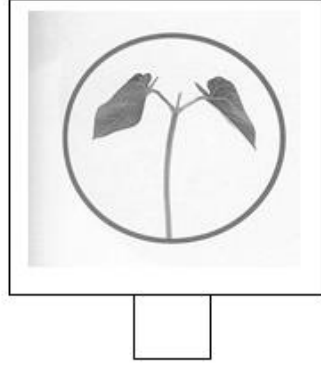
ضع علامة (✓) وعلامة (x)

5

- الجذور تنتج الغذاء للنباتة ()
- المخلوقات الحية تنتج مخلوقات تشبهها ()
- الكائنات الحية تنمو وتتغير ()
- الساق تنتج البذور ()
- الجذور تمتص الماء والاملاح الذائبة من التربة ()
- الحيوانات مخلوقات حية ()
- لا تحتاج النباتات الى ضوء الشمس لتعيش ()
- الانسان كائن حي ()


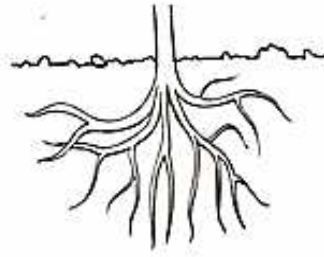

رتب نمو النبتة بكتابة الأعداد بالترتيب

6




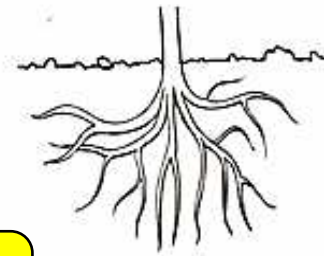

الجزء الذي يمتص الماء ويثبت النبات في التربة هو :

7




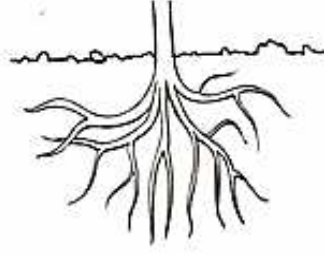

الجزء الذي ينتج الثمار :

8




ملاك البحر

الجزء الذي ينقل الماء إلى الأوراق ويحمل النبتة هو:-



ضع علامة صح (✓) الى ما يأتي من فائدة الأورق

- 1_ تثبت النبات في التربة. ()
- 2_ يحمل الاوراق ()
- 3_ تمتص الماء والاملاح الذائبة في التربة. ()
- 4_ ينقل الماء والغذاء إلى بقية أجزاء النبات. ()
- 5_ تصنع الغذاء باستخدام الهواء وضوء الشمس. ()
- 6_ تتفتح زهرة وتصبح ثمرة. ()



ضع علامة صح (✓) الى ما ياتي من فائدة الازهار

11

1_ تثبت النبات في التربة. ()

2_ يحمل الاوراق ()

3_ تمتص الماء والاملاح الذائبة في التربة. ()

4_ ينقل الماء والغذاء إلى بقية أجزاء النبات. ()

5_ تصنع الغذاء باستخدام الهواء وضوء الشمس. ()

6_ تتفتح زهرة وتصبح ثمرة . ()



ضع علامة صح (✓) الى ما ياتي من فائدة الجذور

12

1_ تثبت النبات في التربة. ()

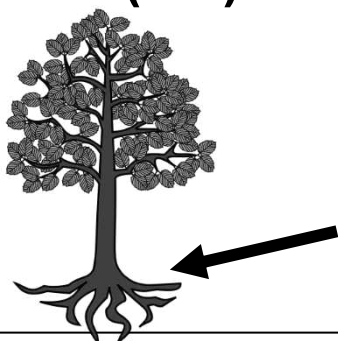
2_ يحمل الاوراق ()

3_ تمتص الماء والاملاح الذائبة في التربة. ()

4_ ينقل الماء والغذاء إلى بقية أجزاء النبات. ()

5_ تصنع الغذاء باستخدام الهواء وضوء الشمس. ()

6_ تتفتح زهرة وتصبح ثمرة . ()



ملاك البحر

- (1) () المخلوقات الحيّة تنمو وتتغير.
- (2) () من أجزاء النبات الأوراق.
- (3) () من المخلوقات غير الحيّة الثعبان.
- (4) () الازهار النباتات مُختلفة عن بعضها البعض.
- (5) () الجَمَلُ من الحيوانات الحية.
- (6) () الطيور حيوانات يُغطي جسمها الشعر.
- (7) () الأسد من الحيوانات آكلات اللحوم.
- (8) () الضفدعُ أجزاء النبات.
- (9) () التمساح بحاجة فقط الى ماء ليعش.
- (10) () الإنسان من المخلوقات الحية.

الاجزاء التى تؤكل من النبات هي:-

القرنبيط

الخبس

قصب السكر


الجزر

الملفوف

الجرجير

الفجل

التفاح



الخيار

الجزور

الساق

الأوراق

الأزهار







ملاك البحر

ألصق الصور أو الكلمات في مكانها المناسب

15

بحتاج النبات إلى:

أجزاء النبات هي:



الضوء

التربة

الماء

الهواء

الأزهار

الجزور

الساق

الأوراق

ملاك البحر

ضع دائرة حول الكائنات الحية فقط:

17

