

## شكراً لتحميلك هذا الملف من موقع المناهج البحرينية



## مذكرة مراجعة في مادة العلوم

[موقع المناهج](#) ⇨ [المناهج البحرينية](#) ⇨ [الصف الأول](#) ⇨ [علوم](#) ⇨ [الفصل الأول](#) ⇨ [الملف](#)

تاريخ نشر الملف على موقع المناهج: 2023-12-25 13:27:52

## التواصل الاجتماعي بحسب الصف الأول



## روابط مواد الصف الأول على تلغرام

[الرياضيات](#)

[اللغة الانجليزية](#)

[اللغة العربية](#)

[التربية الاسلامية](#)

## المزيد من الملفات بحسب الصف الأول والمادة علوم في الفصل الأول

<a href="#">نشاط تدريبي المخلوقات الحية</a>	1
<a href="#">شرح درس الضوء والصوت مع أنشطة تدريبية</a>	2
<a href="#">كراسة في مادة العلوم</a>	3
<a href="#">ملخص مجموعة أنواع الحيوانات</a>	4
<a href="#">نشاط تصنيف الكائنات الحية والغير حية</a>	5

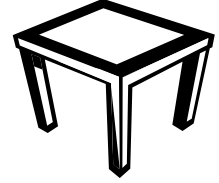

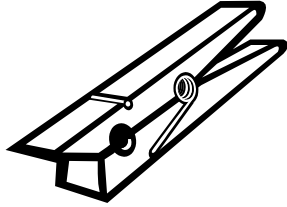

الاسم : .....  
الصف : ..... / ١  
التاريخ : ..... / ..... / .....

مملكة البحرين  
وزارة التربية والتعليم  
مدرسة كرزكان الابتدائية للبنين

مراجعة في مادة العلوم للصف الأول الابتدائي الفصل الأول

السؤال الأول : ضع علامة ( √ ) أسفل المخلوقات الحية ، و علامة ( × ) أسفل الأشياء غير الحية :

٤



السؤال الثاني : ضع علامة ( √ ) أمام الإجابة الصحيحة وعلامة ( × ) أمام الإجابة الخاطئة :

٦

١- ( ) المخلوقات الحية تنمو و تتغير .

٢- ( ) الأشياء غير الحية تحتاج إلى ماء و هواء و غذاء .

٣- ( ) الساق يصنع الغذاء .

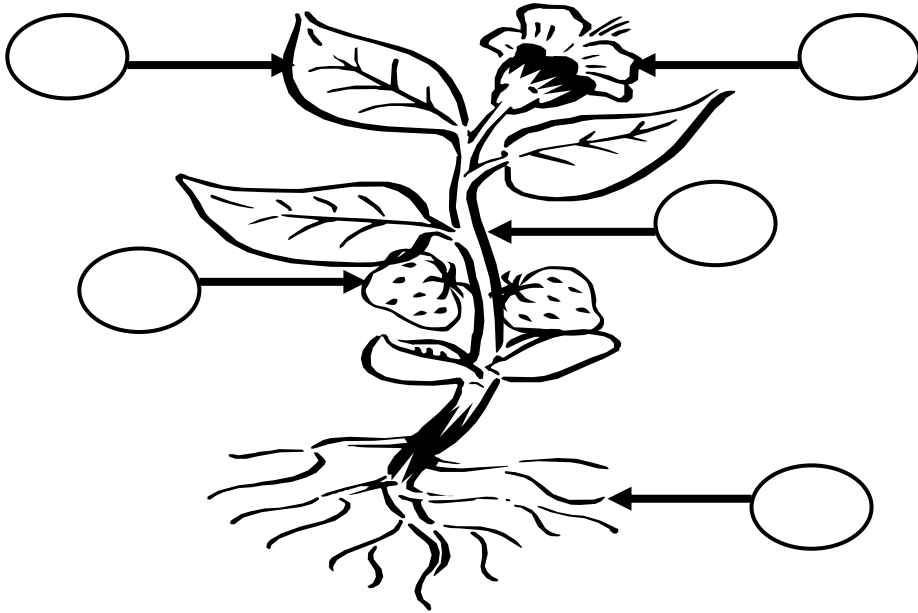

٤- ( ) الجذور تثبت النبات في التربة .

٥- ( ) يمكنني أن أكل بعض جذور النباتات.

٦- ( ) الساق يوزع الماء والأملاح.

السؤال الثالث : اكتب رقم الكلمة في المكان المناسب لأجزاء النبات :

٥



السؤال الرابع : ضع علامة √ في  الإجابة الصحيحة :

٥

١- ينتقل الغذاء والماء للنبات عن طريق :  
 أ- الأوراق .       ب- الزهرة .       ج- الساق .

٢- تصنع النباتات غذائها في :  
 أ- الجذور .       ب- الثمار .       ج- الأوراق .

٣- تحتاج النباتات لتصنع غذائها :  
 أ- الماء .       ب- ضوء الشمس .       ج- التربة .

٤- تثبت النبات في الأرض :  
 أ- الجذور .       ب- الساق .       ج- الثمار .

٥- الجزء الذي يحمل الأوراق :  
 أ- الجذور .       ب- الساق .       ج- الثمار .