

تم تحميل هذا الملف من موقع المناهج البحرينية



*للحصول على أوراق عمل لجميع الصفوف وجميع المواد اضغط هنا

<https://almanahj.com/bh>

* للحصول على أوراق عمل لجميع مواد الصف الأول اضغط هنا

<https://almanahj.com/bh/1>

* للحصول على جميع أوراق الصف الأول في مادة رياضيات ولجميع الفصول, اضغط هنا

<https://almanahj.com/bh/1>

* للحصول على أوراق عمل لجميع مواد الصف الأول في مادة رياضيات الخاصة بـ اضغط هنا <https://almanahj.com/bh/1>

* لتحميل كتب جميع المواد في جميع الفصول للـ الصف الأول اضغط هنا

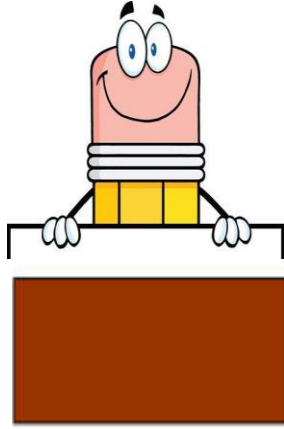
<https://almanahj.com/bh/grade1>

[almanahjbhbot/me.t//:https](https://t.me/almanahjbhbot)


للتحدث إلى بوت على تلغرام: اضغط هنا




الفصل السابع: الأشكال الهندسية المجسّمة.




شكل المستطيل



شكل المثلث





شكل الدائرة




شكل المربع

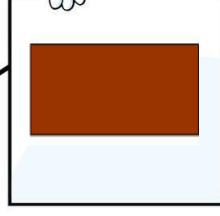
أصل صورة الشكل بكلمة المناسبة فيم يأتي: -



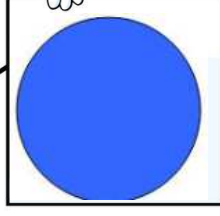
شكل المستطيل



شكل المثلث




شكل الدائرة

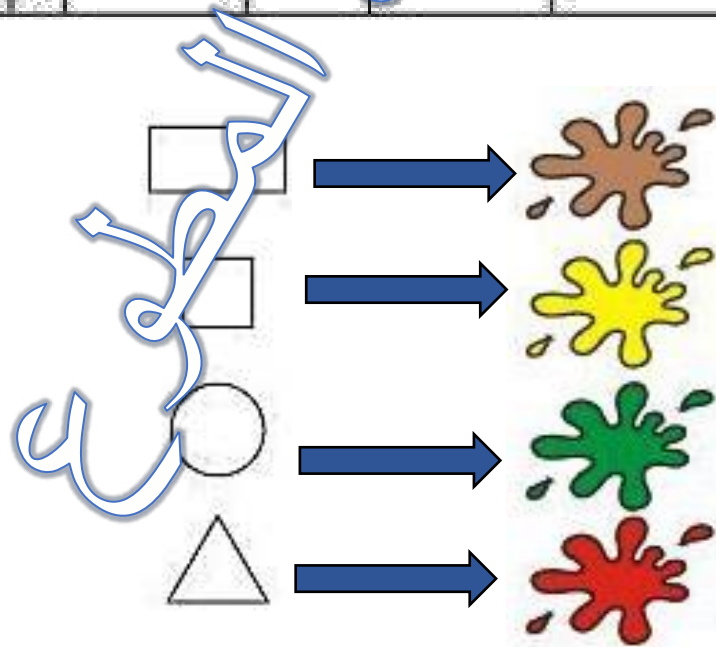
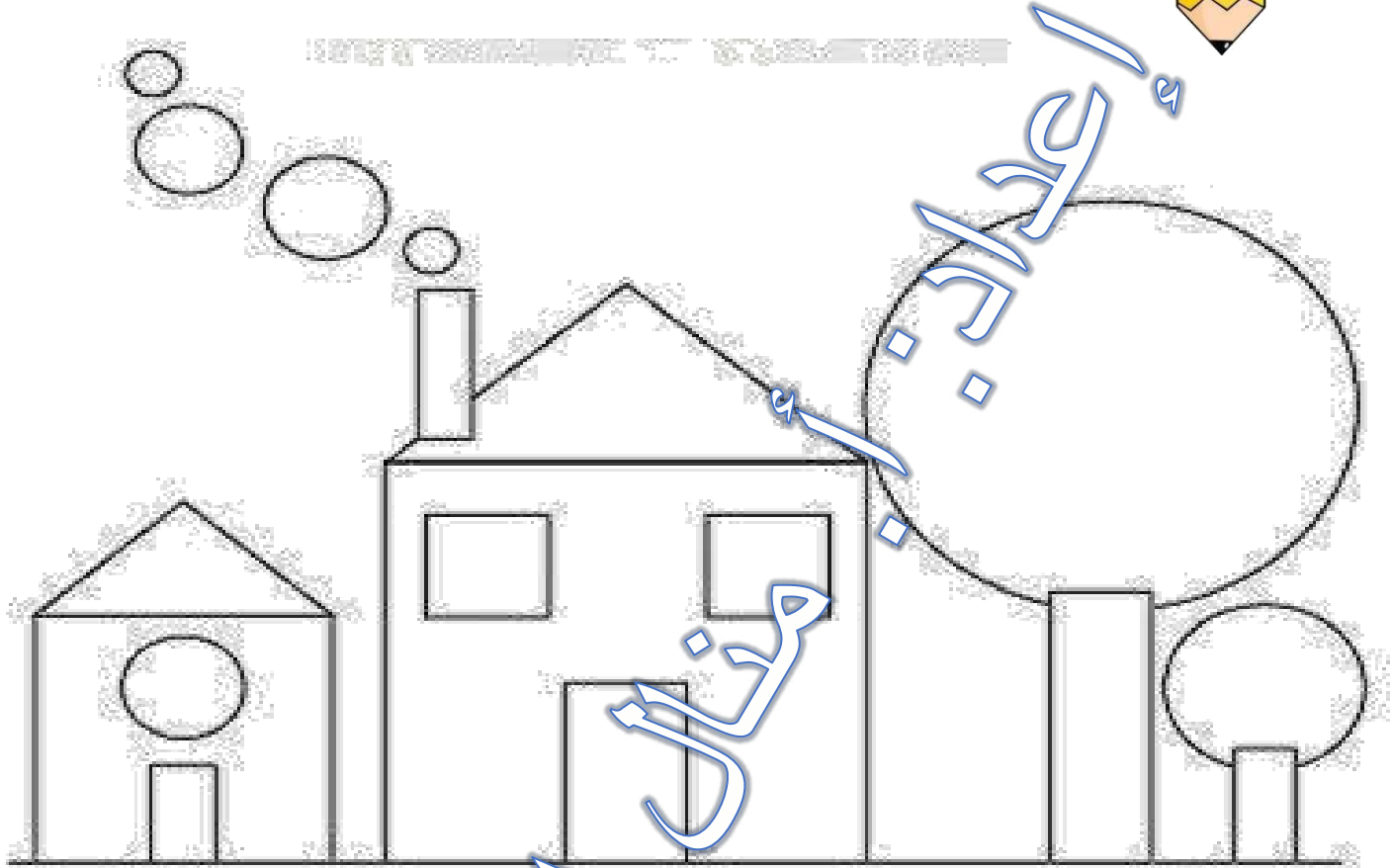


شكل المربع


STOP



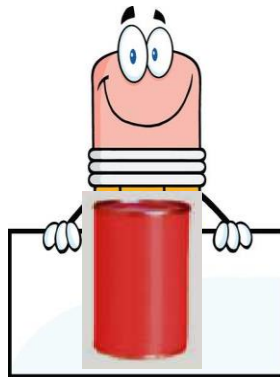
لون حسب المطلوب: -



الفصل السابع: الأشكال الهندسية المجسّمة.




مَخْرُوطٌ



أَسْطُوانَةٌ





كُرَّةٌ



مُكعَّبٌ

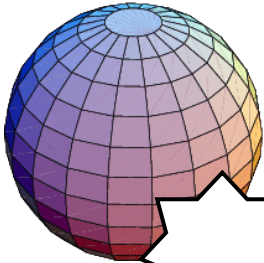



(ضع علامة على مجسم المكعب)






(ضع علامة على مجسم الكرة)



(ضع دائرة باللون الأحمر على مجسم المكعب،

وباللون الأزرق على مجسم الكرة)





(ضع علامة على مجسم الاسطوانة)



(ضع علامة على جسم المخروط)





(ضع دائرة باللون الأحمر على مجسم الأسطوانة،
وباللون الأزرق على مجسم المخروط)



(ارسم او اكتب اسم الشكل المجسم المطلوب)




الحظوة



الكرة

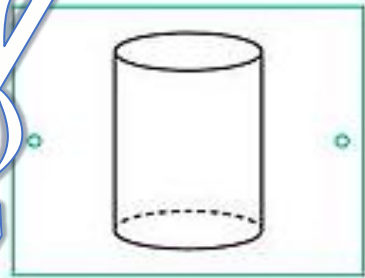
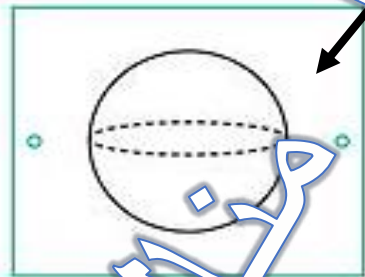
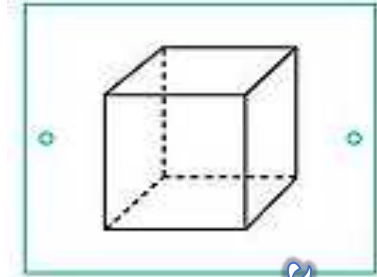

المخروط

STOP








(صل الشكل المجسم بما يناسبه فيما يأتي: -)

STOP




مقال الخطوط

يضع دائرة حول الشيء الذي لا يشبهه الجسم المعطى.



الخطوة

تصنيف المجسمات: يتدرج، يتراص، ينزلق.



يتراص



ينزلق





يتدرج



حل الحظوة

تصنيف المجسمات: صل بين الصور والحركة (يتدحرج،
يتراص، ينزلق).

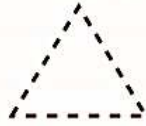


الاجابة
مخازن الحطوط


تصنيف المجسمات: يتدرج، يتراص، ينزلق.



مُسْتَطِيلٌ




مِثْلٌ



دَائِرَةٌ




مَرَبَعٌ



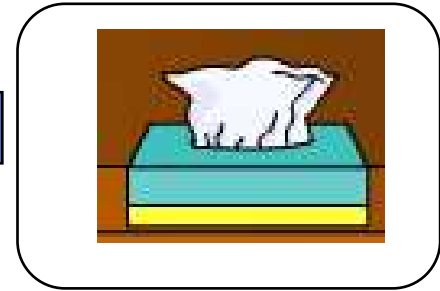
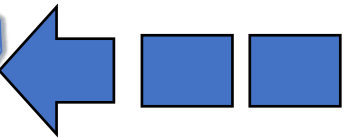


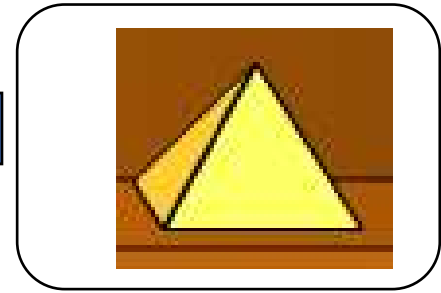


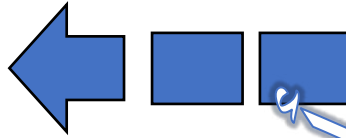
دَائِرَةٌ

ضع دائرة حول الشكل المحتوي الذي يظهر على الجسم



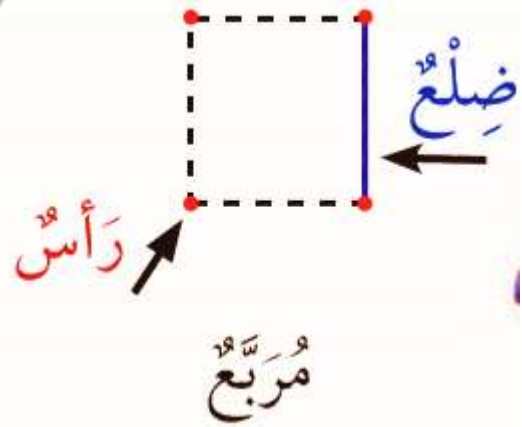
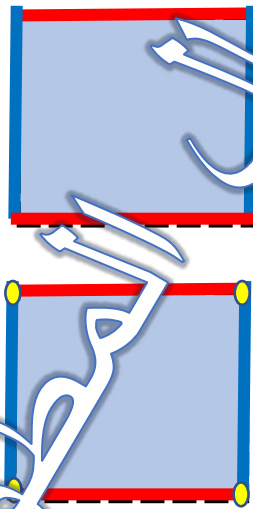


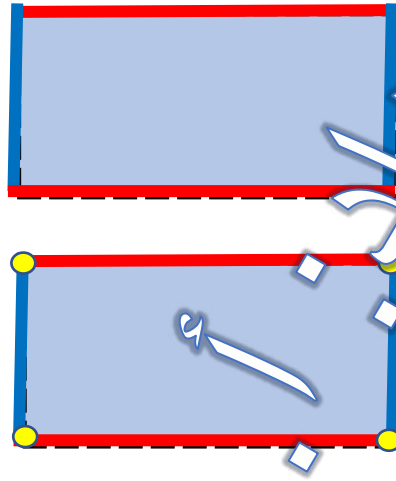
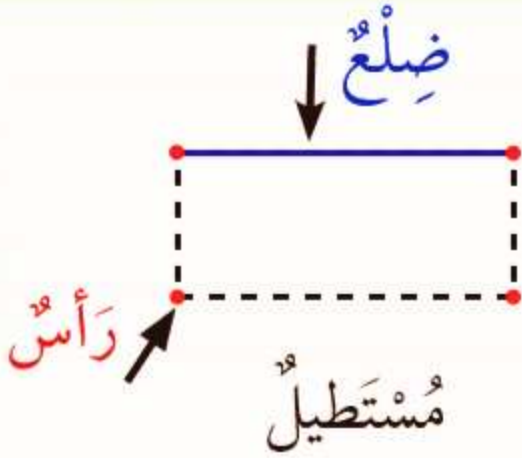


ارسم الشكل المستوي الذي يظهر على المجسم المجاور




حل
الخطوة

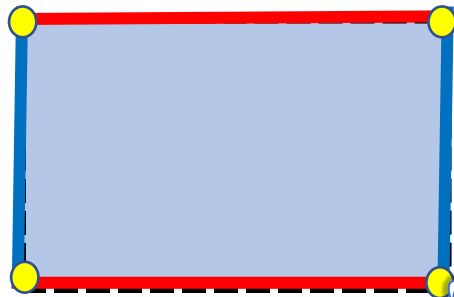

المربع والمستطيل



أكمل شكل المربع والمستطيل فيما يأتي :-



أكتب عدد الرؤوس وأضلاع في المربع والمستطيل فيما يأتي: -

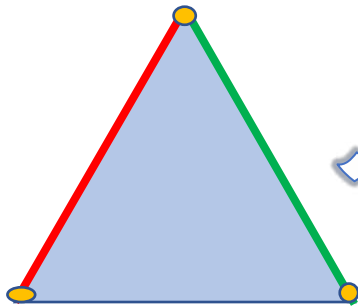


عدد الرؤوس
عدد أضلاع

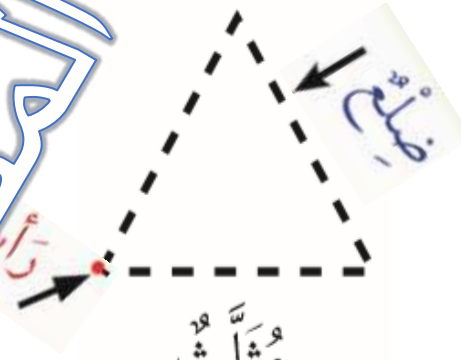


عدد الرؤوس
عدد أضلاع





الدائرة والمثلث



الخطوط

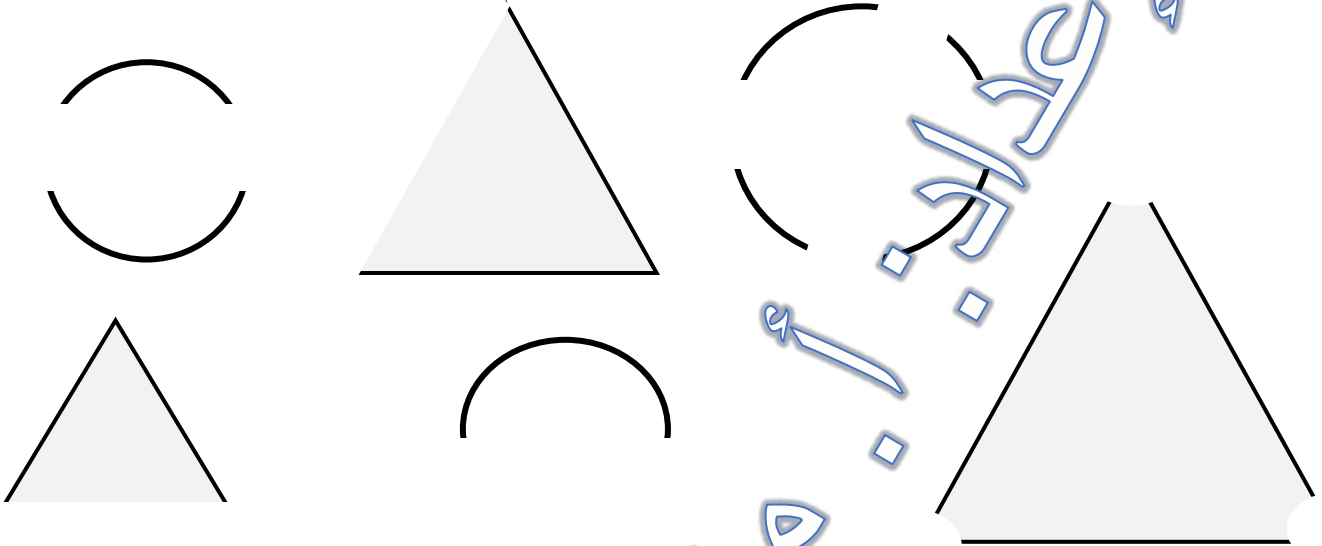


مثلث




دائرة

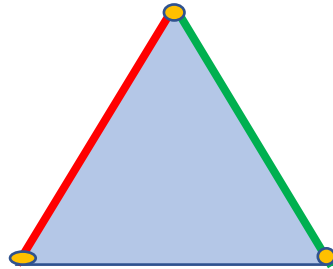
أكمل شكل المثلث والدائرة فيما يأتي: -




أكتب عدد الرؤوس وأضلاع في المثلث والدائرة فيما يأتي: -




عدد الرؤوس
عدد أضلاع



عدد الرؤوس
عدد أضلاع

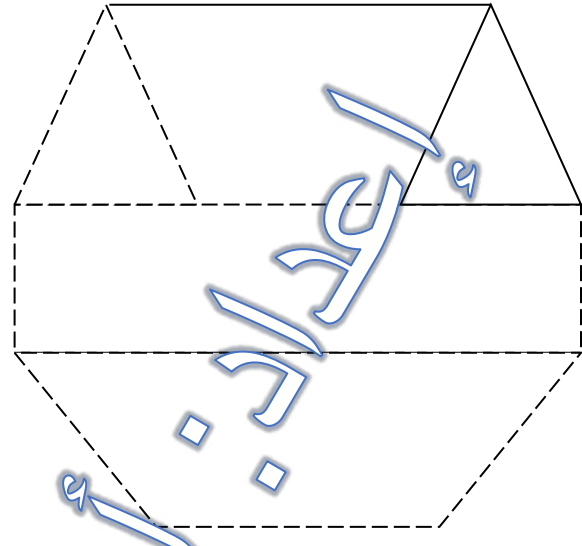
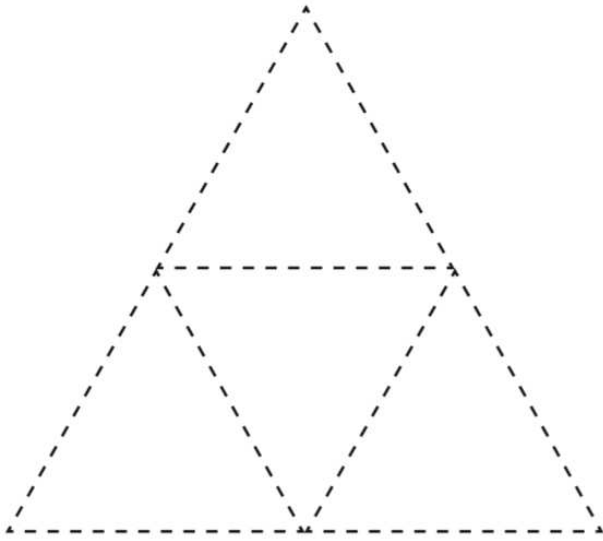


عدد الرؤوس
عدد أضلاع




عدد الرؤوس
عدد أضلاع

يستعمل قصاصات أورك ملونة في تلصيق على الأشكال.






أعداد

الأجزاء المتساوية: ضع علامة على الصورة التي اجزائها المتساوية.

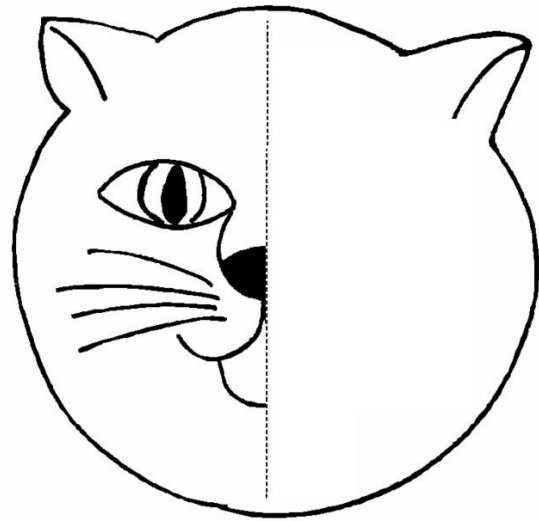
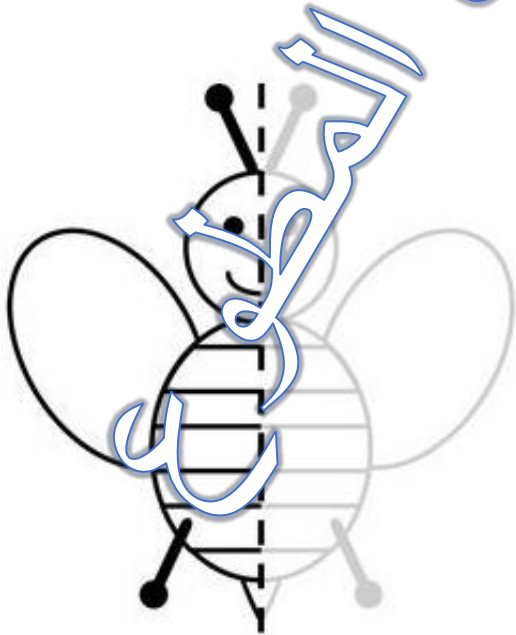


الخطوط


ارسم خطاً يقسم الشكل إلى جزأين متساويين.



لون نصف متساوياً في الشكل.

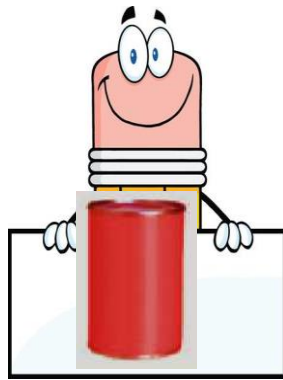


ضع علامة على الجواب الصحيح فيما يأتي: -



مَخْرُوطٌ

مُكَعَّبٌ




مَخْرُوطٌ

أَسْطُوَانَةٌ



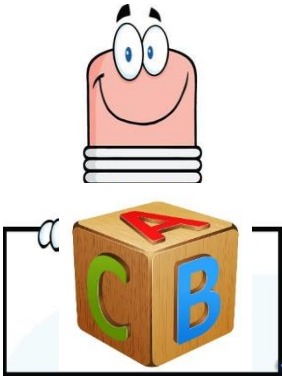
كُرَةٌ

أَسْطُوَانَةٌ




مُكَعَّبٌ

كُرَةٌ



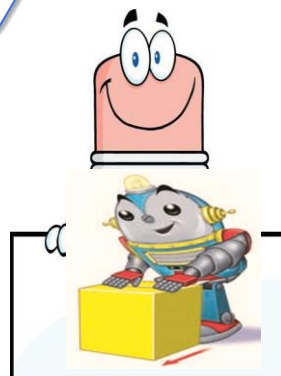
شكل الجسم

شكل المستوي




يتراص

يتدرج



ينزلق

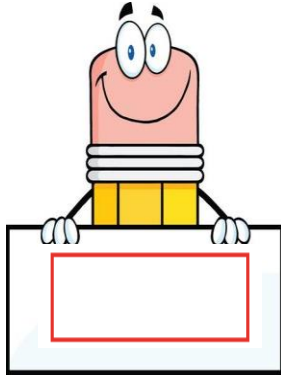
يتراص



يتدرج

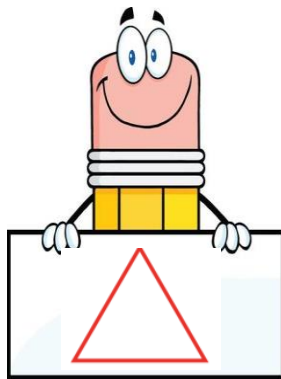
ينزلق

ضع علامة على الجواب الصحيح فيما يأتي: -



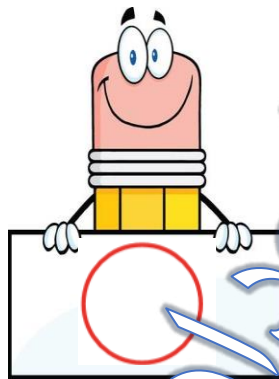
مستطيل

مربع



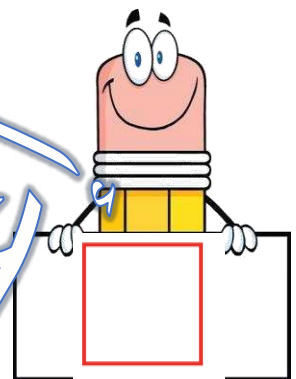
مثلث

مربع



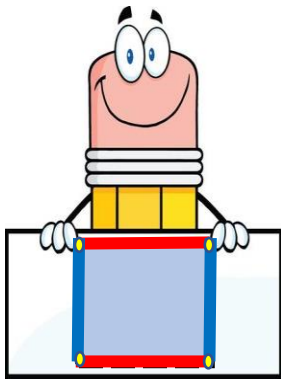
مستطيل

دائرة



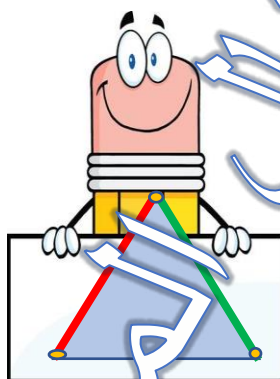
مربع

مثلث



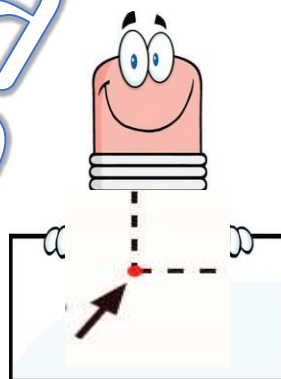
عدد الرؤوس ٣

عدد الرؤوس ٤



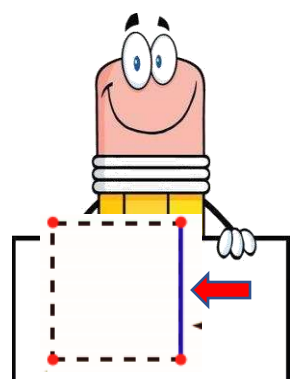
عدد الاضلاع ٣

عدد الاضلاع ٤



رأس

ضلع



رأس

ضلع