

تم تحميل هذا الملف من موقع المناهج البحرينية



\* للحصول على أوراق عمل لجميع الصفوف وجميع المواد اضغط هنا

<https://almanahj.com/bh>

\* للحصول على أوراق عمل لجميع مواد الصف الأول اضغط هنا

<https://almanahj.com/bh/1>

\* للحصول على جميع أوراق الصف الأول في مادة علوم ولجميع الفصول, اضغط هنا

<https://almanahj.com/bh/1science>

\* للحصول على أوراق عمل لجميع مواد الصف الأول في مادة علوم الخاصة بـ الفصل الأول اضغط هنا

<https://almanahj.com/bh/1science1>

\* لتحميل كتب جميع المواد في جميع الفصول للـ الصف الأول اضغط هنا


<https://almanahj.com/bh/grade1>

[almanahjbhbot/me.t//:https](https://t.me/almanahjbhbot)

للتحدث إلى بوت على تلغرام: اضغط هنا

# تقويم في مادة العلوم صف الأول الأساسي

السؤال الأول: ضع الرقم المناسب في المربع اسفل الصورة



1. الساق


2. الأوراق

3. الجذور

4. الأزهار

5. الثمار

6. ضوء



السؤال الثاني ضع علامة (✓) وعلامة (x)




1. الجذور تنتج الغذاء للنباتة ( )

2. الساق تنتج البذور ( )


3. السهل هو يابسة منبسطة ليس فيه جبال ولا أودية ( )

4. تحتاج النباتات لتعيش ماء وهواء فقط ( )


السؤال الثالث: رتب نمو النبتة بكتابة الأعداد بالترتيب




السؤال الرابع وصل الكلمة بما يناسبها من صور



السهل



الوادي



الجبل