

تم تحميل هذا الملف من موقع المناهج البحرينية



\* للحصول على أوراق عمل لجميع الصفوف وجميع المواد اضغط هنا

<https://almanahj.com/bh>

\* للحصول على أوراق عمل لجميع مواد الصف الأول اضغط هنا

<https://almanahj.com/bh/1>

\* للحصول على جميع أوراق الصف الأول في مادة علوم ولجميع الفصول, اضغط هنا

<https://almanahj.com/bh/1science>

\* للحصول على أوراق عمل لجميع مواد الصف الأول في مادة علوم الخاصة بـ الفصل الأول اضغط هنا

<https://almanahj.com/bh/1science1>

\* لتحميل كتب جميع المواد في جميع الفصول للـ الصف الأول اضغط هنا

<https://almanahj.com/bh/grade1>

\* لتحميل جميع ملفات المدرس معهد الغد المشرق الأزهري اضغط هنا

[almanahjbhbot/me.t//:https](https://t.me/almanahjbhbot)

للتحدث إلى بوت على تلغرام: اضغط هنا



# علوم

## الاسئلة الدرس الأول


١) ضع دائرة حول الكائنات الحية:-



-١



-٢



-٣



-٤



-٥



-٦



-٧





# علوم



-٨



-٩



-١٠

٢- ضع علامة (✓) أو (x) :-



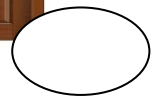
الشجرة من الأشياء غير الحية.



القلم من الكائنات الحية.



هذا إنسان



الباب من الأشياء غير الحية.








القطة من الحيوانات.



النخلة من الكائنات الحية .



الكتاب من الكائنات الحية.



المسطرة من الأشياء غير الحية.



اللعبة من الكائنات الحية.



المرآه من النبات.



الماعز من الحيوان .



التليفزيون من الكائنات الحية.





٣- اختر الإجابة الصحيحة:



الشجرة

(حيوان - نبات)



الكلب

(حيوان - نبات)



الطفل

(إنسان - نبات)



الوردة

(حيوان - نبات)



القطّة

(نبات - حيوان)



المفتاح

(حيوان - شيء غير حي)








# علوم



الباب

(حيوان - شيء غير حي)



الدجاجة

(حيوان - شيء غير حي)



الشباك

(شيء غير حي - نبات)



الكمبيوتر

(نبات - شيء غير حي)





# علوم

## الدرس الثاني

١) ضع علامة (✓) أو (x):-

( )



١- الباب لا يأكل .

( )



٢- الولد لا يتنفس .

( )



٣- الشجرة تتحرك.

( )



٤- الكتاب يأكل

( )



٥- البنت لا تأكل.

( )



٦- الشباك يتنفس.

( )



٧- الكلب لا يتحرك.





# علوم



٨- المرأة تتحرك.

( )



٩- الشمسية تتكاثر.

( )



١٠- الأعشاب تتحرك.

( )

## ٢) اختر الإجابة الصحيحة:-

١- الرجل (يستطيع - لا يستطيع) النمو.

٢- الكتاب (يستطيع - لا يستطيع) التغذية .

٣- الكمبيوتر (يستطيع - لا يستطيع) الحركة.

٤- القطة (تستطيع - لا تستطيع) التكاثر.

٥- الشجرة (تستطيع - لا تستطيع) التنفس.







# علوم

٦- الشمسية (تستطيع – لا تستطيع) التغذية.

٧- الانسان (يستطيع – لا يستطيع) الإخراج.

٨- السمكة (تستطيع – لا تستطيع) الإحساس.

٩- الشباك (يستطيع – لا يستطيع) التكاثر.

١٠- البطة (تستطيع – لا تستطيع) الحركة.





## الدرس الثالث

١) ضع علامة (✓) أو علامة (x) :-

- ١- النباتات لا تحتاج الضوء. ( )
- ٢- القلم يشعر. ( )
- ٣- الولد يحتاج للغذاء. ( )
- ٤- الكائنات الحية تستطيع أن تعيش بدون الضوء. ( )
- ٥- الكائنات الحية تشعر. ( )
- ٦- الضوء ودرجة الحرارة المناسبة أشياء غير ضرورية للحياة. ( )
- ٧- الباب يستطيع النمو. ( )
- ٨- النباتات تحتاج الماء لكي تنمو. ( )
- ٩- القطط والكلاب تعيش في الظلام. ( )
- ١٠- الكائنات الحية تحتاج الهواء والضوء فقط. ( )





# علوم

## ٢- أختَر الإجابة الصحيحة:-

- ١- الولد (يستطيع - لا يستطيع) النمو.
- ٢- النبات (يحتاج- لا يحتاج) الضوء.
- ٣- القلم (يحتاج - لا يحتاج) الغذاء.
- ٤- القرد (يحتاج - لا يحتاج) درجة الحرارة المناسبة.
- ٥- الرجل (يحتاج - لا يحتاج) الضوء.

## ٣- ضع دائرة حول الصورة الصحيحة:-




١- يحتاج الماء ليعيش.



٢- لا يحتاج الضوء.



٣- الكائنات الحية تحتاج.



٤- الشجرة تحتاج.







الإجابة

الدرس الأول


١) ضع دائرة حول الكائنات الحية:-



-١




-٢



-٣



-٤



-٥



-٦




-٧






# علوم



٨-



٩-



١٠-

٢) ضع علامة (✓) أو (x) :-



x

الشجرة من الأشياء غير الحية.



x

القلم من الكائنات الحية.



✓

هذا إنسان



✓

الباب من الأشياء غير الحية.








✓




✓

القطة من الحيوانات.

النخلة من الكائنات الحية.



✗



✓

الكتاب من الكائنات الحية.

المسطرة من الأشياء غير الحية.



✗



✗

اللعبة من الكائنات الحية.

المرأة من النبات.



✓



✗

الماعز من الحيوان.

التلفزيون من الكائنات الحية.







# علوم

## ٤) اختر الإجابة الصحيحة:



الشجرة

(حيوان – نبات)



الكلب

(حيوان – نبات)



الطفل

(إنسان – نبات)



الوردة

(حيوان – نبات)



القطّة

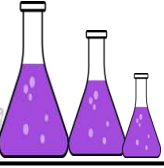
(نبات – حيوان)



المفتاح

(حيوان – شيء غير حي)






# علوم



الباب

(حيوان - شيء غير حي)



الدجاجة

(حيوان - شيء غير حي)



الشباك

(شيء غير حي - نبات)



الكمبيوتر

(نبات - شيء غير حي)





# علوم

## الدرس الثاني

١) ضع علامة (✓) أو (×) :-

(✓)



١- الباب لا يأكل .

(×)




٢- الولد لا يتنفس .

(✓)



٣- الشجرة تتحرك.

(×)



٤- الكتاب يأكل

(×)



٥- البنت لا تأكل.

(×)



٦- الشباك يتنفس.

(×)



٧- الكلب لا يتحرك.

(✓)



٨- المرأة تتحرك.

(×)



٩- الشمسية تتكاثر.

(✓)



١٠- الأعشاب تتحرك.







# علوم

## ٢) اختر الإجابة الصحيحة:-

- ١- الرجل يستطيع - لا يستطيع) النمو.
- ٢- الكتاب (يستطيع - لا يستطيع) التغذية .
- ٣- الكمبيوتر (يستطيع - لا يستطيع) الحركة.
- ٤- القطة تستطيع - لا تستطيع) التكاثر.
- ٥- الشجرة تستطيع - لا تستطيع) التنفس.
- ٦- الشمسية (تستطيع - لا تستطيع) التغذية.
- ٧- الانسان يستطيع - لا يستطيع) الإخراج.
- ٨- السمكة تستطيع - لا تستطيع) الإحساس.
- ٩- الشباك (يستطيع - لا يستطيع) التكاثر.
- ١٠- البطة تستطيع - لا تستطيع) الحركة.





# علوم

## الدرس الثالث

١) ضع علامة (✓) أو علامة (x) :-

- ١- النباتات لا تحتاج الضوء.
- ٢- القلم يشعر.
- ٣- الولد يحتاج للغذاء.
- ٤- الكائنات الحية تستطيع أن تعيش بدون الضوء.
- ٥- الكائنات الحية تشعر.
- ٦- الضوء ودرجة الحرارة المناسبة أشياء غير ضرورية للحياة.
- ٧- الباب يستطيع النمو.
- ٨- النباتات تحتاج الماء لكي تنمو.
- ٩- القطن والكلاب تعيش في الظلام.
- ١٠- الكائنات الحية تحتاج الهواء والضوء فقط.





# علوم

## ٢- اختر الإجابة الصحيحة :-

١- الولد يستطيع - لا يستطيع) النمو.

٢- النبات (يحتاج - لا يحتاج) الضوء.

٣- القلم (يحتاج - لا يحتاج) الغذاء.

٤- القرد (يحتاج - لا يحتاج) درجة الحرارة المناسبة.

٥- الرجل (يحتاج - لا يحتاج) الضوء.

## ٥- ضع دائرة حول الصورة الصحيحة:-





١- يحتاج الماء ليعيش.



٢- لا يحتاج الضوء.



٣- الكائنات الحية تحتاج.



٤- الشجرة تحتاج.

