

تم تحميل هذا الملف من موقع المناهج البحرينية



*للحصول على أوراق عمل لجميع الصفوف وجميع المواد اضغط هنا

<https://almanahj.com/bh>

* للحصول على أوراق عمل لجميع مواد الصف الأول اضغط هنا

<https://almanahj.com/bh/1>

* للحصول على جميع أوراق الصف الأول في مادة علوم ولجميع الفصول, اضغط هنا

<https://almanahj.com/bh/1>

* للحصول على أوراق عمل لجميع مواد الصف الأول في مادة علوم الخاصة بـ اضغط هنا <https://almanahj.com/bh/1>

* لتحميل كتب جميع المواد في جميع الفصول للـ الصف الأول اضغط هنا

<https://almanahj.com/bh/grade1>

[almanahjbhbot/me.t//:https](https://t.me/almanahjbhbot)

للتحدث إلى بوت على تلغرام: اضغط هنا

الوحدة الثالثة : أرضنا

الفصل الخامس : معالم اليابسة .



ملخص الدرس الاول والثاني (الصخور والتربة ، تغير اليابسة)

الصخور
جميع الصخور تتكون من المعادن.

المعادن
شئ صلب غير حي في الارض.



نحاس



فضة



ذهب

١- بعض يتكون من عدة معادن.

٢- وبعض يتكون من معدن واحد.

الصخور

تختلف

ناعمة الملمس

خشنة الملمس (قاسية)

أشكالها

ألوانها

داكنة

فاتح

أحجامها



ضع علامة (V) أمام العبارة الصحيحة وعلامة (x) أمام العبارة الخاطئة

١

تختلف الصخور في الاشكال فقط .

تختلف الصخور في أشكالها والوانها واحجامها.

تختلف الصخور في أشكالها والوانها واحجامها.

دائماً الصخور تكون ناعمة الملمس .

دائماً الصخور تكون لامعة فقط.

ليست جميع الصخور لينة.

جمع الصخور تتكون من معادن.

فيم تتشابه المعادن ؟ ضع علامة (V) أمام العبارة الصحيحة وعلامة (x) أمام العبارة الخاطئة .

٢

شئ صلب غير حي في الارض.

شئ صلب حي في الارض.

في أشكالها والوانها واحجامها.



اختار الإجابة الصحيحة

٣

جميع الصخور تتكون من

ماء

معادن

خشب

المعدن عبارة عن مادة

سائلة

غازية

صلب

.....الصخور في أشكالها والوانها واحجامها

متماثل

تختلف

تتشابه

صل الكلمة المناسبة الى الصورة المناسبة :-

٤



خشنة اللمس (قاسية)

فاتح

لامعة

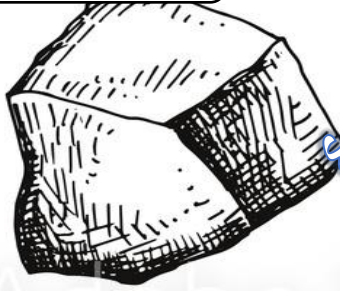
داكنة

لون الحجر حسب المطلوب:-

أسود



أخضر




أحمر



أبيض




أزرق



أصفر




لون الحجر الكبير بالأحمر والحجر الصغير بالأخضر .



الوحدة الثالثة : أرضنا

الفصل الخامس : معالم اليابسة .

ملخص الدرس الاول والثاني (الصخور والتربة ، تغير اليابسة)



تغير اليابسة

التربة

هي الطبقة العليا من سطح اليابسة، وفتات الصخور.


تتكون التربة

الهواء

بقايا حيوانات

الماء

بقايا نباتات



الوان التربة

يميل للون الأحمر.

الأصفر

الرمادي

بني



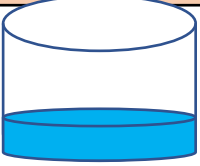
مميزات نوع كل تربة



التربة الرملية
خشنة



تحتفظ بالقليل جداً
من الماء



نباتات الصحراء
تتو جيداً



التربة الطينية زلقة



تحتفظ بالكثير
من الماء



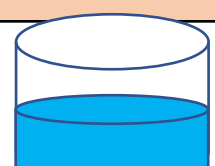
الكثير من النباتات لا
تتو جيداً



التربة الصفراء
(السطحية) مائعة



تحتفظ بالقليل
من الماء



معظم النباتات تنمو
جيداً



تحتوي على بقايا (حيوانات ونباتات وماء وهواء)

التربة الصفراء

١ صل الصورة التربة المناسبة إلى نوعها في ما يأتي :-




التربة الطينية زلقة

التربة الصفراء
(السطحية مفككة)

التربة الرملية
خشنة.


٢ مما تتكون التربة ؟




ارسم كمية الماء الذي يحتفظ به كل نوع من التربة:-

٣


التربة الرملية
خشنة



التربة الطينية زلقة

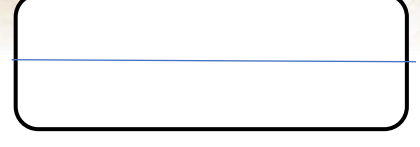




التربة الصفراء
(السطحية) مفككة





اذكر نوع التربة في ما ياتي:-

٤



حدد نوع التربة (الرملية ، الينبة ، الصفراء)

٥



اكتب المصطلح كل ما ياتي:-

٦

تحتوي على بقايا (حيوانات ونباتات وماء وهواء)

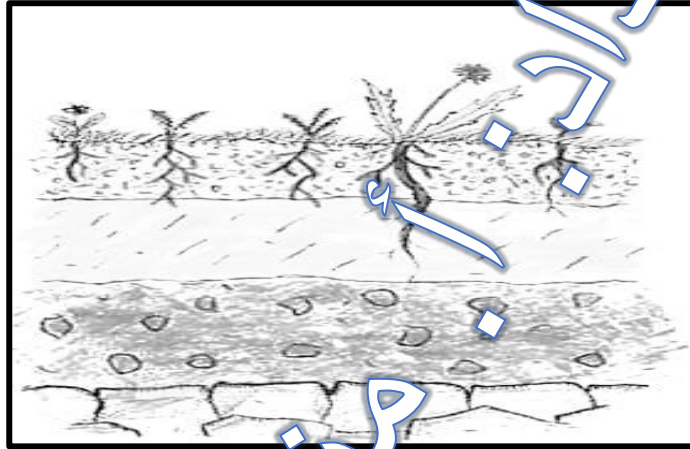
.....

هي الطبقة العليا من سطح اليابسة، وفتات الصخور.

.....

الون طبقة التربة فقط .

٧



صل الكلمات التالية حسب الصورة :-

٨

بقايا حيوانات

بقايا نباتات

الهواء

الماء



صل بين نوع التربة وصفاتها:-

٨

أكثر احتفاظاً
بالماء



أقل احتفاظاً
بالماء

لمسها ناعم

لونها أصفر

لمسها خشن



لونها بني

ضع علامة صح او خطأ.

٩

لون التربة الطينية خبي .

لون التربة الرملية أصفر .

لمس التربة الرملية ناعم .

لمس التربة الطينية خشن .

تعيش في التربة كائنات حي صغيرة .

التربة الطينية أقل احتفاظاً بالماء .

التربة الرملية لونها بني .

الوحدة الثالثة : أرضنا

الفصل الخامس : معالم اليابسة .

ملخص الدرس الاول والثاني (الصخور والتربة ، تغير اليابسة)

تغير اليابسة

العوامل المؤثرة في تغير الصخور واليابسة .

النباتات

تكسر
الصخور وتفتتها

تنقل التربة
وفتات الصخور



الرياح

تكسر
الصخور وتفتتها

تنقل التربة
وفتات الصخور



المياه

تكسر
الصخور وتفتتها

تنقل التربة
وفتات الصخور



امثلة المؤثرة في تغير الصخور واليابسة .

النباتات

نمو جذور

عرض ساق

الرياح

العواصف

الرياح

الهواء

المياه

الأنهار

الشلالات

امواج البحر

ينابيع الماء

المطار

المياه الجارية

تجمد الماء



اذكر العوامل المؤثرة في تغير الصخور واليابسة؟

١

العوامل المؤثرة في تغير الصخور واليابسة .

--	--	--

اكمل الجدول التالية:-

٢

العوامل المؤثرة في تغير الصخور واليابسة .

النباتات	الرياح
.....	تكسر الصخور وتفتتها
تنقل التربة وفتات الصخور

صل الكلمة المناسبة لصورة في ما يأتي :-

٣

النباتات

المياه

الرياح



أذكر مثلاً على ما يأتي من المياه ، الرياح ، النباتات .

٤

امثلة المؤثرة في تغير الصخور واليابسة .

النباتات

الرياح

المياه

صنف كل ما يأتي حسب نوعها.

٥

نمو جذور

الأنهار

العواصف

الشلالات

الهواء

امواج البحر

المطار

عرض ساق

النباتات

الرياح

المياه


ارسم جذور وساق الشجرة :-

٦

امثلة المؤثرة في تغير الصخور واليابس



عرض ساق



نمو جذور

صل الكلمة بالصورة المناسب لها:-

٧



الأنهار

الشلالات

امواج البحر

المطار

المياه الجارية

تجمد الماء



اكتب الكلمة الدارة على الصورة

٨



تجمد الماء

الأنهار

الرياح