

تم تحميل هذا الملف من موقع المناهج البحرينية



* للحصول على أوراق عمل لجميع الصفوف وجميع المواد اضغط هنا

<https://almanahj.com/bh>

* للحصول على أوراق عمل لجميع مواد الصف الأول اضغط هنا

<https://almanahj.com/bh/1>

* للحصول على جميع أوراق الصف الأول في مادة رياضيات ولجميع الفصول, اضغط هنا

<https://almanahj.com/bh/1math>

* للحصول على أوراق عمل لجميع مواد الصف الأول في مادة رياضيات الخاصة بـ الفصل الأول اضغط هنا

<https://almanahj.com/bh/1math1>

* لتحميل كتب جميع المواد في جميع الفصول للـ الصف الأول اضغط هنا

<https://almanahj.com/bh/grade1>

* لتحميل جميع ملفات المدرس ملاك البحر اضغط هنا

[almanahjbhbot/me.t//:https](https://t.me/almanahjbhbot)

للتحدث إلى بوت على تلغرام: اضغط هنا



الفصل ٣ الموقع والنمط

فوق وتحت

١

ضع دائرة حول الكلمة الصحيحة إذا كانت " فوق " أو تحت "

فوق

تحت



الكرة (فوق - تحت) الطاولة .

المزهريّة (فوق - تحت) الطاولة .

القلم (فوق - تحت) الطاولة .

الكتاب (فوق - تحت) الطاولة .

القطّة (فوق - تحت) الطاولة .


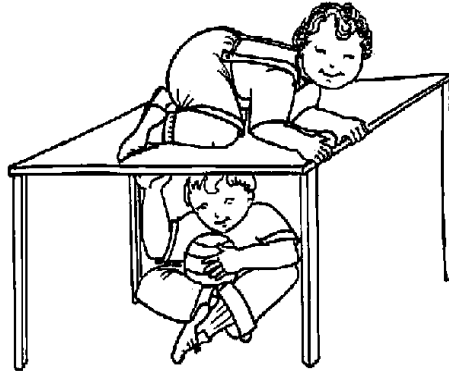

حوض السمك (فوق - تحت) الطاولة .



لون الابريق الذي فوق بالاحمر ، والابريق الذي تحت بالاصفر :-






لون الصورة التي تدل على (فوق) فقط



St.Takla or

لون الصورة التي تدل على (تحت) فقط




ملاك البحر

أرسم تحت الطاولة ٣ كرات وفوق الطاولة ٥ تفاحات :-



لون الأشياء الموجودة فوق الطاولة ، وضع دائرة حول الأشياء
الموجود تحت الطاولة



ملاك البحر

أعلى ، وأوسط ، وأسفل

٦

لون حسب المطلوب.




الأعلى



الوسط






الأسفل



الأسفل



الأعلى





الوسط



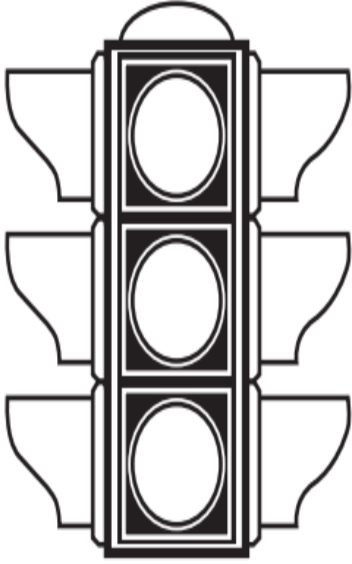
ملاك البحر

لون الطيور في الأعلى بالأخضر والطيور في الوسط بالأحمر،
والطيور في الأسفل بالأخضر.

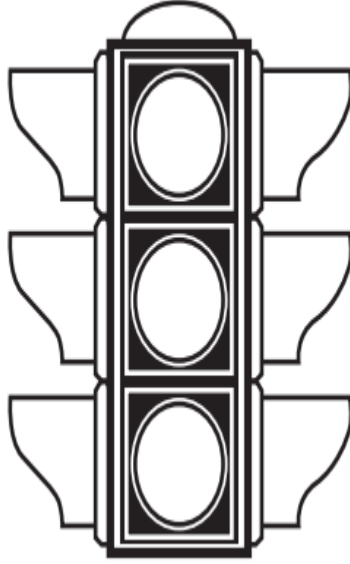


ملاك البحر

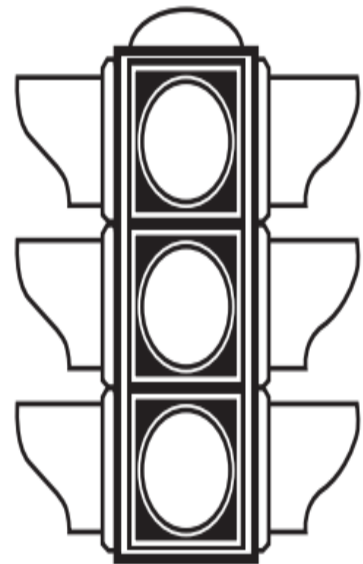
لون حسب المطلوب



في الاسفل
(أخضر)




في الأعلى
(احمر)




في الوسط
(أصفر)

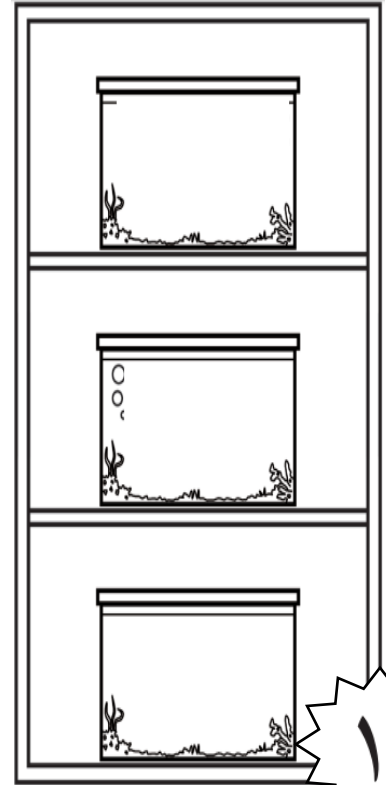
ارسم سمكة في الأعلى (١) وسمكة في الأسفل (٢)
سمكة في الوسط (٣)



ملاك البحر



٢





١

لون حسب المطلوب (قبل وبعد).



قبل الثاني .



بعد الثاني .





بعد الاول .



قبل الثاني .




بعد الثاني .



ضع دائرة حول الصورة التي تدل على المطلوب:-

الكتكوت الذي سيأكل قبل
الكتكوت الأزرق هو...




القطعة التي ستشرب الحليب
أولاً هي




الحيوان الذي سيأكل قبل
الحصان هو



المتسابق الذي سيصل
بعد المتسابق الأصفر هو



العصفور الذي سيصل
العيش آخر هو




ملاك البحر

ضع دائرة حول الصورة التي تدل على المطلوب:-


الحيوان الذي سيأكل قبل الحصان هو



العصفور الذي سيصل العيش آخر هو



القطعة التي ستشرب الحليب أولاً هي



المتسابق الذي سيصل بعد المتسابق الأصفر هو



ملاك البحر

إنشاء الأنماط

٤

ضع دائرة على النمط الصحيح في ما يأتي:-



ضع دائرة على النمط الصحيح في ما يأتي:-



ملاك البحر

ضع دائرة على النمط الصحيح في ما يأتي:-




ملاك البحر




تَحْدِيدُ الْأَنْمَاطِ

٥




لون المربعات على نفس النمط

--	--	--	--	--	--	--




لون المربعات على نفس النمط

--	--	--	--	--	--	--




لون المربعات على نفس النمط

--	--	--	--	--	--	--



لون المربعات على نفس النمط

--	--	--	--	--	--	--



لون المربعات على نفس النمط

--	--	--	--	--	--	--

ملاك البحر



لون المربعات لتمثيل النمط

		أزرق	أحمر	أزرق	أحمر
--	--	------	------	------	------

--	--	--	--	--	--

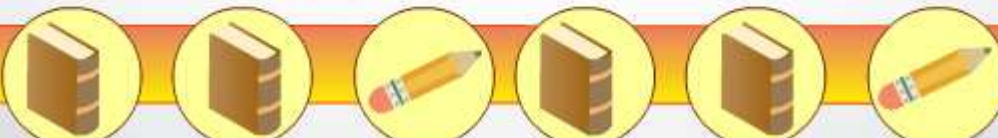
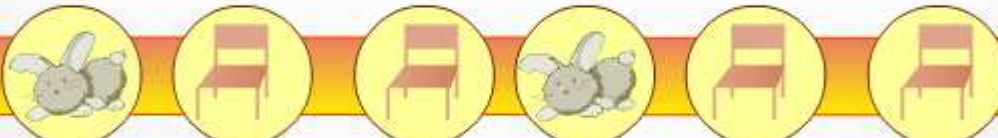
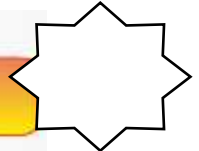

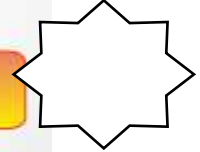
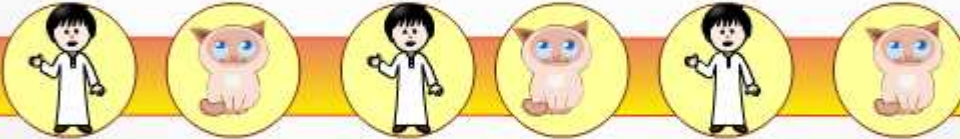
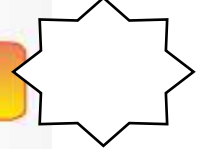
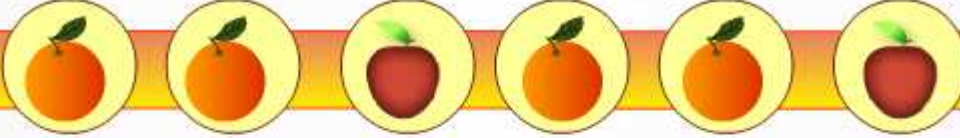
			أخضر	أخضر	أصفر
--	--	--	------	------	------

--	--	--	--	--	--

				أصفر	أخضر
--	--	--	--	------	------

--	--	--	--	--	--

ضع علامة على نفس النمط الذي فوق:-



ملاك البحر