

تم تحميل هذا الملف من موقع المناهج البحرينية



\* للحصول على أوراق عمل لجميع الصفوف وجميع المواد اضغط هنا

<https://almanahj.com/bh>

\* للحصول على أوراق عمل لجميع مواد الصف الأول اضغط هنا

<https://almanahj.com/bh/1>

\* للحصول على جميع أوراق الصف الأول في مادة اجتماعيات ولجميع الفصول, اضغط هنا

<https://almanahj.com/bh/1social>

\* للحصول على أوراق عمل لجميع مواد الصف الأول في مادة اجتماعيات الخاصة بـ الفصل الأول اضغط هنا

<https://almanahj.com/bh/1social1>

\* لتحميل كتب جميع المواد في جميع الفصول للـ الصف الأول اضغط هنا

<https://almanahj.com/bh/grade1>

\* لتحميل جميع ملفات المدرس ملاك البحر اضغط هنا

[almanahjbhbot/me.t//:https](https://t.me/almanahjbhbot)

للتحدث إلى بوت على تلغرام: اضغط هنا

# الوحدة الأولى : النباتات من حولنا

## الفصل الأول: النباتات مخلوقات حية

ملخص الفصل الأول ( النباتات مخلوقات حية )

الأشياء من حولنا .

أشياء غير حية

\* لا تنمو وتتغير

\* لا تحتاج إلى الماء ، الغذاء ،  
الهواء .

أمثال : القلم ، الملابس ، الأثاث ...

مخلوقات حية


\*تنمو وتتغير

تحتاج إلى الماء ، الغذاء ، الهواء ، الضوء .

أمثال : الانسان ، الحيوان ، النباتات ...

حوظ الأشياء الحية باللون الأزرق والأشياء الغير الحية باللون الأحمر.


1



ملاك البحر


2

لون الصور التي تمثل أشياء لا تنمو ولا تكبر.




3

ضع دائرة على الأشياء التي لا تحتاج إلى ماء وهواء والغذاء



4

ضع دائرة على الأشياء التي تحتاج إلى ماء وهواء والغذاء



ملاك البحر

5

ماذا تحتاج مخلوقات حية ؟ ضع علامة ( ✓ )

السفر

الماء

الكهرباء

الضوء

الهواء

الغذاء

6

أضع علامة ( ✓ ) أمام الاجابة الصحيحة وعلامة ( ✗ ) امام الإجابة الخاطئة :

المخلوقات الحية تنمو وتتغير .

من المخلوقات غير الحية الثعبان .



النباتات من الاشياء غير الحية .

الاشياء الحية بحاجة الى ماء ، والهواء والغذاء .

ملاك البحر

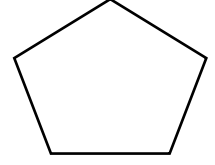
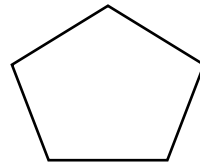
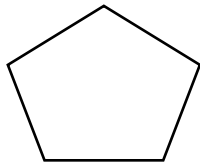
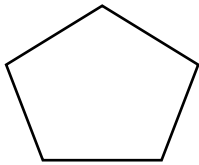
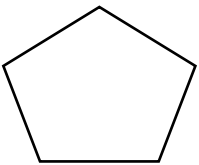
7

صل بخط ( الحصان ) مع الاشياء التى يحتاج إليها.




8


رقم الرسوم بحسب نموالاتسان .



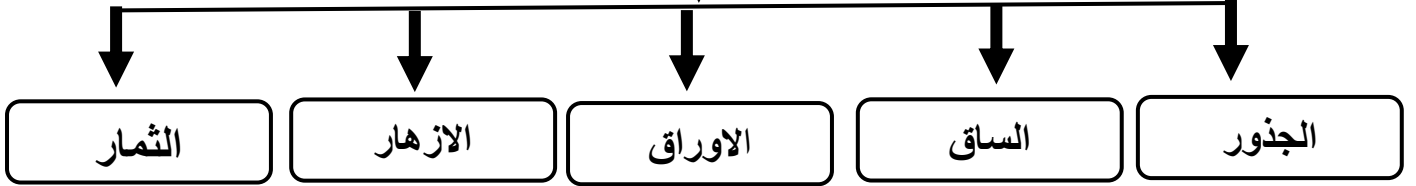
ملاك البحر



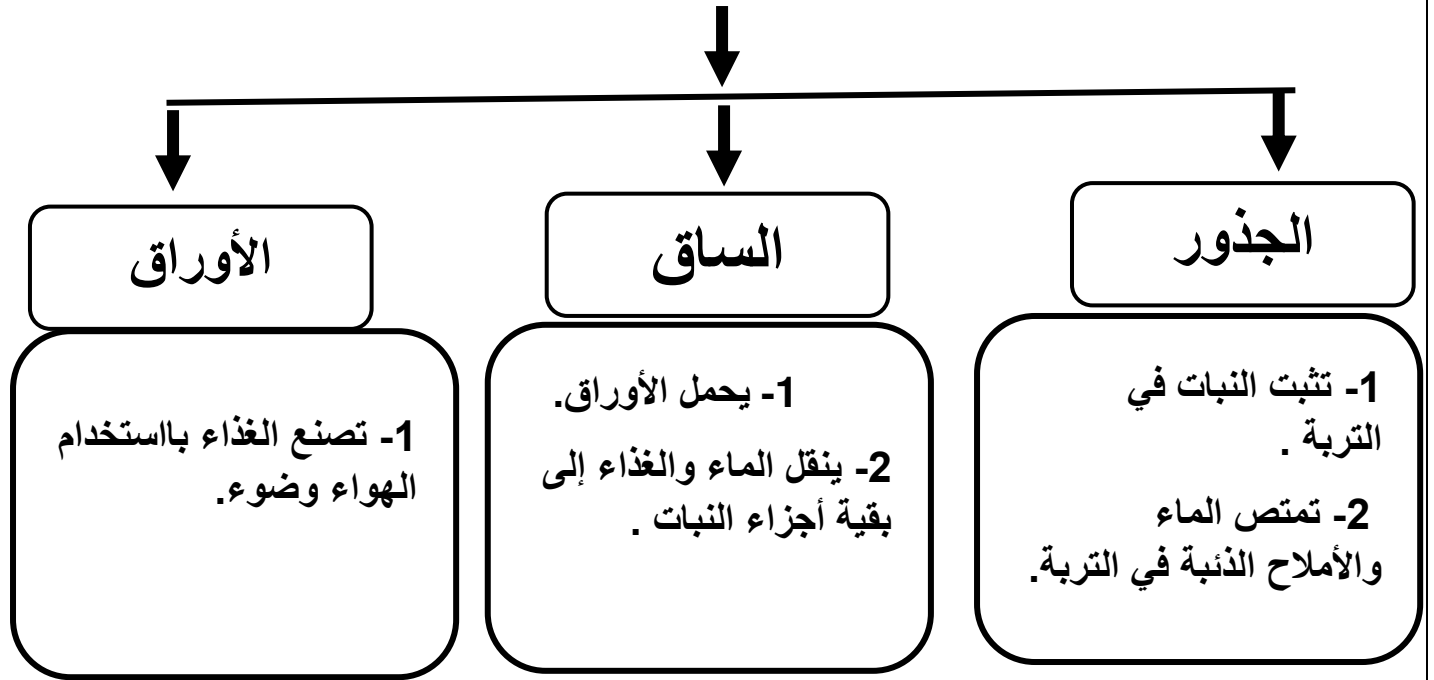
## النباتات وأجزاؤها



### أجزاء النبات

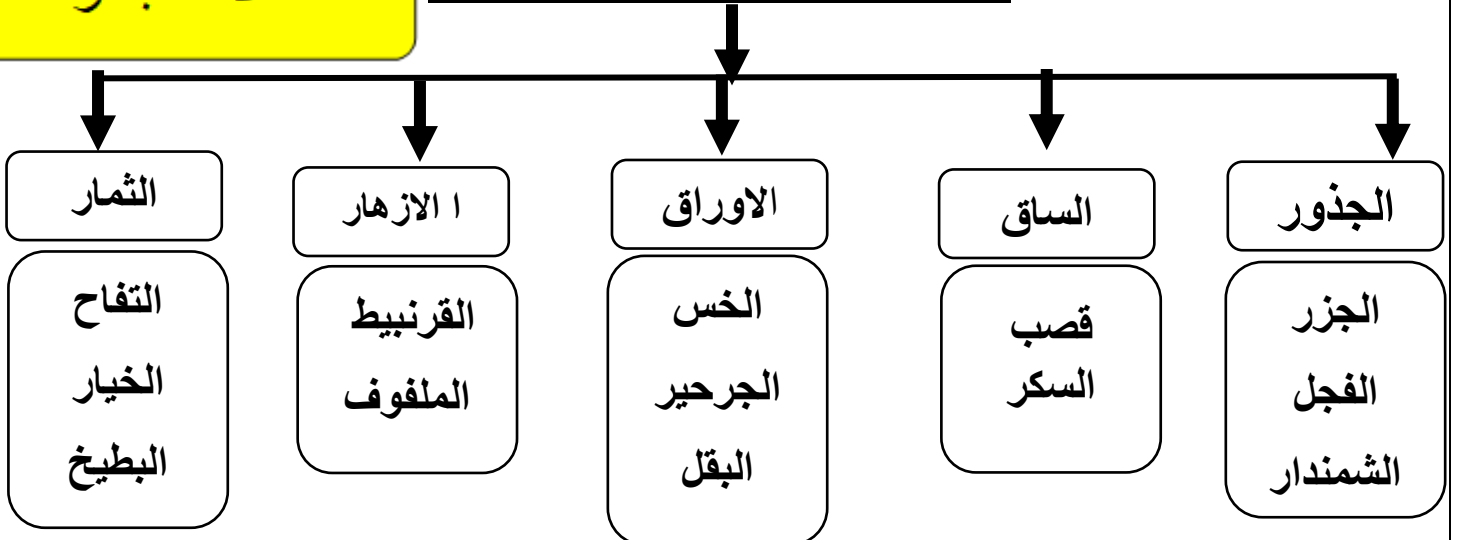


### وظائف اجزاء النباتات



### ملاك البحر

### الأجزاء التي تؤكل من النبات

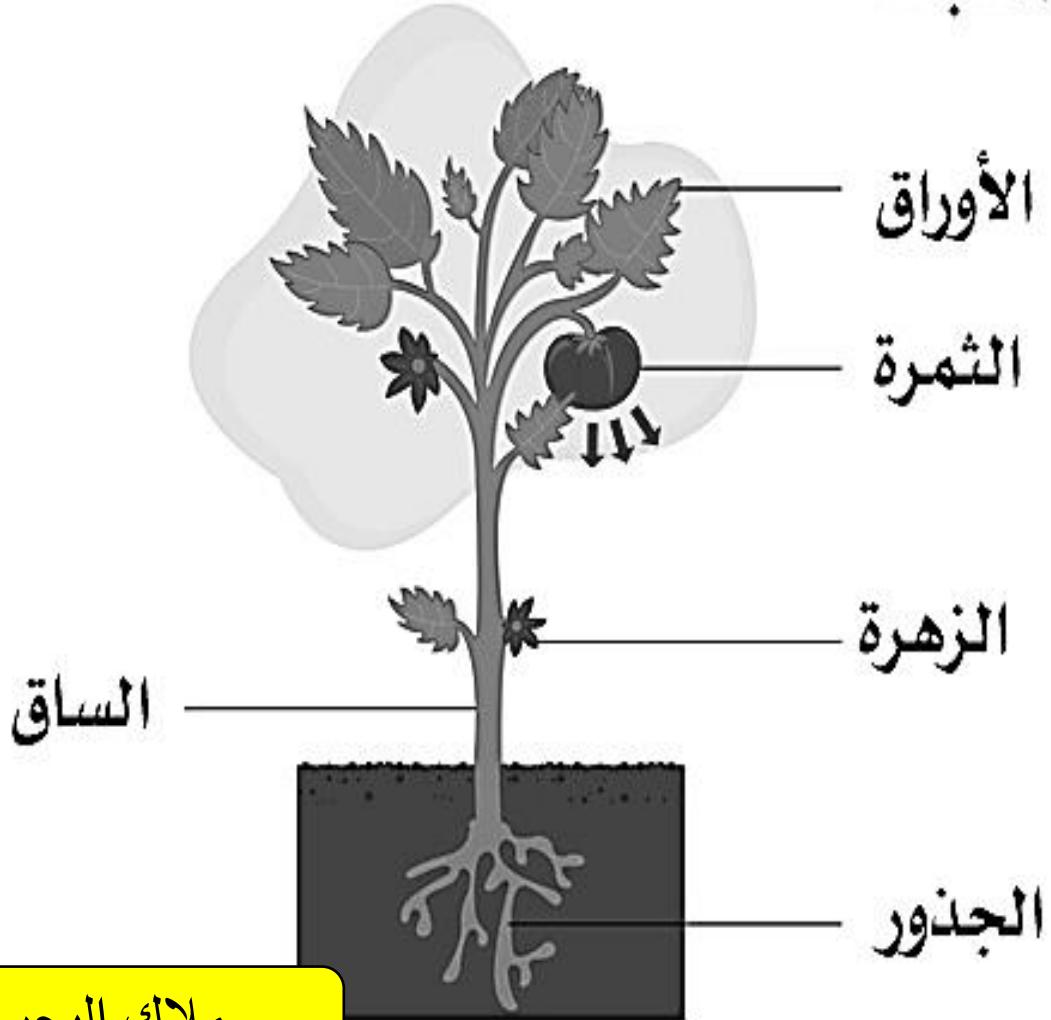


تختلف النباتات في : أشكالها ، وتختلف في شكل الأوراق ، والسيقان.

تعرف على أجزاء النبات .

1


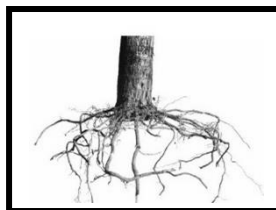

## أجزاء النبات




ملاك البحر

اكتب أجزاء النبات

2







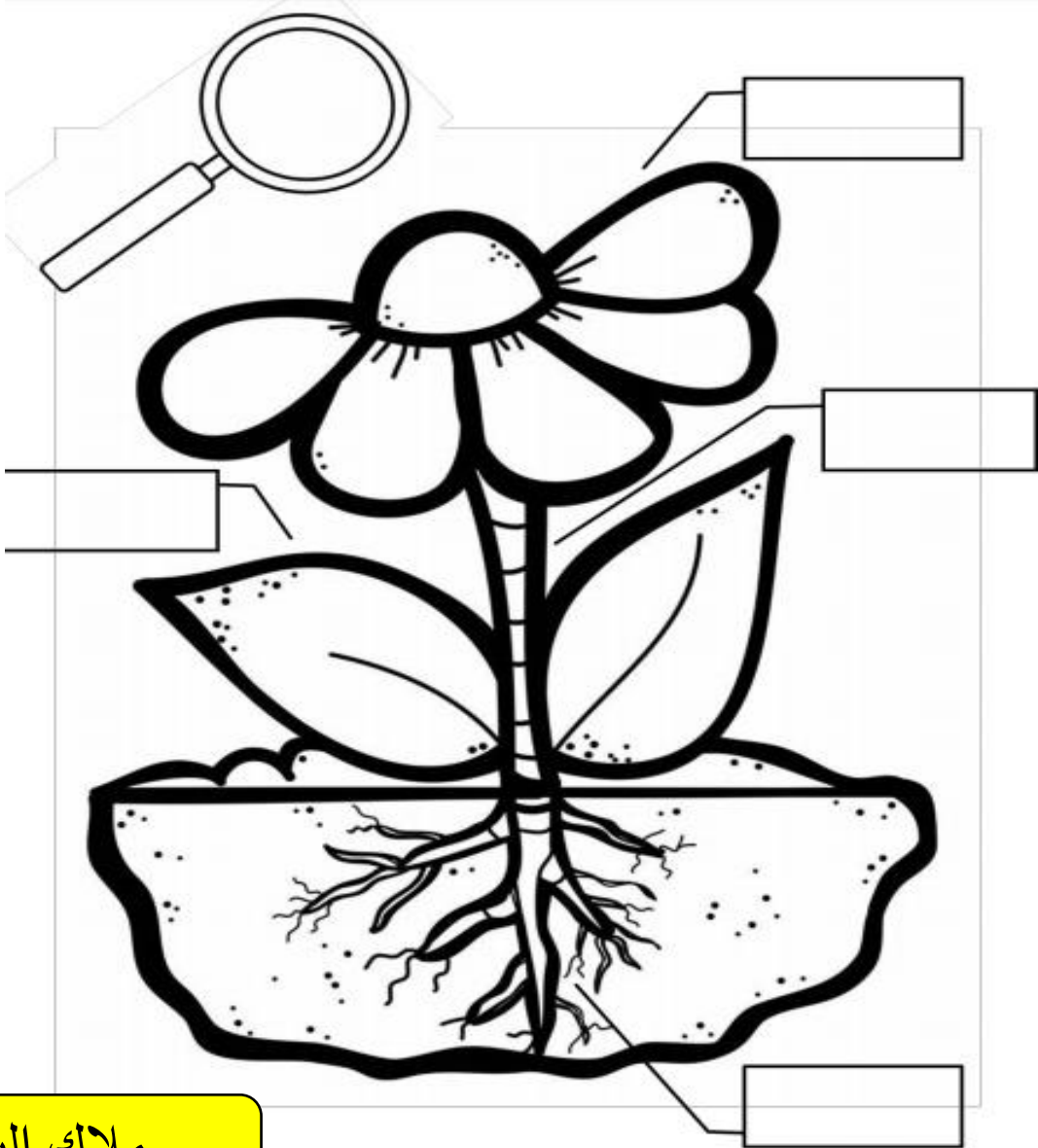
الساق

الازهار

الاوراق

الثمار

الجنور



ملاك البحر



ضع الرقم المناسب في المربع اسفل الصورة

4



1. الساق
2. الأوراق
3. الجذور
4. الأزهار
5. الثمار
6. ضوء




ضع علامة (✓) وعلامة (x)

5

- الجذور تنتج الغذاء للنباتة ( )
- المخلوقات الحية تنتج مخلوقات تشبهها ( )
- الكائنات الحية تنمو وتتغير ( )
- الساق تنتج البذور ( )
- الجذور تمتص الماء والاملاح الذائبة من التربة ( )
- الحيوانات مخلوقات حية ( )
- لا تحتاج النباتات الى ضوء الشمس لتعيش ( )
- الانسان كائن حي ( )


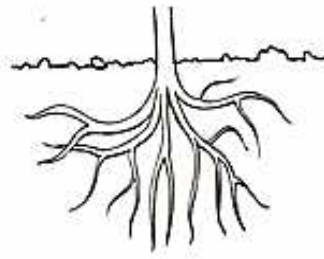

رتب نمو النبتة بكتابة الأعداد بالترتيب

6



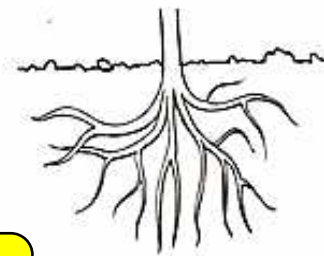

الجزء الذي يمتص الماء ويثبت النبات في التربة هو :

7




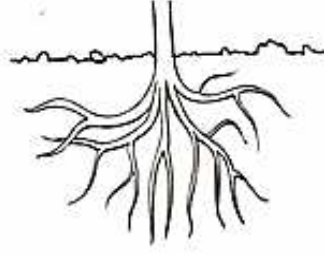

الجزء الذي ينتج الثمار :

8




ملاك البحر

الجزء الذي ينقل الماء إلى الأوراق ويحمل النبتة هو:-



ضع علامة صح (✓) الى ما يأتي من فائدة الأورق

- 1\_ تثبت النبات في التربة. ( )
- 2\_ يحمل الاوراق ( )
- 3\_ تمتص الماء والاملاح الذائبة في التربة. ( )
- 4\_ ينقل الماء والغذاء إلى بقية أجزاء النبات. ( )
- 5\_ تصنع الغذاء باستخدام الهواء وضوء الشمس. ( )
- 6\_ تتفتح زهرة وتصبح ثمرة. ( )



ضع علامة صح (✓) الى ما ياتي من فائدة الازهار

11

1\_ تثبت النبات في التربة. ( )

2\_ يحمل الاوراق ( )

3\_ تمتص الماء والاملاح الذائبة في التربة. ( )

4\_ ينقل الماء والغذاء إلى بقية أجزاء النبات. ( )

5\_ تصنع الغذاء باستخدام الهواء وضوء الشمس. ( )

6\_ تتفتح زهرة وتصبح ثمرة . ( )



ضع علامة صح (✓) الى ما ياتي من فائدة الجذور

12

1\_ تثبت النبات في التربة. ( )


2\_ يحمل الاوراق ( )

3\_ تمتص الماء والاملاح الذائبة في التربة. ( )

4\_ ينقل الماء والغذاء إلى بقية أجزاء النبات. ( )

5\_ تصنع الغذاء باستخدام الهواء وضوء الشمس. ( )

6\_ تتفتح زهرة وتصبح ثمرة . ( )



ملاك البحر

- (1) ( ) المخلوقات الحيّة تنمو وتتغير.
- (2) ( ) من أجزاء النبات الأوراق.
- (3) ( ) من المخلوقات غير الحيّة الثعبان.
- (4) ( ) الازهار النباتات مُختلفة عن بعضها البعض.
- (5) ( ) الجَمَلُ من الحيوانات الحية.
- (6) ( ) الطيور حيوانات يُغطي جسمها الشعر.
- (7) ( ) الأسد من الحيوانات آكلات اللحوم.
- (8) ( ) الضفدعُ أجزاء النبات.
- (9) ( ) التمساح بحاجة فقط الى ماء ليعش.
- (10) ( ) الإنسان من المخلوقات الحية.

## الاجزاء التى تؤكل من النبات هي:-

القرنبيط

الخبس

قصب السكر

الجزر


الملفوف

الجرجير

الفجل

التفاح

الخيار



الجزور

الساق

الأوراق

الأزهار

ملاك البحر







ألصق الصور أو الكلمات في مكانها المناسب

15

**بحنّاج النبات إلى:**

**أجزاء النبات هي:**





الضوء

التربة

الماء

الهواء

الأزهار

الجزور

الساق

الأوراق

ملاك البحر

ضع دائرة حول الكائنات الحية فقط:

17

