

تم تحميل هذا الملف من موقع المناهج البحرينية



الملف كراسة أنماط أرقامي

[موقع المناهج](#) ⇐ ⇐ [الصف الأول](#) ⇐ [رياضيات](#) ⇐ [الفصل الأول](#)

روابط مواقع التواصل الاجتماعي بحسب الصف الأول



روابط مواد الصف الأول على تلغرام

[الرياضيات](#)

[اللغة الانجليزية](#)

[اللغة العربية](#)

[التربية الاسلامية](#)

المزيد من الملفات بحسب الصف الأول والمادة رياضيات في الفصل الأول

نشاطات تقويمية	1
مذكرة شاملة	2
الفصل الخامس : الأعداد حتى 20	3
الأعداد من 0 - 5	4
الفصل 3 الموقع والنمط	5



KINGDOM OF BAHRAIN
Ministry of Education



مملكة البحرين
وزارة التربية والتعليم

Sanad Primary Girls School

مدرسة سند الابتدائية للبنات

أنماط أرقام

موقع
المناهج البحرينية
almanahj.com/bh

كراسة في مادة الرياضيات للصف الأول
في وحدة أنماط الأعداد

مديرة المدرسة:
أم مريم الكيسي

إعداد:
أم بدرية ناجي



أكتب كل عدد كعشرة واحدة وبعض الآحاد:

اثنا عشر	١٢ = و آحاد
أربعة عشر	١٤ = و آحاد
سبعة عشر	١٧ = و آحاد
ثلاثة عشر	١٣ = و آحاد
ستة عشر	١٦ = و آحاد
خمسة عشر	١٥ = و آحاد
تسعة عشر	١٢ = و آحاد

أكتب العدد:

٥ عشرات =
٧ عشرات =
٣ عشرات =
٩ عشرات =
٤ عشرات =
٦ عشرات =
٨ عشرات =

أضع حول الإجابة الصحيحة:

٧

فردى زوجى

٤

فردى زوجى

١٠

فردى زوجى

١٥

فردى زوجى

١٤

فردى زوجى

١٩

فردى زوجى

٢٥

فردى زوجى

٢٠

فردى زوجى

أكتب الأعداد بالترتيب

١	٢	٣	٤	٥	٦	٧	٨	٩	١٠
١١	١٢	١٣	١٤	١٥	١٦	١٧	١٨	١٩	٢٠
٢١	٢٢	٢٣	٢٤	٢٥	٢٦	٢٧	٢٨	٢٩	٣٠
٣١	٣٢	٣٣	٣٤	٣٥	٣٦	٣٧	٣٨	٣٩	٤٠
٤١	٤٢	٤٣	٤٤	٤٥	٤٦	٤٧	٤٨	٤٩	٥٠
٥١	٥٢	٥٣	٥٤	٥٥	٥٦	٥٧	٥٨	٥٩	٦٠
٦١	٦٢	٦٣	٦٤	٦٥	٦٦	٦٧	٦٨	٦٩	٧٠
٧١	٧٢	٧٣	٧٤	٧٥	٧٦	٧٧	٧٨	٧٩	٨٠
٨١	٨٢	٨٣	٨٤	٨٥	٨٦	٨٧	٨٨	٨٩	٩٠
٩١	٩٢	٩٣	٩٤	٩٥	٩٦	٩٧	٩٨	٩٩	١٠٠

..... ، ،

٢ ، ٩ ، ٥

..... ، ،

٢١ ، ١٧ ، ٣

..... ، ،

٧٠ ، ٣٠ ، ٥٠

..... ، ،

٨ ، ٢٨ ، ١٨

..... ، ،

٢٥ ، ٣٥ ، ١٥

أعد بالقفز على خط الأعداد



..... ، ٦ ، ٤ ، ٢

..... ، ١٠ ، ٥

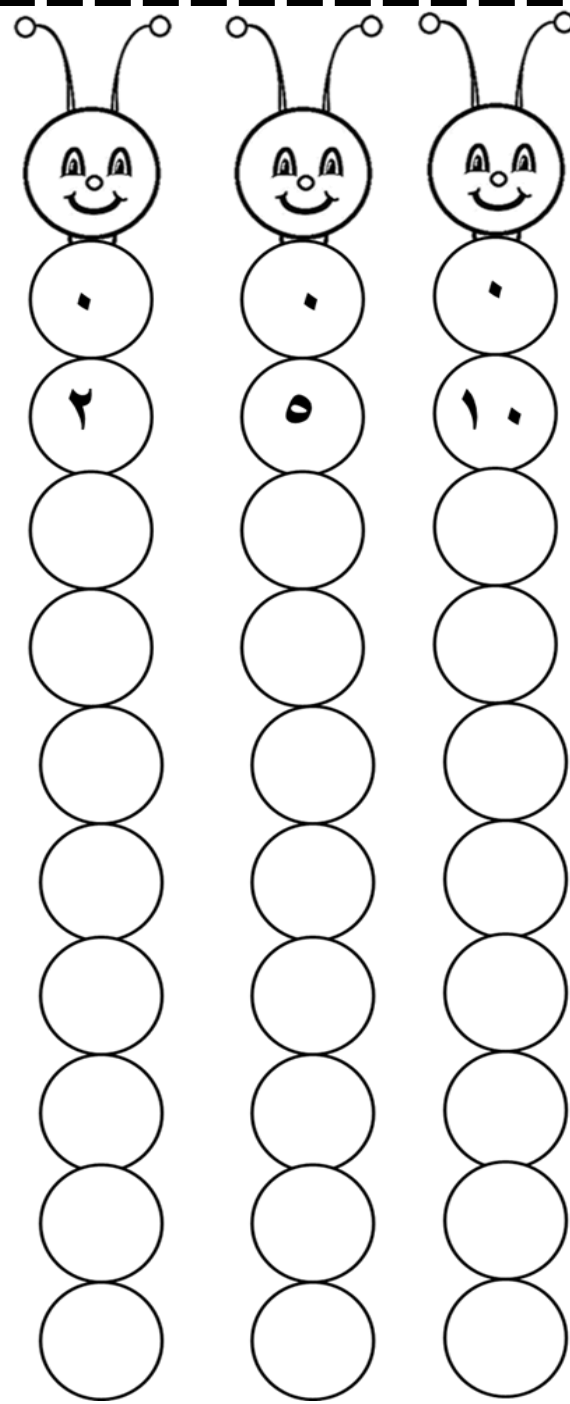
..... ، ٥ ، ٣ ، ١

..... ، ١٥ ، ٢٠

هيا نقفز على لوحة المئة

١	٢	٣	٤	٥	٦	٧	٨	٩	١٠
١١	١٢	١٣	١٤	١٥	١٦	١٧	١٨	١٩	٢٠
٢١	٢٢	٢٣	٢٤	٢٥	٢٦	٢٧	٢٨	٢٩	٣٠
٣١	٣٢	٣٣	٣٤	٣٥	٣٦	٣٧	٣٨	٣٩	٤٠
٤١	٤٢	٤٣	٤٤	٤٥	٤٦	٤٧	٤٨	٤٩	٥٠
٥١	٥٢	٥٣	٥٤	٥٥	٥٦	٥٧	٥٨	٥٩	٦٠
٦١	٦٢	٦٣	٦٤	٦٥	٦٦	٦٧	٦٨	٦٩	٧٠
٧١	٧٢	٧٣	٧٤	٧٥	٧٦	٧٧	٧٨	٧٩	٨٠
٨١	٨٢	٨٣	٨٤	٨٥	٨٦	٨٧	٨٨	٨٩	٩٠
٩١	٩٢	٩٣	٩٤	٩٥	٩٦	٩٧	٩٨	٩٩	١٠٠

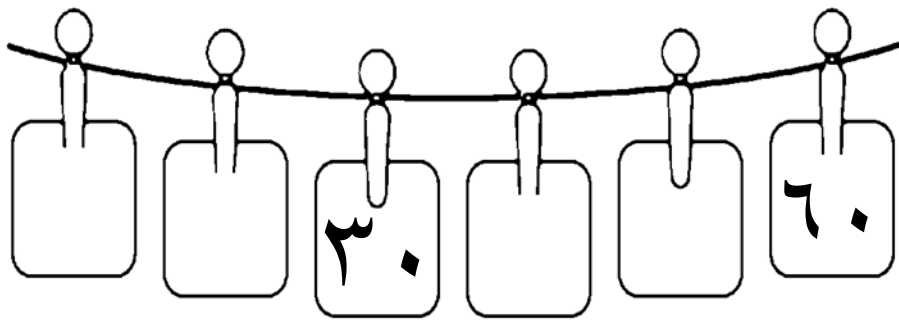
نقفز



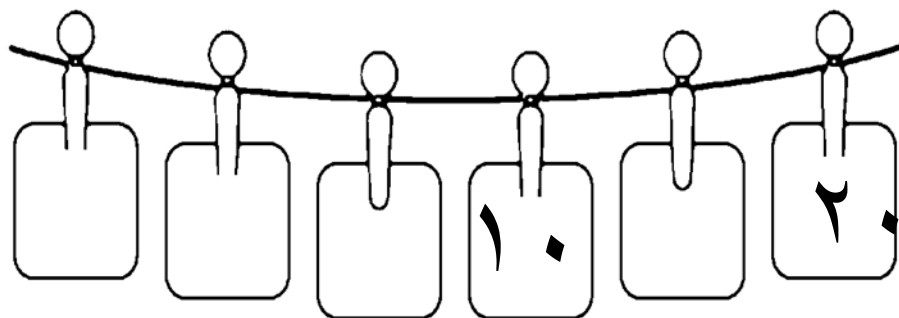
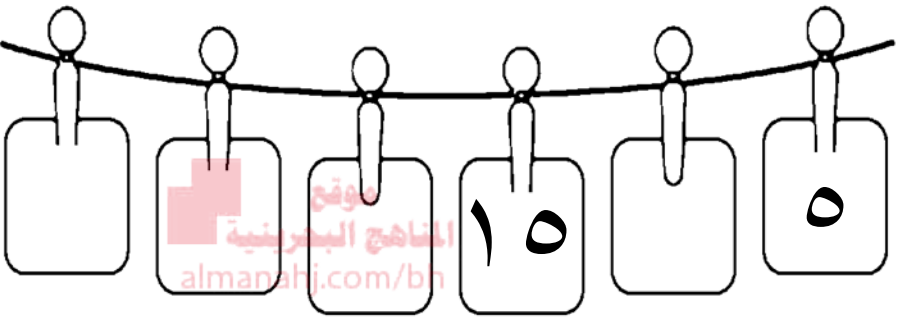
- أقفز بالاثنيينات مبتدئة بالعدد ٢ حتى أصل إلى العدد ٣٠ و أضع

- أقفز بالخمسات مبتدئة بالعدد ٥ حتى أصل إلى العدد ٥٠ و أضع

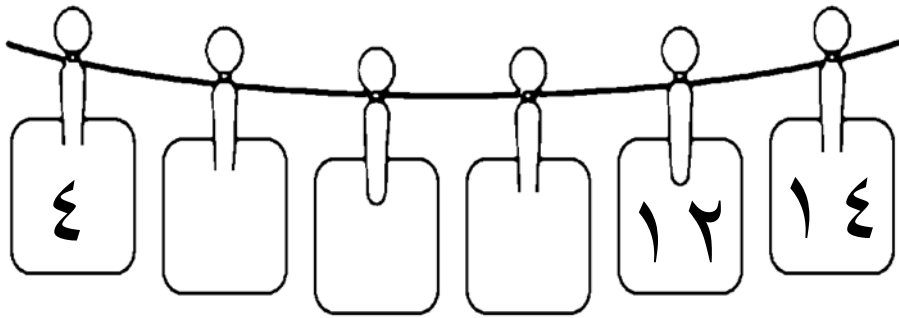
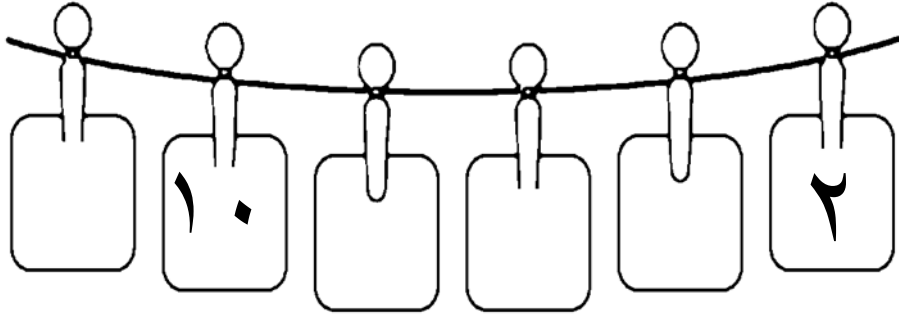
- أقفز بالعشرات مبتدئة بالعدد ١٠ حتى أصل إلى العدد ١٠٠ و أضع



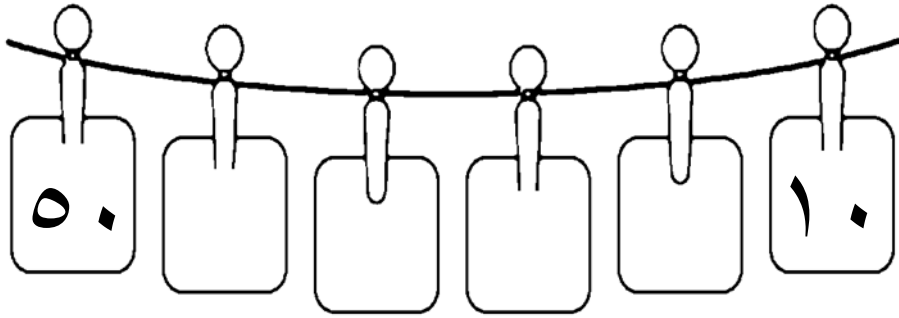
هيا نقفز ٥



هيا نقفز ٢



هيا نقفز ١٠



أحل المسائل التالية :
يمكنني استخدام الرسم

لدى سارة ٥ باقات في كل منها وردتان . فكم
وردة لديه؟

مع كل من نور و مريم وفاطمة ٥ دنائير. فكم
معهن جميعاً؟

مع ملاك ٨ تفاحات . إذا أكلت منها ٣ تفاحات ،
فكم تفاحة بقيت معها؟

في حديقة الحيوانات رأت مرام النمر قبل أن ترى
الأسد ، ورأت الذئب قبل أن ترى النمر. ما
الحيوان الذي رآته أولاً؟