

تم تحميل هذا الملف من موقع المناهج البحرينية



التطبيق الأول علوم

موقع المناهج ← المناهج البحرينية ← الصف الأول ← علوم ← الفصل الأول ← ملفات متنوعة ← الملف

تاريخ إضافة الملف على موقع المناهج: 2024-10-21 10:09:32

ملفات اكتب للمعلم اكتب للطالب الاختبارات الكترونية | اختبارات | حلول | عروض بوربوينت | أوراق عمل
منهج انجليزي | ملخصات و تقارير | مذكرات و بنوك | الامتحان النهائي للمدرس

المزيد من مادة
علوم:

التواصل الاجتماعي بحسب الصف الأول



صفحة المناهج
البحرينية على
فيسبوك

الرياضيات

اللغة الانجليزية

اللغة العربية

التربية الاسلامية

المواد على تلغرام

المزيد من الملفات بحسب الصف الأول والمادة علوم في الفصل الأول

مذكرة مراجعة في مادة العلوم

1

نشاط تدريبي المخلوقات الحية

2

شرح درس الضوء والصوت مع أنشطة تدريبية

3

كراسة في مادة العلوم

4

ملخص مجموعة أنواع الحيوانات

5

الوقفة التقويمية الأولى في مادة العلوم للصف الأول الابتدائي
الفصل الأول – العام الدراسي 2022 / 2023م

20

الاسم: الصف: الأول / التاريخ: ... / 10 / 2022م

الكفاية: المعرفة العلمية

السؤال الأول: أحوِّط المخلوقات الحية وأضع خطأ على الأشياء غير الحية :

3



5

السؤال الثاني: أضع علامة ✓ أما العبارة الصحيحة وعلامة ✗ أما العبارة الخاطئة فيما يلي:

- 1- الكرة من المخلوقات الحية () .
- 2- تحتاج الكائنات الحية إلى الماء والهواء والغذاء () .
- 3- نبات الصبار يحتاج كمية قليلة من الماء () .
- 4- وظيفة الجذور في النبات هي صنع الغذاء () .
- 5- يحتاج النبات الماء والهواء وضوء الشمس لينمو () .

السؤال الرابع: أختار الإجابة الصحيحة فيما يلي:

1- جزء من النبات وظيفته صنع الغذاء:



الجزور



الساق



الأوراق

2- من الجذور التي تؤكل:



التفاحة



الجزر

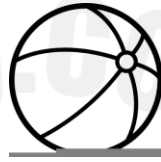


الذرة

3- من حاجات المخلوقات الحية:



الماء



الكرة



الرمل

4- من الأوراق التي تؤكل:



البصل



الخس




الموز

5- جزء من النبات وظيفته حمل الأوراق والثمار:



الأوراق




الزهرة



الساق

6- من النباتات التي تحتاج كمية كبيرة من الماء:



شجرة التفاح




البرسيم



الصبار

السؤال الخامس: أصل اسم جزء النبات الصحيح بالصورة :

4



الورقة

الساق

الجزور

الزهرة

السؤال السادس: زرع سلمان وروان نبتة صغيرة، اهتمت روان بالنبتة، بالماء وعرضتها لضوء الشمس، ولم يفعل سلمان ذلك لنبتته:



2



1



1- أي رقم هو رقم نبتة روان؟

2- ماذا سيحدث لنبتة سلمان؟

تذبل وتموت. ☹️

تتمو وتكبر. 😊

مع تحيات معلمات الصف الأول

إعداد: أ. منى محمد

مديرة المدرسة: أ. إيمان المناعي

المديرة المساعدة: أ. ضحى ميرزا/ أ. مها الفردان

المعلمة الأولى: أ. نعيمة جعفر