

تم تحميل هذا الملف من موقع المناهج البحرينية



\*للحصول على أوراق عمل لجميع الصفوف وجميع المواد اضغط هنا

<https://almanahj.com/bh>

\* للحصول على أوراق عمل لجميع مواد الصف الأول اضغط هنا

<https://almanahj.com/bh/1>

\* للحصول على جميع أوراق الصف الأول في مادة رياضيات ولجميع الفصول, اضغط هنا

<https://almanahj.com/bh/1math>

\* للحصول على أوراق عمل لجميع مواد الصف الأول في مادة رياضيات الخاصة بـ الفصل الثاني اضغط هنا

<https://almanahj.com/bh/1math2>

\* لتحميل كتب جميع المواد في جميع الفصول للـ الصف الأول اضغط هنا

<https://almanahj.com/bh/grade1>

للتحدث إلى بوت على تلغرام: اضغط هنا

---

[https://t.me/omcourse\\_bot](https://t.me/omcourse_bot)

KINGDOM OF BAHRAIN  
Ministry of Education



مملكة البحرين  
وزارة التربية والتعليم

# الرياضيات - الصف الأول الابتدائي - الجزء الثاني

## (3-13) الجمع بتكوين العشرة

# الجمع بتكوين العشرة

- هل تتذكّر مكوّنات العدد 10؟
- حدّد مجموعتين من مجموعات النجوم الآتية يكون مجموعها 10 نجوم




5



7



4



3

$$10 = 7 + 3$$

## الجمع بتكوين العشرة

6 ما هو مكمل العدد 4 للعشرة؟


$$10=6+4$$

2 ما هو مكمل العدد 8 للعشرة؟


$$10=2+8$$

# الجمع بتكوين العشرة

ما ناتج جمع  $8 + 7$  ؟



~~8~~  
5



~~7~~

$$10 = 3 + 7$$

$15 = 5 + 10$   
إذا  $15 = 8 + 7$

# الجمع بتكوين العشرة

حاول أن تطبّق نفس الفكرة لتجد ناتج جمع  $6 + 7$  ؟

$$13 = 7 + 6$$

سأختار حقيقة

$$3 + 4 = 7$$

لأن  $10 = 4 + 6$

# الجمع بتكوين العشرة

• ما ناتج جمع  $5 + 7$  ؟

$$12 = 5 + 7$$

سأختار حقيقة

$$2 + 3 = 5$$

لأن  $10 = 3 + 7$



## الجمع بتكوين العشرة

ما ناتج جمع  $5 + 8$  ؟

$$13 = 5 + 8$$

## الجمع بتكوين العشرة

ما ناتج جمع  $9 + 5$  ؟

$$14 = 9 + 5$$