

تم تحميل هذا الملف من موقع المناهج العُمانية



*للحصول على أوراق عمل لجميع الصفوف وجميع المواد اضغط هنا

<https://almanahj.com/bh>

* للحصول على أوراق عمل لجميع مواد الصف الأول اضغط هنا

<https://almanahj.com/bh/1>

* للحصول على جميع أوراق الصف الأول في مادة رياضيات ولجميع الفصول, اضغط هنا

<https://almanahj.com/bh/1math>

* للحصول على أوراق عمل لجميع مواد الصف الأول في مادة رياضيات الخاصة بـ الفصل الثاني اضغط هنا

<https://almanahj.com/bh/1math2>

* لتحميل كتب جميع المواد في جميع الفصول للـ الصف الأول اضغط هنا

<https://almanahj.com/bh/grade1>

* لتحميل جميع ملفات المدرس بدرية ناجي ومريم الكبيسي اضغط هنا

للتحدث إلى بوت على تلغرام: اضغط هنا

https://t.me/omcourse_bot



KINGDOM OF BAHRAIN
Ministry of Education



مملكة البحرين
وزارة التربية والتعليم

Sanad Primary Girls School

مدرسة سند الابتدائية للبنات

أنماط أرقام

كراسة في مادة الرياضيات للصف الأول
في وحدة أنماط الأعداد

مديرة المدرسة:
أمريم الكيسي

إعداد:
أميرة ناجي



أكتب كل عدد كعشرة واحدة وبعض الآحاد:

أكتب العدد:

اثنا عشر	١٢ = و آحاد
أربعة عشر	١٤ = و آحاد
سبعة عشر	١٧ = و آحاد
ثلاثة عشر	١٣ = و آحاد
ستة عشر	١٦ = و آحاد
خمسة عشر	١٥ = و آحاد
تسعة عشر	١٢ = و آحاد

٥ عشرات =

٧ عشرات =

٣ عشرات =

٩ عشرات =

٤ عشرات =

٦ عشرات =

٨ عشرات =

أضع حول الإجابة الصحيحة:

٧

فردى

زوى

٤

فردى

زوى

١٠

فردى

زوى

١٥

فردى

زوى

١٤

فردى

زوى

١٩

فردى

زوى

٢٥

فردى

زوى

٢٠

فردى

زوى

أكتب الأعداد بالترتيب

١	٢	٣	٤	٥	٦	٧	٨	٩	١٠
١١	١٢	١٣	١٤	١٥	١٦	١٧	١٨	١٩	٢٠
٢١	٢٢	٢٣	٢٤	٢٥	٢٦	٢٧	٢٨	٢٩	٣٠
٣١	٣٢	٣٣	٣٤	٣٥	٣٦	٣٧	٣٨	٣٩	٤٠
٤١	٤٢	٤٣	٤٤	٤٥	٤٦	٤٧	٤٨	٤٩	٥٠
٥١	٥٢	٥٣	٥٤	٥٥	٥٦	٥٧	٥٨	٥٩	٦٠
٦١	٦٢	٦٣	٦٤	٦٥	٦٦	٦٧	٦٨	٦٩	٧٠
٧١	٧٢	٧٣	٧٤	٧٥	٧٦	٧٧	٧٨	٧٩	٨٠
٨١	٨٢	٨٣	٨٤	٨٥	٨٦	٨٧	٨٨	٨٩	٩٠
٩١	٩٢	٩٣	٩٤	٩٥	٩٦	٩٧	٩٨	٩٩	١٠٠

..... ، ،

٢ ، ٩ ، ٥

..... ، ،

٢١ ، ١٧ ، ٣

..... ، ،

٧٠ ، ٣٠ ، ٥٠

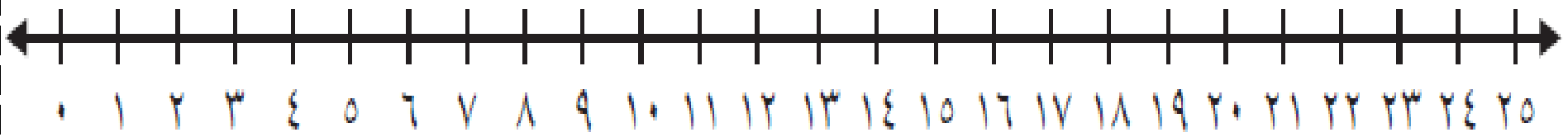
..... ، ،

٨ ، ٢٨ ، ١٨

..... ، ،

٢٥ ، ٣٥ ، ١٥

أعد بالقفز على خط الأعداد



..... ، ، ، ، ، ، ، ، ، ، ٦ ، ٤ ، ٢

..... ، ، ، ، ١٠ ، ٥

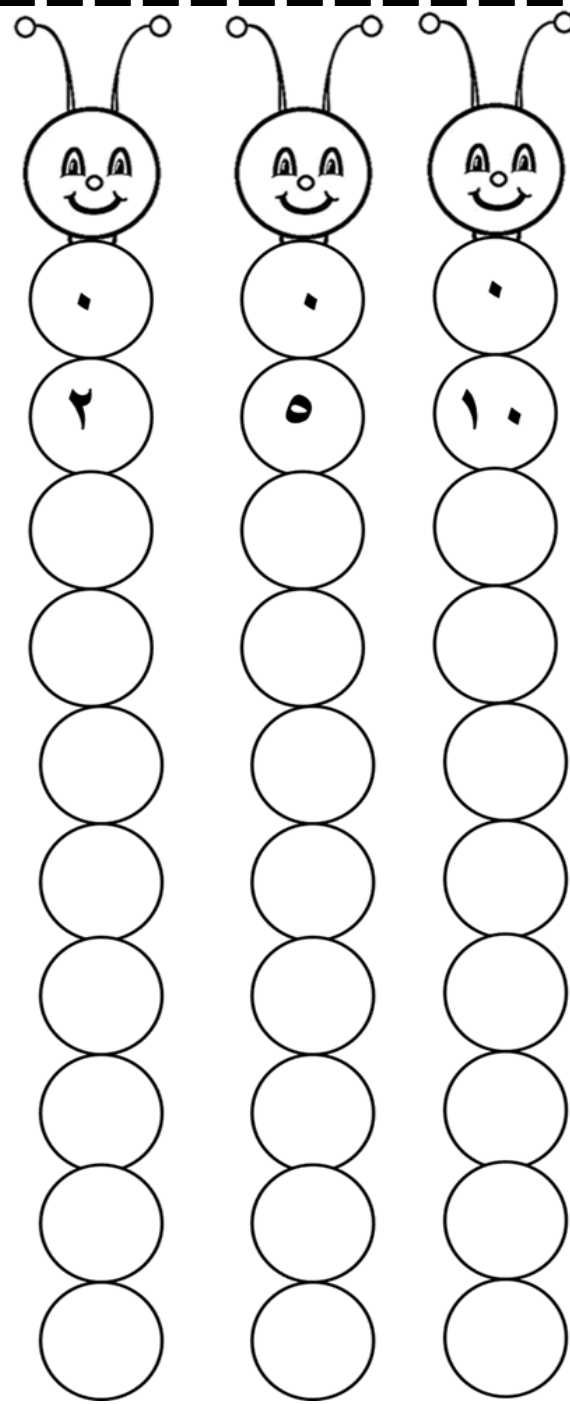
..... ، ، ، ٥ ، ٣ ، ١

..... ، ، ، ١٥ ، ٢٠

هيا نقفز على لوحة المئة

١	٢	٣	٤	٥	٦	٧	٨	٩	١٠
١١	١٢	١٣	١٤	١٥	١٦	١٧	١٨	١٩	٢٠
٢١	٢٢	٢٣	٢٤	٢٥	٢٦	٢٧	٢٨	٢٩	٣٠
٣١	٣٢	٣٣	٣٤	٣٥	٣٦	٣٧	٣٨	٣٩	٤٠
٤١	٤٢	٤٣	٤٤	٤٥	٤٦	٤٧	٤٨	٤٩	٥٠
٥١	٥٢	٥٣	٥٤	٥٥	٥٦	٥٧	٥٨	٥٩	٦٠
٦١	٦٢	٦٣	٦٤	٦٥	٦٦	٦٧	٦٨	٦٩	٧٠
٧١	٧٢	٧٣	٧٤	٧٥	٧٦	٧٧	٧٨	٧٩	٨٠
٨١	٨٢	٨٣	٨٤	٨٥	٨٦	٨٧	٨٨	٨٩	٩٠
٩١	٩٢	٩٣	٩٤	٩٥	٩٦	٩٧	٩٨	٩٩	١٠٠

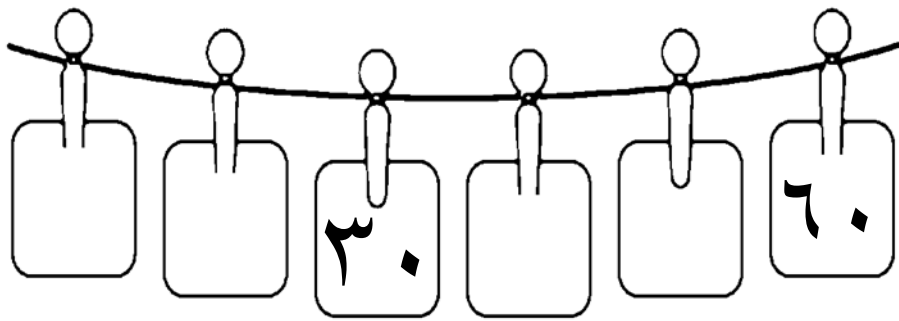
نقفز



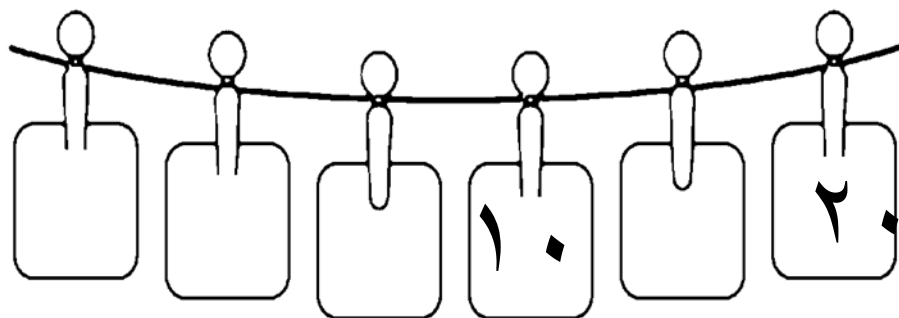
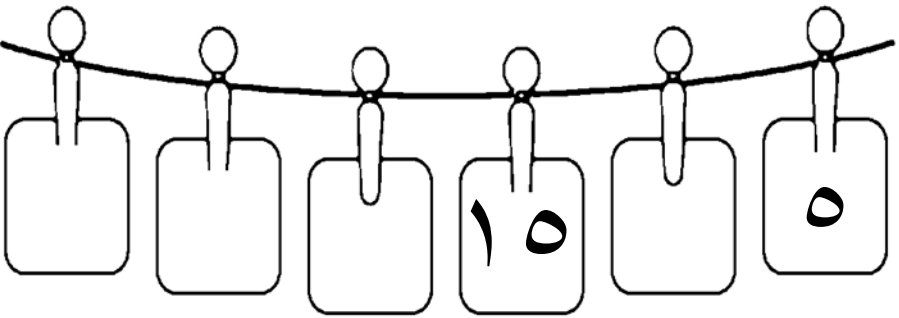
- أقفز بالاثنيينات مبتدئة بالعدد ٢ حتى أصل إلى العدد ٣٠ و أضع

- أقفز بالخمسات مبتدئة بالعدد ٥ حتى أصل إلى العدد ٥٠ و أضع

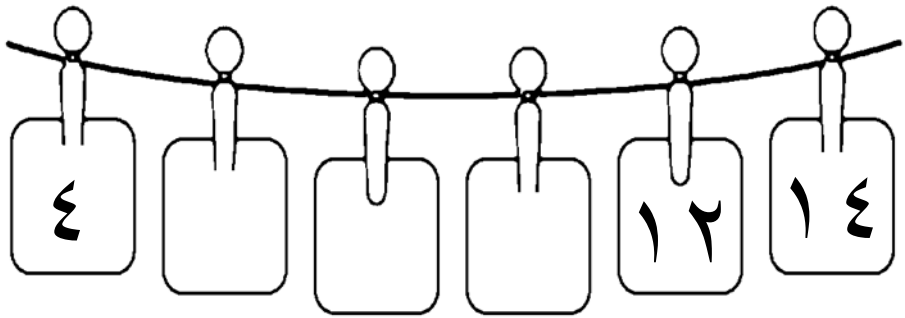
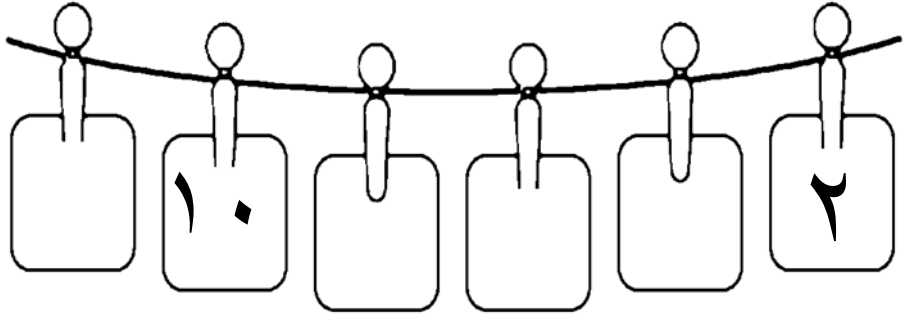
- أقفز بالعشرات مبتدئة بالعدد ١٠ حتى أصل إلى العدد ١٠٠ و أضع



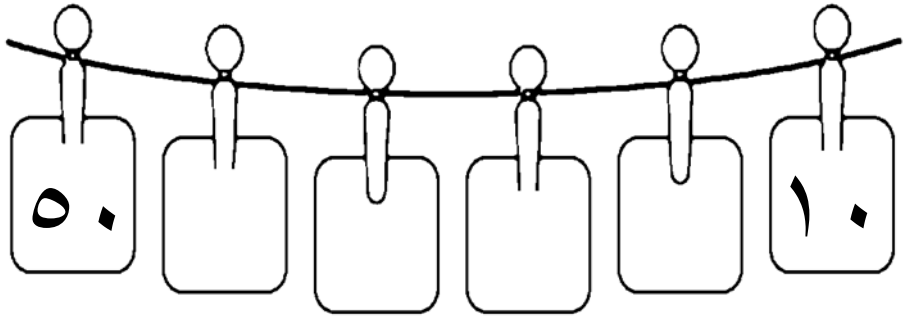
هيا نقفز ٥



هيا نقفز ٢



هيا نقفز ١٠



أحل المسائل التالية :
يمكنني استخدام الرسم

لدى سارة ٥ باقات في كل منها وردتان . فكم
وردة لديه؟

مع كل من نور و مريم وفاطمة ٥ دنائير. فكم
معهن جميعاً؟

مع ملاك ٨ تفاحات . إذا أكلت منها ٣ تفاحات ،
فكم تفاحة بقيت معها؟

في حديقة الحيوانات رأت مرام النمر قبل أن ترى
الأسد ، ورأت الذئب قبل أن ترى النمر . ما
الحيوان الذي رآته أولاً؟