

تم تحميل هذا الملف من موقع المناهج البحرينية



\* للحصول على أوراق عمل لجميع الصفوف وجميع المواد اضغط هنا

<https://almanahj.com/bh>

\* للحصول على أوراق عمل لجميع مواد الصف الأول اضغط هنا

<https://almanahj.com/bh/1>

\* للحصول على جميع أوراق الصف الأول في مادة علوم ولجميع الفصول, اضغط هنا

<https://almanahj.com/bh/1science>

\* للحصول على أوراق عمل لجميع مواد الصف الأول في مادة علوم الخاصة بـ الفصل الأول اضغط هنا

<https://almanahj.com/bh/1science1>

\* لتحميل كتب جميع المواد في جميع الفصول للـ الصف الأول اضغط هنا

<https://almanahj.com/bh/grade1>

[almanahjbhbot/me.t//:https](https://t.me/almanahjbhbot)



للتحدث إلى بوت على تلغرام: اضغط هنا

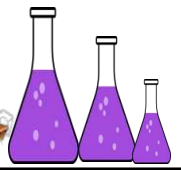


# علوم

## الاسئلة الدرس الأول

١) ضع دائرة حول الكائنات الحية:-





# علوم



-٨



-٩



-١٠

٢- ضع علامة (✓) أو (×) :-



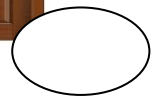
الشجرة من الأشياء غير الحية.



القلم من الكائنات الحية.



هذا إنسان



الباب من الأشياء غير الحية.









القطة من الحيوانات.



النخلة من الكائنات الحية .



الكتاب من الكائنات الحية.



المسطرة من الأشياء غير الحية.



اللعبة من الكائنات الحية.



المرآة من النباتات.



الماعز من الحيوان .



التلفزيون من الكائنات الحية.





٣- اختر الإجابة الصحيحة:



الشجرة

(حيوان - نبات)



الكلب

(حيوان - نبات)



الطفل

(إنسان - نبات)



الوردة

(حيوان - نبات)



القطّة

(نبات - حيوان)



المفتاح

(حيوان - شيء غير حي)








# علوم



الباب

(حيوان - شيء غير حي)



الدجاجة

(حيوان - شيء غير حي)



الشباك

(شيء غير حي - نبات)



الكمبيوتر

(نبات - شيء غير حي)





## الدرس الثاني

١) ضع علامة (✓) أو (x):-

( )



١- الباب لا يأكل .

( )




٢- الولد لا يتنفس .

( )



٣- الشجرة تتحرك.

( )



٤- الكتاب يأكل

( )



٥- البنت لا تأكل.

( )



٦- الشباك يتنفس.

( )



٧- الكلب لا يتحرك.





# علوم



٨- المرأة تتحرك.

( )



٩- الشمسية تتكاثر.

( )



١٠- الأعشاب تتحرك.

( )

## ٢) اختر الإجابة الصحيحة:-

١- الرجل (يستطيع - لا يستطيع) النمو.

٢- الكتاب (يستطيع - لا يستطيع) التغذية .

٣- الكمبيوتر (يستطيع - لا يستطيع) الحركة.

٤- القطة (تستطيع - لا تستطيع) التكاثر.

٥- الشجرة (تستطيع - لا تستطيع) التنفس.







# علوم

٦- الشمسية (تستطيع – لا تستطيع) التغذية.

٧- الانسان (يستطيع – لا يستطيع) الإخراج.

٨- السمكة (تستطيع – لا تستطيع) الإحساس.

٩- الشباك (يستطيع – لا يستطيع) التكاثر.

١٠- البطة (تستطيع – لا تستطيع) الحركة.





## الدرس الثالث

١) ضع علامة (✓) أو علامة (x):-

- ١- النباتات لا تحتاج الضوء. ( )
- ٢- القلم يشعر. ( )
- ٣- الولد يحتاج للغذاء. ( )
- ٤- الكائنات الحية تستطيع أن تعيش بدون الضوء. ( )
- ٥- الكائنات الحية تشعر. ( )
- ٦- الضوء ودرجة الحرارة المناسبة أشياء غير ضرورية للحياة. ( )
- ٧- الببب يستطيع النمو. ( )
- ٨- النباتات تحتاج الماء لكي تنمو. ( )
- ٩- الققط والكلاب تعيش في الظلام. ( )
- ١٠- الكائنات الحية تحتاج الهواء والضوء فقط. ( )





# علوم

## ٢- أختَر الإجابة الصحيحة:-

- ١- الولد (يستطيع – لا يستطيع) النمو.
- ٢- النبات (يحتاج – لا يحتاج) الضوء.
- ٣- القلم (يحتاج – لا يحتاج) الغذاء.
- ٤- القرد (يحتاج – لا يحتاج) درجة الحرارة المناسبة.
- ٥- الرجل (يحتاج – لا يحتاج) الضوء.

## ٣- ضع دائرة حول الصورة الصحيحة:-




١- يحتاج الماء ليعيش.



٢- لا يحتاج الضوء.



٣- الكائنات الحية تحتاج.



٤- الشجرة تحتاج.







# الإجابة

## الدرس الأول


١) ضع دائرة حول الكائنات الحية:-



-١




-٢



-٣



-٤



-٥

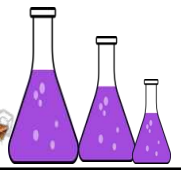


-٦




-٧





# علوم



-٨



-٩



-١٠

٢) ضع علامة (✓) أو (×) :-



×

الشجرة من الأشياء غير الحية.



×

القلم من الكائنات الحية.



✓

هذا إنسان



✓

الباب من الأشياء غير الحية.







# علوم




✓



✓

القطه من الحيوانات.

النخلة من الكائنات الحية .



✗



✓

الكتاب من الكائنات الحية.

المسطرة من الأشياء غير الحية.



✗



✗

اللعبة من الكائنات الحية.

المرأه من النبات.



✓



✗

الماعز من الحيوان .

التلفزيون من الكائنات الحية.







# علوم

## ٤) اختر الإجابة الصحيحة:



الشجرة

(حيوان - نبات)



الكلب

(حيوان - نبات)



الطفل

(إنسان - نبات)



الوردة

(حيوان - نبات)



القطّة

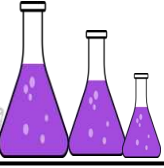
(نبات - حيوان)



المفتاح

(حيوان - شيء غير حي)






# علوم



الباب

(حيوان - شيء غير حي)



الدجاجة

(حيوان - شيء غير حي)



الشباك

(شيء غير حي - نبات)



الكمبيوتر

(نبات - شيء غير حي)





# علوم

## الدرس الثاني

١) ضع علامة (✓) أو (×) :-

(✓)



١- الباب لا يأكل .

(×)




٢- الولد لا يتنفس .

(✓)



٣- الشجرة تتحرك .

(×)



٤- الكتاب يأكل

(×)



٥- البنت لا تأكل.

(×)



٦- الشباك يتنفس.

(×)



٧- الكلب لا يتحرك.

(✓)



٨- المرأة تتحرك.

(×)



٩- الشمسية تتكاثر.

(✓)



١٠- الأعشاب تتحرك.







# علوم

## ٢) اختر الإجابة الصحيحة:-

- ١- الرجل (يستطيع - لا يستطيع) النمو.
- ٢- الكتاب (يستطيع - لا يستطيع) التغذية .
- ٣- الكمبيوتر (يستطيع - لا يستطيع) الحركة.
- ٤- القطة (تستطيع - لا تستطيع ) التكاثر.
- ٥- الشجرة (تستطيع - لا تستطيع) التنفس.
- ٦- الشمسية (تستطيع - لا تستطيع) التغذية.
- ٧- الانسان (يستطيع - لا يستطيع) الإخراج.
- ٨- السمكة (تستطيع - لا تستطيع ) الإحساس.
- ٩- الشباك (يستطيع - لا يستطيع) التكاثر.
- ١٠- البطة (تستطيع - لا تستطيع) الحركة.





## الدرس الثالث

١) ضع علامة (✓) أو علامة (x):-

- ١- النباتات لا تحتاج الضوء. (x)
- ٢- القلم يشعر. (x)
- ٣- الولد يحتاج للغذاء. (✓)
- ٤- الكائنات الحية تستطيع أن تعيش بدون الضوء. (x)
- ٥- الكائنات الحية تشعر. (✓)
- ٦- الضوء ودرجة الحرارة المناسبة أشياء غير ضرورية للحياة. (x)
- ٧- الباب يستطيع النمو. (x)
- ٨- النباتات تحتاج الماء لكي تنمو. (✓)
- ٩- القطط والكلاب تعيش في الظلام. (x)
- ١٠- الكائنات الحية تحتاج الهواء والضوء فقط. (x)







# علوم

## ٢- اختر الإجابة الصحيحة :-

- ١- الولد يستطيع - لا يستطيع) النمو.
  - ٢- النبات (يحتاج - لا يحتاج) الضوء.
  - ٣- القلم (يحتاج - لا يحتاج) الغذاء.
  - ٤- القرد (يحتاج - لا يحتاج) درجة الحرارة المناسبة.
  - ٥- الرجل (يحتاج - لا يحتاج) الضوء.
- ## ٥- ضع دائرة حول الصورة الصحيحة:-





١- يحتاج الماء ليعيش.



٢- لا يحتاج الضوء.



٣- الكائنات الحية تحتاج.



٤- الشجرة تحتاج.

