

تم تحميل هذا الملف من موقع المناهج البحرينية



النباتات مخلوقات حية 11

موقع المناهج ← المناهج البحرينية ← الصف الأول ← علوم ← الفصل الأول ← ملفات متنوعة ← الملف

تاريخ إضافة الملف على موقع المناهج: 2024-10-21 16:20:10

ملفات اكتب للمعلم اكتب للطالب الاختبارات الكترونية | اختبارات | حلول | عروض بوربوينت | أوراق عمل
منهج انجليزي | ملخصات وتقارير | مذكرات وبنوك | الامتحان النهائي للمدرس

المزيد من مادة
علوم:

التواصل الاجتماعي بحسب الصف الأول



صفحة المناهج
البحرينية على
فيسبوك

الرياضيات

اللغة الانجليزية

اللغة العربية

التربية الاسلامية

المواد على تلغرام

المزيد من الملفات بحسب الصف الأول والمادة علوم في الفصل الأول

التطبيق الأول علوم

1

مذكرة مراجعة في مادة العلوم

2

نشاط تدريبي المخلوقات الحية

3

شرح درس الضوء والصوت مع أنشطة تدريبية

4

كراسة في مادة العلوم

5



الوحدة الأولى: النباتات من حولنا

الفصل الأول: النباتات مخلوقات حية.

ملخص الفصل الأول (النباتات مخلوقات حية)

الأشياء من حولنا.



أشياء غير حية

مخلوقات حية

* لا تنمو وتتغير

* لا تحتاج إلى الماء، الغذاء، الهواء.

* تنمو وتتغير

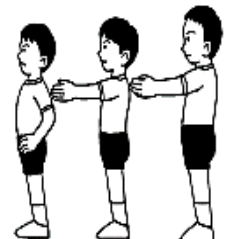
تحتاج إلى الماء، الغذاء، الهواء، الضوء.

أمثال: القلم، الملابس، الأثاث ...

أمثال: الانسان، الحيوان، النباتات ...


حوظ الأشياء الحية باللون الأزرق والأشياء الغير الحية باللون الأحمر.

1



2

لون الصور التي تمثل أشياء لا تنمو ولا تكبر.




3

ضع دائرة على الأشياء التي لا تحتاج إلى ماء وهواء والغذاء ثم لونه.



4

ضع دائرة على الأشياء التي تحتاج إلى ماء وهواء والغذاء



5

ماذا تحتاج مخلوقات حية؟ ضع علامة (✓)

السفر

الماء

الكهرباء

الضوء

الهواء

الغذاء

6

أضع علامة (✓) أمام الاجابة الصحيحة وعلامة (X) امام الإجابة الخاطئة :

المخلوقات الحية تنمو وتتغير.


من المخلوقات غير الحية الثعبان.

النباتات من الاشياء غير الحية.

الاشياء الحية بحاجة الى ماء، والهواء والغذاء.

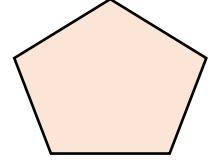
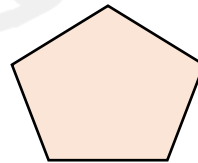
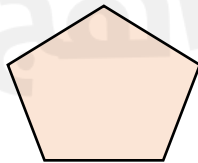
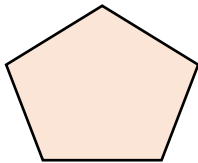
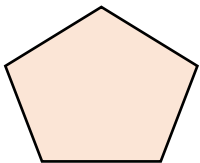
صل بخط (الحصان) مع الأشياء التي يحتاج إليها.


7




رقم الرسوم بحسب نمو الانسان.

8

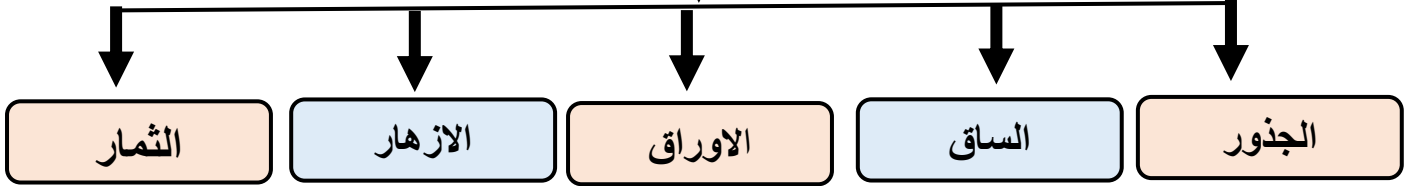




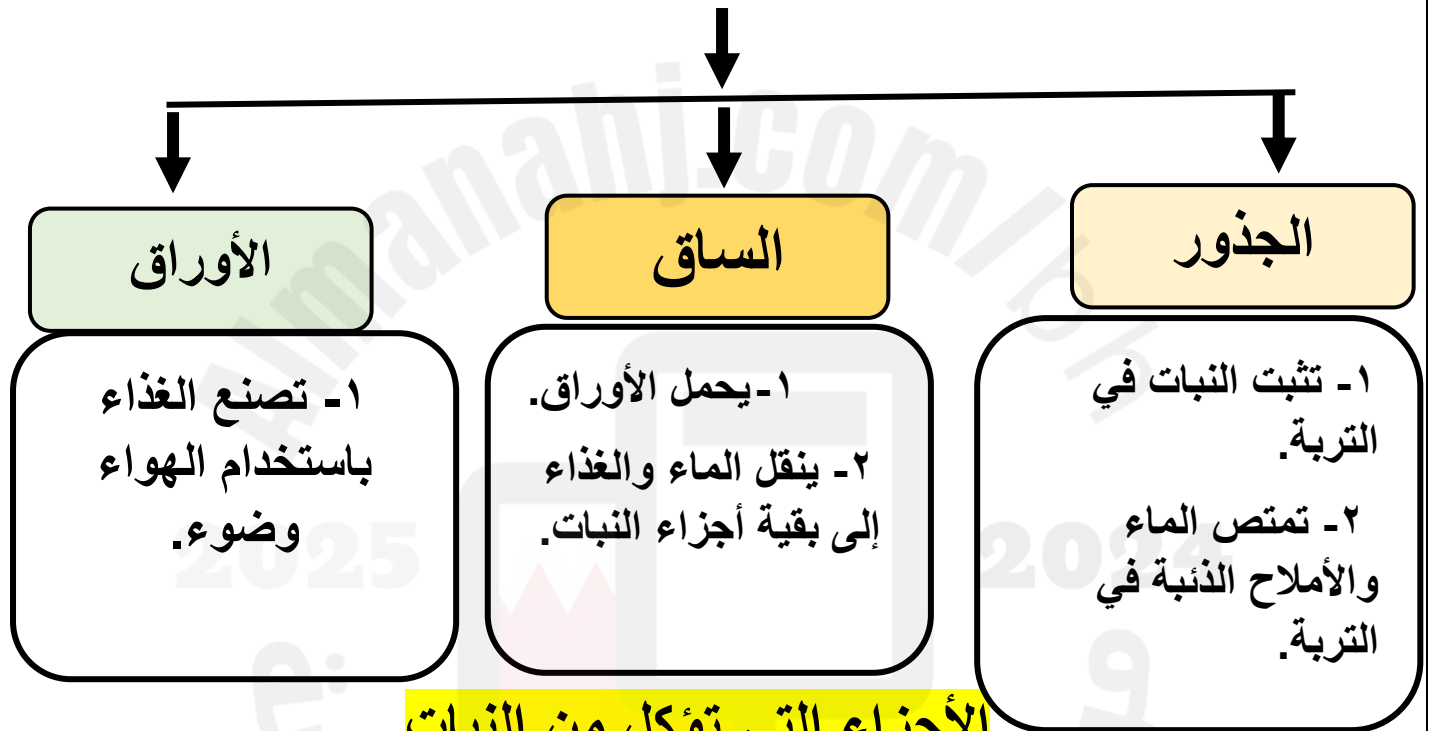
النباتات وأجزاؤها



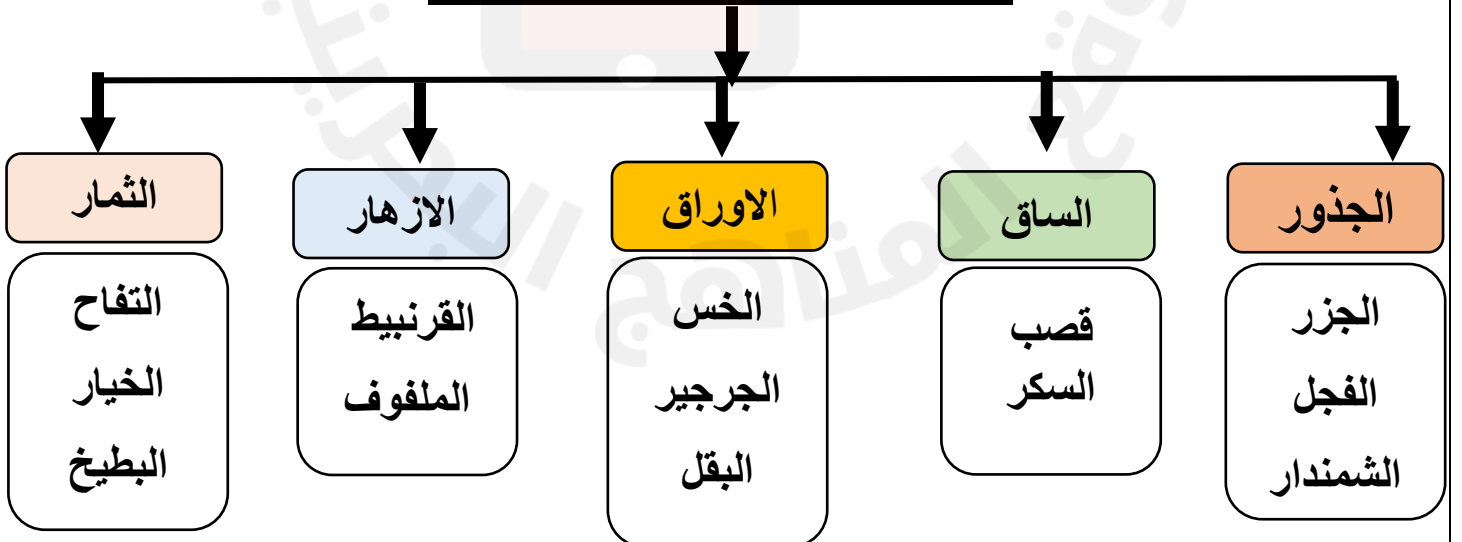
أجزاء النبات



وظائف أجزاء النباتات



الأجزاء التي تؤكل من النبات

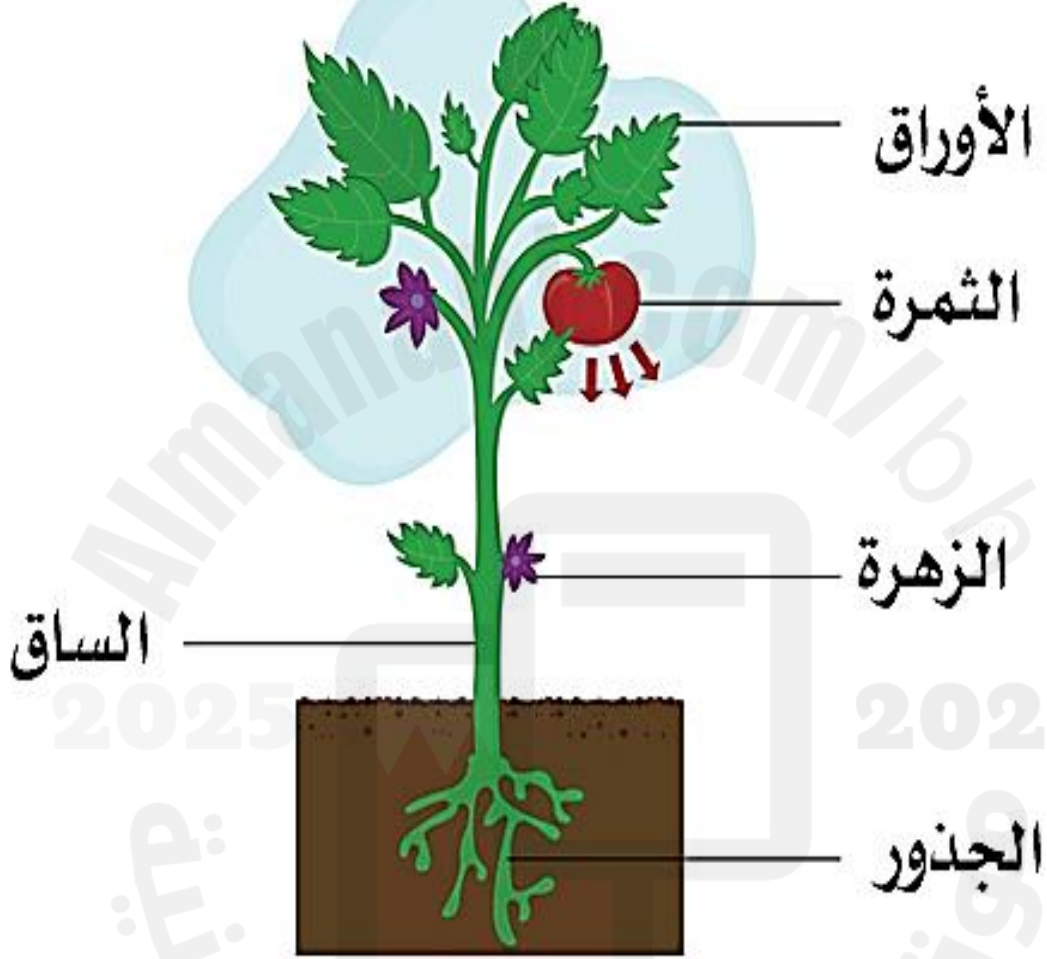


تختلف النباتات في: أشكالها، وتختلف في شكل الأوراق، والسيقان.

تعرف على أجزاء النبات.


1


أجزاء النبات



اكتب أجزاء النبات

2





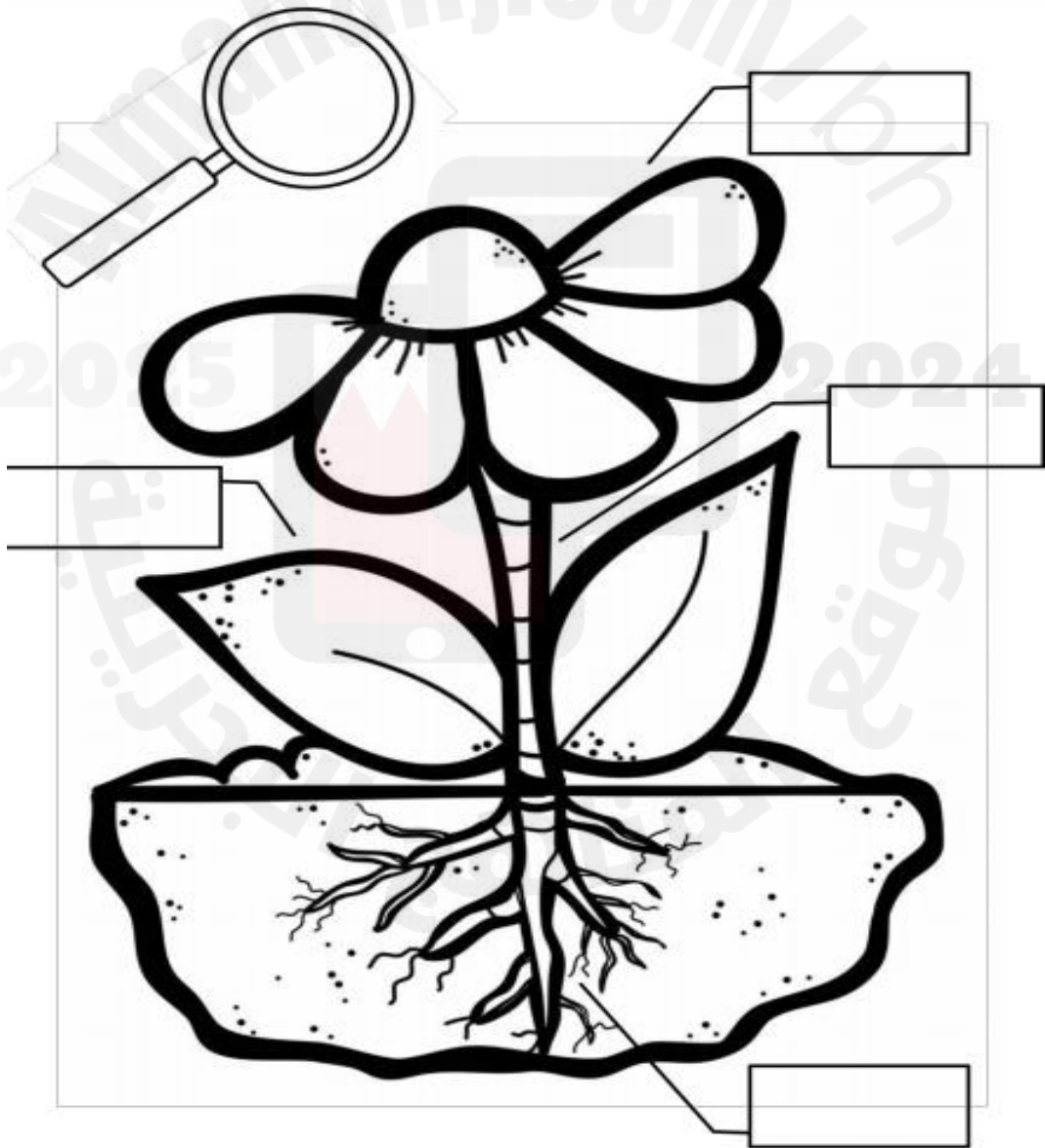
الساق

الازهار

الاوراق

الثمار

الجنور



ضع الرقم المناسب في المربع اسفل الصورة

1



1. الساق
2. الأوراق
3. الجذور
4. الأزهار
5. الثمار
6. ضوء



ضع علامة (✓) وعلامة (x)

5

- الجذور تنتج الغذاء للنباتة ()
- المخلوقات الحية تنتج مخلوقات تشبهها ()
- الكائنات الحية تنمو وتتغير ()
- الساق تنتج البذور ()
- الجذور تمتص الماء والاملاح الذائبة من التربة ()
- الحيوانات مخلوقات حية ()
- لا تحتاج النباتات الى ضوء الشمس لتعيش ()
- الانسان كائن حي ()

رتب نمو النبتة بكتابة الأعداد بالترتيب

٤



الجزء الذي يمتص الماء ويثبت النبات في التربة هو:

7




الجزء الذي ينتج الثمار:

٨



الجزء الذي ينقل الماء إلى الأوراق ويحمل النبتة هو:-



ضع علامة صح (✓) الى ما يأتي من فائدة الأورق

- ١_ تثبت النبات في التربة. ()
- ٢_ يحمل الاوراق ()
- ٣_ تمتص الماء والاملاح الذائبة في التربة. ()
- ٤_ ينقل الماء والغذاء إلى بقية أجزاء النبات. ()
- ٥_ تصنع الغذاء باستخدام الهواء وضوء الشمس. ()
- ٦_ تتفتح زهرة وتصبح ثمرة. ()



ضع علامة صح (✓) الى ما ياتي من فائدة الازهار

١١

١ _ تثبت النبات في التربة. ()

٢ _ يحمل الاوراق ()

٣ _ تمتص الماء والاملاح الذائبة في التربة. ()

٤ _ ينقل الماء والغذاء إلى بقية أجزاء النبات. ()

٥ _ تصنع الغذاء باستخدام الهواء وضوء الشمس. ()

٦ _ تتفتح زهرة وتصبح ثمرة. ()



ضع علامة صح (✓) الى ما ياتي من فائدة الجذور

١٢

١ _ تثبت النبات في التربة. ()


٢ _ يحمل الاوراق ()

٣ _ تمتص الماء والاملاح الذائبة في التربة. ()

٤ _ ينقل الماء والغذاء إلى بقية أجزاء النبات. ()

٥ _ تصنع الغذاء باستخدام الهواء وضوء الشمس. ()

٦ _ تتفتح زهرة وتصبح ثمرة. ()



أضع علامة (✓) أمام الإجابة الصحيحة وعلامة (X) أمام الإجابة الخاطئة :

- (١) () المخلوقات الحيّة تنمو وتتغير.
- (٢) () من أجزاء النبات الأوراق.
- (٣) () من المخلوقات غير الحيّة الثعبان.
- (٤) () الازهار النباتات مُختلفة عن بعضها البعض.
- (٥) () الجَمَلُ من الحيوانات الحية.
- (٦) () الطيور حيوانات يُغطي جسمها الشعر.
- (٧) () الأسد من الحيوانات آكلات اللحوم.
- (٨) () الضفدعُ أجزاء النبات.
- (٩) () التمساح بحاجة فقط الى ماء ليعش.
- (١٠) () الإنسان من المخلوقات الحية.

الاجزاء التى تؤكل من النبات هي:-

القرنبيط

الخبس

قصب السكر

الجزر

الملفوف

الجرجير

الفجل

التفاح

الخيار



الجزور

الساق

الأوراق







الأزهار

ألصق الصور أو الكلمات في مكانها المناسب

15

بُحْتاج الثبات إلى:

أجزاء الثبات هي:



الضوء

التربة

الماء

الهواء

الأزهار

الجزور

الساق

الأوراق

ضع دائرة حول الكائنات الحية فقط:

