

تم تحميل هذا الملف من موقع المناهج البحرينية



مراجعة الفصل الرابع

موقع المناهج ← المناهج البحرينية ← الصف الأول ← رياضيات ← الفصل الأول ← ملفات متنوعة ← الملف

تاريخ إضافة الملف على موقع المناهج: 2024-11-28 11:39:53

ملفات اكتب للمعلم اكتب للطالب الاختبارات الكترونية الاختبارات ا حلول ا عروض بوربوينت ا أوراق عمل
منهج انجليزي ا ملخصات وتقارير ا مذكرات وبنوك ا الامتحان النهائي للمدرس

المزيد من مادة
رياضيات:

التواصل الاجتماعي بحسب الصف الأول



صفحة المناهج
البحرينية على
فيسبوك

الرياضيات

اللغة الانجليزية

اللغة العربية

التربية الاسلامية

المواد على تلغرام

المزيد من الملفات بحسب الصف الأول والمادة رياضيات في الفصل الأول


مراجعة الاختبار الثاني	1
اختبار الرياضيات النموذجي	2
اختبار الرياضيات النموذجي	3
اختبار الرياضيات الفصل الأول	4
مذكرة تمارين عالم الرياضيات	5

مراجعة الفصل الرابع

أعد الأشياء، ثم ألون المربعات على حسب عددها.



--	--	--	--	--	--	--	--	--	--



--	--	--	--	--	--	--	--	--	--




أرسم عدد من ليصبح عدد المجموعة 7.




--	--	--	--	--	--	--	--	--	--



أعد الحيوانات، ثم أكتب العدد.




--



--



--



أكتب الأعداد الناقصة.



أعد الأشياء، ثم ألون المجموعة التي عدد عناصرها 10.






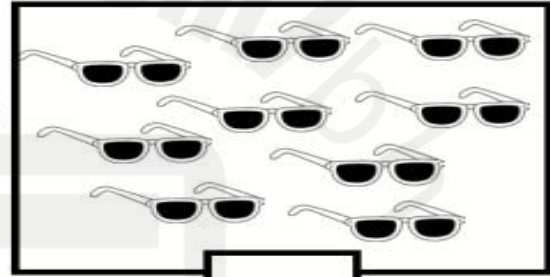
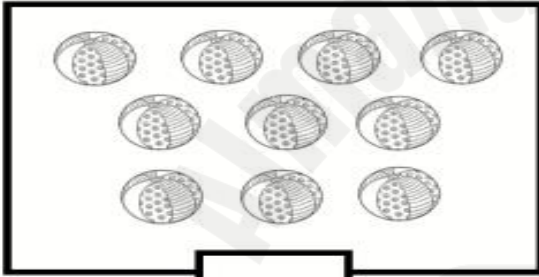
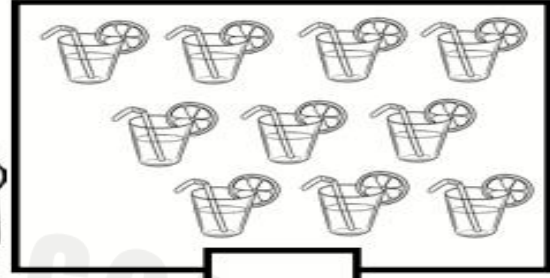
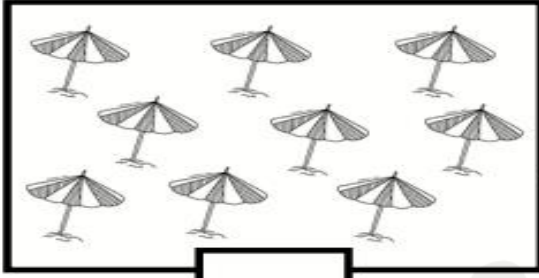
أرسم عدد من ☺ ليصبح عدد عناصر المجموعة 9.



وزارة التعليم
Ministry of Education



أعد الأشياء، ثم أكتب العدد.



أكتب عدد العناصر في كل مجموعة، ثم أحوط المجموعة الأقل.



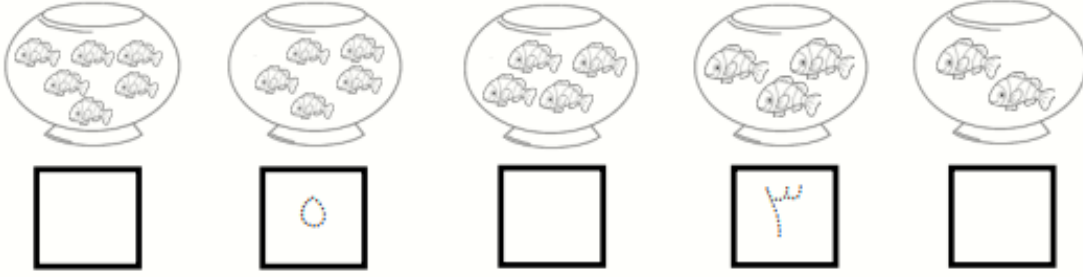
أكتب عدد العناصر في كل مجموعة، ثم ألون المجموعة الأكثر باللون الأحمر.



مديرة المدرسة
أ.كميلياء المهيزع

المديرة المساعدة
أ.فاطمة المقهوي

أكتب العدد المفقود في الترتيب، من خلال الصور.



أضع علامة × على النملة الثالثة، وخط تحت النملة السابعة.



ألون السيارة الثانية باللون الأخضر، والسيارة السادسة باللون الأصفر.



ألون الضفدع الرابع باللون الأزرق، والضفدع التاسع باللون الأحمر.



معلمة الصف /أ. سماح معوض

منسقة القسم /أ. سماح إبراهيم

مديرة المدرسة
أ.كميلياء المهيزع

المديرة المساعدة
أ.فاطمة المقهوي

