

تم تحميل هذا الملف من موقع المناهج البحرينية



\*للحصول على أوراق عمل لجميع الصفوف وجميع المواد اضغط هنا

<https://almanahj.com/bh>

\* للحصول على أوراق عمل لجميع مواد الصف الأول اضغط هنا

<https://almanahj.com/bh/1>

\* للحصول على جميع أوراق الصف الأول في مادة رياضيات ولجميع الفصول, اضغط هنا

<https://almanahj.com/bh/1>

\* للحصول على أوراق عمل لجميع مواد الصف الأول في مادة رياضيات الخاصة بـ اضغط هنا <https://almanahj.com/bh/1>

\* لتحميل كتب جميع المواد في جميع الفصول للـ الصف الأول اضغط هنا

<https://almanahj.com/bh/grade1>

[almanahjbhbot/me.t//:https](https://t.me/almanahjbhbot)

للتحدث إلى بوت على تلغرام: اضغط هنا



# الأعداد من ٥ - ١




الوحدة الثاني : الأعداد من ٥ - ١

١

عد الحيوانات ، ثم لون مربعات بحسب عددها :-




--	--	--



--	--	--




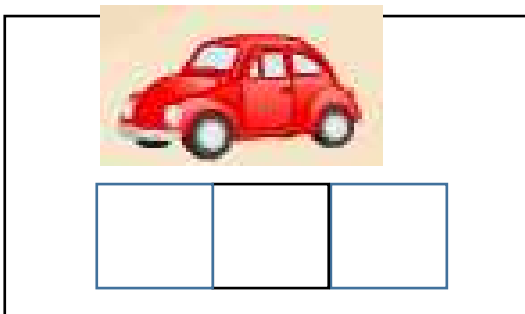
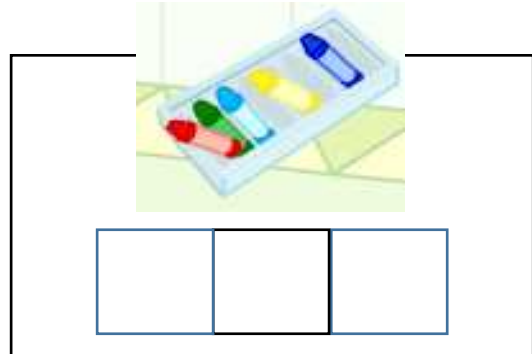
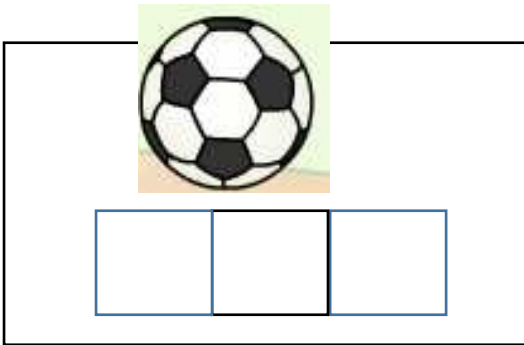
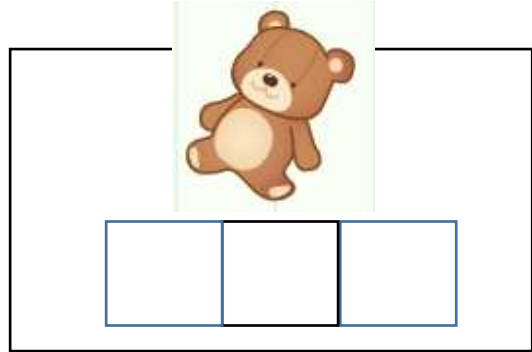

--	--	--



--	--	--

ملاك البحر

عد الأشياء ، ثم لون مربعات بحسب عددها :-






ملاك البحر










أكتب كم عدد كل مجموعة في ما يأتي:-



ثلاثة ٣

اثنان ٢

واحد ١



اثنان .....

ثلاثة .....

واحد .....





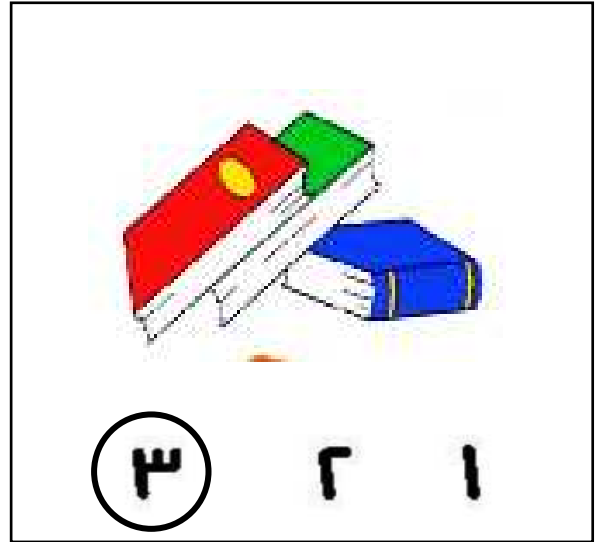


ثلاثة .....

واحد .....

اثنان .....

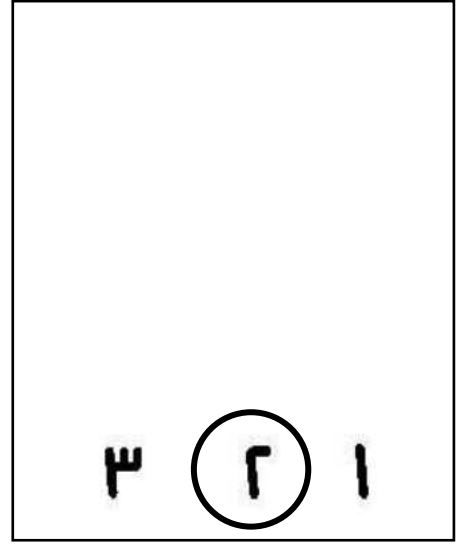
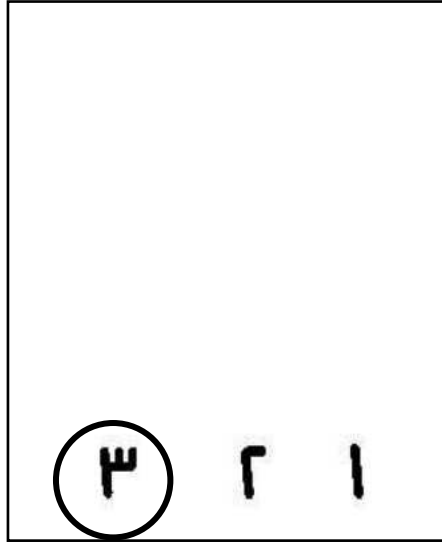

حوظ على العدد الدال على عناصر كل مجموعة كما بالمثل:-




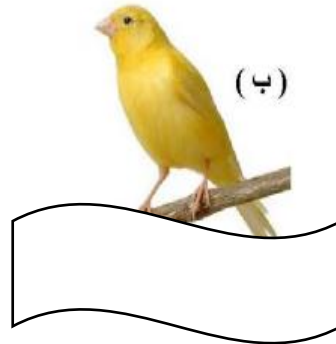
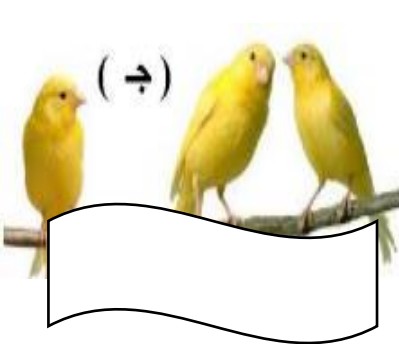
ملاك البحر



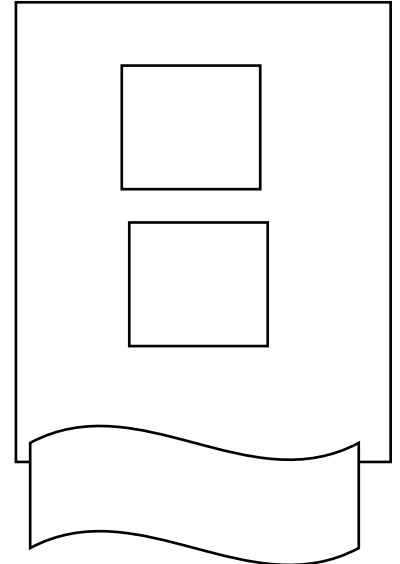
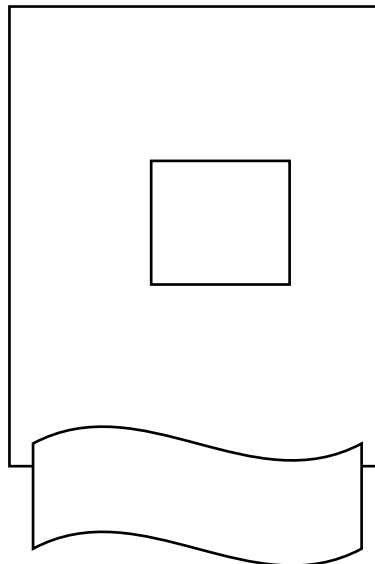
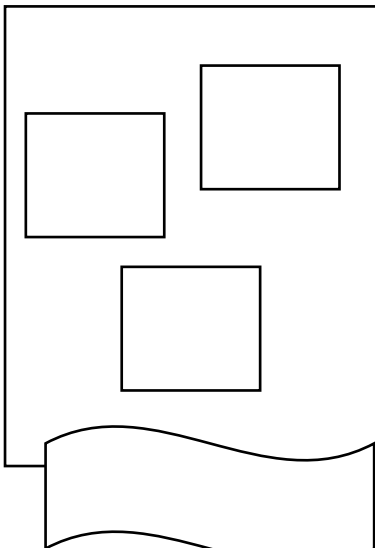
أرسم عدد من الدوائر داخل الإطار بحسب العدد أسفله:-



أكتب عدد العصافير على فرع الشجرة:-



لون ، ، وأكتب العدد الدال على ذلك:-



ملاك البحر

أكتب العدد المبين :-

١	١	١	١	١
			١	١

٢	٢	٢	٢	٢
			٢	٢

٣	٣	٣	٣	٣
			٣	٣

أجب عن الأسئلة التالية :-



ما عدد البرتقالات بالشكل؟ .....



كم كتاباً بالشكل؟ .....


ملاك البحر




كم سيارة بالشكل؟ .....



ما عدد حبات الطماطم بالشكل؟ .....



ما عدد أرجل الدجاجة؟ .....

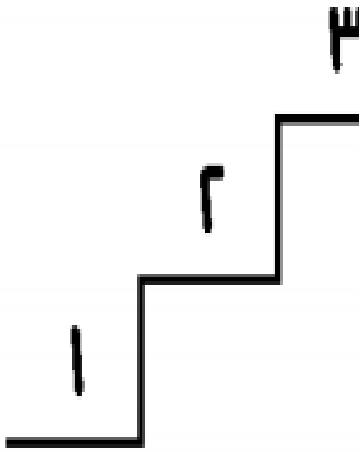


كم ذيلاً للبقرة؟ .....

أكمل:-

يمكن ترتيب الاعداد كما يلي : ١ ، .....

كما يمكن ترتيبها كما يلي : ٣ ، .....

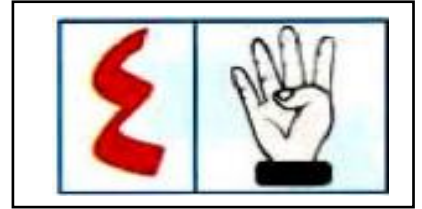
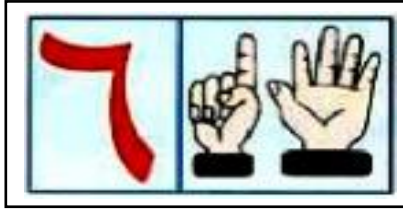


٢ كبير من ..... وأصغر من .....

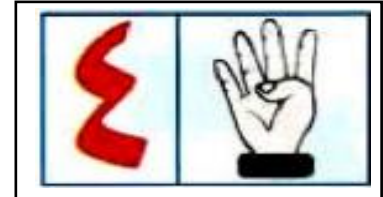




١ أصغر من ..... وأيضاً أصغر من .....

٣ أكبر من ..... وأيضاً أكبر من .....



ملاك البحر



ضع علامة ✓ على العدد الذي يمثل العدد ٤

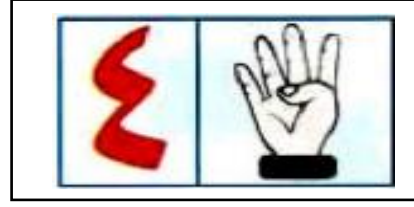


أكتب العدد كل مجموعة في ما يأتي:-

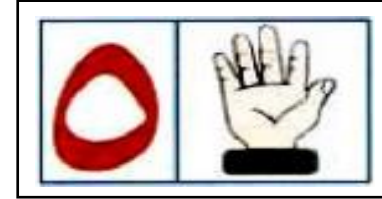






أكتب العدد أربعة في الجدول التالي:-

							٤
--	--	--	--	--	--	--	---



ضع علامة ✓ على العدد الذي يمثل العدد 5




أكتب العدد كل مجموعة في ما يأتي:-




أكتب العدد خمسة في الجدول التالي:-

						5
--	--	--	--	--	--	---

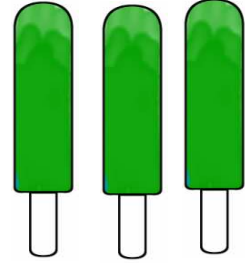
أكتب كم عدد كل مجموعة في ما يأتي:-




أربعة .....




خمسة .....




ثلاثة .....



ثلاثة .....



أربعة .....



خمسة .....



ثلاثة .....


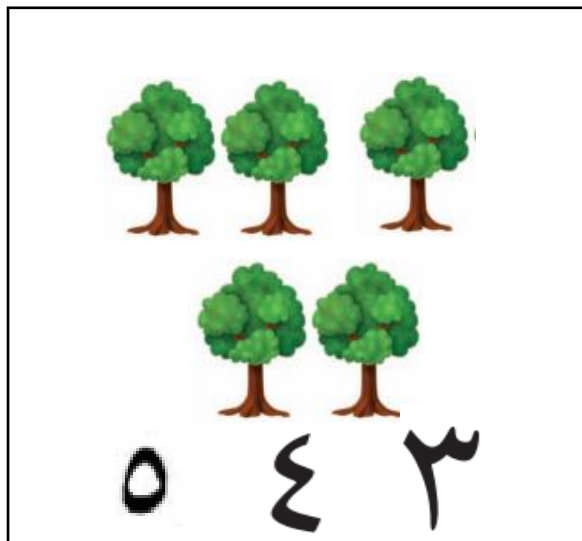

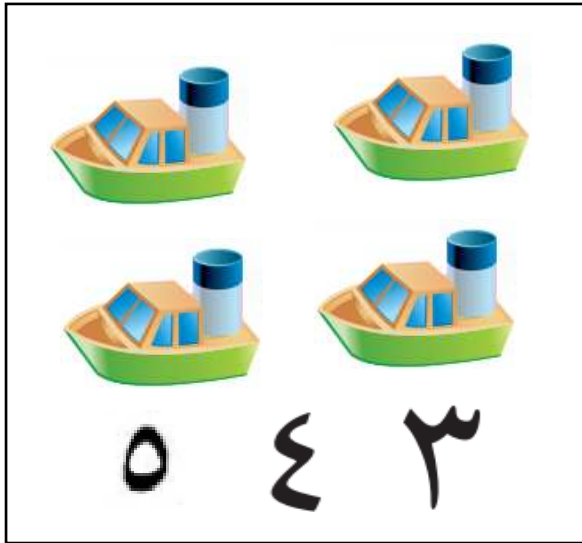
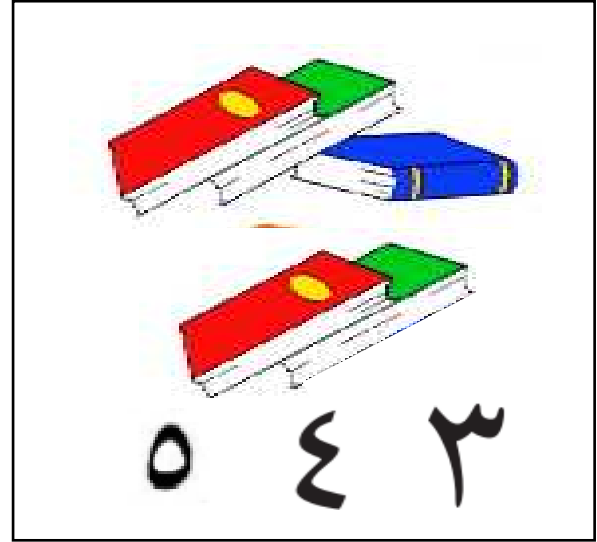
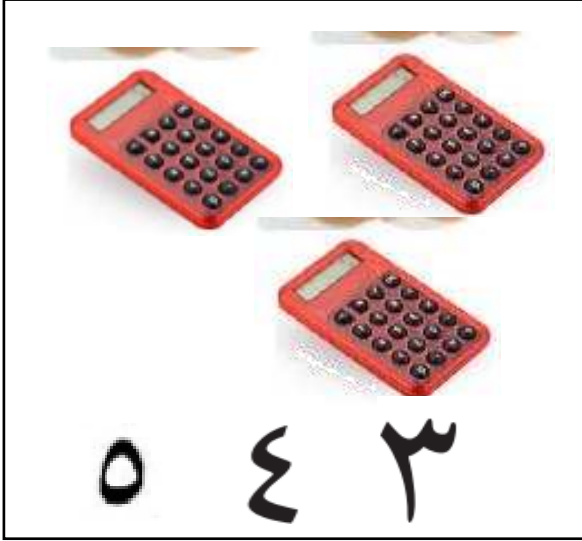


أربعة .....



خمسة .....

حوط على العدد الدال على عناصر كل مجموعة كما بالمثال:-



ملاك البحر



أرسم عدد من الدوائر داخل الإطار بحسب العدد أسفله:-

٥ ٤ ٣

٥ ٤ ٣

٥ ٤ ٣

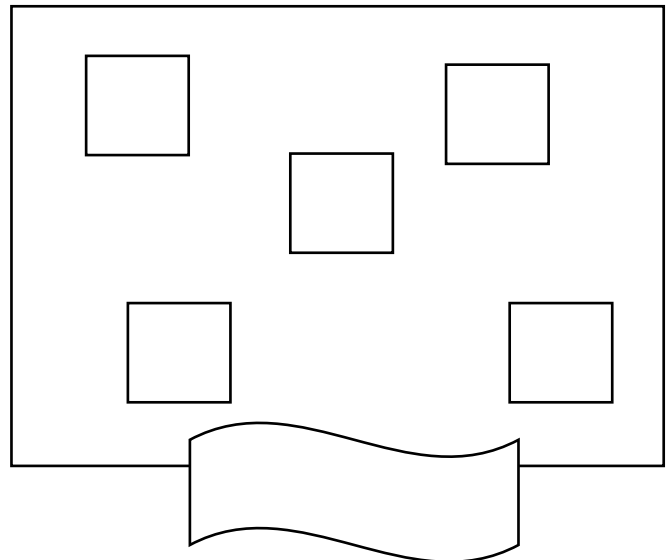
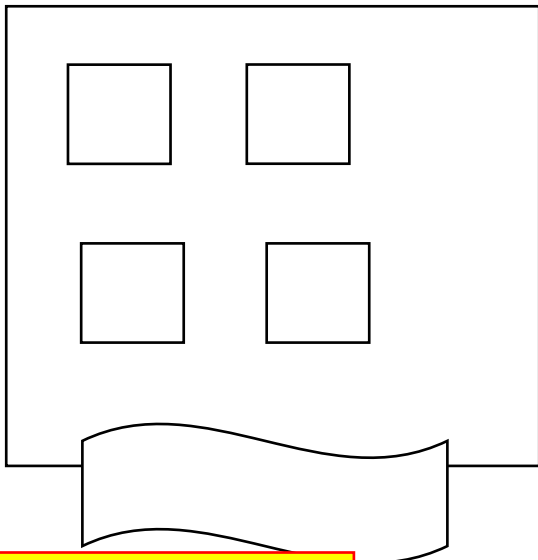
أكتب عدد العصافير على فرع الشجرة:-



وأكتب العدد الدال على ذلك:-



نون



ملاك البحر



أكتب العدد المبين :-

٤	٤	٤	٤	٤
			٤	٤

٥	٥	٥	٥	٥
			٥	٥

أجب عن الأسئلة التالية :-



كم قدماً للأسد ؟

.....



كم أصبعاً في اليد الواحدة ؟

.....

صل كل عدد باسمه :-

٥

واحد

٣

اثنان

٤

ثلاثة

١

أربعة

٢

خمسة

اكتب الاعداد من ١ - ٥

ملاك البحر

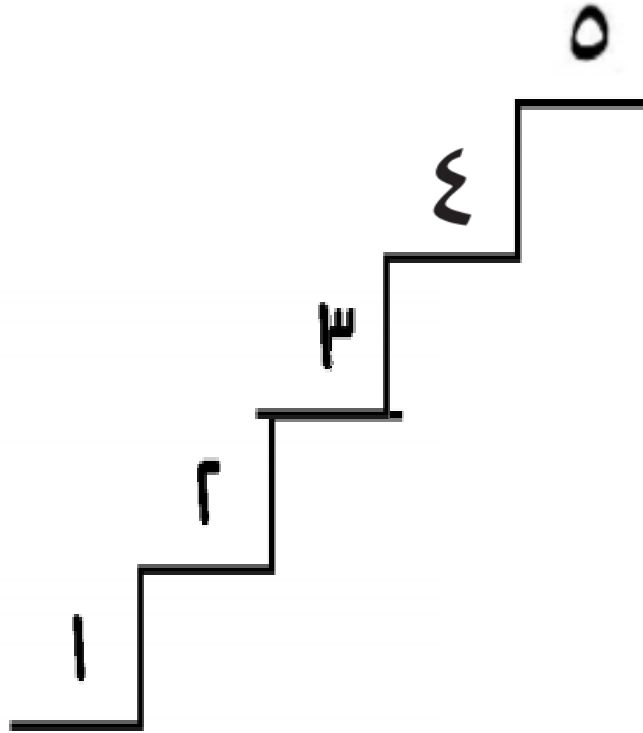
أكمل:-

يمكن ترتيب الاعداد كما يلي : ١ ، ..... ، ..... ، ..... ، .....  
كما يمكن ترتيبها كما يلي : ٥ ، ..... ، ..... ، ..... ، .....

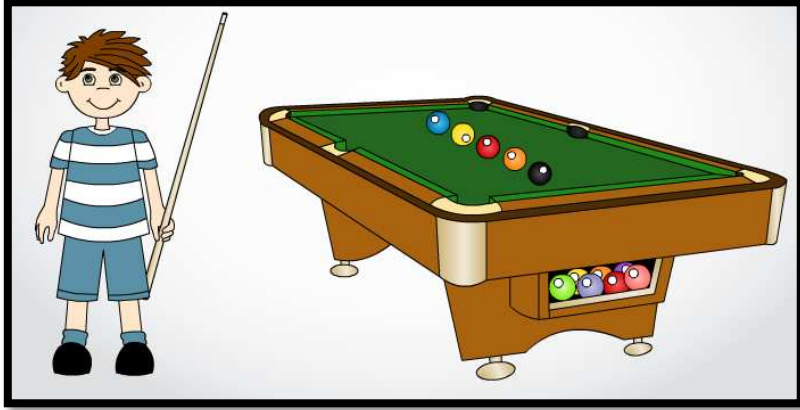
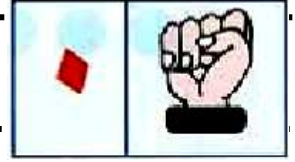
٤ أكبر من ..... وأصغر من .....

٣ أصغر من ..... وأيضاً أصغر من .....

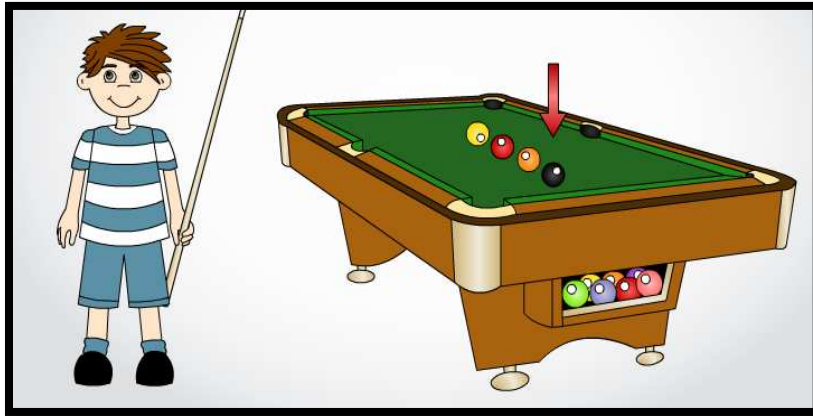
٥ أكبر من ..... وأيضاً أكبر من .....



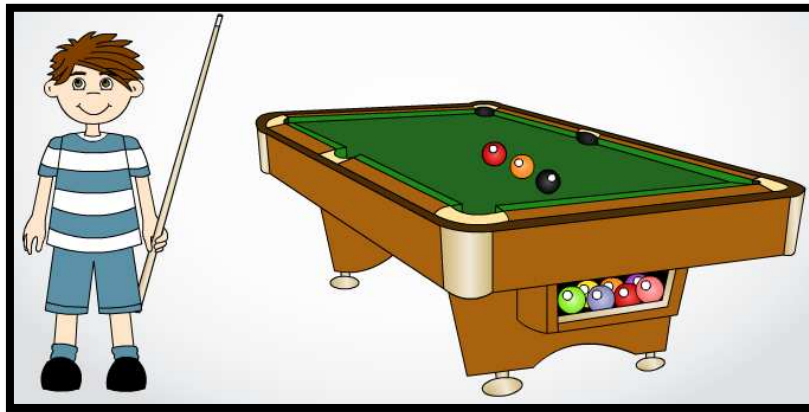
قراءة العدد صفر وكتابه



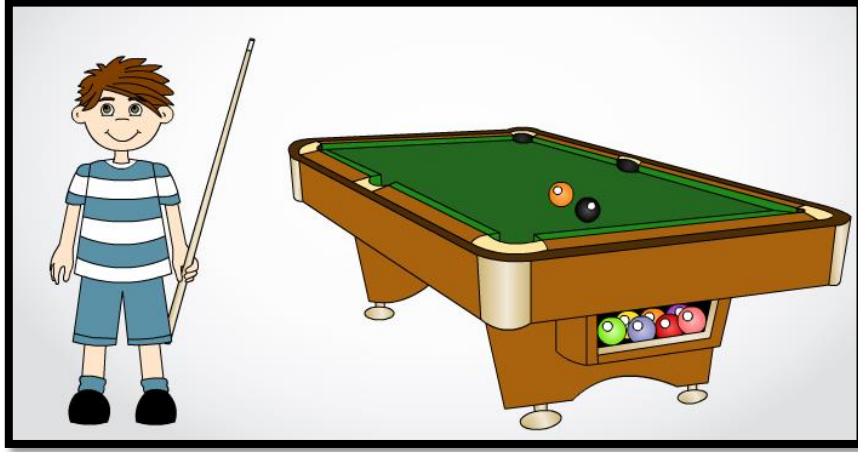
\*كم عدد الكرات التي على الطاولة ؟ .....



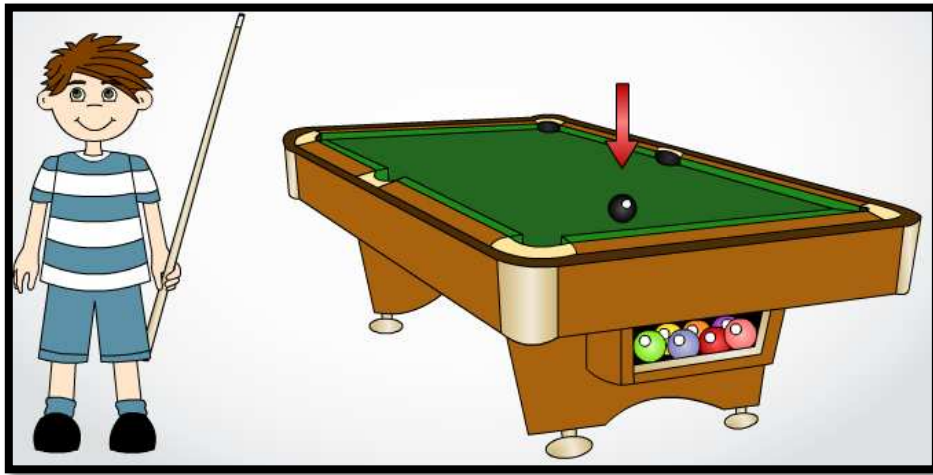
\*كم عدد الكرات التي على الطاولة ؟ .....



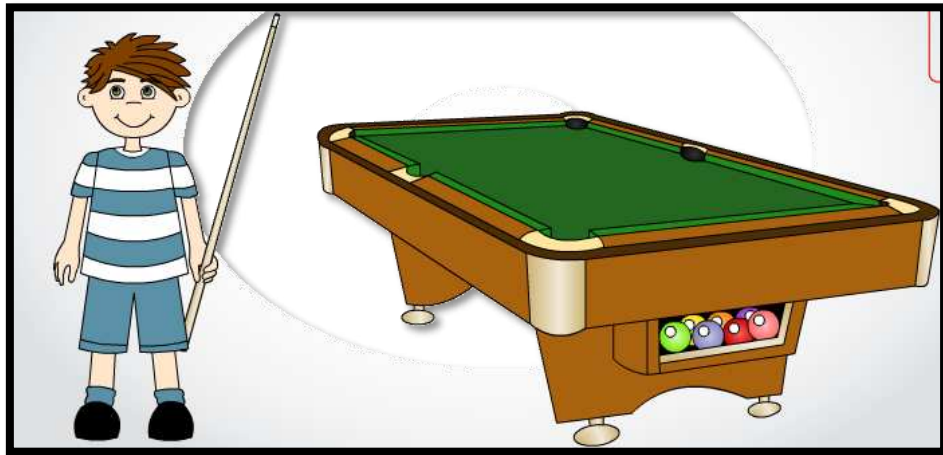
\*كم عدد الكرات التي على الطاولة ؟ .....



..... \*كم عدد الكرات التي على الطاولة ؟

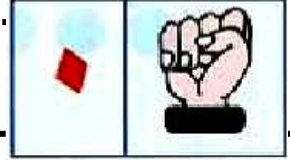


..... \*كم عدد الكرات التي على الطاولة ؟



..... \*كم عدد الكرات التي على الطاولة ؟

# قراءة العدد صفر وكتابته



أكمل :-

\* عدد الأطفال .....

\* عدد الأشجار .....

\* عدد القطط .....

\* عدد الكلاب .....


\* عدد الطيور .....

ملاك البحر


ارسم زهور بحسب العدد




١



٤

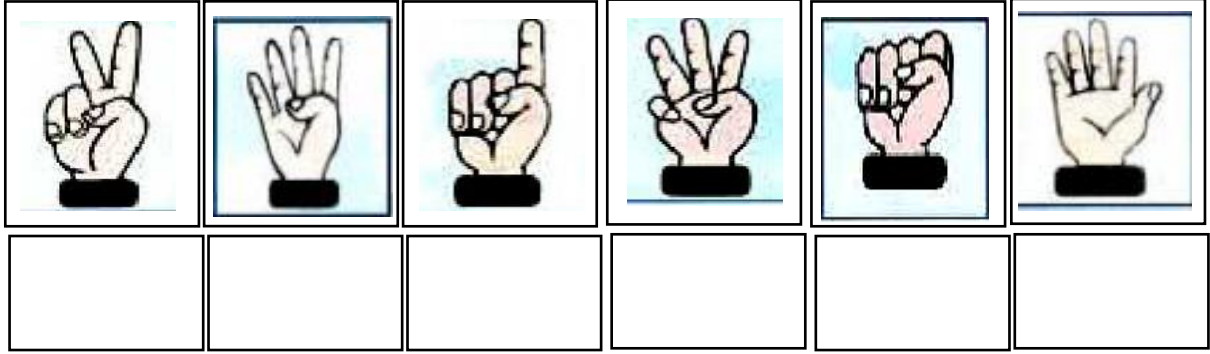


٠



٣

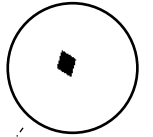
أكتب كم عدد الاصابع ؟



أكمل بالترتيب

٤

٦

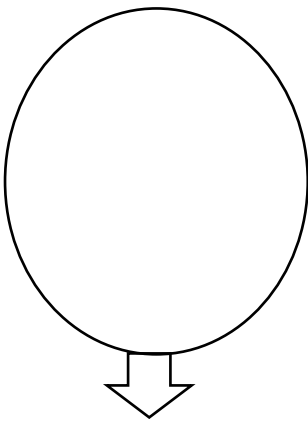


٥

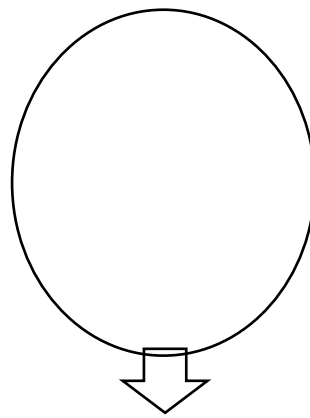
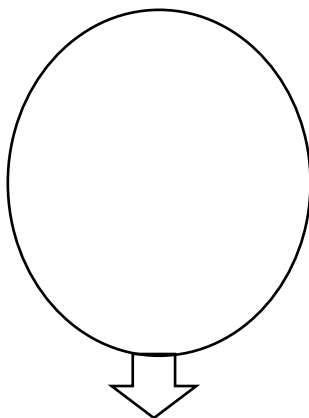
٣

١

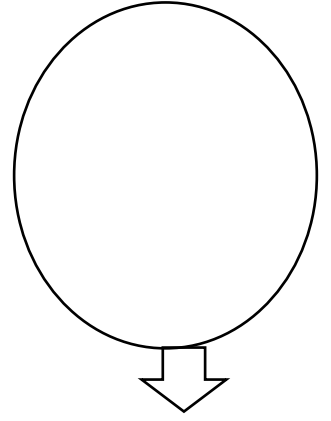
ارسم تفاحاً في كل دائرة من الدوائر ، تعبر عن العدد المكتوب :-



٦



٣



٥

ملاك البحر