

تم تحميل هذا الملف من موقع المناهج البحرينية



*للحصول على أوراق عمل لجميع الصفوف وجميع المواد اضغط هنا

<https://almanahj.com/bh>

* للحصول على أوراق عمل لجميع مواد الصف الأول اضغط هنا

<https://almanahj.com/bh/1>

* للحصول على جميع أوراق الصف الأول في مادة رياضيات ولجميع الفصول, اضغط هنا

<https://almanahj.com/bh/1>

* للحصول على أوراق عمل لجميع مواد الصف الأول في مادة رياضيات الخاصة بـ اضغط هنا <https://almanahj.com/bh/1>

* لتحميل كتب جميع المواد في جميع الفصول للـ الصف الأول اضغط هنا

<https://almanahj.com/bh/grade1>

[almanahjbhbot/me.t//:https](https://t.me/almanahjbhbot)

للتحدث إلى بوت على تلغرام: اضغط هنا




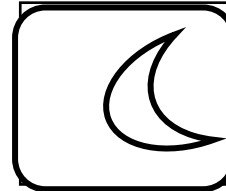


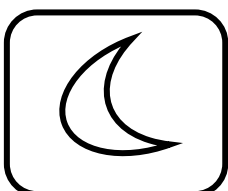


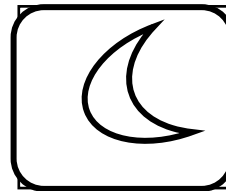



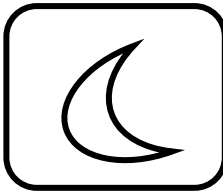

قياسُ الزَّمنِ



الدرس الأول: الصباح والمساء.

١



لون صورة الشمس او القمر حسب الوقت الذي تدل عليه تلك الصورة.





أصل الصورة المناسبة حسب لوقت (صباحاً او مساءً)

٢



يرسم صورة شيء يدل على الصباح أو المساء.

٣



ضع دائرة على صورة شيء الذي يدل على صباحاً أو المساء.



المساءً


صباحاً

المساءً

صباحاً

المساءً

صباحاً



المساءً

صباحاً

المساءً

صباحاً

المساءً

صباحاً



أصل الصورة المناسبة حسب لوقت (صباحاً او مساءً)



صباحاً









المساءً





ينظر إلى الصورة، ثم يرسم دائرة حول الوقت الذي
تدل عليه تلك الصورة.

٦





الدرس الثاني: أيام الأسبوع.

١

ينظر الطالب إلى الصورة ويستعمل جدول النشاطات المعطي ويرسم دائرة حول اليوم الذي يتم فيه ذلك.



الجمعة

الخميس

الأربعاء

الثلاثاء

الاثنين


الأحد

السبت

الاثنين

الأحد


السبت



الثلاثاء

الاثنين


الأحد



الاثنين

الأحد


السبت



الجمعة

الخميس

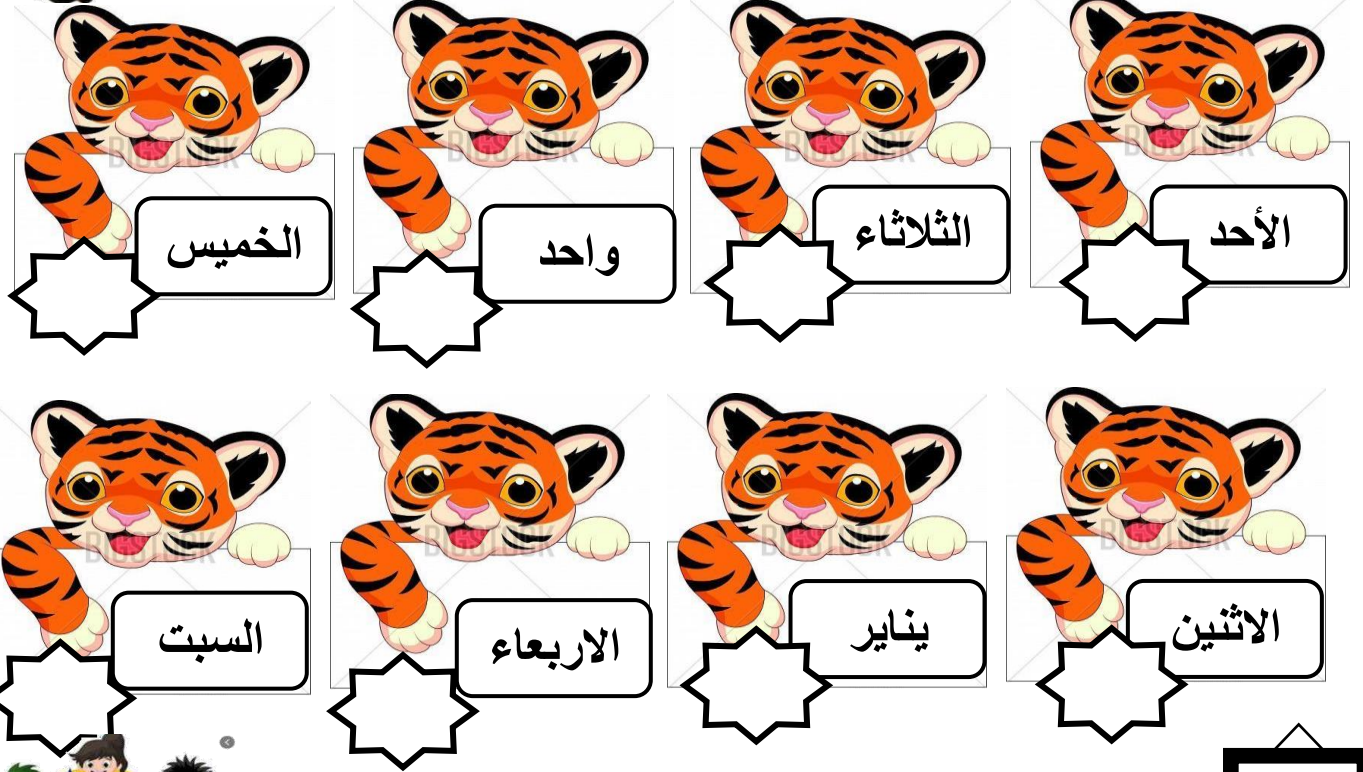
الأربعاء





ضع علامة x على الكلمات التي تدل أيام الأسبوع: -

٢



ضع ارقام متسلسل حسب ترتيب أيام الأسبوع: -

٣






ضع ارقام متسلسل حسب ترتيب أيام الأسبوع: -



	اليوم	أمس
	الأحد	السبت
	اليوم	أمس
	الخميس	الأربعاء

	اليوم	أمس
	الأربعاء	الثلاثاء

	اليوم	أمس
	الثلاثاء	الاثنين



صل صورة النشاط بالكلمة المناسبة حسب الجدول

٥



الجمعة



الخميس



الأربعاء



الثلاثاء



الاثنين



الأحد



السبت



السبت

الأحد

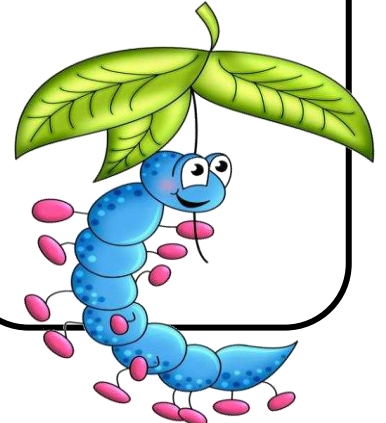
الثلاثاء


الأربعاء

الاثنين

الجمعة

الخميس





يناير

السبت الأحد الاثنين الثلاثاء الأربعاء الخميس الجمعة

٢	١					
٩	٨	٧	٦	٥	٤	٣
١٦	١٥	١٤	١٣	١٢	١١	١٠
٢٣	٢٢	٢١	٢٠	١٩	١٨	١٧
٢٨	٢٩	٢٨	٢٧	٢٦	٢٥	٢٤
						٣١



يضع الطالب علامة x على اسم الشهر.

ويضع علامة \triangle حول أوله.

ويضع علامة \bigcirc حول اليوم ٢٢


يلون بالأحمر الأيام ٢، ٩، ١٦.

ويلون أول يوم ٣١ بالأزرق.



ديسمبر

الجمعة	الخميس	الأربعاء	الثلاثاء	الاثنين	الأحد	السبت
٥	٤	٣	٢	١		
١٢	١١	١٠	٩	٨	٧	٦
٢٠	١٩	١٨	١٧	١٦	١٥	١٤
٢٧	٢٦	٢٥	٢٤	٢٣	٢٢	٢١
				٣٠	٢٩	٢٨



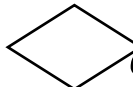
١- ضع دائرة حول الشهر المعطى، ومربع حول كلمة الأحد.

٢- لون المربع الذي يشير إلى اليوم ستة عشر من شهر ديسمبر. (بالون الاحمر)

٣- يضع شكل المثلث على نهاية الشهر.

٤- ما هو التاريخ الموجود في يوم الأربعاء بهذا الشكل

٥- ما هو التاريخ الموجود في يوم الثلاثاء بهذا الشكل





فبراير

السبت الأحد الإثنين الثلاثاء الأربعاء الخميس الجمعة

٦	٥	٤	٣	٢	١	
١٣	١٢	١١	١٠	٩	٨	٧
٢٠	١٩	١٨	١٧	١٦	١٥	١٤
٢٧	٢٦	٢٥	٢٤	٢٣	٢٢	٢١
						٢٨



* ما هو التاريخ الموجود في يوم الثلاثاء بهذا الشكل



* ما هو التاريخ الموجود في يوم الجمعة بهذا الشكل

* ما هو التاريخ الموجود في آخر يوم من الشهر


* ما هو التاريخ الموجود أول يوم من الشهر

* ضع دائر على التاريخ آخر يوم من الشهر يوم الأربعاء

يوم ذهاب عائلة أحمد الى الحديقة الحيوانات.



الدرس الثالث: التقويم



ديسمبر

السبت الأحد الإثنين الثلاثاء الأربعاء الخميس الجمعة

٤	٣	٢	١			
١١	١٠	٩	٨	٧	٦	٥
١٨	١٧	١٦	١٥	١٤	١٣	١٢
٢٥	٢٤	٢٣	٢٢	٢١	٢٠	١٩
	٣١	٣٠	٢٩	٢٨	٢٧	٢٦



بارك
الأمم
الكل
ش
كل ش

يضع الطالب على التاريخ المطلوب حسب الشكل المرسوم .


من الإثنين ١٦ ديسمبر ٢٠١٩م إلى الثلاثاء ١٧ ديسمبر ٢٠١٩م		عطلة العيد الوطني وعيد جلوس عاهل البلاد
من الخميس ١٩ ديسمبر ٢٠١٩م		الامتحانات النهائية للفصل الدراسي الأول لمراكز التعليم المستمر (التعليم الأساسي المعادل)
من الإثنين ٢٣ ديسمبر ٢٠١٩م		الامتحانات النظرية لنهاية الفصل الدراسي الأول لطلبة المرحلة الثانوية والتعليم الثانوي الموازي (المساوي)
من الخميس ٢٦ ديسمبر ٢٠١٩م		الامتحانات النهائية للفصل الدراسي الأول للمرحلة الإعدادية
من الإثنين ٣٠ ديسمبر ٢٠١٩م		الامتحانات النهائية للفصل الدراسي الأول للحلقة الثانية من التعليم الأساسي



الدرس الرابع: الساعة

١

أكمل الأرقام في الساعة التالية:-



الدرس الرابع: الساعة

اكتب العدد الذي يشير إلى وقت حدوث النشاط.



الساعة



أذهب إلى فراشي الساعة



الساعة



يبدأ دوام المدرسة



الساعة



أعود إلى البيت



الساعة




أذهب إلى لعب بالكرة



الساعة



أتناول العشاء



الدرس الرابع: الساعة

٣

اكتب العدد الذي يتفق مع الوقت الذي تظهره الساعة، ثم ضع دائرة حول الكلمة المناسبة (صباحاً أو مساءً) بشرح إجابته.

صباحاً

مساءً

الساعة



صباحاً

مساءً


الساعة



صباحاً

مساءً

الساعة



صباحاً

مساءً

الساعة



صباحاً

مساءً

الساعة






الدرس الرابع: الساعة

٤

اكتب وقت النشاط الذي تشير إليه الساعة.



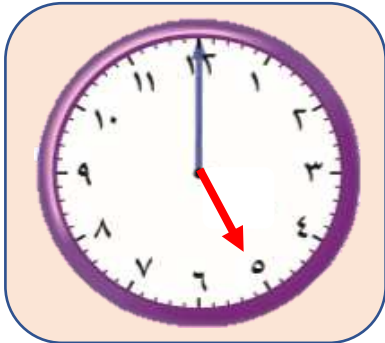
الساعة




الساعة



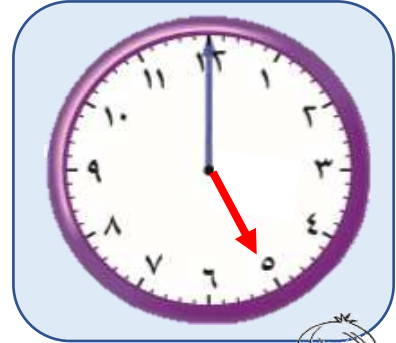
الساعة



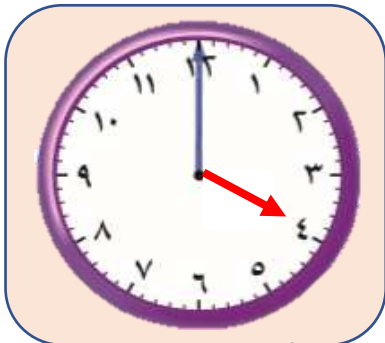
الساعة




الساعة



الساعة



الساعة



الساعة



الساعة





الدرس الرابع: الساعة

٥

ارسم عقرب الساعة حسب الوقت المكتوب.



الساعة: ٣



الساعة: ٥



الساعة: ٨



الساعة: ٤



الساعة: ١٢



الساعة: ١٠



الساعة: ٦



الساعة: ٢



الساعة: ١



الدرس الرابع: الساعة

١

اكتب ارقام الساعة صحيح في الساعة التالية: -

