

تم تحميل هذا الملف من موقع المناهج البحرينية



*للحصول على أوراق عمل لجميع الصفوف وجميع المواد اضغط هنا

<https://almanahj.com/bh>

* للحصول على أوراق عمل لجميع مواد الصف الأول اضغط هنا

<https://almanahj.com/bh/1>

* للحصول على جميع أوراق الصف الأول في مادة علوم ولجميع الفصول, اضغط هنا

<https://almanahj.com/bh/1>

* للحصول على أوراق عمل لجميع مواد الصف الأول في مادة علوم الخاصة بـ اضغط هنا <https://almanahj.com/bh/1>

* لتحميل كتب جميع المواد في جميع الفصول للـ الصف الأول اضغط هنا

<https://almanahj.com/bh/grade1>

[almanahjbhbot/me.t//:https](https://t.me/almanahjbhbot)

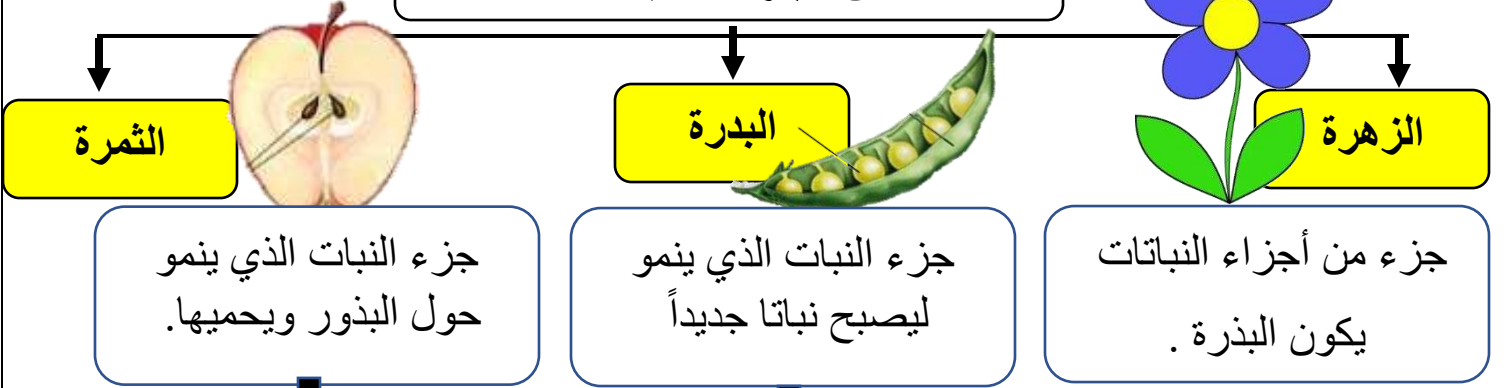
للتحدث إلى بوت على تلغرام: اضغط هنا

الوحدة الأولى : النباتات من حولنا

الفصل الثاني: النباتات تنمو وتتغير ، تعيش النباتات في أماكن كثيرة .

ملخص الفصل الاول (نمو النباتات)

من اجزاء النباتات

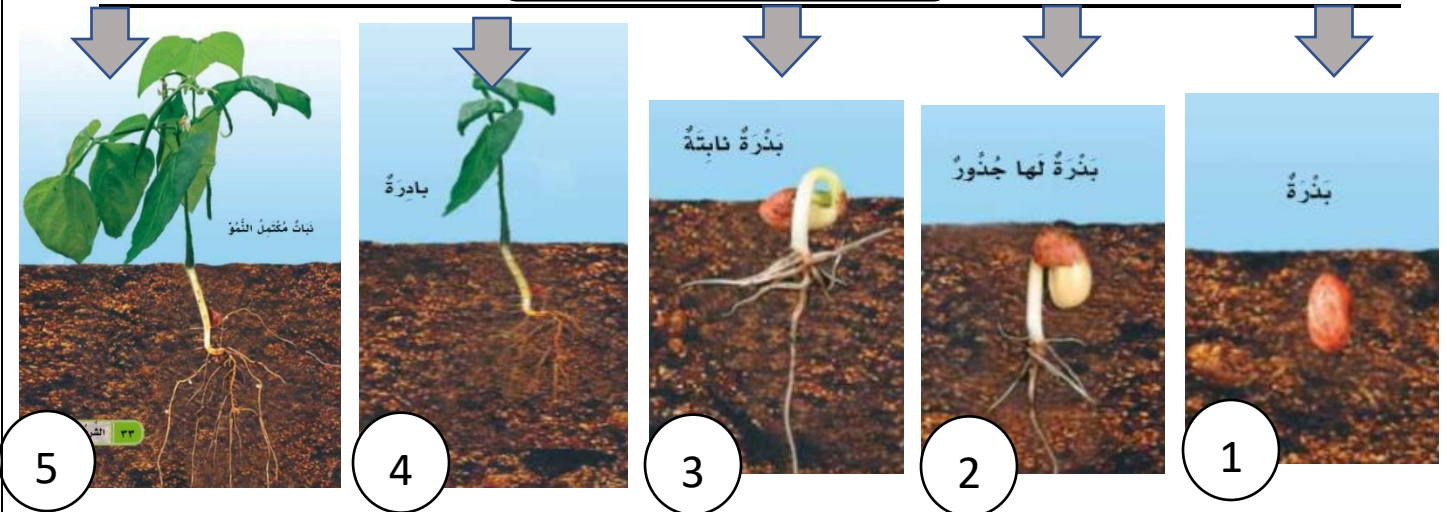


ملاحظة : نحن نأكل ثمار الكثير من النباتات و أحيانا نأكل البذور.

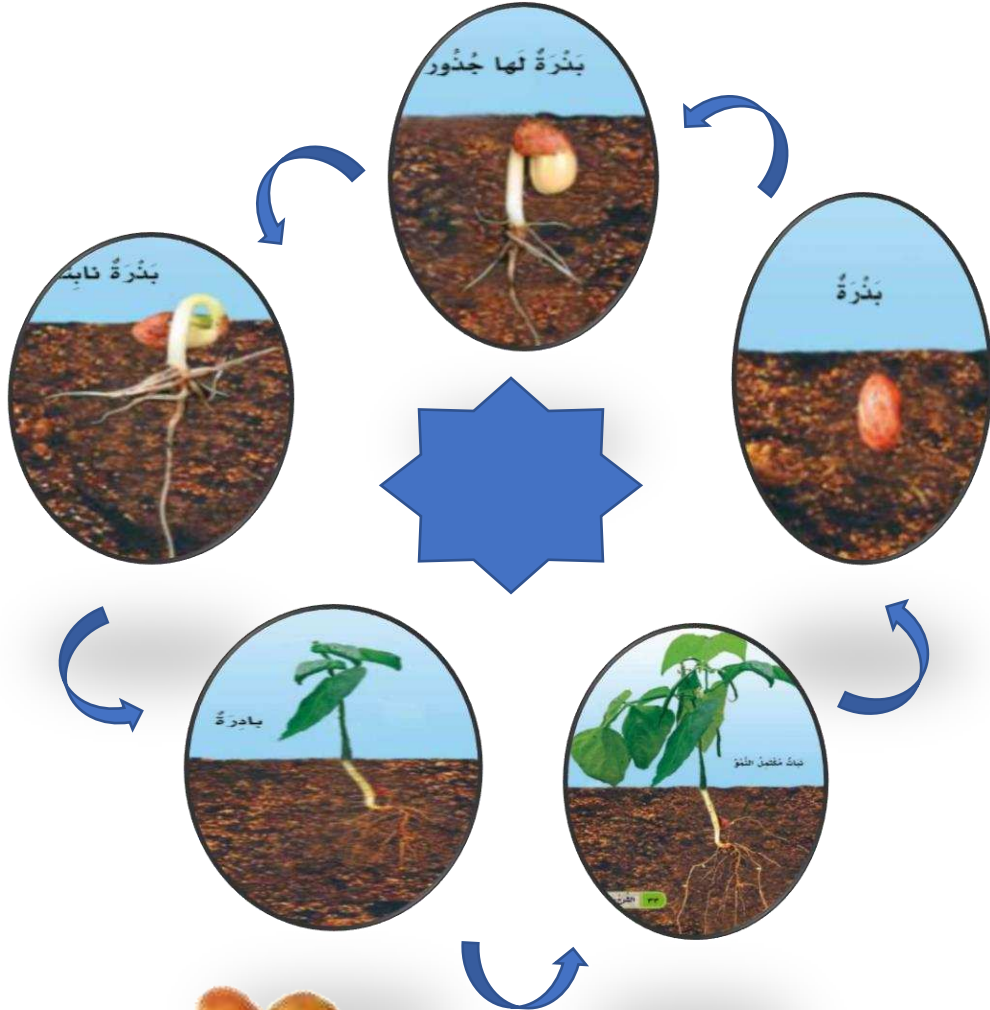


تنمو النباتات من البذور

دورة حياة



دورة حياة




حقيقة الخوخ ثمرة، بينما الفول بذرة.



ماذا تعرف عن البذور

لها ألوان مختلفة

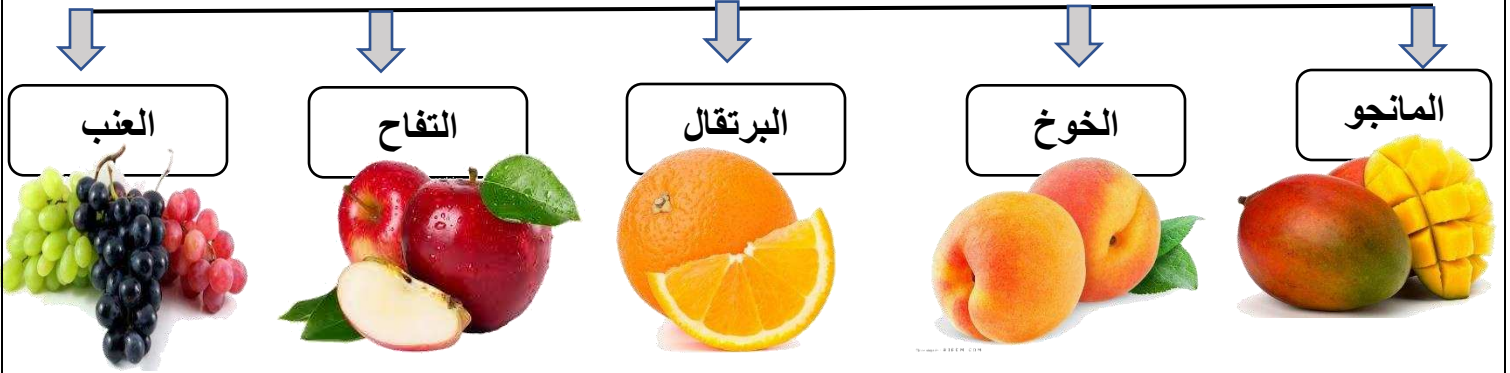


لها أشكال مختلفة



لها أحجام مختلفة

نأكل ثمار العديد من النباتات



النباتات تعيش فى أماكن كثيرة

الغابة

الصحراء

مكان حار رطب

مكان جاف ومعظمها حارة



تتميز نباتات الغابة بأوراق كبيرة مدببة ، تساعد النبات على التخلص من الماء الزائد.

تتميز نباتات الصحراء لها أجزاء تساعد على الاحتفاظ بالماء .
مثل : الأوراق الابرية والساق الغليظة.

أضع علامة (✓) أمام الإجابة الصحيحة وعلامة (X) أمام الإجابة الخاطئة

1

من اجزاء النباتات الزهرة ، البدره ، الثمار.

الساق تنتج البذور.

تحتاج النباتات لتعيش ماء وهواء فقط .

البادرة هي النبات الصغير .

تتميز نباتات الغابة بأوراق كبيرة مدببة ، تساعد
النبات على التخلص من الماء الزائد.


أرسم بعض من الثمار التي تأكله .

2



3

أي ثمرة لديها العدد الأكبر من البذور، ضع عليها دائرة:-




4

رتب نمو النبة بكتابة الأعداد بالترتيب.




5


ارسم مراحل نمو النبة.




نبات مكتمل النمو



بادرة







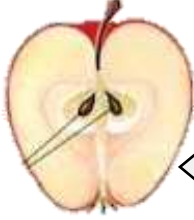
بذرة لها جذور







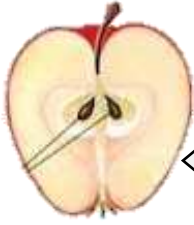
بذرة

ضع علامة على الإجابة الصحيح.





جزء من النبات ينتج البذور



جزء من النبات يمكن أن يتحول إلى نبات جديد




جزء من النبات ينمو حول البذرة وتحميها.




توضيح كيف ينمو الكائن الحي ويعيش ويموت .


البادرة






الزهرة



دورة الحياة




نبات يعيش في الصحراء ويخزن الماء في ساقه.




مكان جاف ومعظمها حارة


الصحراء



الغابة




الحديقة




مكان حار ورطب


المدرسة



الصحراء

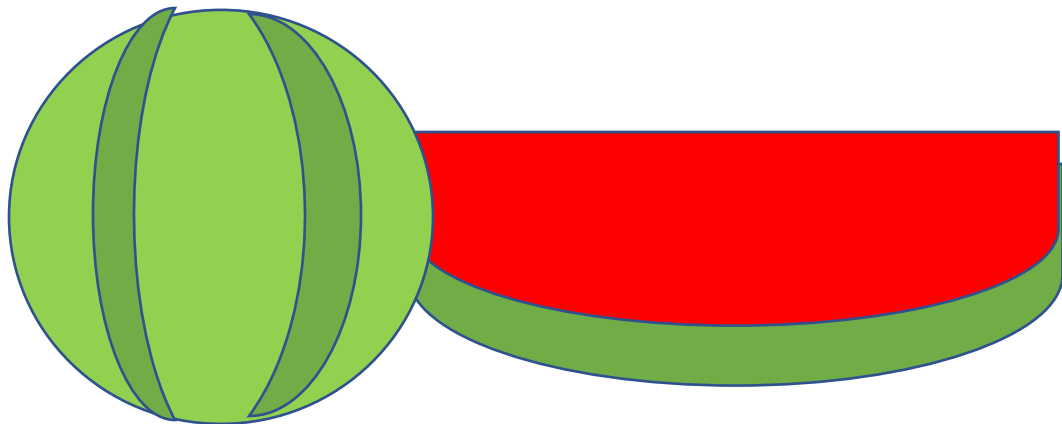


الغابة



ارسم البذور لبطيخ

7



أصل بين الصورة والكلمة المناسبة فيما يلي :-

ثَمَرَةٌ



-١

بُدُورٌ



-٢

بَادِرَةٌ



-٣

دَوْرَةٌ حَيَاةٍ



-٤