

تم تحميل هذا الملف من موقع المناهج العُمانية



\*للحصول على أوراق عمل لجميع الصفوف وجميع المواد اضغط هنا

<https://almanahj.com/bh>

\* للحصول على أوراق عمل لجميع مواد الصف الأول اضغط هنا

<https://almanahj.com/bh/1>

\* للحصول على جميع أوراق الصف الأول في مادة رياضيات ولجميع الفصول, اضغط هنا

<https://almanahj.com/bh/1math>

\* للحصول على أوراق عمل لجميع مواد الصف الأول في مادة رياضيات الخاصة بـ الفصل الثاني اضغط هنا

<https://almanahj.com/bh/1math2>

\* لتحميل كتب جميع المواد في جميع الفصول للـ الصف الأول اضغط هنا

<https://almanahj.com/bh/grade1>

\* لتحميل جميع ملفات المدرس جعفر علي اضغط هنا

---

للتحدث إلى بوت على تلغرام: اضغط هنا

[https://t.me/omcourse\\_bot](https://t.me/omcourse_bot)

## نشاط تقوي في مادة الرياضيات

الصف الأول الابتدائي - الفصل الدراسي الثاني

رقم السؤال	الكفاية	درجة السؤال	درجة التقويم
س١	يتعامل مع وحدات القياس الأساسية (النقود)		
	يجل مسائل رياضية أو حياتية ماراً بخطوات حل المسألة.		
	المجموع		

اسم التلميذ: ..... الصف: الأول / .....

ملاحظات ولي الأمر.....

التوقيع.....

مدير المدرسة

المعلم الأول

إعداد: أ. السيد جعفر علي



السؤال الأول

١ - ا - صل قيمة القطع النقدية التالية بقيمتها :

١٠ فلس



١٠٠ فلس



٥٠ فلس



٥٠٠ فلس



٥ فلوس



٢٥ فلس



١ - ب - أعد القطع النقدية، ثم أكتب مجموعها :



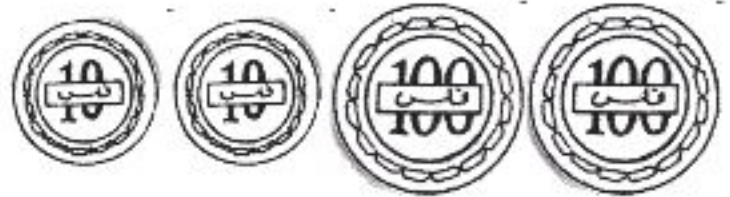
فلساً



فلساً



فلساً



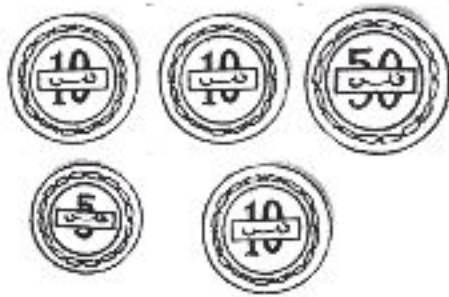


فلساً





فلساً

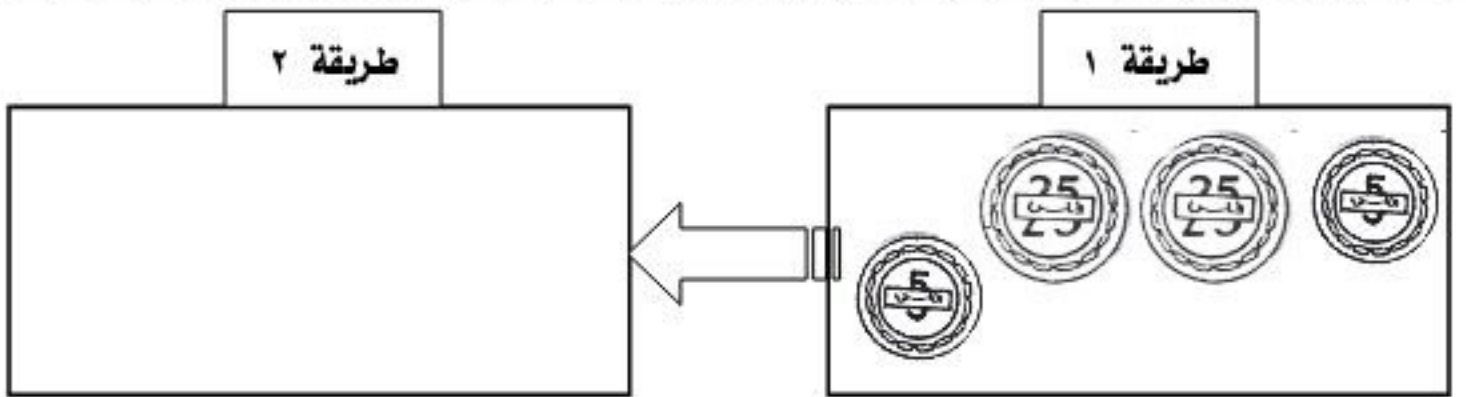
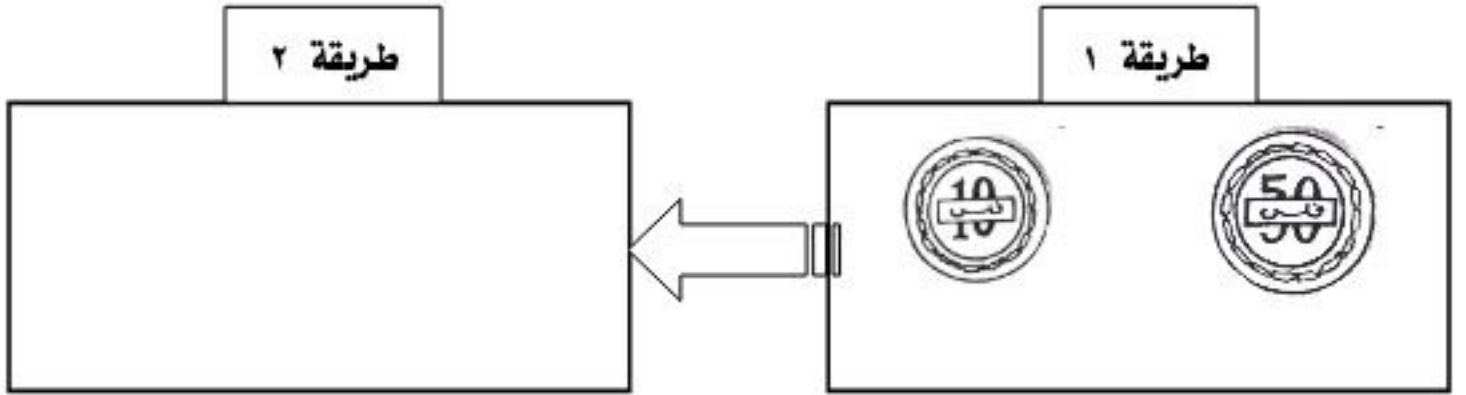
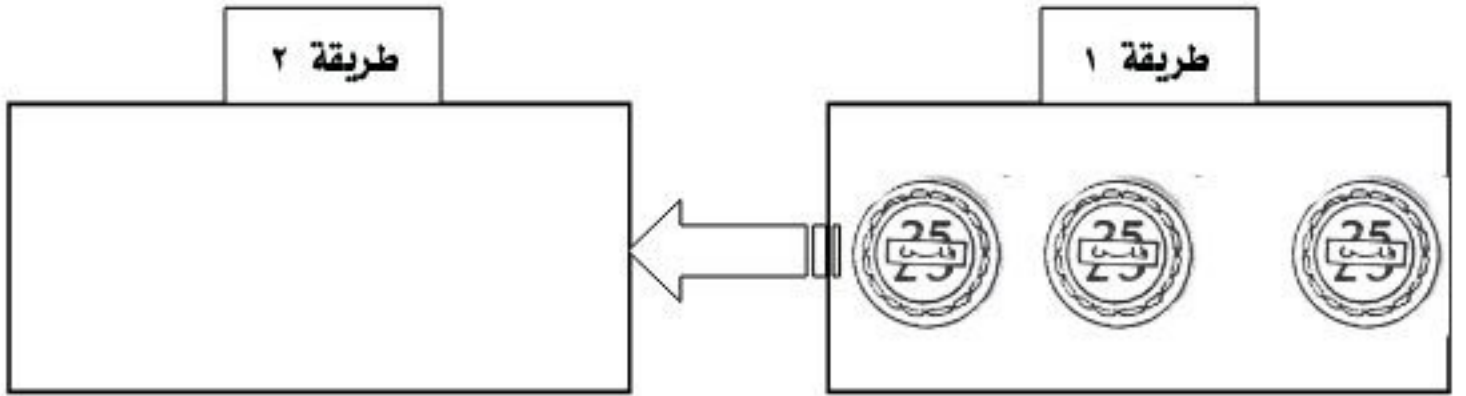
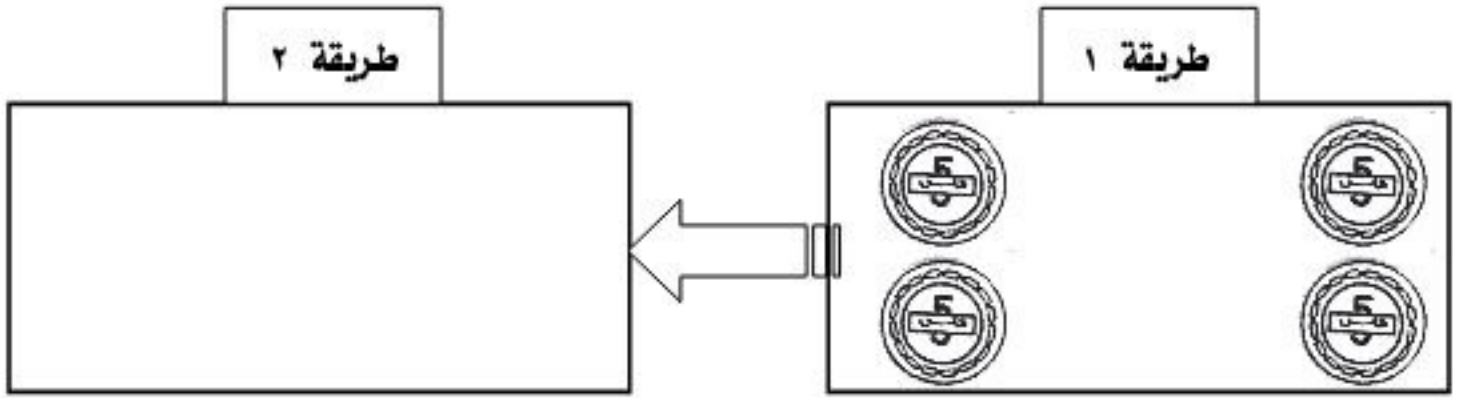
١ - ج - حوٲ على القٲع النقديٲ اللازمة لشراء الأشياء :



١- د - ارسم القطع النقدية لتشتري ما تريد :



١ - هـ - مثل المبالغ المبينة بشكل آخر :





## أحل المسائل اللفظية

١ - لدى مريم ٥ قطع نقدية من فئة ١٠ فلس ، وتريد شراء قلم وردي قيمته ٤٥ فلساً .

- كم فلساً مع مريم؟ .....
- هل تكفي القطع التي مع مريم لشراء القلم؟ .....
- كم يبقى مع مريم بعد شراء القلم؟ .....

٢ - أراد محمود أن يفكك قطعة النقود التي معه من فئة الـ ٥٠ فلس إلى قطع أصغر منها ، بحيث يكون عدد القطع المفككة عشر قطع. فمن أية فئة من القطع النقدية يمكنه عمل ذلك؟

.....

١ - يبيع ناصر الأيس كريم بسعر ٣٠ فلساً ، اذا اشترى عقيل ٣ أيس كريم من عند ناصر .

- فما مجموع ما اشتراه عقيل؟ .....
- كم قطعة من فئة ٥٠ فلساً سيدفعها عقيل لناصر .....

لجميع نتمنى التوفيق والنجاح