

تم تحميل هذا الملف من موقع المناهج البحرينية



\*للحصول على أوراق عمل لجميع الصفوف وجميع المواد اضغط هنا

<https://almanahj.com/bh>

\* للحصول على أوراق عمل لجميع مواد الصف الأول اضغط هنا

<https://almanahj.com/bh/1>

\* للحصول على جميع أوراق الصف الأول في مادة لغة عربية ولجميع الفصول, اضغط هنا

<https://almanahj.com/bh/1>

\* للحصول على أوراق عمل لجميع مواد الصف الأول في مادة لغة عربية الخاصة بـ اضغط هنا <https://almanahj.com/bh/1>

\* لتحميل كتب جميع المواد في جميع الفصول للـ الصف الأول اضغط هنا

<https://almanahj.com/bh/grade1>


[almanahjbhbot/me.t//:https](https://t.me/almanahjbhbot)

للتحدث إلى بوت على تلغرام: اضغط هنا

## الحي الذي يعيش فيه حامد وسعاد

اين يعيش حامد وسعاد ؟


1



يعيش حامد وسعاد في أحد أحياء مدينة .....  
(المحرق ، المنامة ، الرفاع ، عالي )

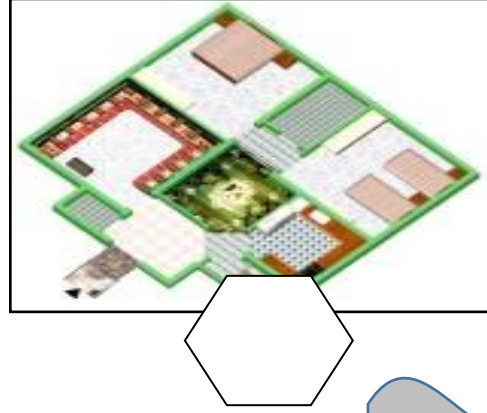
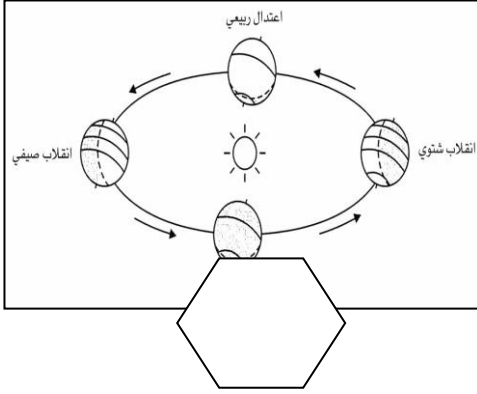
اي الاحياء الذي يعيش فيه حامد وسعاد ،  
ضع علامة تحت الصورة .

2



أضع علامة ( ✓ ) امام صورة رسم المخطط

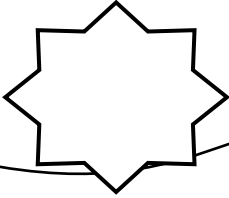
3




ما هو مخطط

4


رسم يظهر كل الأشياء  
كما تبدو كم الأعلى .




رسم يظهر الحيوانات فقط  
كما تبدو كم الأعلى .



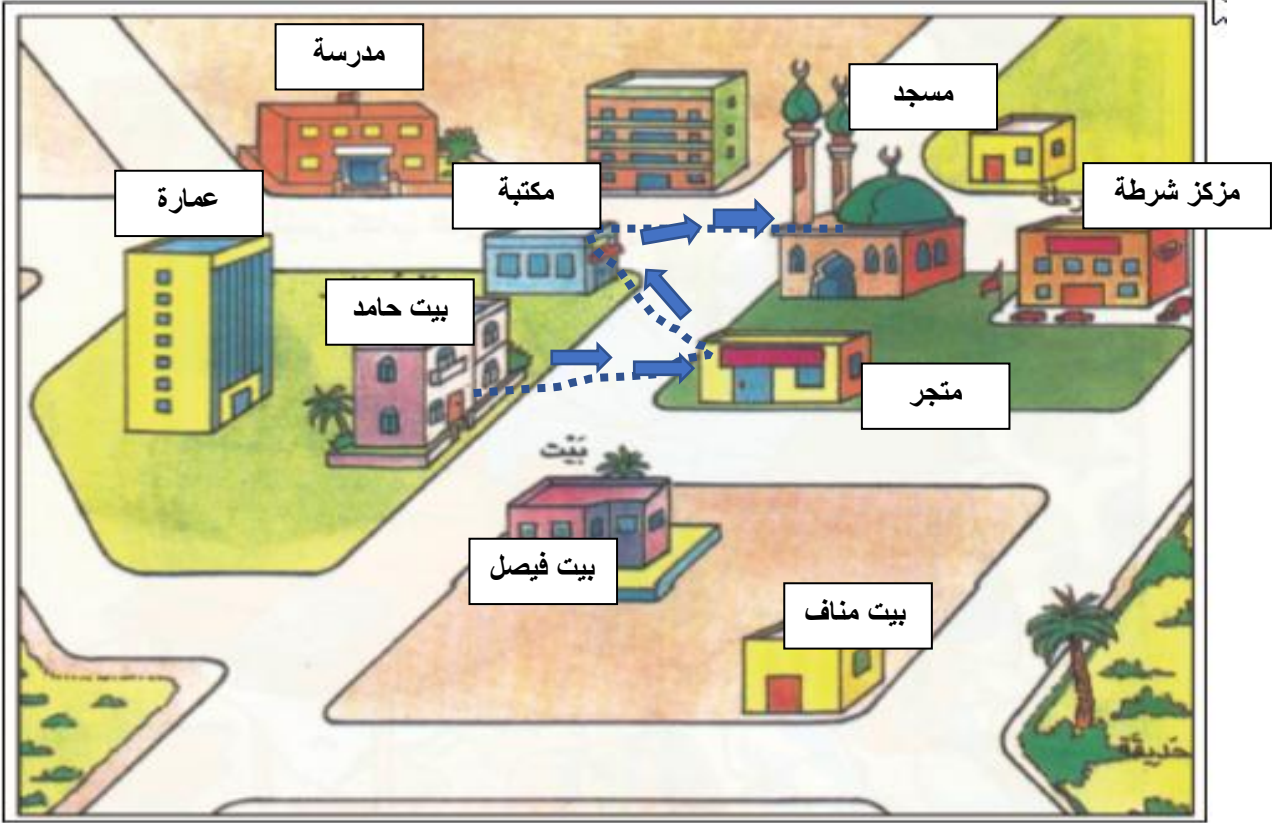
رسم يظهر المنازل فقط  
كما تبدو كم الأعلى .




رسم يظهر السيارات  
فقط ، كما تبدو كم  
الأعلى .



اكتب اسماء الاماكن الذي ذهب اليه حامد .



خرج حامد من البيت إلى :

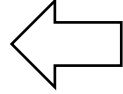



خرج حامد من: ( ارسم خط بالون الاحمر ) يدل على ذلك.

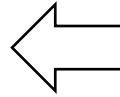


أكتب المسطوح المناسب لصورة: فوق ، تحت ، أمام ، وراء

5



.....



.....



الْمُعْطَمَةُ ..... السِّيُورَةُ .

الْمُعْطَمَةُ ..... الْمَغْطَبُ .



السَّلَّةُ ..... الْبَيْتُ .



الْكَلْبُ ..... الصِّيَادُ .

الصِّيَادُ ..... الشَّبَكَةُ .



الْعَرَبِيَّةُ ..... الطِّفْلُ .

