

تم تحميل هذا الملف من موقع المناهج البحرينية



شرح درس المقارنة والتصنيف

موقع المناهج ← المناهج البحرينية ← الصف الأول ← رياضيات ← الفصل الأول ← ملفات متنوعة ← الملف

تاريخ إضافة الملف على موقع المناهج: 2024-10-13 11:15:02

ملفات اكتب للمعلم اكتب للطالب الاختبارات الكترونية الاختبارات احلول اعروض بوربوينت أوراق عمل منهج انجليزي ملخصات وتقارير مذكرات وبنوك الامتحان النهائي للمدرس

المزيد من مادة رياضيات:

التواصل الاجتماعي بحسب الصف الأول



صفحة المناهج البحرينية على فيسبوك

الرياضيات

اللغة الانجليزية

اللغة العربية

التربية الاسلامية

المواد على تلغرام

المزيد من الملفات بحسب الصف الأول والمادة رياضيات في الفصل الأول

مذكرة رياضيات	1
لوحة المئة للصف الأول الابتدائي	2
كراسة أنا وأرقامى الجميلة	3
تدريبات للأطفال بمساعدة ولي الأمر	4
نشاط العددين 4,5	5



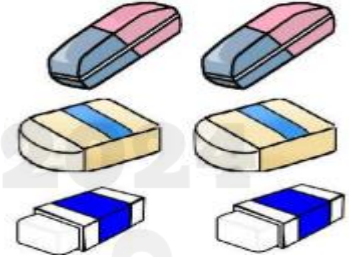
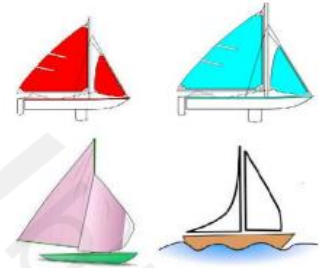
المُقارَنَة وَالتَّصْنِيفُ



الدرس الأول : التصنيف إلى مجموعات

1

تمهيد : لاحظ تجمعات الأشياء التالية ، ثم ضع دائرة حول كل مجموعة في ما يأتي :-





مجموعة الدراجات

مجموعة السيارات



مجموعة الفواكة

مجموعة الدوائر







لون المجموعات التالية:-



مجموعة الأقلام

مجموعة الأسماك




مجموعة الدوائر

مجموعة الدوائر



حوظ لتكون المجموعات مجموعة النجوم و مجموعة الطيور.






الحجم




اللون


دائرة حول الشيء الذي له الصفة نفسها في داخل الاطار التالي :-



كون مجموعات من الطيور المتشابهة ثم لونها:-



كون مجموعة الفواكة و مجموعة الخضروات ثم لون كل منها:-




لون ثم صنف الورد بحسب أحجامها بأن يصل
بخط بين كل وردة .




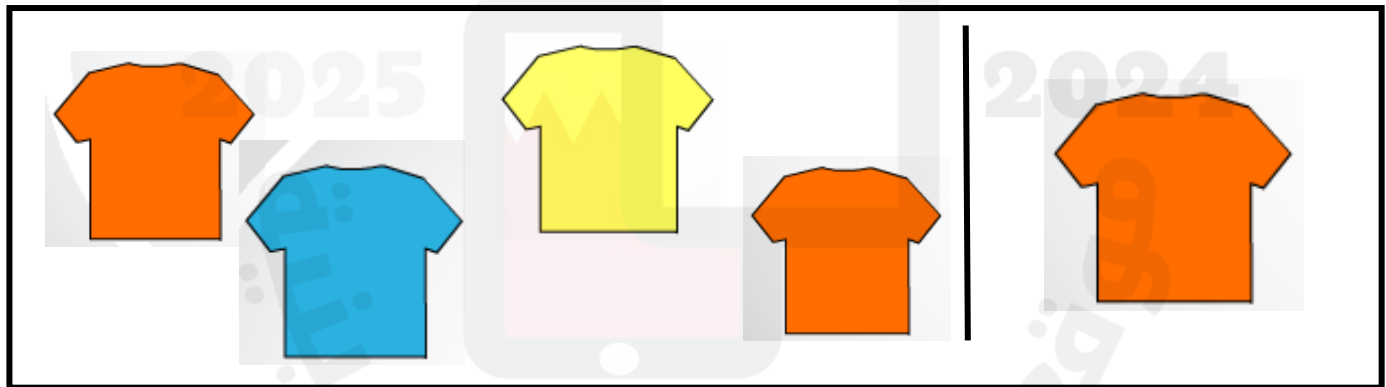
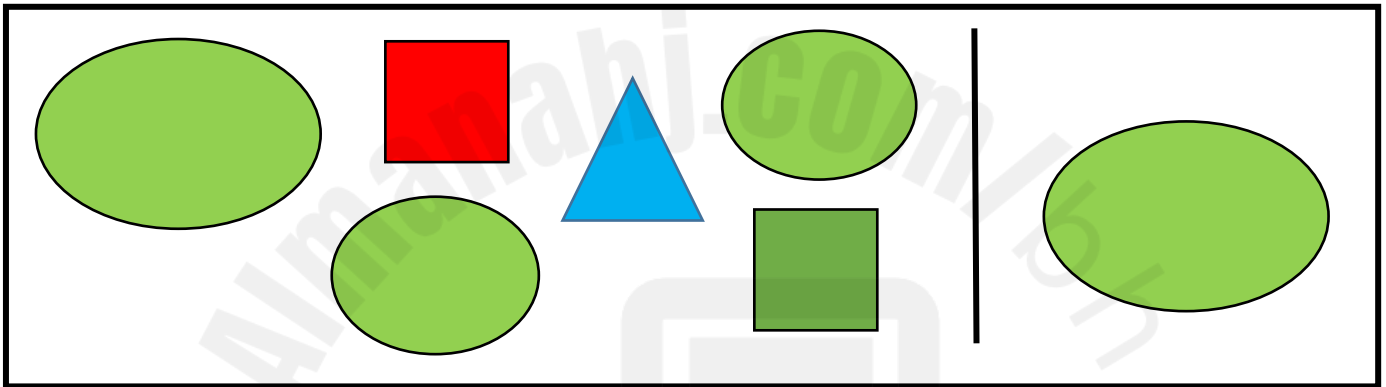
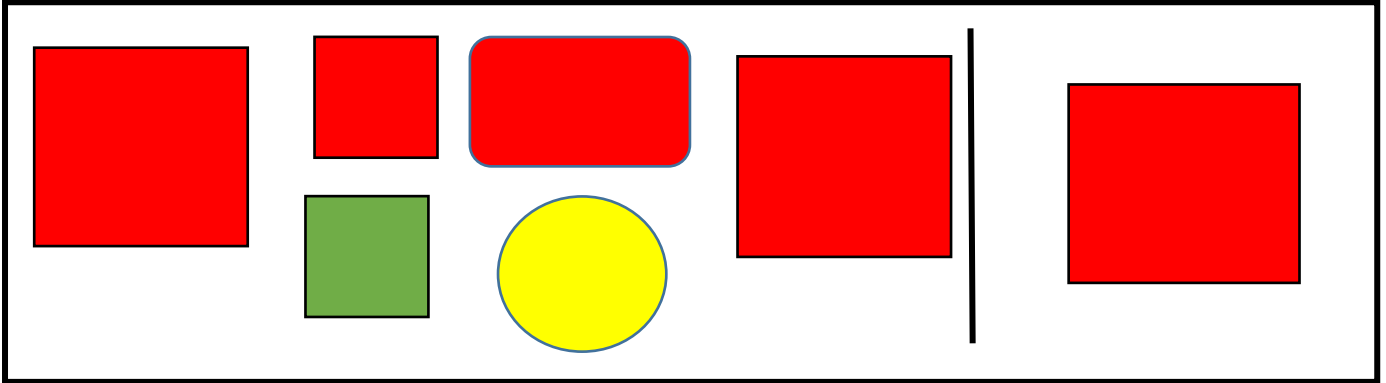
حوط الأسود التي حجمها كبير



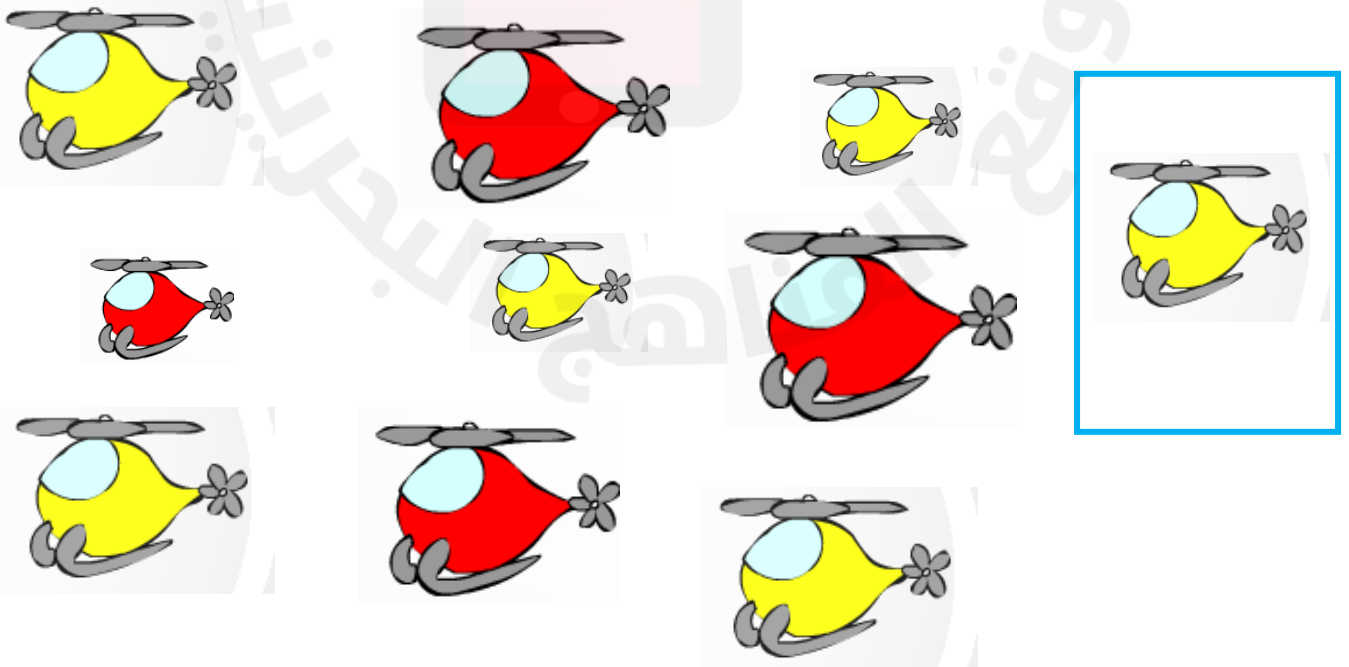
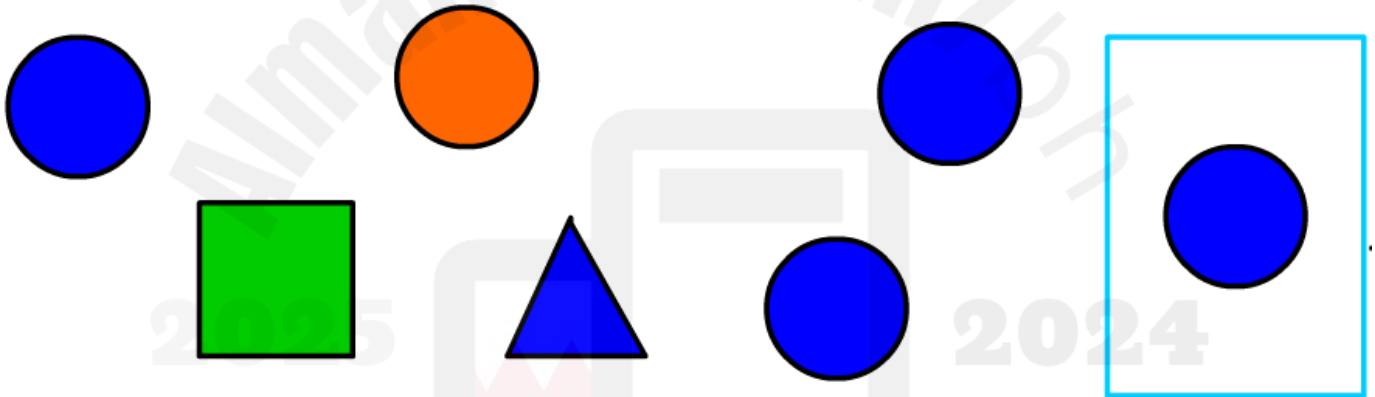
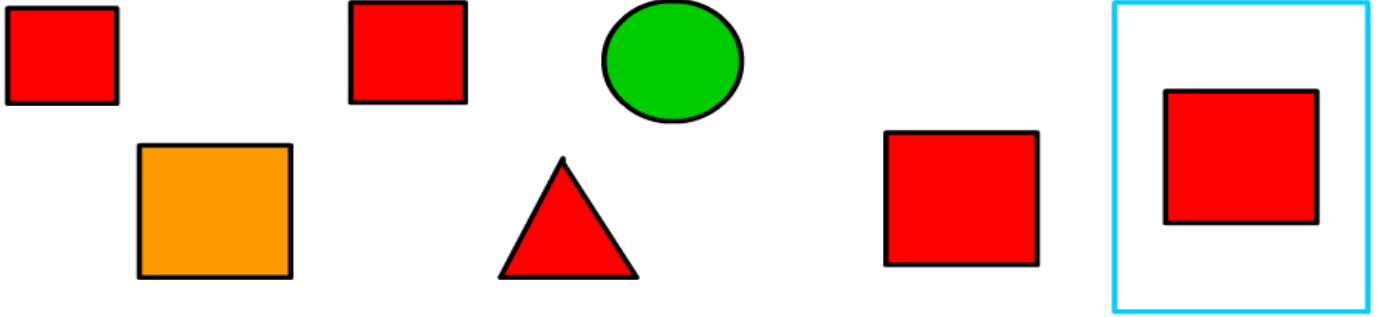
يصنف الحيوانات ويرسم خطوطاً تصل
كلا منها بالمكان الذي تنتمي إليه:-



ضع علامة على الشكل المماثل:-



ضع 0 حول الشكل المماثل للشكل الملون داخل الإطار ،
و x على الشكل المختلف عنه :-



صل بخط بين عناصر المجموعتين المتقابلتين
ثم صف كل مجموعة مستعملاً (يساوي)



أصغر من

يساوي

أكبر من



أصغر من

يساوي

أكبر من



أصغر من

يساوي

أكبر من

صل بخط بين عناصر المجموعتين المتقابلتين
ثم صف كل مجموعة مستعملاً (يساوي)





أصغر من

يساوي

أكبر من

صل بخطوط بين عناصر المجموعتين ، ثم
ارسم الأشكال الناقصة لیساوي عدد عناصرها:-



صل بخطوط بين عناصر المجموعتين ، ثم حوط المجموعة الأكثر :-





صل بخطوط بين عناصر المجموعتين ، ثم حوط المجموعة الأقل :-



أيهما أقل





أيهما الأكثر



١



٢



٣



٤



٤

٣

٢

١

صل بخطوط بين عناصر المجموعتين ، ثم حوّل المجموعة الأكثر :-



صل بخطوط بين عناصر المجموعتين ، ثم حوّل المجموعة الأقل :-

