

تم تحميل هذا الملف من موقع المناهج البحرينية



* للحصول على أوراق عمل لجميع الصفوف وجميع المواد اضغط هنا

<https://almanahj.com/bh>

* للحصول على أوراق عمل لجميع مواد الصف الأول اضغط هنا

<https://almanahj.com/bh/1>

* للحصول على جميع أوراق الصف الأول في مادة علوم ولجميع الفصول, اضغط هنا

<https://almanahj.com/bh/1science>

* للحصول على أوراق عمل لجميع مواد الصف الأول في مادة علوم الخاصة بـ الفصل الأول اضغط هنا

<https://almanahj.com/bh/1science1>

* لتحميل كتب جميع المواد في جميع الفصول للـ الصف الأول اضغط هنا

<https://almanahj.com/bh/grade1>

* لتحميل جميع ملفات المدرس مدرسة اليرموك الإبتدائية للبنين اضغط هنا

[almanahjbhbot/me.t//:https](https://t.me/almanahjbhbot)

للتحدث إلى بوت على تلغرام: اضغط هنا

مملكة البحرين

وزارة التربية والتعليم

مدرسة اليرموك الابتدائية

الاسم :

الصف :

التاريخ :/...../..... م


اختبار علوم
(للوقفة الأولى)
معلمو الصف الأول ابتدائي ٢٠١٩-٢٠٢٠ م

٤


السؤال الأول : ضع حول الجذور وعلامة على غير الجذور




السؤال الثاني : ضع حول الثمرة وعلامة على غير الثمرة



السؤال الثالث : ضع حول الزهرة وعلامة على غير الزهرة



السؤال الرابع : صل بين أجزاء النبات وما يناسبها في الصورة



زهرة


ثمرة

أوراق


ساق

جذور

السؤال الخامس : ضع حول المخلوقات الحية وعلامة على الأشياء الغير حية



السؤال السادس : رتب دورة حياة نبات الفاصوليا مستخدما الارقام من (١ - ٥)



السؤال السابع : ضع علامة ✓ أمام العبارة الصحيحة وعلامة × أمام العبارة الخاطئة

١. () الجزء المسؤول عن تثبيت النبات في التربة هو الساق .
٢. () جميع النباتات لها أزهار .
٣. () تنمو الأزهار لتصبح نباتا كبيرا
٤. () يحتاج النبات الى ضوء الشمس لينمو ويكبر .
٥. () الأشياء الغير حية تحتاج الى ماء وهواء .
٦. () الزهرة هي الجزء الذي يكون البذور .

انتهت المراجعة ،،،،،