

تم تحميل هذا الملف من موقع المناهج البحرينية



* للحصول على أوراق عمل لجميع الصفوف وجميع المواد اضغط هنا

<https://almanahj.com/bh>

* للحصول على أوراق عمل لجميع مواد الصف الأول اضغط هنا

<https://almanahj.com/bh/1>

* للحصول على جميع أوراق الصف الأول في مادة رياضيات ولجميع الفصول, اضغط هنا

<https://almanahj.com/bh/1math>

* للحصول على أوراق عمل لجميع مواد الصف الأول في مادة رياضيات الخاصة بـ الفصل الثاني اضغط هنا

<https://almanahj.com/bh/1math2>

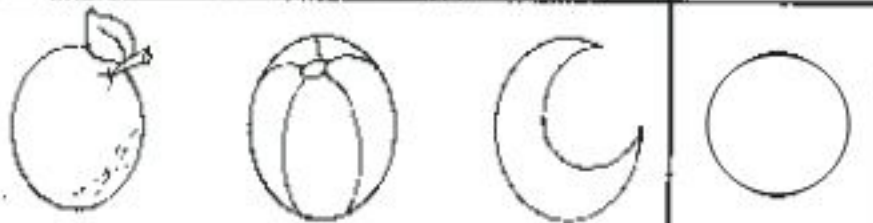
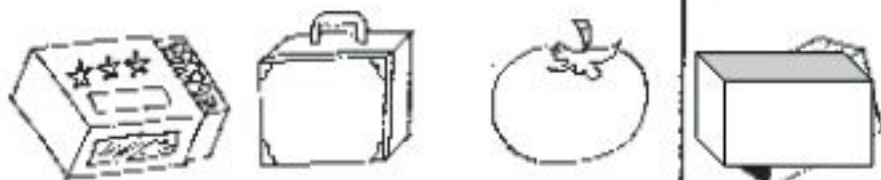
* لتحميل كتب جميع المواد في جميع الفصول للـ الصف الأول اضغط هنا

<https://almanahj.com/bh/grade1>


[almanahjbhbot/me.t//:https](https://t.me/almanahjbhbot)

للتحدث إلى بوت على تلغرام: اضغط هنا


لون الشكل الذي يشبه الاشكال الهندسية التي في العمود اليمين .



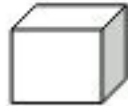
عد عناصر كل مجموعة واكتب أسفل منها.



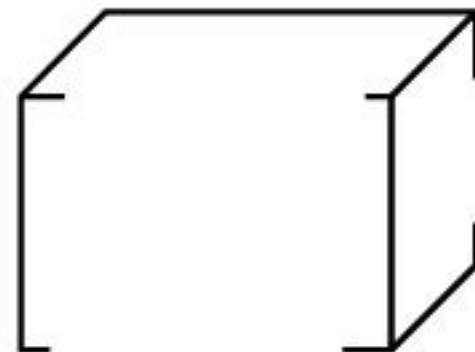
ضع دائرة على ما يشبهه من الاشكال المقابلة.



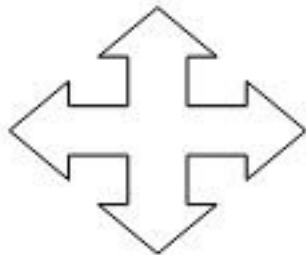
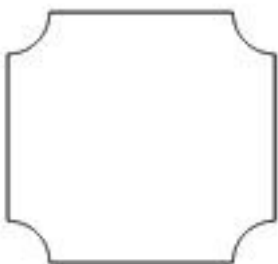
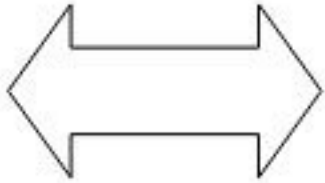
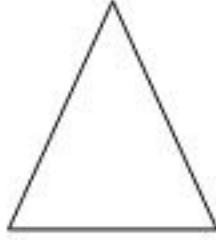
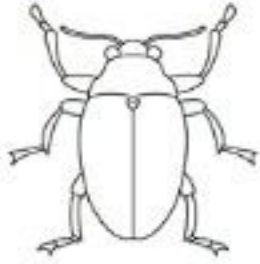
اقص والصق من المجلات صورا تحمل هذه الاشكال



اصل الزوايا حتى تكتمل الاشكال ، ثم ألون شكل بلون :



يرسم الطالب خطأ يقسم الشكل أجزاء متطابقة.



يستعمل قصاصات أورق ملونة في تلصيق على الأشكال .

