

تم تحميل هذا الملف من موقع المناهج البحرينية



\*للحصول على أوراق عمل لجميع الصفوف وجميع المواد اضغط هنا

<https://almanahj.com/bh>

\* للحصول على أوراق عمل لجميع مواد الصف الأول اضغط هنا

<https://almanahj.com/bh/1>

\* للحصول على جميع أوراق الصف الأول في مادة اجتماعيات ولجميع الفصول, اضغط هنا

<https://almanahj.com/bh/1>

\* للحصول على أوراق عمل لجميع مواد الصف الأول في مادة اجتماعيات الخاصة بـ اضغط هنا <https://almanahj.com/bh/1>

\* لتحميل كتب جميع المواد في جميع الفصول للـ الصف الأول اضغط هنا

<https://almanahj.com/bh/grade1>

[almanahjbhbot/me.t//:https](https://t.me/almanahjbhbot)

للتحدث إلى بوت على تلغرام: اضغط هنا



من يستطيع تكسير الصخور ؟


النباتات



أمواج البحر




- أمواج البحار تضرب الصخور فتفتتها .
- تتكون الرمال من فتات الصخور .
- بعض الأشجار تنمو جذورها في شقوق الصخر وتضغط عليه فتكسره .



- يمكن أن تنمو جذور الأشجار تحت أرصفة الشوارع فتحطمها .

- قسمت هذه الشجرة الصخرة إلى جزأين .



من يستطيع تغيير اليابسة ؟

الرياح



تكوّن لنا الكثبان الرملية

الأمواج



المياه الجارية

الأمواج والمياه الجارية والرياح يعملون على :

- تكسير الصخور .
- نقل التربة وفتات الصخور من مكان إلى آخر .

جذور النباتات



- تعمل على تكسير الصخور
- تحافظ على التربة وتثبتها في مكانها

اليابسة

هي الجزء الصلب من  
الأرض ويتكون من  
الصخور والتربة .


السؤال (1) : أكمل العبارات التالية بما يناسبها من كلمات :

فتات

ترية

تضرب

ماء



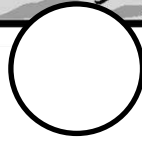




• أمواج البحر ..... الصخور فتفتتها .

• تتكون الرمال من ..... الصخور .



السؤال (2) : أرتب صور مراحل تكسر الصخور من ( 1 إلى 3 ) :



السؤال (3) : أرتب الأحداث التالية من ( 1 إلى 3 ) :

■ يتحول فتات الصخور إلى رمال .



■ تأتي أمواج البحر وتصطدم بالصخور .



■ تتكسر الصخور وتتحول إلى فتات .




السؤال (4) : أكمل العبارات التالية بما يناسبها من كلمات :

جذور

تبني

تكسر

أوراق



• يمكن للنباتات أن ..... الصخور .

• الأشجار تضغط على شقوق .....

الصخر فتكسره .

السؤال (5) : أضع علامة (✓) أمام الدور الذي يقوم به كل من الآتي :

الحفاظ على التربة وتثبيتها في مكانها	تكوين الكثبان الرملية	نقل التربة وفترات الصخور	تكسير الصخور		
				أمواج البحر	1
				المياه الجارية	2
				الرياح	3
				جذور النباتات	4

السؤال (6) : أعيد ترتيب تعريف اليابسة وأكتبه على السطر :

الصخور والتربة

الجزء الصلب

يتكون من

من الأرض

اليابسة هي : .....