

تم تحميل هذا الملف من موقع المناهج البحرينية



\*للحصول على أوراق عمل لجميع الصفوف وجميع المواد اضغط هنا

<https://almanahj.com/bh>

\* للحصول على أوراق عمل لجميع مواد الصف الأول اضغط هنا

<https://almanahj.com/bh/1>

\* للحصول على جميع أوراق الصف الأول في مادة علوم ولجميع الفصول, اضغط هنا

<https://almanahj.com/bh/1>

\* للحصول على أوراق عمل لجميع مواد الصف الأول في مادة علوم الخاصة بـ اضغط هنا <https://almanahj.com/bh/1>

\* لتحميل كتب جميع المواد في جميع الفصول للـ الصف الأول اضغط هنا

<https://almanahj.com/bh/grade1>

[almanahjbhbot/me.t//:https](https://t.me/almanahjbhbot)

للتحدث إلى بوت على تلغرام: اضغط هنا

## الوحدة الثانية : الحيوانات ومساكنها

### الفصل الثالث: الحيوانات من حولنا.

ملخص الدرس الثاني ( الحيوانات وحاجاتها )

#### احتياجات الحيوانات

#### المأوي- المكان



المأوي مكان تعيش فيه الحيوانات بأمان، تعيش بعض الحيوانات على اليابسة وبعضها في الماء.

#### الهواء



تحتاج الحيوانات إلى الهواء لتنفس

#### الماء



تحتاج الحيوانات إلى الغذاء والماء لتنمو و تعيش

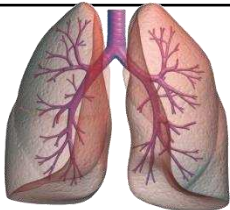
#### الغذاء



#### كيف تلبى الحيوانات حاجتها.

#### أجزاء تساعد على التنفس

الرئتان : تساعد الحيوانات الأخرى في تنفس الهواء



الخياشيم : تساعد الأسماك في التنفس تحت الماء



لها أجزاء تساعد في الحصول على ما تحتاج إليه من غذاء ولتستشعر الخطر مثل العيون والأنف و الأذن.

تساعد الأجنحة والأرجل والزعانف للفرار من الخطر.






تعد الدلافين من الثدييات التي تعيش في المحيط لها رثتين .

الخياشم تساعد الأسماك في التنفس تحت الماء

أجزاء التي تلبى حاجاتها

زعانف ، خياشيم



لها أرجل قوية ومخالب حادة تساعد في الحصول على الغذاء

لها أجنحة تساعد على الطيران وتستخدم مناقيرها .

أجزاء التي تلبى حاجاتها

سيقان ، مخالب ، رنتان

أجزاء التي تلبى حاجاتها

جناح ، منقار ، رنتان

تأكل الحيوانات الغذاء لتحصل على الطاقة اللازمة لكي تعيش.

آكلات اللحوم :

حيوانات تتغذى على اللحوم ( حيوانات أخرى ) .

لها أسنان حادة تعمل على تجزئة اللحم ونقشها إلى قطع صغيرة .

تساعد على التقاط غذائها بواسطة أسنانه .



آكلات النباتات :

حيوانات تتغذى على النباتات فقط .

لها أسنان مستوية لمضغ الطعام وطحنة .



## تحصل الحيوانات على غذائها



يري النمر الغذاء ( الفريسة )

يستخدم أنيابه ومخالبه لالتقاط  
الغذاء والامساك به .


يستخدم أسنانه الحادة ليأكل الغذاء

تري البقرة العشب

تقطع العشب بأسنانها المستوية

تستخدم أسنانها المستوية لمضغ  
العشب لخدمة .

هدى الله تعالى الحيوانات ليبدل بعضها على مكان وجود الطعام ، بتحريك  
أجسامها ، أو بإصدار أصوات ، أو بترك روائح .



الانسان يأكل نباتات ولحوم :





1

أضع علامة (✓) أمام الإجابة الصحيحة وعلامة (X) أمام الإجابة الخاطئة

الحيوانات مخلوقات حية ، تحتاج إلى الطعام والماء فقط .

بعض الحيوانات تعيش على اليابسة، وبعضها يعيش في الماء

الآجنحة والمنفاقير تساعد الطيور على الحصول على طعامها.


حيوانات آكلات الأعشاب هي الحيوانات التي تأكل النباتات.

حيوانات آكلات الأعشاب مثل الأسد ، ونمر .

آكلات الأعشاب لها أسنان مسطحة تساعد على مضغ الطعام وطحنه.


2

أرسم بعض العشب امام كل الحيوان من (آكلات الأعشاب).



ضع دائرة على الحيوانات آكلات اللحوم.

٣



أكمل الجملة التالية بكلمة المناسبة لها في ما يأتي:-

٤

الأزهار

طعامها

حادة

نمر

خياشيم

رئتين

الريش

النباتات

☀️ آكلات اللحوم لها أسنان ..... تساعد على تقطيع اللحم وتمزيقه .

☀️ ..... ، وسمك القرش من آكلات اللحم .

☀️ بعض آكلات اللحوم لها مخالب حادة تساعد على الحصول على .....

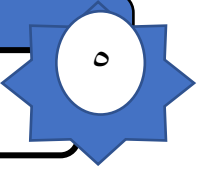
☀️ للسمكة ..... تساعد على التنفس .

☀️ النحلة تمتص رحيق .....

☀️ حيوان الباندي يأكل .....

☀️ الطاووس يغطي جسمه .....

☀️ تعد الدلافين من الثدييات التي تعيش في المحيط لها .....



ضع علامة على الإجابة الصحيح.


احتياجات الحيوانات هي



من أجزاء التي تساعد الحيوانات على التنفس.



الخياشيم تساعد ..... في التنفس تحت الماء




لها أرجل قوية ومخالب حادة تساعد في الحصول على الغذاء



ماذا تسمى نوع هذه الحيوانات . ( آكلات اللحوم أو آكلات الأعشاب )




.....



.....




.....




.....



.....



.....



.....

الحيوانات  
الآكلة  
للحوم




أكمل معلومات عن كل نوع من الحيوانات .

مخالب

رئتين

الثدييات


أجنحة



تعد الدلافين من ..... التي تعيش في المحيط لها .....



عند الطيور ..... تساعد على الطيران .



عند الاسد أرجل قوية و..... حادة تساعد في الحصول على الغذاء .

آكلات النباتات :

حيوانات تتغذى على ..... فقط .

آكلات اللحوم :

حيوانات تتغذى على ..... ( حيوانات أخرى ) .

٧

أذكر ٣ أسماء لحيوانات في المجموعة التي ينتمي إليها؟

أكلات لحوم

.....

.....

.....

أكلات أعشاب

.....

.....

.....

٨

صل الصورة معبرة الى الكلمة المناسبة لها.



أكلات لحوم

أكلات الحلويات

أكلات أعشاب

صل الصورة بالكلمة المناسبة لها.

٨

الخياشيم

المأوي- المكان

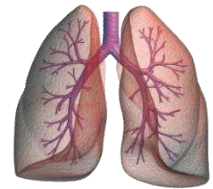
رئتين

مخالب حادة

أجنحة

الأنياب الحادة

أسنان مسطحة



مخالب الحادة

صل الصورة بالكلمة المناسبة لها.

٩



العش

الإسطبل

الخلية


حظيرة

شجرة

أكتب أسماء الحيوانات في ما يأتي: -

١

حيوانات  
متقاطعة



جمل

نمر

أسد

غزال

حمار

تمساح

فرد

ثور