

تم تحميل هذا الملف من موقع المناهج البحرينية



## مراجعة التربية للمواطنة


موقع المناهج ← المناهج البحرينية ← الصف الأول ← تربية للمواطنة ← الفصل الأول ← ملفات متنوعة ← الملف

تاريخ إضافة الملف على موقع المناهج: 2024-10-21 10:16:34

ملفات اكتب للمعلم اكتب للطالب | اختبارات الكترونية | اختبارات | حلول | عروض بوربوينت | أوراق عمل  
منهج انجليزي | ملخصات وتقارير | مذكرات وبنوك | الامتحان النهائي للمدرس

المزيد من مادة  
تربية للمواطنة:

## التواصل الاجتماعي بحسب الصف الأول



صفحة المناهج  
البحرينية على  
فيسبوك

الرياضيات

اللغة الانجليزية

اللغة العربية

التربية الاسلامية

المواد على تلغرام

## المزيد من الملفات بحسب الصف الأول والمادة تربية للمواطنة في الفصل الأول

شرح درس المؤسسات الاجتماعية وقيم المواطنة

1

شرح الدرس الخامس أحترم الآخرين

2

شرح الدرس الرابع أعيش مع الآخرين

3

شرح الدرس الثالث أعتد على ذاتي

4

شرح الدرس الثاني أحترم ذاتي

5

الكفاية: يتعرف ذاته وقدراته الشخصية وهويته الوطنية.

٦

السؤال الأول: ضع علامة (✓) يمين العبارة الصحيحة وعلامة (x) يمين العبارة الخاطئة:

درجة واحدة لكل إجابة  
صحيحة

- ١- ( ) أنا بحريني وأحمل الجواز البحريني.
- ٢- ( ) يقع دوار الساعة في منطقة الرفاع.
- ٣- ( ) علم مملكة البحرين يتكون من اللونين الأحمر والأبيض.
- ٤- ( ) يتكون علم مملكة البحرين من ٧ مثلثات.
- ٥- ( ) جواز مملكة البحرين هو باللون الأخضر.
- ٦- ( ) يجب علينا المحافظة على البطاقة الذكية وعدم إتلافها.

٦

الكفاية: يكتشف الأشياء التي تشكل المحيط البيئي الذي يعيش فيه.

درجة واحدة لكل إجابة  
صحيحة

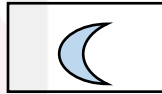
السؤال الثاني: حوط الإجابة الصحيحة من بين الإجابات التالية :

1) اسم البلد الذي نعيش فيه هو :

دولة قطر



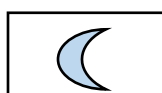


مملكة البحرين



دولة الكويت



2) الجواز البحريني هو :



(3) البطاقة الذكية هي :



(4) عندما أمرض أذهب إلى المستشفى وأستخدم :

البطاقة الشخصية



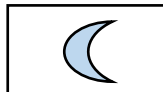
بطاقة البنك



(5) مسجد الخميس هو :



(6) باب البحرين هو :



الكفاية: يتعرف مفاهيم زمانية ومكانية وتوظيفها بصورة صحيحة .

٥

درجة واحدة لكل إجابة  
صحيحة

السؤال الثالث: أصل العبارات من العمود (أ) بما يناسبها من الصور في العمود (ب):

ب

أ



1 علم مملكة البحرين

2 حديقة الشيخ خليفة بن سلمان

3 بوابة مدينة عيسى

4 قلعة عراد

5 جسر الشيخ عيسى بن سلمان

الكفاية: يستخدم مخططًا مبسطًا للوصول إلى موقع معين .



السؤال الرابع : أحدد الجهات المناسبة للأماكن التالية :

(١) تمثل هذه الخريطة .....

△ (أ) دولة قطر      ○ (ب) مملكة البحرين      ☾ (ج) دولة الكويت

(٢) يقع مسجد الخميس ..... مملكة البحرين .

△ (أ) شرق      ○ (ب) غرب      ☾ (ج) شمال

(٣) تقع محمية العرين ..... مملكة البحرين .

△ (أ) شرق      ○ (ب) جنوب      ☾ (ج) شمال