

تم تحميل هذا الملف من موقع المناهج البحرينية



المراجعة العامة للجغرافيا

موقع المناهج ← المناهج البحرينية ← الصف الأول الثانوي ← المواد الاجتماعية ← الفصل الأول ← ملفات متنوعة ← الملف

تاريخ إضافة الملف على موقع المناهج: 21:00:49 2025-01-09

ملفات اكتب للمعلم اكتب للطالب الاختبارات الكترونية الاختبارات ا حلول ا عروض بوربوينت ا أوراق عمل
منهج انجليزي ا ملخصات وتقارير ا مذكرات وبنوك ا الامتحان النهائي للمدرس

المزيد من مادة
المواد
الاجتماعية:

التواصل الاجتماعي بحسب الصف الأول الثانوي



صفحة المناهج
البحرينية على
فيسبوك

الرياضيات

اللغة الانجليزية

اللغة العربية

التربية الاسلامية

المواد على تلغرام

المزيد من الملفات بحسب الصف الأول الثانوي والمادة الاجتماعية في الفصل الأول

مراجعة عامة أجا 102

1

مراجعة دروس الوقفة التقويمية

2

ملخصات أجا 102

3

ملخص مقرر أجا 102

4

نموذج إجابة أسئلة امتحان نهاية الفصل الأول مقرر أجا 102

5

ملزمة شاملة جميع الدروس (الجغرافيا الاقتصادية اجا 102)

ملاحظه هامه: الكتاب هو المصدر الاساسي للطالب لما يحتويه من معلومات وافيه بالمستندات والصور ويعتبر المرجع الاساسي والاول للطالب ولكن حرصا مني على تسهيل المقرر وضعت بين ايديكم هذه الملزمة لطالباتي العزيزات لتكون لهم خير معين

املين من الله العلي القدير ان يوفقنا واياكم لما يحب ويرضى
اعداد معلمة المادة: أ. أسماء الحايكي

تلخيص الدرس (1) الاقتصاد العام

لاقتصاد: مجمل النشاطات التي تسهم في انتاج معين يلبي الحاجات البشرية كالزراعة والصناعة والخدمات

*- **الحاجات:** شعور بالحرمان لدى الفرد يدفعه الى القيام بما يساعده في القضاء على هذا الشعور لإشباع حاجته

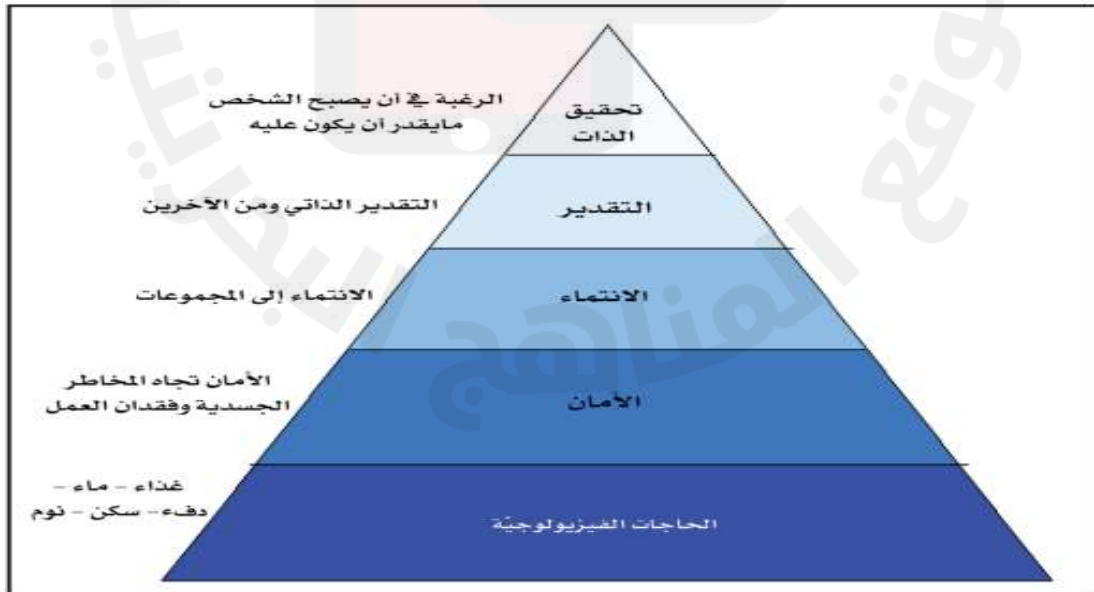
*- **المقايضة:** استبدال سلعه بسلعه دون استعمال النقود

*- **الدعاية:** نشاط اتصالي اعلامي يهدف الى التأثير في سلوكيات الاخرين

*- **البورصة:** هي سوق لبيع رؤوس الاموال وشرائها

*- **عقلي:** الحاجات اساس الاقتصاد؟ لان حياة المجتمعات تقوم على حاجات ضرورية متعدد وعن طريق تلبية هذه الحاجات فإنها تبني الاقتصاد وكلما تطورت المجتمعات واغتننت تنوعت حاجاتها فينشط بذلك اقتصاده

(٢) سلم الحاجات (هرم ماسلو)



* : صنف الاقتصاديون الحاجات اصنافا عديده ومنها تصنيف ماسلو وتنقسم الحاجات الى

ب- حاجات ثانويه غيرمشتركة		أ- حاجات اساسيه مشتركة	
غير مادي	مادي	معنويه	ماديه
الترفيه-السفر – والرحلات	خاضعه لتغير اذواق الافراد مثل : سلع استهلاكيه – ملابس - العطور	الامن – الحماية -الانتماء تحقيق الذات	غذاء -ماء- سكن دفع - نوم – كساء

*- عرفي آلية السوق (أثر العرض و الطلب على الأسواق).
تحرك السلع والاسعار عن طريق العرض والطلب (اذا زاد العرض وقل الطلب
انخفض سعر السلعة واذا زاد الطلب وقل العرض ارتفع سعر السلعة)

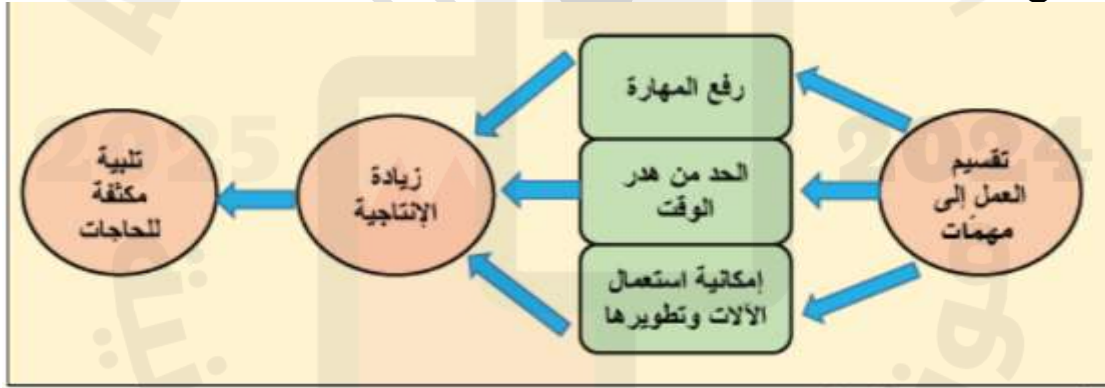
3- ما أهداف الدعاية المبرمجة؟

* تجذب الناس وتقنعهم

* تحفيز الناس على الشراء

تقسيم العمل الى مهام

رفع المهارة. / الحد من هدر الوقت / امكانية استعمال الآلات وتطويرها / زيادة
الإنتاج / تلبية الحاجات



*- عددي سلم الحاجات وفقا لا ولويتها في هرم ما سلو (مستند 2)ص9(مهم جدا)

الحاجات الفسيولوجيه - الامان - الانتماء - التقدير - تحقيق الذات

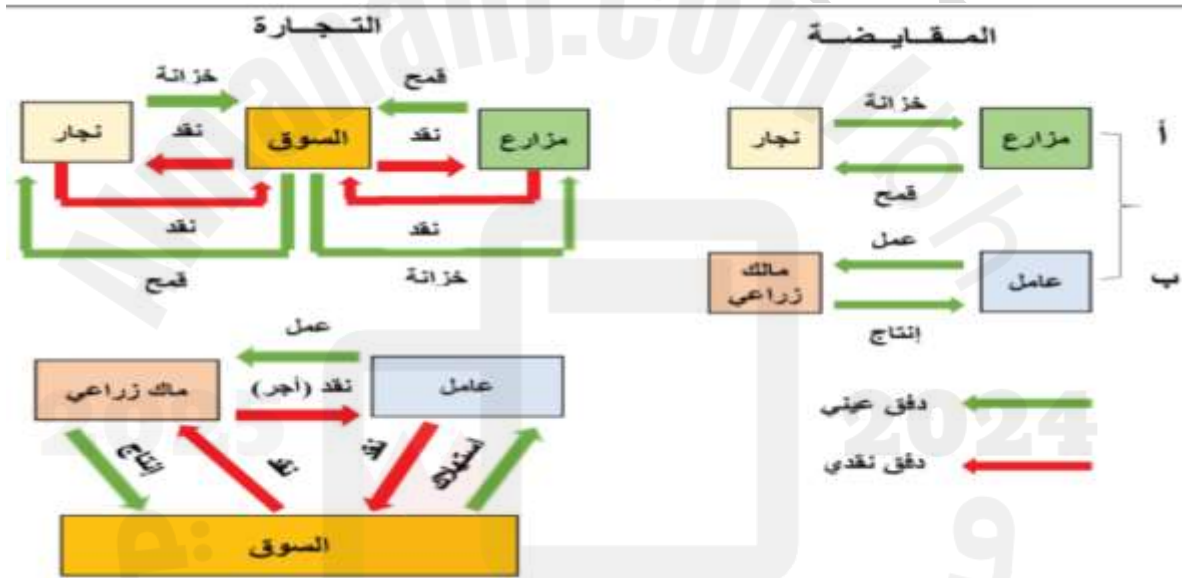
*- : علي : يتجه الانسان للتخصص الوظيفي حتى يلبي حاجاته ؟

1- تنوع الحاجات

2- عجز الانسان عن مهارة تليبيتها كامله بالجودة اللازمة والكلفه الاقل والوقت المناسب

* - قارتي بين المقايضة والتجارة (مستند 3) ص10(مهم جدا)

وجه المقارنه	المقايضه	التجاره
التعريف	عملية تبادل السلع والخدمات بين فريقين دون استخدام النقود	عملية التبادل بين الفريقين باستخدام النقود
مثال	*- يأخذ النجار القمح من المزارع ويعطيه بدل منه خزانه *- يعطي العامل عمله للمالك الزراعي ويعطيه انتاج	*- يبيع المزارع انتاجه في السوق بمبلغ معين ثم يشتري بالمبلغ ما يحتاجه وكذلك النجار *- يتقاضى العامل اجر بدل عمله ويشترى بواسطته ما يحتاج من السوق وصاحب المزرعة يبيع الانتاج في السوق



*- كيف يكون التخصص في الانتاج ؟

- 1- نوع المهنة : الزراعة / التجاره / الصيدله
- 2- مستوى العمل : التخطيط والتنفيذ

*- حدد الهدف من التخصص في الانتاج وتقسيم العمل ؟ (مهم)

- أ- رفع الكفاءة
- ب- الحد من هدر الوقت
- ج- امكانية استعمال الآلات وتطويرها
- د- زيادة الإنتاجية
- ه- تلبية الحاجات

* - عرفي الية السوق؟(مهم جدا)

الية السوق : (تحريك السلع والاسعار عن طريق العرض والطلب)

اذا كان الطلب على سلعه معينه اكبر من الكميات المعروضة للبيع فأن سعر هذه السلعة يرتفع واذا كانت السلع المعروضة اكبر من الكميات المطلوبة ينخفض سعرها

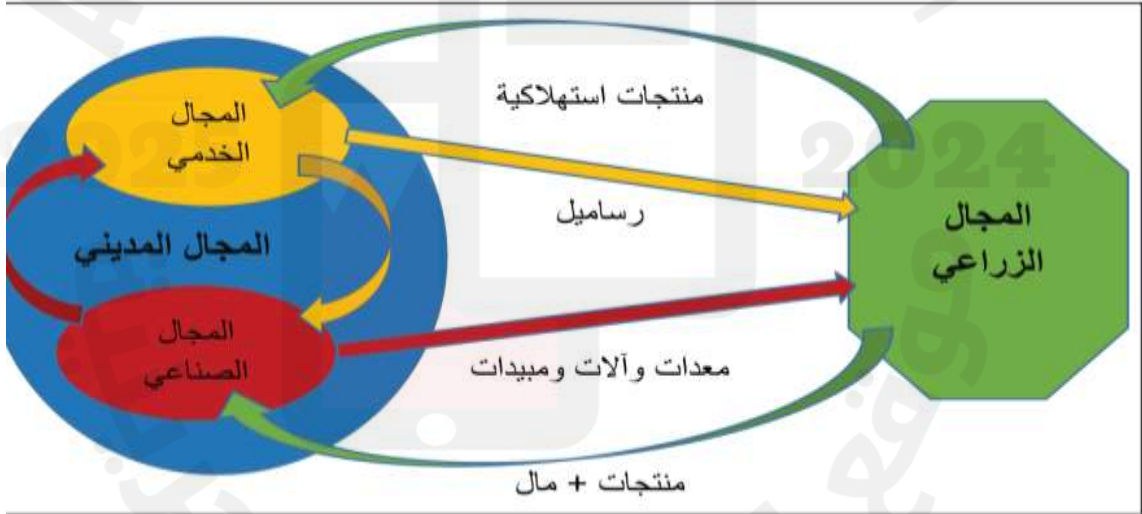
* - عددي اقسام القطاعات الاقتصادية الأساسية؟ (مهم جدا)

أ-الزراعة: تشمل الزراعة الانتاج الزراعي والحيواني والصيد استثمار المواد الغابية

ب-الصناعة: تشمل الصناعة الاستخراجية والتحويلية والحرفية وصنائه البناء

ج-الخدمات: فتشمل على التجارة والمواصلات والمال والإدارة والخدمات العامة والسياحة

متندد: ترابط المجال المدني والزراعي



من خلال المستند اجيبي عن الأسئلة التالية :

عرفي المجال الجغرافي.

حيز من الأرض نظمه الانسان من اجل انتاج سلعة او خدمة معينة

عددي المجالات الوارده في المستند

المجال الزراعي - المجال الصناعي - المجال الخدمي

- ماذا يقدم المجال الزراعي للصناعي

منتجات + مال

كيف تترابط المجالات الجغرافيه

المواصلات والنقل والاتصالات
عرفي المجال الجغرافي: هو الجيز من الارض نظمه الانسان من اجل انتاج سلعه او
خدمه معينه

.....
امثله على المجالات الجغرافية : (مستند7) ص12 ترابط المجال المديني والزراعي (مهم)

- المدينة : تؤدي وظائف ماليه وتجاريه وتربوية وصحيه واداريه وصناعيه ومنشآت وابنيه ويقسم الى مجال صناعي يضم منشآت الصناعة ومجال تجاري ومالي
- السهول والقرى والمراعي :مجال زراعي
- الغابات الاستوائية او الصحاري الجافه : تحتوي على موارد اساسيه للصناعات المختلفة

.....
* - : كيف تتربط المجالات الجغرافية على انواعها الزراعية والصناعية والتجارية؟(مهم جدا)

أ- طرق المواصلات والاتصالات

ب- تبادل السلع والخدمات والاموال والاشخاص
مثل المنتوجات الزراعية- المعدات الزراعية – الاموال والمبيدات

ملخص الدرس (3) الانماط الزراعيه في العالم

س1: عددي المجالات الزراعية التقليدية ؟

اولا : الزراعات التقليدية	
1- الزراعات الواسعة : وهي الزراعة التي تعتمد على توسيع المساحة لزيادة الانتاج وتنقسم الى قسمين :	
أ- الرعي الواسع	ب- الزراعة المتقلبة
ينتشر الرعي الواسع في المناطق شبه الجافه (الصحراء) يقطع الرعاة مساحات واسعه بسبب ندرة الغطاء النباتي حسب الفصول <u>على: تراجع البداوة حاليا ؟</u> بسبب توطين البدو في البلدان الآسيوية والأفريقية	ينتشر في مناطق السافانا والغابات <u>الاستوائية</u> ويتم حرق الاشجار الذي يعتبر بمثابة سماد وتم تزرع الارض وتنهك لمدة ثلاث سنوات ثم تترك وينتقلون الى ارض ثانيه بها غابات لذلك تستعمل هذه الزراعة مساحات واسعه ولكن مردودها ضعيف

2- الزراعات الكثيفة وتنقسم الى ثلاثة اقسام		
زراعة الأرز	زراعة الواحات	الزراعة المروية
<u>زراعة الأرز في آسيا الموسمية (مهم جدا)</u> 1- الحرارة العالية 2- المياه 3- الأيدي العاملة <u>على : يعتمد الأرز على كثافة اليد العاملة (مهم)</u> * للحراثة * والغرس * والتعويم * والتعشيب * والحصاد	زراعة الواحات: تجمع بين زراعة الأشجار المثمرة وزراعة الحبوب والخضر التي تستفيد من ظل النخيل الذي يخفف من النتح والتبخر تعريف <u>آخر (الواحات)</u> : جزر خضراء تتوسع كلما توافرت فيها المياه <u>على تراجع زراعة الواحات (مهم)</u> * انجذاب الشباب نحو الحياه المدنية * اندثار الواحات * تحول الواحات الى مناطق سياحيه <u>ماهى جهود الدوله ي (ليبيا) السعوديه) لتحديث زراعة الواحات</u> * تحسين طرق الري * تأمين الآلات * دعم اسعار المنتجات الزراعية	في المناطق الجافه مثل وادي النيل والفرات وسهل الهندوس <u>العوامل التي ساعدت على الزراعة :</u> <u>على : انتشار الزراعة المروية في المناطق الجافة كوادي النيل وسهل الفرات وسهل الهندوس (مهم جدا)</u> * خصوبة التربة * الكثافة السكانية <u>العوامل التي ساعدت على تحديث الزراعة</u> * شق قنوات * الضخ الآلي * توصيل الكهرباء وتتسم بالجمع بين الحاجات المحلية والسوق الدولية

ثانيا : الزراعات الحديثة

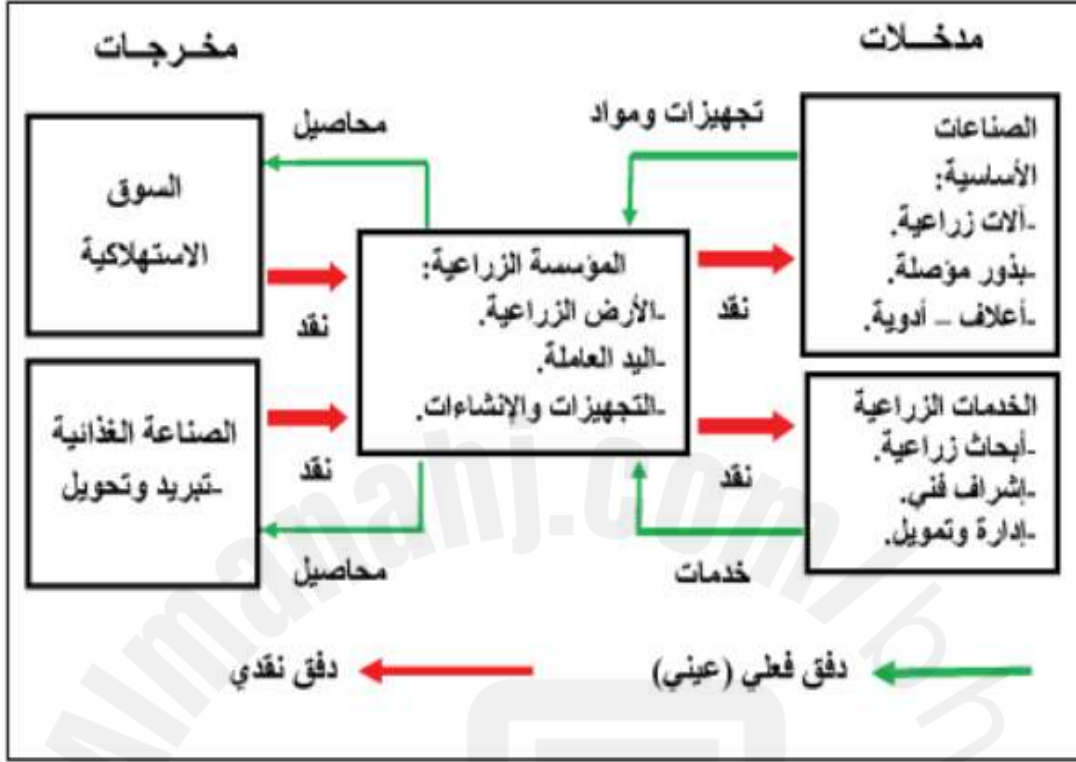
س2: خصائص الانماط الزراعية الحديثة ؟ (مهم جدا)

- لكي تلبي حاجات السوق
- تعتمد على الآلات والتقنيات في جميع مراحل العمل الزراعي
- تدار من قبل مؤسسات صناعية وخدمية كبيره .

نمط الزراعة + المميزات	الهدف منها	الموطن	الزراعات المتخصصة
<ul style="list-style-type: none"> * - نمط تربيته مكثف * - اسطبلات حديثة التجهيز * - مزارع حديثة مزوده بالأعلاف 	تربية الاغنام والابقار لإنتاج الحليب ومشتقاته	غرب واربا وشمالها ومنطقة البحيرات الكبرى في امريكا الشمالية	1- تربية الماشية المكثفة
<ul style="list-style-type: none"> * - التخلي عن الاسلوب الحر * - المراعي مسيجه تطبق الدورة الرعوية والحمولة الرعوية * - الاهتمام بالمراعي وطاققتها الغذائية * - تأصيل القطعان لتعطي مردودا عاليا من اللحوم والصوف من حيث الكمية والنوعية 	انتاج اللحوم والصوف	مناطق متفرقه من العالم	2- التربيته الماشيه الواسعه
<ul style="list-style-type: none"> * - الاستعمال الكثيف للآلات * - الانتاج الضخم والمردود المرتفع * - تصدير جزء كبير من الانتاج * - اتساع المساحات المزروعة 	تلبية لحاجات السوق	امريكا - استراليا - الصين - اوربا	1- زراعة القمح والحبوب

مستند 6 ص21 المنظومة الزراعية سلسله تجمع بين الصناعة والزراعة والخدمات (مهم)

مستند ٦: المنظومة الزراعية سلسله تجمع بين الصناعة والزراعة والخدمات



- حدد العناصر التي تتكون منها المؤسسة الزراعية

- اذكر الصناعات الأساسية التي تحتاجها المؤسسة الزراعية ؟

- بيني أنواع الخدمات الزراعية التي تحتاجها المؤسسة الزراعية ؟

- عدي الجهات التي تذهب اليها المخرجات المؤسسة الزراعية ؟

الدورة الرعوية: تقسيم الارض الى قسمين : قسم لرعي الماشية وقسم يترك لتجديد بنائه

الحمولة الرعوية : الطاقة الغذائية المتوفرة لاي مرعى معين ومن خلالها يمكن معرفة القطيع الذي يمكن تغذيته

الصوامع: هي ابنية عالية داخل الحقول مخصصه لحفظ الحبوب على انواعها .

عللي تسمية المزارع الامريكي برجل اعمال ؟ (مهم جدا)

- * - لانه يمارس الزراعة في فترة معينة من السنة
- * - ثم ينتقل للمدينة يراقب اسعار البورصة ليبيع الانتاج في الوقت المناسب
- * - ويتمتع بمهارات عديدة كالادارة وعلم التربة والهندسة والزراعة والقدرة على مراقبة اسواق الحبوب العالمية

2-الزراعات الحديثة المتنوعة	الموطن	الهدف منها	نمط الزراعة + الخصائص
1- الزراعة العلمية المتعددة الإنتاج	وسط واربا وغربها والمناطق المتوسطة	*- تجنب فائض الانتاج *- وهبوط الاسعار *- الحفاظ على خصوبة التربة *- تلبية لحاجات السوق	عللي: <u>تجمع الزراعة العلمية بين الزراعة وتربية الحيوان</u>
2- الزراعة الرأسمالية في العالم النامي	عللي: <u>تنتشر الزراعات الرأسمالية في المناطق الاستوائية والمدارية في الدول النامية</u> بسبب تعذر نموها في المناطق المعتدلة	عللي: <u>السبب الرئيسي لوقوع الزراعات الرأسمالية بالقرب من الموانئ؟ لان انتاجها مخصص للتصدير</u>	الخصائص (مهم جدا) *- تمويلها مؤسسات كبرى *- يشتغل فيها عمال محليون *- توسعها على حساب الزراعة المعيشية *- استعمالها المكثف بكثافة

عللي: تقع الزراعات الرأسمالية في العالم النامي على السواحل قريبا من المرفئ او خطوط المواصلات الكبرى ؟ لأنها مخصصه للتصدير

س3: فوائد الغابات : تغطي 30% من اليابسة

- 1- الاخشاب المستعملة في البناء وصناعة الاثاث
- 2- الورق هي مصدر الصماغ والعاج النباتي

انواع الاخشاب	اماكن الحصول عليها
الاشخاب اللينه (المخروطية)	تنتشر في العروض العليا كشمال روسيا وكندا
الاشخاب الصلبه	المناطق المدارية وشبه المدارية

: الصعوبات التي تعترض استثمار موارد الغابات ؟ (مهم جدا)

- * - طول فصل الجليد في العروض العليا
- * - كثافة النباتات في المناطق المدارية
- * - كثرة المستنقعات
- * - بعد الغابات عن مرفئ التصدير

تلخيص الدرس (5) التوطين الصناعي

س1: عللي : تسعى المؤسسات الصناعية الى اختيار افضل المواقع لتوطين مصانعها ؟

1- الحد من تكاليف النقل والانتاج 2- الاستفادة من الخدمات العامة

س2: اذكر عوامل التوطين الصناعي؟ (مهم جدا)

*- العوامل الطبيعية * - طرق المواصلات ووسائل النقل

*- المناطق الصناعية الشاطئية * - المناطق المدنية * - دور الدولة

س3: عللي : نشأت اولى المناطق الصناعية في الاحواض الغنيه بالفحم الحجري والحديد :

* - بسبب ارتفاع تكاليف نقلها وثقل هذه المواد

الامثلة : حوض الرو في المانيا

خلال الثوره الصناعيه الثانيه : اخذت صناعة التعدين تبحث عن مصادر الطاقه الكهرومائيه

الرخيصه لتستقر الى جانبها

س4: مادور المواصلات في التوطين الصناعي ؟

مثال : توطين الصناعات الالكترونييه والخفيفه والمعلوماتيه بالقرب من المطارات مثال اليابان

توطين الصناعات التي تستخدم المواد الاوليه بالقرب من الانهار

س5: عللي اجتذاب الشواطى للمؤسسات الصناعيه؟ (مهم جدا)

*-توافر المياه * - سهوله استيراد والتصدير

س6: عللي المناطق المدينية تجذب الصناعات ؟ (مهم جدا)

*- اليد العامله المختصه * - منطقه استهلاكيه * - مركز للرساميل

* مركز القرار الاقتصادي * - عقده مواصلات واتصالات

س8: وضح دور الدوله في تنظيم المجال الصناعي؟ (مهم جدا)

1- تضع سياسه صناعيه واتخاذ التدابير القانونيه والماليه لتنفيذها

2- تمنح قروض بفوائد ميسره للمؤسسات

- 3- اغاء المؤسسات من الضرائب والرسوم
- 4- تعيد تنشيط المناطق الصناعية والحرفية لتحديثها
- 5- تسهل في تأهيل الايدي العاملة
- 6- تحدد مناطق حره مخصصه للصناعات المعدة للتصدير

كيف يؤثر المناخ والمحيط العلمي والثقافي على التوطن الصناعي ؟
س- تتوطن الصناعات ذات التقنيات العاليه والتكنولوجيا في المناطق الجميله
والخلابه في العالم المتقدم مثل السيلكون فالي بسان فرانسكو ؟ (مهم جدا)
ج- لانها توفر للصناعات وكودرها / تجهيزات الاستقبال كالفنادق والنقل والاتصالات

تسعى الصناعات المتطورة للتوطن حول المدن الكبرى والعواصم (مهم جدا)
انها تحتضن مؤسسات التعليم العالي كالمختبرات / ومراكز البحث العلمي والتعليم
العالي / ومراكز القرار

س9: وضحى تفاوت المجالات الصناعيه في البلدان المتقدمه ؟

او ما هي التحولات التي شهدتها البلدان المتقدمه في الثورتين الصناعيتين الاولى والثانيه

الصناعات القديمة في البلدان المتقدمه	الصناعات الحديثه في البلدان المتقدمه
*تعود الى الثورتين الصناعيتين الاولى والثانية *تقوم في وسط المدينة *تتراجع بسبب القدم في تقنيتهما وازدحام المدن وتلوثها *تنزح نحو الضواحي البعيده *تحويل الاراضي الصناعيه الخالية الى حدائق ومنتزهات ومتاحف للصناعة	*تقع على خطوط المواصلات *او حول المرفئ *تعتبر مناطق استقطاب تقني تكنولوجي * تتركز فيها والمختبرات ومراكز البحوث والجامعات مصانع ذات تكنولوجيا عاليه مثل منطقة السلكون فالي بسان فرانسكو

س12: بط عملية التصنيع في الدول النامية؟ (مهم جدا)

- 1- النقص في الرساميل
- 2- عدم تأهيل اليد العاملة
- 2- الضعف الفني والتقني
- 4- ضعف القدرة الشرائية لدى السكان

س13: السياسات التي افرزتها البلدان الناميه في مجال التصنيع ؟ (مهم 0)

- 1- ظهور الثنائيه في المجال الصناعي وتمثل في :
أ- تدعم المناطق الساحليه بالتجهيزات وكافة الصناعات الحديثه المشغله للايدي
العامله
ب- واهمال المناطق الداخليه التي اقتصرت على الانشطه التقليديه

الموضوع الخامس : المجال العالمي

1- تركيبة المجال العالي

2- اولاً : دول الشمال (البلدان المتقدمة

ج- بقية البلدان المتقدمة	ب- بلدان في طور الانتقال الاقتصادي	أ- الثالوث (الولايات المتحدة الامريكه ، الاتحاد الاوربي ، اليابان)
بعض البلدان الاوربيه غير الاعضاء مثل سويسرا ، فنلندا، كندا ، استراليا ، نيوزلندا	تضم اوربا الشرقيه والوسطى غير الاعضاء في الاتحاد الاوربي (روسيا جمهوريات اسيا الوسطى ، اكرانيا بيلاروسيا) - تمر بمرحلة انتقال الاقتصاد الاشتراكي الى اقتصاد السوق - تبرز روسيا كقوه عالميه الى منافسة امريكا على زعامة العالم	أ- الثالوث : الاقطاب المتحكمه في المجال العالمي ويتجسد نفوذه في س1: وضحي مظاهر سيطرة الثالوث على المجال العالمي ؟ (مهم جداً) 1- استثنائه باكبر عدد من الشركات عبر القطريه 2- استثنائه بالنسبه الاكبر لبراءات الاختراع 3- احتكاره لاكثر من نصف الرصيد العالمي 4- نفوذ عملاته 5- نفوذه الجغراسياسي (ثقافه ، اقتصاد، لغه) 6- عضويته الدائمه لمجلس الامن 7- الوزن الاكبر في المنظمه العالميه للتجاره

ثانياً : دول الجنوب (البلدان الناميه)


د- البلدان الاقل تقدماً	ج- البلدان ذات مؤشر تنميه متوسط	ب- البلدان النفطيه	أ- البلدان الصناعيه الجديده
50 بلد 34 من افريقيا المميزات 1- حصيله تنميه ضعيفه 2- هشاشة الاقتصاد 3- ارتفاع نسبة تداينها 4- تحقق اقل من 1% من الناتج المحلي 5- ضعف مساهمتها في التجاره 6- رداءة البنى التحتيه	مصر ، الصين ، الاردن ، الصين ، الهند ، المميزات : 1- تحقق مستوى تنميه بشريه متوسط 2- تحسن كبير في الناتج المحلي	المميزات : 1- عائدات نفطيه كبيره 2- مؤشر تنميه مرتفع 3- ارتفاع دخل مواطنيها 4- الاعتماد على النفط في الاقتصاد	النمو الاسيويه (كوريا الجنوبيه ، هونغ كونغ ، سنغافورا ، تايوان ، البرازيل والمكسيك) المميزات - قاعده صناعيه متنوعه - تطور عالي الانتاج - تحقيقها نمو اقتصاديا مرتفعاً متواصلاً

س: وضح مظاهر ترابط مكونات المجال الجغرافي (مهم جدا)

1- السوق المنظم	2- الشركات متعددة الجنسيات	3- شبكات ومواصلات عالمية
<p><u>ما عوامل ترابط السوق</u></p> <ul style="list-style-type: none">- تحدد اسعار المواد الاساسيه (كالمح والقطن والنفط والمعادن)- بورصات عاميه ومركزها المدن والعواصم الكبرى مثل لندن وباريس- سيطرة الدول المصنعه ومستورده للمواد الاوليه (دول الثالث)- اجهزة الاعلام تساعد على ادارة الاسواق وتنظيمها	<p><u>ما اهداف الشركات متعددة الجنسيات</u></p> <ol style="list-style-type: none">1- تنشأ فروعاً عده في العالم سعياً وراء الربح2- تنقل المواد الاوليه والسلع الوسيطة3- تحول الرساميل من بلد لبلد4- تراكم رساميل ضخمة مما يكسبها قوه اقتصاديه مثل الشركات الاوربيه والامريكيه واليابانيه	<p><u>مادور المواصلات والاتصالات في ربط المجال العالمي</u></p> <ol style="list-style-type: none">1- شبكة المواصلات ضاعفت الحمولة والسرعه وخفضت التكاليف في السفن والطائرات والنقل وشبكة الاتصالات3- تطور الاتصالات السلكيه واللاسلكيه البث التلفزيوني بواسطة الاقمار الاصطناعيه والانترنت

2025

2024



الولايات المتحدة الامريكه (الخدمات والمبادلات التجاربه)

1- وضح ابرز مظاهر قوة الخدمات في الولايات المتحدة الامريكه؟ (مهم جدا)

- أ- مساهمته الكبيره في تشغيل الايدي العامله ب- ارتفاع اسهامه في الناتج المحلي
ج- ارتفاع الصادرات من الخدمات الامريكه

2- بين اسباب قوة الخدمات في الولايات المتحدة الامريكه (مهم جدا)

- أ- ارتفاع مستوى دخل الفرد ب- ارتفاع نسبة التحضر ج- ظهور مؤسسات خدميه
د- الثوره التكنولوجيه

3. علي : فقدت الولايات المتحدة سيطرتها في السوق العالميه في بعض الصادرات (مهم)

بسبب المنافسه الحاده من قبل اليابان والاتحاد الاوربي* - وبعض الدول الصاعده مثل كوريا
والبرازيل

4. علي : ضخامة الواردات الامريكه ؟ (مهم)

- أ- القدره الاستهلاكيه للسكان ب- عجز الانتاج الداخلي عن تغطية المتطلبات

5- عدد اهم الشركاء التجاريون للولايات المتحدة

المرتبه الاولى : كندا والمكسيك المرتبه الثانيه :الاتحاد الاوربي المرتبه الثالثه : امريكا
الوسطى المرتبه الرابعه اليابان المرتبه الخامسه : الصين المرتبه السادسه : الشرق
الاوسط المرتبه الاخيرة بلدان افريقيا

صنفي الواردات والصادرات الامريكية حسب مكانها الصحيح

- 1- (المنتجات الصناعية / تكنولوجيا / مصادر الطاقة / الاسلحة والسيارات / القمح والذرة /
المنتجات الزراعية / اجهزة المعلومات / الطائرات / مصادر الطاقة)
- 2- الخدمات الموجهه الى افراد والى مؤسسات (الخدمات المنزلية / والصحية والادارية /
الهندسة / الاستشارة / التأهيل الفني / الاعلام / الثقافة / البحث في الاقاليم المحركة للاقتصاد

الواردات	الصادرات
المنتجات الصناعية / مصادر الطاقة / المنتجات الزراعية	تكنولوجيا / الاسلحة والسيارات / القمح والذرة / اجهزة المعلومات / الطائرات
الخدمات الموجه الى مؤسسات	الخدمات الموجهه الى افراد
الهندسة / الاستشارة / التأهيل الفني/ البحث في الأقاليم المحركة للاقتصاد	الخدمات المنزلية / والصحية /الإدارية / الاعلام / الثقافة



الدرس الثاني عشر (الولايات المتحدة الامريكه) 2 الصناعة والزراعة

1. وضح مظاهر القوة الصناعي للولايات المتحدة الامريكه (مهم)

أ- ضخامة الانتاج ب- تنوع الانتاج ج- المجال الصناعي

أ- ضخامة الانتاج

علي : تعد الولايات اول قوه صناعيه في العالم؟ (مهم)

- أ- توفر 24% من قيمة الانتاج الصناعي التحويلي
ب- تحتل المراتب الاولى في انتاج السلع الصناعي مثل الفولاذ المرتبه احتل المرتبه الثالثه
ت- السيارات المطاط الاصطناعي المرتبه الاولى
ث- يساهم الانتاج الصناعي الامريكي بنسبة 22% من الناتج المحلي

2. حددي من خلال الجدول الآتي أماكن تركيز الصناعات والمشاكل واجهت الصناعة وكذلك اهم الشركات

صناعات الجيل الأول		ب- تنوع الانتاج	
الصناعات الغذائية	صناعة النسيج	صناعة الفولاذ	
- كامل المجال الامريكي - خاصه منطقة السهول الوسطى	- الشمال الشرقي - نحو الجنوب (علي) انتقال اغلب مصانع النسيج الى الماكيلادراس - بسبب رخص اليد العامله - الاستفاده من الاعفاءات الضرائبيه	الإقليم الشمالي الشرقي علي : تشهد صناعة الفولاذ ازمه وتراجعا	أماكن تركيز الصناعات
لا توجد مشاكل	- منافسة المكسيك والبلدان الصناعي الجديده والصين	- منافسة البلدان الاجنبيه وخاصه اليابان والددول الصناعي	المشاكل التي تواجه الصناعة
كوكاكولا	اسم المنطقة الحرة الماكيلادراس	لا يوجد شركات	أهم الشركات

صناعات الجيل الثاني		
صناعة السيارات	الصناعات الكيماوية	
ديترويت	لا توجد أماكن تركز محددة	أماكن تركز الصناعات
لا يوجد	تكرير النفط ، صناعة الادوية ، الاسمدة الكيماوية ، المبيدات ، المطاط الصناعي	أنواع الصناعات
جنيرال ، موتور ، فورد، وكريسلا	دي بون دي نامور	أهم الشركات

صناعات الجيل الثالث		
صناعة المعلوماتية	الصناعات الجو فضائية	
سلكون فالي ، كاليفورنيا ، سياتل	سياتل ، لوس انجلوس ، سانت لوريس	تركز الصناعات
لا يوجد	طائرات مدنيه ، قذائف صاروخيه ، معدات غزو فضاء ، الاقمار الاصطناعيه	أنواع الصناعات
مؤسسة ميكروسوفت	بوينغ - ولوكد	أهم الشركات

ج- المجال الصناعي في الولايات المتحدة

شهد المجال الصناعي الامريكي عدة تحولات ادت الى تراجع وزن اقليم الشمال و بروز اقاليم جديدة

اقليم الشمال الشرقي (الحزام الصناعي)	اقليم الاطراف الجنوبيه (حزام الشمس)
هو اول اقليم صناعي تاريخي في الولايات المتحدة تتركز به صناعة الفولاذ والنسيج والسيارات في السبعينات من القرن 20 شهد أزمة اقتصادية بسبب المنافسة الأجنبية ولكن أرباب الصناعة تمكنت من تجاوز هذه الأزمة ولكن بالرغم من هذه التحولات فقد الشمال الشرقي من وزنه الصناعي 55% إلى 42% في بداية هذا القرن	علي : بروز اقليم حزام الشمس ؟ (مهم) سؤال اخر : وضح العوامل المحفزة لتطوير الصناعة في حزام الشمس (مهم جداً) 1- أزمة الشمال الشرقي 2- توافر اليد العاملة الرخيصة للمهاجرين المكسيكين 3- وفرة مصادر الطاقة بتكساس 4- ظروف الحرب الباردة 5- انفتاح كاليفورنيا على المحيط الهادي

وضحي مظاهر القوة الزراعيه الامريكيه؟ (مهم)

ج- مجال زراعي متحول	ب- تنوع الانتاج	أ- ضخامة الإنتاج
<p>احزمة الزراعة</p> <p>- حزام الالبان في الشمال - وحزام القمح والذره والصويا بالسهول الكبرى - وحزام القطن بالجنوب - جزر هاواي المحاصيل المداريه</p> <p>عللي : شهد التنظيم التقليدي تحولات جوهريه (مهم)</p> <p>1- الاضرار البيئيه 2- الازمات الاقصاديه 3- التوسع في الري 4- البحث العلمي</p> <p>وضحي مظاهر تحول المجال الزراعي (مهم)</p> <p>1- تحول زراعة القطن في الجنوب الى تربية الدواجن و انتاج الحوم البيضاء (حزام الدواجن) 2- نمو الزراعات المتخصصه 3- توسع زراعة القطن في الغرب 4- توسع الزراعات المرويه</p>	<p>الانتاج نباتي يجمع بين منتجات طبيعيه واخرى معالجه جينيا خضر ، حبوب ،فاكهه ، الانتاج النباتي الصناعي مساحات للمزروعات المعالجه جينيا مثل الصويا والذره والقطن</p> <p>- انتاج حيواني متنوع يشمل اللحوم البضاء والحمران وتربية الماشية</p> <p>- انتاج زراعي منشط للصناعة والخدمات يخضع قسم كبير من الانتاج الزراعي الى تحول صناعي تتولاه مؤسسات غذائيه كبرى مثل التعليب والتجفيف والتجميد لذلك اعطى دفع قوي لقطاع الخدمات للتخزين والنقل والدعايه والتجاره</p>	<p>عللي : تتجلى الزراعة الامريكيه بضخامة الانتاج * - يتسم الاستغلال الامريكى بارتفاع انتاجه لذلك تضاعف انتاج الحبوب والصويا والذره واللحوم * - وامتلاك البلاد السلاح الاخضر</p>



س: وضح دعائم القوى الزراعيه والصناعيه للولايات المتحده

الدعائم التنظيميه والبشريه	1- مجال طبيعي شاسع ومتنوع و ثري
<p>أ- مجتمع فيه كل مواصفات الداعمه للاقتصاد ؟ (مهم) س: وضح مواصفات المجتمع الامريكي الداعمه للاقتصاد؟ (مهم جدا)</p> <ul style="list-style-type: none"> - الوزن البشري الهام - هجره انتقائيه (اصحاب الكفاءات) - تنوع اصوله - مبادئ الحريه والمساواه والديمقراطيه - وفرة الكفاءات والمبدعين - ارتفاع مستوى الدخل - تنظيم محكم للمجال الجغرافي <p>ب- دعائم تنظيميه متطوره افادت الاقتصاد س: اذكر الدعائم التنظيميه التي تفسر القوى الاقتصاديه؟(مهم)</p> <ul style="list-style-type: none"> - وجود شبكه مدينية كثيفه - شبكة نقل واتصال متنوعه ومتطوره - الشركات عبر القطريه - الجامعات الامريكيه ومراكز الابحاث - الدوله الفدراليه التي تدعم البحث 	<p>أ- تضاريس شاسعه ومفيده عللي : المجال الطبيعي الامريكي دعامه من دعائم القوى الامريكيه ؟ (مهم جدا)</p> <ol style="list-style-type: none"> 1- تضاريس شاسعه ومفيده 2- مناخات متنوعه 3- ثروات منجميه وطاقيه متنوعه وهامه ولكنها غير كافيه <p>.....</p> <p>ب- مناخات متنوعه ومفيده س: توجد في الولايات مناخات متنوعه اغليها رطبه ؟</p> <ul style="list-style-type: none"> - تغذي الخزانات الجوفيه والسطحيه - تغذي شبكة الانهار الكبرى - افرزت ثروه غايبه مكنت من انتاج الخشب بأنواعه المختلفه <p>ج - ثروات منجميه وطاقيه هامه ولكنها غير كافيه</p> <ul style="list-style-type: none"> - يحتضن المجال الامريكي ثروه معدنيه خاصه جبال الروكي في الغرب حيث تحتل الولايات المتحده المرتبه العالميه الثانيه في انتاج النحاس والذهب والفحم الحجري والمرتبته الثالثه في انتاج الرصاص والنفط الخام والمرتبته الاولى في انتاج الكهرباء النووي على الرغم من ذلك فهي غير كافيه حيث تمثل الواردات النفطيه 27% من الواردات العالميه

الدرس الثالث عشر : الاتحاد الاوربي (مراحل البناء)

ادركت دول اوربا الغربيه بأهمية بناء كيان اقتصادي يتجاوز حدود كل دولة يعمل على توسيع الاسواق وتسريع النمو ورفع مستوى المعيشه فبدأت السوق الاوربيه تظهر على الوجود ثم اتحاد اقتصادي فنقدي وسياسي (سوق موحد) ثم اتحاد اوربي.

اولا: السوق الاوربيه المشتركه

مهدت المجموعه الاوربيه للفحم والفولاذ التي تضم كل من المانيا ، فرنسا، بلجيكا ، هولندا، ايطاليا ، لكسمبرج لتوحيد اوربا 1951م
الا ان معاهدة روما التأسيسيه الموقعه عام 1957 م هي التي شكلت السوق الاوربيه المشتركه

1- اهداف السوق الاوربيه المشتركه (مهم)

- أ- توحيد السوق بازالة الحواجز الجمركيه
ب- حرية انتقال الاشخاص والرساميل
ج- توحيد السياسه الزراعيه والنقل
د- تنسيق السياسه الاقصاديه والاجتماعيه
هـ - توحيد السياسه الخارجيه للسلع المستورده
و- انضمام دول ماوراء البحار
ن- انشاء السوق بطريقه مرحليه
ي- اقامة هيئات عده لتنظيم السوق

2- المؤسسات الماليه والاجتماعيه

انشأت هذه المؤسسات خصيصا لتمويل السياسات الاوربيه

المؤسسه	وظيفتها
المصرف الاوربي للاستثمار	يسهم في ارساء تنميه متوازنه
الصندوق الاجتماعي الاوربي	يقدم تسهيلات في مجال الايدي العامله
المجلس الاقتصادي والاجتماعي	يشجع على الحوار بين فرقاء العمل
الصندوق الاوربي للتوجيه والضمان الزراعي	يمول السياسه والزراعه المشتركه

ثانيا : سوق موحد

وهي بين الدول الاوربيه وبين الدول التي استعمرتها بعمل اتفاقيات تبادل او شراكه تجاريه بمنحها تسهيلات ثابتة لصادراتها ثم انضمت الى السوق دول اخرى 1986م فأصبحوا 12 دولة وقعوا على المرسوم الاوربي الوحيد الذي حول السوق فيما بعد الى سوق مشتركه موحد

ثالثا : الاتحاد الاقتصادي والنقدي (الاتحاد الاوربي)

ترتب على هذا الاتحاد ما يلي

اتفاقية ماستريخت : تم التوقيع على الاتفاقية في فبراير 1992م وتضمنت جانبان اقتصادي وسياسي (مهم جداً)

الجانب الاقتصادي	الجانب السياسي
1- التقريب بين اقتصاديات الدول 2- تطبيق سياسته نقديه موحد 3- اتخاذ عملة الايكو عمله موحد	1- اتباع سياسته خارجيه مشتركه 2- سياسة دفاع موحد 3- توسيع صلاحيات البرلمان 4- تغيير مسمى السوق الاوربيه الى الاتحاد اوربي

التحول من الايكو الى اليورو

لم يتمكن الايكو من الصمود امام العملات الاخرى وخاصة الدولار

لذلك قرر الاتحاد الاوربي اصدار عمله موحد تحت مسمى اليورو في يناير 1999 (الجدول مهم)

وجه المقارنه	معاهدة باريس	معاهدة روما	اتفاقي المرسوم الاوربي الوحيد	اتفاقية ماستريخت
السنة	1951	1957	1986	1992
النتيجة المترتبة عليها	انشاء المجموعه الاوربيه للفحم والفولاذ التي تضم المانيا ، فرنسا، هولندا، ايطاليا، بلجيكا، لكسمبرج	اتفاقية الست دول نتج عنها انشاء السوق الاوربيه المشتركه وهذه المعاهدة تركت الباب مفتوحا امام بقية الدول الاوربية للانضمام الى الاتحاد الاوربي	ارتفع عدد الاعضاء الى 12 دولة حيث وقعوا على المرسوم الاوربي الوحيد وتحول السوق من مشتركه الى موحد	تتضمن الاتفاقية جانبان احدهما اقتصادي تضمن عنه عمله مشتركه والاخر سياسي (تعير المسمى من سوق اوربيه مشتركه الى اتحاد اوربي)

الاتحاد الاوربي (2) القوة الإنتاجية

2- القوة الصناعية	1- القوة الخدمية
<p>1- صناعات عالية التكنولوجيا شهدت تطورا ومنافسه مع الولايات واليابان تمثل خمس القيمة المضافه وخمس الصادرات وبرزها صناعة الادويه والاجهزه الطبيه الكهربائيه والجوفضائيه</p> <p>2- صناعات الجيل الثاني : ظلت هذه الصناعات محافظه على نفسها رغم المنافسه الخارجيه اذ بلغت القيمة الاجماليه للمبيعات الصناعات الكيماويه الثلث على مستوى العالم يحتل المرتبه الاولى في انتاج السيارات اذ يوفر ثلث الانتاج العالم-3 الصناعات القديمه صمدت هذه الصناعات في تجاوز الصعوبات التي واجهتها ويرجع ذلك الى اعاده التوطين والتحويل الصناعي من جهة ومن التطور التكنولوجي وعمليات الشراء والادماج بين الشركات الأوربية من جهة اخرى حيث اصبح الاتحاد الاوربي ثاني منتج للفولاذ في العالم ب- وزن هام في المبادلات التجارية</p> <p>علي : بروز القوة الصناعية الأوربية في الصادرات العالمية (مهم)</p> <ul style="list-style-type: none"> - تمثل ثلاثة ارباع القيمة الإجمالية للصادرات - تشكل طرف رئيسا في المبادلات العالمية - يمثل ميزان تجاري فائض <p>علي : للقطاع الخدمي أهمية كبيرة في الاقتصاد الأوربي ؟</p> <ul style="list-style-type: none"> - مساهمته الكبيرة في تشغيل الايدي العاملة - مساهمته الكبيرة في الناتج المحلي - حصته العالية في المبادلاتالعالمية 	<p>س: وضح مظاهر القوة الخدمية ؟</p> <p>سؤال اخر : علي : للقطاع الخدمي أهمية كبيرة في الاقتصاد الأوربي ؟</p> <p>أ- نسبه عاليه في التشغيل</p> <ul style="list-style-type: none"> - بلغت حصة التشغيل حوالي ثلثي من عدد النشطين - شهد هذا القطاع نمو متواصلا في <u>الثولته</u>(الخدمات) وتراجع معدلات التشغيل الفلاحي والصناعي - يتوزع النشيطون في الانشطه <u>الاداريه والتجاريه</u> حيث تجاوزت النصف لانها تكفي بمؤهلات بسيطه بعكس الخدمات الغير تجاريه كالتعليم والصحه <p>2- مساهمته العاليه في الناتج المحلي</p> <ul style="list-style-type: none"> - اسهم القطاع الخدمي في العقدين الاخيرين باكثر من ثلثي الناتج المحلي حيث تراجع قطاعي الفلاحي والصناعيحيث يتجه الاقتصاد للثولته <p>3- خدمات متنوعه</p> <p>علي: تنوع الخدمات في الاتحاد الاوربي؟</p> <p>سؤال اخر : تتميز الأنشطة الخدمية بالتنوع والنمو المتواصل في الاتحاد الأوربي ؟</p> <ul style="list-style-type: none"> - الحاجات المتزايدة للافراد - زيادة الاستهلاك نتيجة ارتفاع دخل الفرد - تحويل المؤسسات الصناعي الى خدميه - عولمة الاقتصاد - الترابط بين القطاعات الاقتصادية
<p>4- القوة الماليه والتجاريه</p>	<p>3- القوة الزراعيه</p>
<p>علي : يمثل الاتحاد الاوربي قوه ماليه عالميه (مهم)</p> <ul style="list-style-type: none"> - جهاز مصرفي قوي تمثله بنوك وبورصات عالميه (لندن ،باريس ، نيويورك ، فرانكفورت - عمله موحد من اليورو <p>: وضح مظاهر القوة الماليه والتجاريه ؟ (مهم)</p> <ul style="list-style-type: none"> - الهيمنه على ادفاق الاستثمار - حصه عاليه من عائدات السياحه - المانح الاول للمساعدات <p>س: يمثل الاتحاد الاوربي قوه تجاريه عاليه ؟</p> <ul style="list-style-type: none"> - ارتفاع حصته من المبادلات العالميه - اهمية المنتجات الصناعيه في المبادلات العالميه 	<p>س: وضح مظاهر القوة الزراعيه؟</p> <p>أ- انتاج زراعي ضخم</p> <ul style="list-style-type: none"> - يتكون من انتاج نباتي وحيواني حيث اصبح الاتحاد الاوربي من كبار منتجي الحبوب والخضر والشمندر - الانتاج الحيواني يتمثل في انتاج اللحوم والحليب ومشتقاته <p>ب- الاكتفاء الذاتي الغذائي</p> <p>س: شهدت القوة الإنتاجية الزراعيه ارتفاع في مردودها الزراعي عام 1962</p> <ul style="list-style-type: none"> - بفضل انطلاق السياسه الاربيه - تبوأ أوربا مراتب متقدمه في مردوديه الحبوب والشمندر - حقق الاتحاد الاوربي اكتفاء ذاتي بنسبه 100% <p>ج- مكانه عاليه</p> <p>س: يعد الاتحاد الاوربي قوه زراعيه عالميه ؟ (مهم جدا)</p> <ul style="list-style-type: none"> - ضخامة الانتاج الزراعي يسيطر على عشر قيمة الصادرات العالميه - المصدر الثاني في العالم للمنتجات الزراعيه - ينفرد بحصه عاليه من الصادرات

ثانياً: دعائم القوة وضحى دعائم القوة في الاتحاد الاوربي ؟

<p>2- هياكل اقتصاديه عريقه ومتجدده</p>	<p>1- ثروة بشريه مساعده على اكتساب القوه</p>
<p>أ- توظيف موارد استثمار داخليه وخارجيه -ماهي موارد الالداخليه والخارجيه للاتحاد الاوربي 1- الادخار الذي بلغ 20% من الناتج المحلي 2- الاستثمارات التي توظفها الصناديق الاوربيه 3- ماتوظفه المؤسسات ولشركات الصناعيه الكبرى ب- ترابط القطاعات الاقتصادية وتكامل المؤسسات الترابط في القطاعات (زراعي صناعي خدمي) المركب الصناعي العسكري للمؤسسه الاوربيه للدفاع الجوي وغزو الفضاء شركات عبر القطريه توفر 40% من القيمه المضافه الصناعيه - البرامج المنظمه للبحث والتطور التكنولوجي - برامج البحث المشتركه اوريكا التي يمولها البنك الاوربي للاستثمار ويظر ذلك في ارتفاع النفقات العموميه للبحث والتطوير</p>	<p>أ- تراجع النمو الديمغرافي يعتبر الاتحاد الاوربي ثالث قوه بشريه من سكان العالم - اول قوه بشريه ضمن اقطاب الثالث 80% يتركزون في المدن ويشكل هؤلاء السكان *- سوق استهلاكيه ضخمه ، ارتفاع مستوى الدخل ادى الى تغذية النزعه الاستهلاكيه ويساعد على التتميه الاقتصاديه ويستأثر الشمال الغربي باعلى المؤشرات واقطار الجنوب المراتب الاخيريه ب- يد عامله ذات مؤهلات متنوعه - ايدي عامله مؤهله لاعداد الكوادر - نسبه عاليه من النشطين اصحاب المؤهلات العلميه والتكنولوجيه</p>
<p>4- تحكم واضح في المجال</p>	<p>3- الاستفاده من مزايا المجال والتحكم فيه (مهم)</p>
<p>أ- شبكات نقل تساعد على الاندماج الاقتصادي الاوربي س: كيف تساعد شبكات النقل والاتصال على الاندماج في الاتحاد الاوربي ؟ - دعم القوه الاقتصاديه - التحكم في المجال - نقل المسافرين والبضائع بسبب شبكه كثيفه من الطرقات للنقل البحري والجوي والبري ب- تحضر كثيف يسهم في التحكم في المجال - حاضرتان عالميتان : لندن وباريس - حواضر اوربيه ينامي نفوذها العالمي :امستردام وبروكسل - حواضر وطنيه ذات نفوذ اوربي : فرانكفورت وهانوفر - حواضر وطنيه واقليمييه تسهم في تنظيم المجالات الوطنيه : لاهاي وبرام</p>	<p>أ- مزايا الموقع س : وضحى المزايا الطبيعسه للمجال الجغرافي الاوربي ؟ 1- يتوسط الوحدات البشريه والاقتصاديه الكبرى 2- يفتح على المجال الامريكي غربا وعلى قارة افريقيا جنوبا وعلى اسيا شرقا 3- امتلاك شبكه كثيفه من الموانئ يفوق عددها 1000 ميناء ب- تضاريس غير معيقه للانشطه الاقتصاديه *- انبساط التضاريس والسهول والهضاب تغطي المجال الاوربيه مما يجعل الارض صالحه للزراعه وتتخلل هذه السهول شبكه نهريه وقد قامت عليها حياه اقتصاديه نشطه ج- مناخات ملائمه للنشاط الزراعي *- بسبب طول سواحلها غربا وشرقا ادى الى اعتدال المناخ وتنوعه حيث يغطي المناخ المعتدل المناطق الغربيه وهو ملائم لتربية الماشيه ، اما المناخ المتوسطي يشمل السواحل الجنوبيه ويؤدي الى طول الاشماس مما يسمح بزراعه الكروم والزيتون والاشجار المثمره</p>

نموذج التنمية في دول حديثة التصنيع

اكمل الفراغات التالية بكلمات مناسبة

- 1- البنك الذي صنف الدول الى دول نامية واخرى سائرة في طريق التصنيع هو البنك الدولي
- 2- تسمى الدولة بحديثة التصنيع اذا فاقت قيمة صادراتها الصناعية من المجموع الكلي لصادراتها بنسبة 30%
- 3- من دول حديثة التصنيع النمر الآسيوية وهي هونغ كونغ، سنغافورة، تايبان، كوريا الجنوبية وفي افريقيا تونس وفي أمريكا اللاتينية البرازيل والمكسيك
- 4- ارتبطت النهضة الصناعية في هذه الدول بالرساميل الخارجية وشركات متعددة الجنسيات.

وضحي المميزات العامة للدول حديثة التصنيع

1- راس المال البشري (مهم)	2- الدور القيادي للدوله	3- الاهتمام بالبحث والتطوير	4- جلب الاستثمارات الاجنبية	5- التصدير المكثف
<p><u>على : 1- يعتبر الراس المال البشري من المميزات العاملة لدول حديثة التصنيع؟ (مهم)</u></p> <p>أ- تراجع النمو الديمغرافي ب- وفرة اليد العاملة ج- ارتفاع المستوى التعليمي والتأهيلي</p> <p><u>على 2- تراجع النمو الديمغرافي (مهم جداً)</u></p> <p>بسبب تراجع الوفيات وانخفاض الولادات</p> <p><u>على : 3- وفرة اليد العاملة (مهم جداً)</u></p> <p>* كثافة النزوح الريفي في البرازيل وكوريا ج * اهمية الهجره الصينيه الوافده الى تايبان هونغ كونغ</p>	<p>اذكر دور الدوله في <u>التنمية الصناعيه في البدان حديثة التصنيع</u></p> <p>1- تحديد اولويات التصنيع 2- مراقبة الاستثمارات الاجنبية 3- ضبط صرف العملة 4- حماية السوق الداخليه من المنافسة الخارجية</p>	<p><u>كيف سعت البلدان حديثة التصنيع الى اكتساب التكنولوجيا؟</u></p> <p>1- الاستثمار في البحث والتطوير وتوريد التكنولوجيا الحديثه من البلدان المتقدمه 2- تحويل التكنولوجيا عن طريق استجلاب الشركات عبر القطريه</p>	<p>وفرت للمستثمرين الاجانب ضمانات وامتيازات مغريه - عمدت الشركات اليابانية والأمريكية وتركز لها فروع في هذه البلدان</p>	<p>علي: من المميزات العامة التصدير المكثف؟ (مهم)</p> <p>- بسبب تدني الاجور - ضيق الاسواق الداخليه</p> <p>لذلك يقوم النمو فيها على التصدير المكثف وخصوصاً تصدير السلع الاستهلاكيه مثل الالبسه والاجهزه الإلكترونيه وبعض مواد الصناعة الثقيلة كالصلب والمواد الكيماوية</p>

وضحي مرحلتا التنميه في دول حديثة التصنيع (مهم)

مرحلة ارساء اقتصاديات وطنيه	مرحلة التصنيع المنفتح
1- انشاء مؤسسات وطنيه كبير يدعم من الدوله والبنوك	1- انتهجت التصنيع المعوض للاستيراد واعتمدت على النسيج والأحذية والغذائية
2- تطوير الصناعات الثقيله والصناعات التحويليه	2- بسبب ضيق الاسواق الداخليه جعلها تعتمد على التصنيع الموجه للتصدير
3- تنمية الاستهلاك الداخلي للصناعات المحليه	3- ساعدت الاستثمارات الأجنبيه الى تطوير التصنيع
4- الاعتماد على التصنيع واعطاء الاولويه للصناعات ذات التكنولوجيا العاليه	4- تنوعت الصناعات فشملت مصنوعات ذات التكنولوجيا العاليه،النسيج اللعب،معدات التجهيز المنزلي،الصناعات الثقيله
5- عولمة الانتاج الصناعي	مثل تكرير النفط، صناعات الالكترونيه
6- عدم اهمال الزراعه وتحديث اساليب العمل الزراعي	

أبرز الصعوبات الداخليه والخارجيه التي تواجهها التنميه في بلدان حديثة التصنيع (مهم)

لصعوبات الخارجه	الصعوبات الداخليه
1- حدة التبعية التجاريه التي اسفرت عن عجز الموازين التجاريه	1- التفاوت الاجتماعي (تباين المداخل)
2- اشتداد المنافسه في الاسواق من قبل البلدان الصناعيه بسبب اجراءات حمايه	2- تراكم المشاكل البيئيه نتيجته للحركه التصنيعيه والتوسع الحضري

البرازيل : دولة حديثة التصنيع في أمريكا الجنوبية

اكتشف البرازيل من قبل البحار البرتغالي الفاريزكابرا (alvares cabral) سنة 1500م
وحصل البرازيل على استقلاله 1822م بعد ان استعمرها البرتغال مايقرب من ثلاثة قرون
وربع

- أصبحت البرازيل جمهورية فدرالية منذ سنة 1889م

- تقع البرازيل في أمريكا الجنوبية يبلغ عدد سكانها 202 مليون نسمة عام 2014 والكثافة
السكانية 22 نسمة /كم²

- تحتل البرازيل المرتبة الخامسة في العالم من حيث المساحة وتتكون من خمسة أقاليم وهي
الشمال ، الشمال الشرقي والجنوب الشرقي ، والجنوب ، الوسط الغربي

تنقسم البرازيل الى 26 ولاية بالإضافة الى قطاع برازيليا العاصمة السياسية للبلاد

تتشارك البرازيل في حدودها في حدودها الجغرافية مع جميع بلدان أمريكا الجنوبيو باستثناء
سيلي والاكوادور

علني : تعتبر البرازيل عملاقاً بمساحته ومؤهلاته الطبيعية

- خاض منذ ستينات القرن الماضي تجربة تنمية مكنته من تحقيق قفزة اقتصادية كبرى
اهلته لان يصبح من البلدان الصناعية الجديدة ومن كبار المنتجين في العالم

- بيني مظاهر القفزة الاقتصادية البرازيلية

1- قوة صناعية بارزة

2- قوة زراعية

3- تجارة خارجية نشطة

بدأت جهود التصنيع في البرازيل قيب الحرب العالمية الثانية واستندت الى وفرة المنتجات
الزراعية والمنجمية

بيني الأصناف الثلاثة التي تنقسم إليها الصناعة البرازيلية

<p>انطلقت التجربة التصنيعية البرازيلية بشكل فعلي بعد ازمة الثلاثينيات الاقتصادية بتشجيع من الدولة التي ركزت في الصناعات الثقيلة وبالتحديد الصناعات التعدينية</p> <p>- ظهور شركات برازيلية كبرى تهيمن عليها الدولة مثل شركة سيداراس وشركة س. س. س. ن اللتين سيطرتا على قطاع الفولاذ</p> <p>- تتركز هذه الصناعات في منطقة ميناس جيراس</p> <p>- تحتل البرازيل مراتب عالمية متقدمة في انتاج الفولاذ والالمنيوم ، ولكن هذه الصناعات تحتاج الى إعادة هيكلة</p>	<p>صناعات قديمة لها مكانة مرموقة</p>
<p>- من ابرز صناعات الجيل الثاني الصناعات الكيماوية وصناعة السيارات التي تميزت بعدة خصائص</p> <p><u>وضحي الخصائص التي تتميز بها صناعة السيارات في البرازيل هي :</u></p> <p>أ- انطلاقة هذه الصناعات منذ منتصف الخمسينات وتطورها في الثمانينات من القرن الماضي وبتأسيس اكبر شركة سيارات في البرازيل اوتولاتينا</p> <p>ب- استقطاب البرازيل للشركات العالمية المتخصصة في صناعة السيارات مثل شركة موتور جنرال موتورز الامريكية وشركة تويوتا اليابانية</p>	<p>النمو المستمر لصناعات الجيل الثاني</p>
<p>- اقتحمت البرازيل ميدان الصناعات المتطورة بفضل الاستثمارات الأجنبية وتنقسم الى عدة اقسام</p> <p>أ- الصناعات النووية : تمتلك البرازيل محطتين نوويتين وقع تركيزهما بمساعدة الدول المتقدمة :</p> <p>ب- صناعة الطائرات : تعتبر البرازيل رابع منتج للطائرات في العالم وتمتلك شركة امبرائر وتصدر البرازيل الى عدد كبير من الدول بما فيها الدول المتقدمة</p> <p>ج- صناعة الأسلحة : تعتبر البرازيل من اهم الدول المنتجة للأسلحة الخفيفة والثقيلة بفضل اسهامات الشركات متعددة الجنسيات وبذلك اصبح قطاع الصناعة يساهم بنسبة 52.4% من مجموع الصادرات البرازيلية</p>	<p>حيوية صناعات التكنولوجيا العالية</p>

البرازيل قوة زراعية

- ركزت البرازيل جهودها على الزراعات التصديرية التي جعلت منه قوة زراعة كبرى

أهمية الزراعات التصديرية

- تدعمت منذ عام 1964م نتيجة التركيز على التصدير والاستفادة من القروض والامتيازات التي توفرها الدولة ومؤسساتها

وضحي الخصائص التي تتميز بها الزراعة التصديرية في البرازيل

- تنظم الزراعة ضمن ملكيات كبيرة تفوق مساحة الواحد منها 1000 هكتار وتطلق عليها تسمية اللاتيفنديا وهي تابعة لشركات متعددة الجنسيات
- اندماجها في اطار المركب الزراعي الغذائي التصديري الذي تسيطر عليه شركات عالمية كبرى مثل شركة دانون وشركة نستله ، ويسيطر هذا المركب الزراعي على ثلث الناتج المحلي وعلى 40% من مجموع الصادرات
- تنوع انتاجها واحتلالها مراتب عالمية متقدمة مثل القهوة التي تحتل المرتبة الاولى في العالم بنسبة 34% من الإنتاج العالمي

الزراعات المعاشية

- هي زراعات عائلية بالأساس مثل الأرز والقمح
- ترتبط بالصناعات الغذائية لفقراء البرازيل
- من اهم المنتجات التي يقبل عليها البرازيليون اللوبيا (الفاصوليا)
- تشغيل الايدي العاملة الزراعية
- تنظم ضمن ملكيات صغيره تطلق عليها (المكروفنديا)
- تنتشر في الشمال الشرقي للبرازيل / - تتميز بتراجع مردودها
- لا تحظى بالامكانيات كبيره في التطور / - هي غير قادرة على تلبية حاجات السكان
- يتميز دخل أصحابها بضعفه / - تشهد هذه الزراعات ركود في الإنتاج

3- تجارة خارجية نشطة

- استفادة البرازيل من نهضة الصناعة وتنامي قوتها الزراعية لتدعم حضورها في الأسواق العالمية ولتصبح طرفا مؤثرا في الساحة الدولية
- شهدت التجارة الخارجية نموا متواضعا منذ سنة 1964م
- تزايد نسق النمو منذ تسعينات القرن العشرين بفضل اتباع سياسة الانفتاح الاقتصادي التي تتمثل في خفض الإدارات الجمركية وتطوير الخدمات الموجهة للمؤسسات
- تركز قوة التجارة البرازيلية على الصادرات التي تضاعفت قيمتها حوالي 13 مرة عام 1970 ليبلغ قيمتها 188 مليار دولار عام 2005
- تضم صادرات البرازيل المنتجات الصناعية بنسبة 53% والمنتجات الزراعية بنسبة 32%
- نتيجة ارتفاع الصادرات تخلصت البرازيل من عجز الميزان التجاري وأصبحت تحقق فائضا قدره 44.7 مليار دولار 2005م
- تتعامل البرازيل مع عدة اطراف تجارية من ابرزها بلدان الثالوث (الولايات المتحدة الأمريكية ، الاتحاد الأوروبي ن واليابان) التي تسيطر على نسبة 45% من مجموع المبادلات إضافة الى بعض الدول النامية مثل الأرجنتين والصين
- رغم هذه القوة لازالت البرازيل تعاني من بعض الصعوبات مثل بقاء تجارتها الخارجية في تبعية تجاه أسواق الدول المتقدمة

.....

علي التجارة الخارجية للبرازيل نشطة ؟

- استفادت البرازيل من نهضة الصناعة
- تنامي قوتها الزراعية
- اتباع سياسة الانفتاح الاقتصادي
- تركز قوة التجارة البرازيلية على الصادرات
- تتعامل مع عدة اطراف تجارية مثل بلدان الثالوث والصين والأرجنتين

أذكرى أبرز دعائم القفزة الاقتصادية البرازيلية ؟

1- تعاقب نماذج التنمية

2- رصيد بشري كبير

3- الثروات الطبيعية والتحكم في المجال

4- الاستثمارات الأجنبية والاقتراض الخارجي

.....
وضحي نماذج التنمية الثلاثة التي تبنتها البرازيل منذ ثلاثينيات القرن الماضي

<p>أ- نموذج تنموي قائم على الإمكانات الوطنية</p>	<p>- امتد هذا النموذج الى عام 1964م - حرصت الدولة على تحقيق التنمية بالاعتماد على الإمكانات الذاتية وبتوجيه الاستثمارات نحو السوق الوطنية لتلبية حاجات البلاد دون التعويل على الموارد الأجنبية - فتبنت التصنيع بدل من الاستيراد</p>
<p>ب- نموذج تنموي قائم على النهوض بالصادرات</p>	<p>- امتداد هذا النموذج من 1964 الى نهاية ثمانينات القرن الماضي - تبنت الدولة نمودجاً استند الى التصنيع الموجه للتصدير الذي اقتضى زيادة تداول الاقتصاد البرازيلي ودعم ارتباطه بالأسواق الخارجية وانفتاحه على راس المال الخاص المحلي والاجنبي</p>
<p>الانفتاح الاقتصادي</p>	<p>- بداية من تسعينات القرن الماضي اقرت البرازيل نمودجاً تنموياً جديداً يستند الى مبدأ تخلي الدولة عن المشاركة في الإنتاج وتحرير المبادلات التجارية وتوثيق العلاقات مع الخارج - التزمت منذ عام 1990م بتطبيق برنامج الإصلاح الهيكلية الذي يقضي بإزالة الحواجز الجمركية وخصخصة المؤسسات العمومية</p>

س : وضح أهمية الرصيد البشري الكبير في البرازيل ؟

أ- أهمية النشطين

- بلغ عدد سكان البرازيل أكثر من 202 مليون نسمة عام 2014
- يعتبر هذا العدد الكبير طاقة استهلاكية كبيرة لكنها متواضعة القدرة الشرائية لان الدخل الفردي السنوي للبرازيل ما زال منخفض في حدود 8500 دولار
- تملك رصيد ضخم من النشطين تقدر نسبتهم حوالي 56% من مجموع السكان عام 2005
- يعتبر هذا الرصيد من ابرز العوامل التي ساعدت البرازيل على استقطاب الاستثمارات الأجنبية لان اليد العاملة زهيدة الثمن مقارنة بالدول الأخرى

ب- دور الهجرة الخارجية والداخلية

- استفادت البرازيل منذ القرن 16 من تدفق المهاجرين وخاصة من القارة الأوروبية (البرتغال واسبانيا) وقد ساهم هؤلاء في تعمير البلاد وتركيز أنشطة زراعية جديدة
- كما وفرت هجرة العبيد من افريقيا يد عاملة ضرورية لمزارع القهوة وقصب السكر والقطن
- ومنذ القرن 17 نشطت الهجرة الداخلية المتعاقبة التعميرية من المناطق الساحلية الشرقية الى مناطق الشمال والغرب للبحث عن أراضي جديدة وثروات وساهمت هذه الحركة في تطوير المناطق
- علل الرصيد البشري الكبير من دعائم القفزة الاقتصادية
 - 1- عدد ضخم من السكان يمثل طاقة استهلاكية كبيرة.
 - 2- تمتلك رصيد ضخم من النشطين شجع على استقطاب الاستثمارات الأجنبية الرخيصة.
 - 3- ساهم المهاجرون في تعمير البلاد وتركيز الزراعة.
 - 4- هجرة العبيد من افريقيا وفرت يد عاملة لمزارع القهوة والسكر والقطن.
 - 5- نشطت الهجرة الداخلية التي ساهمت في تطوير المناطق الداخلية

وضح الميزات التي تمثل أهمية الثروات الطبيعية في البرازيل ؟

- 1- مساحة شاسعة تفوق 8.5 مليون كم2
- 2- تعدد الأقاليم المناخية وأبرزها المناخ الاستوائي والمناخ المداري أدى الى تنوع المنتجات الزراعية
- 3- توفر شبكة نهريّة كثيفة تتركز حول نهر الامازون

4- وفرت الثروات المنجمية مثل الحديد

5- تزايد إنتاج الطاقة والتعويل على الطاقات البديلة والطاقة الكهرومائية والنووية

6- وفرت المياه العذبة الصالحة للزراعة والأنشطة الاقتصادية الأخرى

على : سعى البرازيل في التحكم في المجال ؟

- توسيع المجال المعمور

- ربط الأقاليم بعضها ببعض

- انجاز شبكات نقل متنوعة تربط السواحل الشرقية والمناطق الغربية والشمالية ببعضها البعض

- الى جانب ذلك أنشأت البرازيل عاصمة جديدة لها (برازيليا) بدلا من العاصمة القديمة ريو دي جانيرو لتخفيف الضغط على المناطق الساحلية

على : اهتمام الشركات متعددة الجنسيات الاستثمار في البرازيل ؟

- رخص اليد العاملة وتوفيرها

- الاستقرار السياسي

- التسهيلات المقدمة من الدولة للاستثمار

- وفرة الموارد الطبيعية

على : تبعية البرازيل المفرطة للدول المتقدمة ؟

سيطرة الشركات متعددة الجنسيات على الأراضي الشاسعة وتحكمها في جزء كبير من الصناعات المتطورة

اذكري مشكلات التنمية في البرازيل ؟

1- سوء توزيع الأراضي (الملكيات) في الأرياف

2- تركيز الفقر والثراء داخل المدن / 3- تباينات إقليمية حادة

على : عدم نجاح محاولات الإصلاح الزراعي في التخفيف من ظاهرة التفاوت الشديد في الملكية ؟

- حصول 10% من مجموع المزارعين الأثرياء (الاقطاعيين) على 80% من الأراضي الزراعية بينما الفقراء المزارعين الذين يشكلون 50% لم يحصلوا الا على 2.2% من الأراضي الزراعية

- هناك نزاع قديم بين كبار وصغار المزارعين في مجال الأراضي الزراعية حيث تدخلت الدولة لحل هذا النزاع منذ عام 1964 حيث طلبت الدولة من صغار المزارعين استغلال الأراضي الموجودة شمالاً ولم تلبث ان حدثت نزاعات في هذه الأراضي بين كبار وصغار المزارعين حيث شكل كبار المزارعين فرق عسكرية لحماية أراضيهم

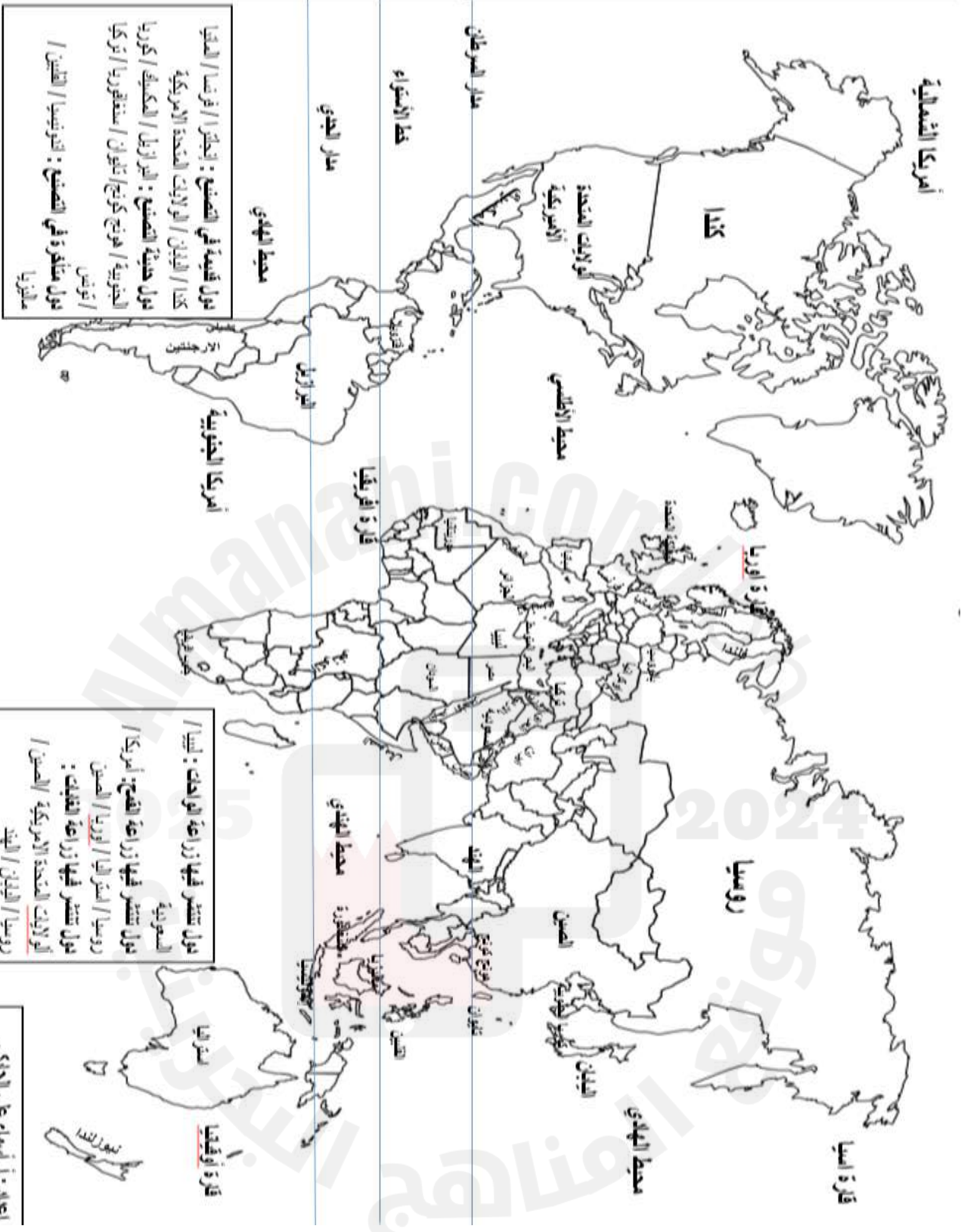
- قام المزارعين الصغار بتأسيس حركة اطلق عليها (مزارعين بلا ارض) وتضم 5 مليون مزارع صغير وذلك للدفاع عن حقوقهم وتحسين ظروف معيشتهم

2- تركيز الفقر والثراء داخل المدن

أ- تركيز الفقر والبؤس في السكن العشوائي:	ب- تركيز الثروة والبذخ في الأحياء الراقية:
ساهم النزوح الريفي الناجم عن الأوضاع المتأزمة في الريف، بروز أحياء فقيرة في المدن البرازيلية تسمى الفافيلا، وهي أحياء عشوائية نمت في أراضي غير ملائمة للسكن وتعتمد على أنشطة خدمية غير قانونية.	تضم المدن الكبرى أحياء مركزية غنية تتميز بكثافة الأبنية وناطحات السحاب التي تأوي مقرات المؤسسات الكبرى الاجتماعية والخدمية الراقية وتحيط بها أحياء فخمة تخصص للفئات المرفهة.

قسم المجال البرازيلي الى ثلاثة أقاليم متفاوتة من حيث خصائصها

<p>يتسم هذا الإقليم بأنه:</p> <ul style="list-style-type: none">- يعد أكثر المجالات تقدماً، إذ يسكنه 57% من السكان، 75% من الناتج الداخلي الخام، ويسيطر على 90% من قيمة الإنتاج الصناعي.- تعتبر ساو باولو أهم مدينة وعاصمته الاقتصادية ويمتد اشعاعها على كامل المجال الوطني.علي : سبب تقدم البرازيل المركزية في الجنوب الشرقي والجنوب- تنوع الأنشطة الزراعية في المنطقة أثناء أزمة الثلاثينات الاقتصادية.- انطلاق حركة التصنيع في الإقليم الجنوب الشرقي.- استقطاب ساو باولو للاستثمارات الأجنبية الواردة للبلاد.	<p>أ- البرازيل المركزية في الجنوب الشرقي والجنوب</p>
<p>يتسم هذا الإقليم بأنه:</p> <ul style="list-style-type: none">- أقل الأقاليم البرازيلية تقدماً أكثرها فقراً.- كثافة سكانية عالية.- يضم 28% من سكان البلاد، وأكثر من نصفهم فقراء.- يقل فيها أمل الحياة عند الولادة.- ينحصر التصنيع في بعض المدن مثل سلفادور ورسيف<u>ويعود تخلف هذا الإقليم للعوامل الآتية:</u>- ضعف استفادته من السياسات التنموية.- ارتباط اقتصاده بالزراعة الأحادية لقصب السكر.- خضوعه لهيمنة إقليم الجنوب الشرقي.- انتشار الجفاف وتآزم الواقع العقاري.	<p>ب- البرازيل الطرفية في الشمال الشرقي</p>
<p>البرازيل الريادية في الشمال والوسط الغربي:</p> <p>يتسم هذا الإقليم بأنه:</p> <ul style="list-style-type: none">- يضم مناطق ممتدة وغنية بالموارد الطبيعية.- يتميز بتعميره المشتت.- يعتمد على زراعة الصويا وتربية الماشية الممتدة.<u>العوامل التي ساهمت في تأزم هذه المناطق:</u>- غياب المدن القادرة على دفع التنمية.- غابة أمازونيا التي تعتبر أرض بدون سكان لسكان بدون أرض.لم تتمكن البرازيل من تقليص الفوارق بين أقاليمها، ويبقى الجنوب الشرقي مهيمنا على بقية الأقاليم.	<p>ج- البرازيل الريادية في الشمال والوسط الغربي</p>

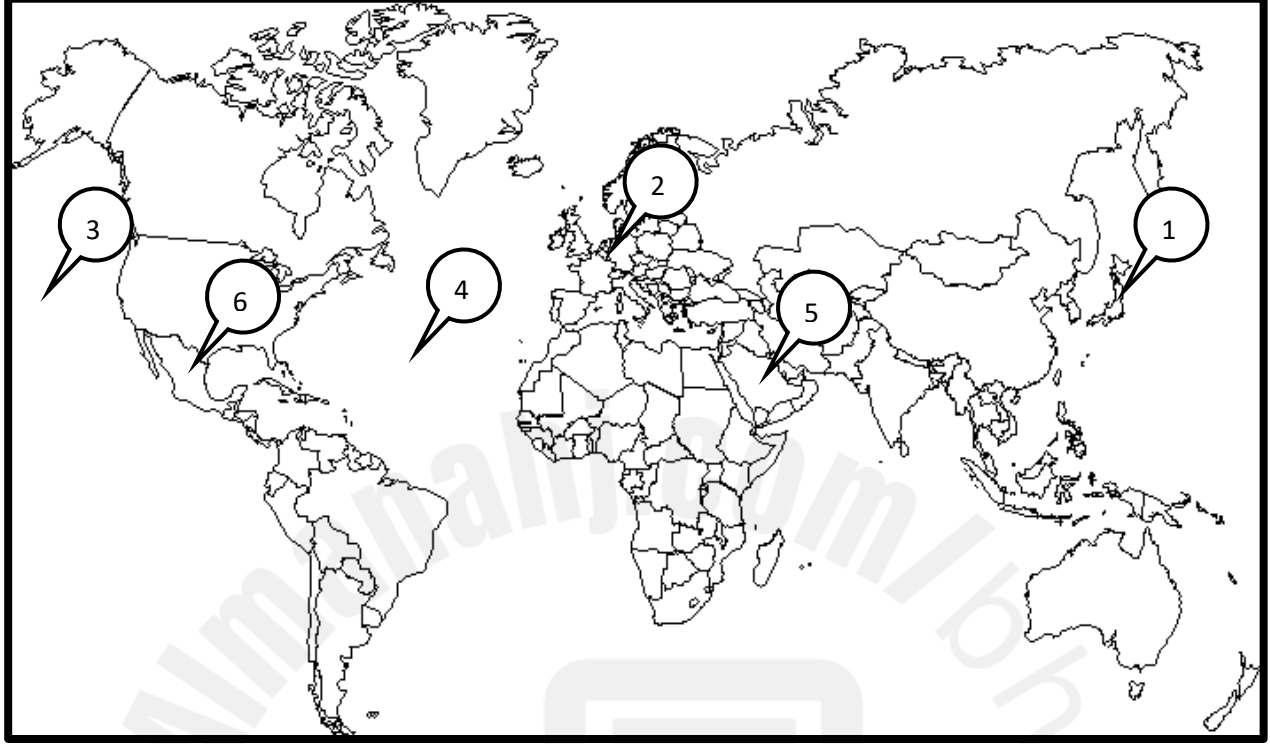


تول قصبه في الصين : إنجلترا / فرنسا / المكسيك / البرازيل / الولايات المتحدة الأمريكية / كوريا الجنوبية / هونغ كونغ / تايوان / سنغافورا / تركيا / تونس / هولمندا / هولمندا في الصين : انزيبسا / الفلبين / ماليزيا

تول تنتشر فيها زراعة الواحش : ليبيا / السعودية
تول تنتشر فيها زراعة القمح : أمريكا / روسيا / اسبانيا / كوريا / الصين
تول تنتشر فيها زراعة القبايع : الولايات المتحدة الأمريكية / الصين / روسيا / اليابان / الهند

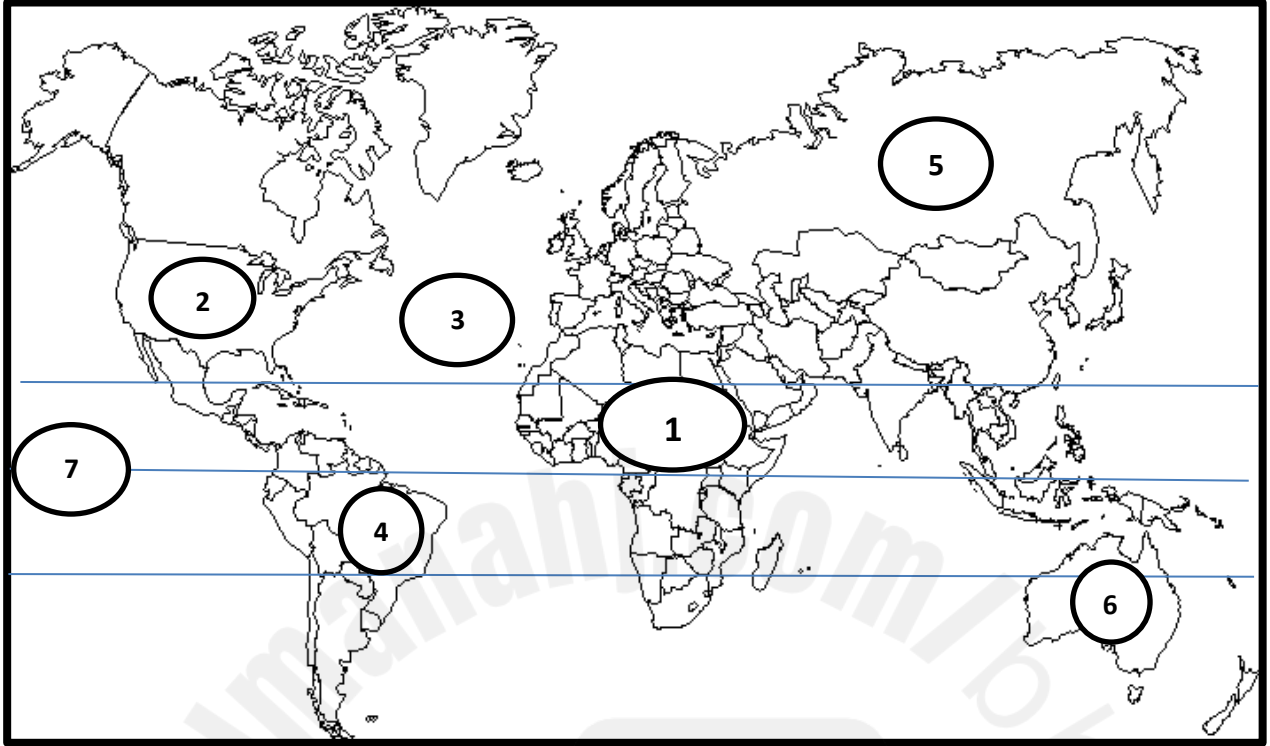
اعده : أ. أسماء علي الحايكي

ثانياً: أكمل الجدول التالي بكتابة مدلول الأرقام المثبتة على خريطة العالم.



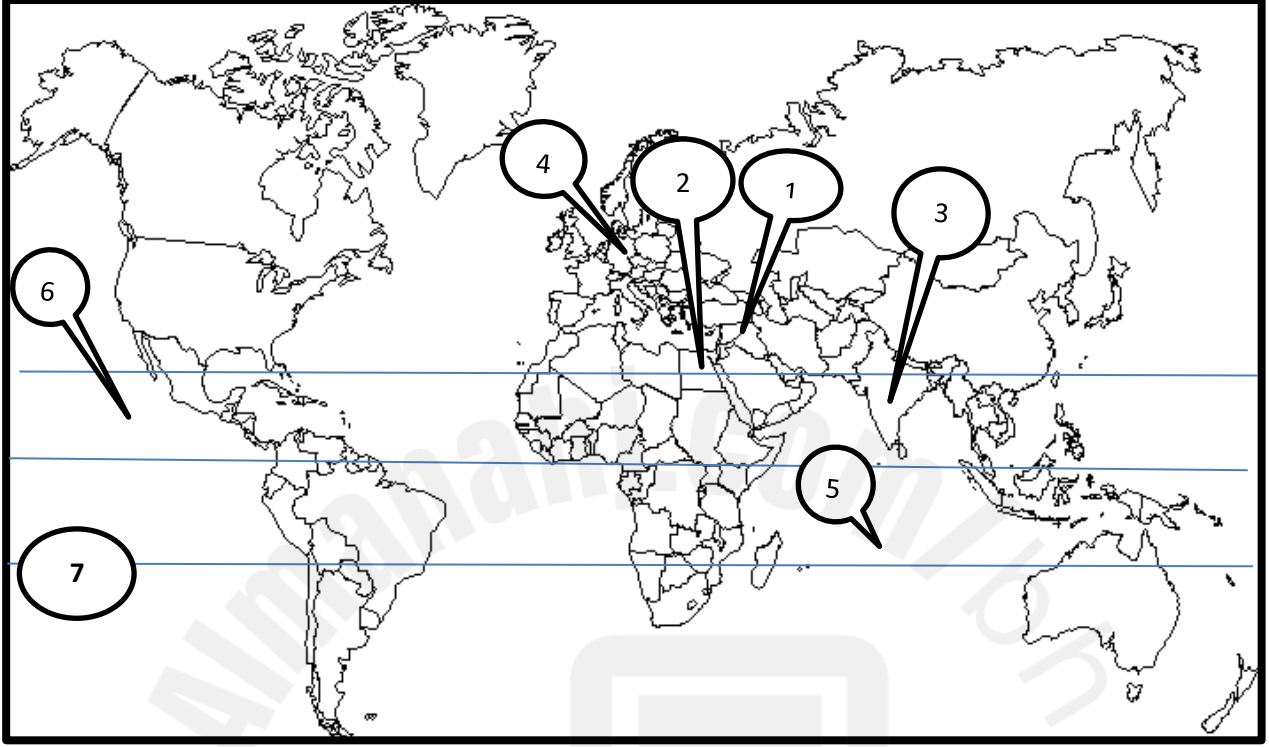
العبارة	الرقم	مدلول الرقم على الخريطة
بلدان الثالوث التي تعتبر من الأقطاب المحركة للاقتصاد العالمي.	1
	2
المسطحات المائية.	3
	4
دول تشتهر بزراعة الواحات تم تحديثها وتأمين مستلزمات البقاء فيها.	5
دول حديثة التصنيع.	6

ثانياً: أكمل الجدول التالي بكتابة مدلول الأرقام المثبتة على خريطة العالم.



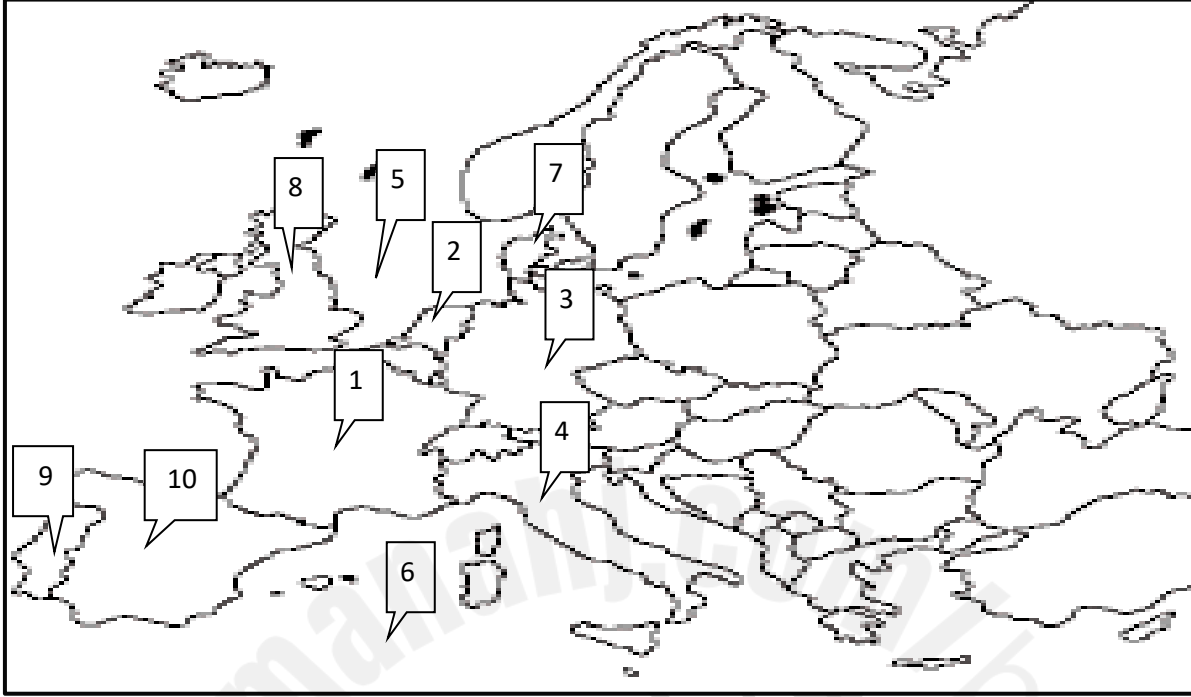
العبارة	الرقم	مدلول الرقم
قارة	1	
بلد من بلدان الثالث	2	
مسطحات مائية	3	
دولة حديثة التصنيع	4	
دولة تسود فيها زراعة القمح	5	
دوبة متقدمة	6	
دائرة عرض	7	

: أكمل الجدول التالي بكتابة مدلول الأرقام المثبتة على خريطة العالم.



مدلول الرقم	الرقم	العبرة
	1	دولة تنتشر فيها الزراعة المروية
	2	بلدان نامية ذات مؤشر تنمية متوسط
	3	دولة ضمن المجموعة الاوربية للفحم والفولاذ
	4	مسطحات مائية
	5	دائرة عرض
	6	
	7	

امامك خريطة الاتحاد الاوربي، من خلال الارقام المثبتة اكمل الجدول الذي يليها



العنصر	ما تمثله الارقام
دول مؤسسه للسوق الأوربية المشتركة 1957	1- فرنسا
	2- هولندا
	3- المانيا
	4- إيطاليا
المسطحات المائية	5- بحر الشمال
	6- البحر المتوسط
دولتان انضمنا عام 1973	7- الدنمارك
	8- بريطانيا
دول انضمت الى السوق الأوربية سنة 1986	9- البرتغال
	10- اسبانيا

الرقم	مدلول الرقم
1	كندا
2	اليابان
3	امريكا الوسطى
4	المكسيك
5	الاتحاد الأوربي
6	الصين
7	بلدان افريقيا
8	الشرق الأوسط

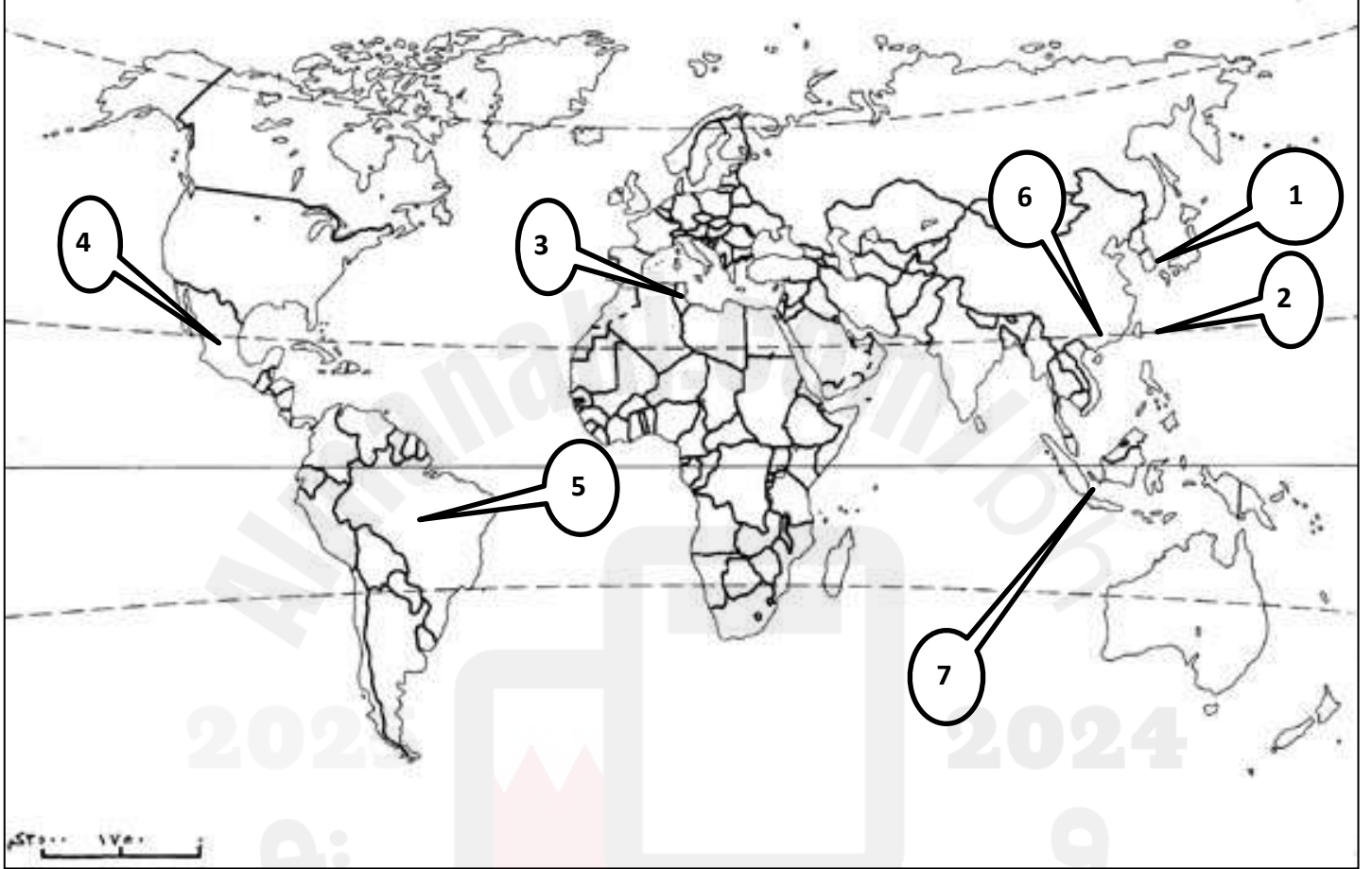




العنصر	العبارة	الرقم على الخريطة	مدلول الخريطة
دول	دول تحد الولايات المتحدة من جهة الجنوب وتعتبر المستدين الأول لها	1	المكسيك
	دول تحد الولايات المتحدة الامريكية من جهة الشمال	2	كندا
مسطحات مائية	محيط يحد الولايات المتحدة الامريكية من جهة الشرق ويعتبر الحلقة المائية التي تفصل الولايات عن اوربا	3	المحيط الأطلسي
	محيط يحد الولايات المتحدة الامريكية من جهة الغرب ويعتبر من العوامل المساعدة للتبادل التجاري مع دول اسيا الشرقية والجنوبية الشرقية	4	المحيط الهادي
	يعتبر من أكبر الخلجان من جنوب قارة أمريكا الشمالية	5	خليج المكسيك
مدن	مدينة تمثل مركز الحكم الفدرالي	6	واشنطن
	مدينه أمريكية يطلق عليها عاصمة السيارات في العالم	7	ديترويت
	مدينه أمريكية تعتبر مركز للصناعات الفضائية	8	

سياتل

حددي علي الخريطة بعض الدول حديثة التصنيع



العبارة	مدلول الرقم	
الدول حديثة التصنيع	1	كوريا الجنوبية
	2	تايوان
	3	تونس
	4	المكسيك
	5	البرازيل



هونغ كونغ	6	
سنغافورا	7	

