

تم تحميل هذا الملف من موقع المناهج البحرينية



مراجعة عامة أجا 102

موقع المناهج ← المناهج البحرينية ← الصف الأول الثانوي ← المواد الاجتماعية ← الفصل الأول ← ملفات متنوعة ← الملف

تاريخ إضافة الملف على موقع المناهج: 20:56:58 2025-01-09

ملفات اكتب للمعلم اكتب للطالب الاختبارات الكترونية الاختبارات ا حلول ا عروض بوربوينت ا أوراق عمل
منهج انجليزي ا ملخصات وتقارير ا مذكرات وبنوك الامتحان النهائي للمدرس

المزيد من مادة
المواد
الاجتماعية:

التواصل الاجتماعي بحسب الصف الأول الثانوي



صفحة المناهج
البحرينية على
فيسبوك

الرياضيات

اللغة الانجليزية

اللغة العربية

التربية الاسلامية

المواد على تلغرام

المزيد من الملفات بحسب الصف الأول الثانوي والمادة الاجتماعية في الفصل الأول

مراجعة دروس الوقفة التقييمية

1

ملخصات أجا 102

2

ملخص مقرر أجا 102

3

نموذج إجابة أسئلة امتحان نهاية الفصل الأول مقرر أجا 102

4

أسئلة امتحان نهاية الفصل الأول مقرر أجا 102

5

مراجعة نهائية في مقرر الجغرافيا الاقتصادية " أجا 102 "

السؤال الأول : أولاً : ضع دائرة حول رمز الإجابة الصحيحة في البدائل التالية.

- 1- فقدت الولايات المتحدة سيطرتها على السوق العالمية في بعض المنتجات الصناعية والزراعية بسبب المنافسة الحادة من قبل:
- أ. اليابان.
ب. اندونيسيا.
ج. ليبيا.
د. فينزويلا.
- 2- جميع ما ذكر من المميزات العامة للدول الحديثة التصنيع في الرأس المال البشري ما عدا:
- أ. وفرة اليد العاملة.
ب. تراجع النمو الديموغرافي.
ج. تزايد النمو الديموغرافي.
د. ارتفاع المستوى التعليمي والتأهيلي.
- 4- لم تتمكن عملة الايكو من الصمود أمام منافسة العملة الأكثر تداولاً في العالم وهي:
- أ. الدولار
ب. الين
ج. الفرنك.
د. الجنيه الأسترليني.
- 5- تنظم الزراعات المعاشية في البرازيل ضمن ملكيات صغيرة يُطلق عليها :
- أ. اللاتيفنديا.
ب. الميكروفنديا
ج. الفافلا.
د. السافانا
- 6- من الحاجات الثانوية المادية الغير مشتركة للإنسان هي:
- أ. الغذاء.
ب. السكن.
ج. الكساء.
د. العطور.
- 7- منطقة حزام الشمس في الولايات المتحدة الأمريكية تتمركز فيها:
- أ. قطاع البناء.
ب. انماط الزراعات الحديثة.
ج. النشاط الزراعي.
د. الصناعات المتطورة .
- 8- أي من الدول التالية تصنف ضمن البلدان الحديثة التصنيع في أمريكا:
- أ. بوليفيا.
ب. المكسيك.
ج. تشيلي.
د. بيرو.
- 9- القوة الاقتصادية الجديدة التي برزت في المنظومة الدولية بزعامة اليابان هي المجال:
- أ. الأمريكي.
ب. الأفريقي
ج. الأوروبي.
د. الهادي.
- 10- تواجه التجارة الخارجية الأمريكية صعوبات كبيرة وتراجع مبيعاتها بسبب:
- أ. حرب الطائرات.
ب. المنافسة الكورية.
ج. المنافسة اليابانية.
د. حرب الاغذية.
- 11- من حاجات الإنسان المعنوية هي:
- أ. الكساء.
ب. التقدير.
ج. المسكن.
د. الغذاء.
- 12- تصنف زراعة الأرز في آسيا الموسمية ضمن الزراعات:
- أ. المتنقلة.
ب. المتعددة.
ج. الانتشارية.
د. الكثيفة.
- 13- صنف الاقتصاديون الحاجات البشرية أصنافاً عديدة منها تصنيف :
- أ. ماسلو
ب. بافلوف.
ج. ابن خلدون.
د. أرسطو.
- 14- من الصعوبات التي تواجه نموذج التنمية في الدول الحديثة التصنيع التفاوت:
- أ. السياسي .
ب. الاجتماعي.
ج. الاقتصادي.
د. البشري.

15- دول حديثة التصنيع في أمريكا اللاتينية حسب تصنيف البنك الدولي هي :
أ. المكسيك.
ب. تاوان.
ج. سنغافورة.
د. هونج كونج.

16- تنتشر زراعة الأرز في آسيا الموسمية بسبب توافر :
أ. الحرارة المنخفضة.
ب. التربة المسامية.
ج. قلة الأيدي العاملة.
د. الحرارة العالية.

17- خلال الثورة الصناعية الأولى نشأت المناطق الصناعية بالقرب من مناجم :
أ. الذهب.
ب. الحديد.
ج. الزنك.
د. الفوسفات.

18- تتمركز صناعة السيارات في منطقة البحيرات الكبرى خاصة في مدينة:
أ. دالاس.
ب. ديترويت.
ج. سياتل.
د. لوس انجلوس.

19- جميع ما ذكر من المميزات العامة للدول الحديثة التصنيع في رأس المال البشري عدا :
أ. تراجع النمو الديموغرافي.
ب. وفرة الأيدي العاملة.
ج. قلة الأيدي العاملة.
د. ارتفاع المستوى التعليمي والتأهيلي.

20- من الحاجات الثانوية الغير مشتركة للإنسان:
أ. الأمن.
ب. بالانتماء.
ج. الحماية.
د. الترفيه.

21- تراجعت صناعة النسيج في الولايات المتحدة بسبب منافسة :
أ. المكسيك.
ب. كندا.
ج. فنزويلا.
د. تشيلي.

22- يرتفع سعر السلعة في السوق في حالة:
أ. تساوي العرض والطلب.
ب. الطلب أكثر من العرض.
ج. العرض أكثر من الطلب.
د. توازن العرض والطلب.

23- تنتشر الغابات المنتجة للأخشاب الصلبة في المناطق :
أ. القطبية.
ب. الوسطى.
ج. المدارية وشبه المدارية.
د. العليا.

24- الحاجة التي تُصنف ضمن الحاجات المادية في تصنيف ماسلو :
أ. الأمن.
ب. الغذاء.
ج. الحماية.
د. الانتماء.

25- البورصات العالمية مركزها المدن العواصم الكبرى تحدد أسعار المواد الأساسية منها :
أ. روما.
ب. كوبنهاجن.
ج. انقرة.
د. لندن.

26- جميع ما ذكر التحولات التي شهدتها الدول المتقدمة في المجالات الصناعية عدا :
أ. تراجع الصناعات القديمة.
ب. ظهور أقطاب تكنولوجية.
ج. بروز مجالات صناعية حديثة.
د. النقص في الرساميل.

27- تُصنف الزراعة العلمية متعددة الإنتاج ضمن الزراعات :
أ. المتنوعة.
ب. الحديثة.
ج. الرأسمالية.
د. المتخصصة.

28- نشأت السوق الأوروبية المشتركة سنة 1956 بموجب اتفاقية :
أ. فيينا.
ب. روما.
ج. موسكو.
د. برلين.

- 29- أحد قطاعات الاقتصاد ويشمل التجارة والمواصلات والمال والإدارة وغيرها :
 أ. الزراعة.
 ب. التجارة.
 ج. الخدمات.
 د. السياحة.
- 30- من الخدمات ويشمل الخدمات الإدارية والنقل والتأهيل وله دور كبير في مجال التشغيل :
 أ. الخدمات الموجهة للأفراد.
 ب. الخدمات المشتركة.
 ج. الخدمات الموجهة للمؤسسات.
 د. الخدمات الخاصة.
- 31- أصدر الاتحاد الأوروبي عملة موحدة عام 1999م هي :
 أ. الدولار.
 ب. الليرة.
 ج. الين.
 د. اليورو.
- 32- جميع ما يلي من دعائم القوة الإنتاجية للاتحاد الأوروبي ما عدا:
 أ. ثروة بشرية مساعداً .
 ب. الاستفادة من مزايا المجال والتحكم فيه.
 ج. هياكل اقتصادية عملاقة .
 د. تحديث البنية التحتية .
- 33- شهدت صناعة الفولاذ في الولايات المتحدة أزمة وتراجعاً بسبب المنافسة مع :
 أ. اليابان.
 ب. كندا.
 ج. فنزويلا.
 د. تشيلي.
- 34- تنتشر الغابات المخروطية المنتجة للأخشاب اللينة في العروض :
 أ. المدارية.
 ب. الوسطى.
 ج. شبه المدارية.
 د. العليا.
- 35- جميع ما يلي من أسباب جذب المناطق المدينية للصناعات ما عدا :
 أ. سوق استهلاكية.
 ب. نقص الأيدي العاملة.
 ج. مركز للرساميل والقرار الاقتصادي
 د. عقدة مهمة للاتصالات
- 36- تُصنف تربية الماشية ضمن الزراعات :
 أ. المتنوعة.
 ب. الحديثة.
 ج. الرأسمالية
 د. المتخصصة .
- 37- تُصنف زراعة الواحات ضمن الزراعات :
 أ. المتعددة.
 ب. الكثيفة.
 ج. المتعددة
 د. المتنقلة .
- 38- جميع ما يلي من عوامل التوطين الصناعي ما عدا :
 أ. العوامل الطبيعية .
 ب. المناطق الصناعية الشاطئية.
 ج. طرق المواصلات ووسائل النقل .
 د. العوامل البشرية
- 39- الخدمات الموجهة للأفراد في الولايات المتحدة الأمريكية تضم خدمات :
 أ. التأهيل الفني .
 ب. المنزلية والفندقية.
 ج. الاستشارات الهندسية.
 د. التأهيل المالي .
- 40- يُعد الاتحاد الأوروبي قوة زراعية عالمية بسبب :
 أ. ضخامة الإنتاج الزراعي .
 ب. الأيد العاملة الرخيصة
 ج. تراجع الاكتفاء الذاتي.
 د. ارتفاع الواردات الزراعية .
- 41- تحتل البرازيل من حيث انتاج السكر على مستوى العالم المرتبة :
 أ. الأولى .
 ب. الثانية
 ج. الثالثة .
 د. الرابعة .

ثانياً: صحح ما تحته خط .

- 1-تضم البلدان الصناعية البرازيل والمكسيك و الهند البرازيل
- 2-تُعد ماليزيا ثاني مصدر في العالم للمواد المصنعة والزراعية والخدمات وبراءات الاختراع الولايات المتحدة
- 3- منطقة ديترويت يوجد بها مقر مؤسسة ميكروسوفت سياتل
- 4- الصعوبات الداخلية التي تواجه نموذج التنمية حدو التبعية التجارية والمالية التفاوت الاجتماعي ، المشاكل البيئية
- 5- تحرك الأسعار وفقاً للعرض والطلب يُعرف البورصة آلية السوق
- 6- الرعي الواسع ينتشر هذا النوع من الزراعة في مناطق السافانا والغابات الاستوائية الزراعة المتنقلة
- 7- تُسمى الدول النامية التي تتعدى قيمة صادراتها الصناعية 20% من مجموع صادراتها بالدول حديثة التصنيع 30%
- 8- يضم الثالوث الولايات المتحدة والاتحاد الأوروبي و روسيا اليابان
- 9- تُعرف الملكيات الزراعية الكبيرة في البرازيل تفوق مساحة الواحدة منها 1000 هكتار، باسم الفافيلا اللاتفنديا
- 10- دراسة الأسواق من الخدمات الموجهة إلى الأفراد .

ثالثاً: ضع المفاهيم الآتية أمام ما يناسبها من العبارات الواردة في الجدول التالي.

الزراعة المتنقلة - الحزام الصناعي - إقليم حزام الشمس - السوق - شبكات المواصلات.

المفاهيم	العبارات
السوق	مجموع العرض والطلب لسلعة أو خدمة معينة.
شبكات المواصلات	مجموعة من العقد كالمطارات ومحطات القطارات والحافلات والخطوط كالسكك الحديدية.
الحزام الصناعي	أول إقليم صناعي في الولايات المتحدة الأمريكية تتركز فيه صناعة الفولاذ والنسيج والسيارات.
إقليم حزام الشمس	يتكون من مناطق طرفية تشمل كاليفورنيا وولاية تكساس وكامل واجهة المحيط الهادي
الزراعة المتنقلة	تنتشر في مناطق السافانا والغابات الاستوائية وتستخدم النار لحرق الأشجار والأعشاب لاستخدام رمادها في كسماد .

رابعاً:

- صنف العبارات الواردة في الجدول الآتي بوضع علامة (x) في المكان المناسب

الرقم	العبارات	مظاهر قوة قطاع الخدمات في الولايات المتحدة الأمريكية	عوامل قوة قطاع الخدمات في الولايات المتحدة الأمريكية
1	ارتفاع مستوى دخل الفرد.		✓
2	مساهمته الكبيرة في تشغيل الأيدي العاملة.	✓	
3	ارتفاع نسبة إسهامه في الناتج المحلي الإجمالي.	✓	
4	ارتفاع نسبة التحضر.		✓
5	الثورة التكنولوجية.		✓
6	ارتفاع حصة الخدمات الأمريكية من صادرات الخدمات العالمية.	✓	
7	ظهور مؤسسات خدمية متخصصة.		✓

الرقم	العبرة	البلدان الصناعية الجديدة	البلدان النقطية
1	تتكون من النمر الآسيوية والبرازيل والمكسيك.	✓	
2	بلدان ذات قاعدة صناعية متنوعة.	✓	
3	بلدان منتجة ومصدرة للمحروقات.		✓
4	بلدان ذات مؤشر تنمية مرتفع.		✓
5	بلدان تنتمي الى الجنوب مثل اليمن واتغولا والفيون.		✓
6	بلدان حققت نمواً اقتصادياً مرتفعاً ومتواصلاً.	✓	
7	بلدان تتميز بتسلسلها عالية الإنتاج (المرور من الصناعات ذات التكنولوجيا البسيطة الى الصناعات ذات التكنولوجيا العالية وذات القيمة المضافة).	✓	

الرقم	العبرة	بلدان التالوت	البلدان المتقدمة الاخرى
1	بلدان أوروبا الشرقية والوسطى غير الأعضاء في الاتحاد الأوروبي.		✓
2	بلدان تتميز بمرحلة انتقال من النظام الاشتراكي الى اقتصاد السوق.		✓
3	تضم الولايات المتحدة الامريكية والاتحاد الأوروبي واليابان.	✓	
4	استنارها بأكبر عدد من الشركات عبر القطرية.	✓	
5	يتجسم نفوذها الجغراسياسي في التفوذ اللغوي والاقتصادي والثقافي في بقية بلدان العلم.	✓	
6	بلدان بصدد التحول مثل روسيا.		✓
7	استنارها بأكبر نسبة في البحث والتطوير.	✓	

السؤال الثاني:- علل ما يأتي:

- توافر اليد العاملة في البلدان الحديثة التصنيع.
 - كثافة النزوح الريفي مثل البرازيل وكوريا الجنوبية.
 - أهمية الهجرة الصينية إلى تايوان وهونغ كونغ وسنغافورة.
- قلة استثمار الغابات في العالم.
 - طول فصل الجليد في العروض العليا.
 - كثافة النباتات في المناطق المدارية.
 - كثرة المستنقعات في المناطق المدارية مما يجعل شق الطرقات وصيانتها صعباً.
 - بعد الغابات عن موانئ التصدير مما يرفع تكاليف النقل.
- تجذب المدن بعض الصناعات.
 - لاحتوائها على اليد العاملة الوافرة والمختصة.
 - اعتبارها سوقاً استهلاكية.
 - مركزاً للرساميل ولقرار الاقتصادي وعقدة مهمة للمواصلات والاتصالات.

4- يمثل الاتحاد الأوروبي قوة زراعية عالمية كبرى.

- ضخامة الإنتاج.
- تحقيق الاكتفاء الذاتي
- الحصة المرتفعة في الصادرات العالمية للمنتجات الزراعي
- تنامي تخصصها المجالي

5- توطن الصناعات الحديثة ذات التكنولوجيا العالية في المناطق الجميلة ذات المشاهد الخلابة في العالم مثل صوفيا أنتيوليس بجنوب فرنسا .

- توفر للصناعات ولكوادرها تجهيزات الاستقبال كالفنادق وتجهيزات النقل والاتصالات.
- توفر مؤسسات البحث كالمختبرات الجامعية ومراكز البحث العلمي.

6- أهمية القطاع الخدمي في الإتحاد الأوروبي .

- مساهمته الكبيرة في تشغيل الأيدي العاملة
- مساهمته العالية في الناتج المحلي الخام
- الحصة العالية في المبادلات العالمية للخدمات
- تنوع أنشطته وتميزها

7- يقوم النمو الاقتصادي في البلدان حديثة التصنيع على التصدير المكثف خصوصا السلع الاستهلاكية لأن السوق الداخلية في البلدان حديثة التصنيع ضيقة لذا يقوم النمو فيها على التصدير المكثف وخصوصاً السلع الاستهلاكية كالألبسة وبعض المواد الثقيلة كالصلب.

8- اهتمت الشركات المتعددة الجنسيات بالاستثمار في البرازيل .

- رخص اليد العاملة وتوفرها.
- التسهيلات المقدمة من الدولة للاستثمار.
- الاستقرار السياسي.
- وفرة الموارد الطبيعية.

9- التقدم الاقتصادي لإقليم الجنوب و الجنوب الشرقي في البرازيل .

- تنوع الأنشطة الزراعية في المنطقة أثناء أزمة الثلاثينات الاقتصادية.
- انطلاق حركة التصنيع في الإقليم الجنوب الشرقي.
- استقطاب ساو باولو للاستثمارات الأجنبية الواردة للبلاد

10- تعاني الدول حديثة التصنيع من صعوبات داخلية .

- التفاوت الاجتماعي الذي يتمثل في تباين المداخل بين الفئات الاجتماعية.
- تراكم المشاكل البيئية نتيجة نمو الحركة التصنيعية والتوسع الحضري، كتفاقم التلوث الهوائي والمائي في بعض البلدان مثل تايوان.

11- ضخامة الواردات الأمريكية .

- القدرة الاستهلاكية العالية للسكان
- عجز الإنتاج الوطني عن تغطية المتطلبات الداخلية من المواد الأولية ومواد الطاقة وبعض المنتجات الصناعية

12- بروز إقليم حزام الشمس في الولايات المتحدة " العوامل المحفزة " .

- أزمة الشمال الشرقي
- اليد العاملة الرخيصة للمهاجرين المكسيكيين
- وفرة مصادر الطاقة بتكساس
- ظروف الحرب الباردة
- انفتاح كاليفورنيا على واجهة المحيط الهادي.

13-قوة قطاع الخدمات في الولايات المتحدة .

- ارتفاع مستوى دخل الفرد: الذي أسهم في نمو استهلاك الخدمات العادية التي ازداد تنوعها كالسياحة والنقل والحراسة والخدمات الصحية...
- ارتفاع نسبة التحضر: الذي نشط الطلب على الخدمات من قبل سكان المدن وخاصة الكبرى منها.
- الثورة التكنولوجية: التي عممت استخدام الآلة على نطاق واسع وأسهمت في تسريح عدد كبير من العمال الصناعيين والزراعيين تحول جلهم إلى قطاع الخدمات.
- تزايد عدد المؤسسات الخدمية المختصة في المدن الكبرى مثل مؤسسات النقل والصيانة والاستشارات الهندسية.

14-تراجع صناعة الفولاذ في الولايات المتحدة .

- بسبب المنافسة من قبل البلدان الأجنبية وخاصة اليابان و الدول الصناعية الجديدة

15-امتلاك الثالوث كل مؤهلات القوة والسيطرة على الاقتصاد العالمي .

- احتكاره لأكثر من نصف الرصيد العالمي للاستثمارات - نفوذ عملاته الدولار والين والدولار.

- نفوذه المالي الذي تمارسه بورصات نيويورك وشيكاغو وباريس وطوكيو .

- نفوذه الجغراسياسي الذي يتجسم في النفوذ اللغوي والاقتصادي

- استئنثاره بأكبر عدد من الشركات المتعددة الجنسيات" عبر القطرية".

- استئنثاره بأكبر نسبة في البحث والتطوير في العالم.

- عضوية بلدانه في المنظمة العالمية للتجارة

16-تراجع الرعي الواسع في المناطق شبه الجافة و الصحراوية .

- بسبب توطين البدو في أغلب البلدان الأفريقية والآسيوية.

السؤال الثالث :- وضح ما يأتي.

1-النتائج السياسية لتوقيع اتفاقية ماستريخت عام 1992م.

- اتباع سياسة خارجية مشتركة.
- توسيع صلاحيات البرلمان الأوروبي.
- تغيير مسمى السوق الأوروبية المشتركة إلى الاتحاد الأوروبي.
- السعي إلى تطبيق سياسة دفاع موحدة.

3-مظاهر قوة قطاع الخدمات في الولايات المتحدة الأمريكية.

- مساهمته الكبيرة في تشغيل الأيدي العاملة، إذ بلغت نسبة العاملين في هذا القطاع 80 % من مجموع الأيدي العاملة مقابل 19 % فقط في الصناعة و 1 % في الزراعة سنة 2011.
- قطاع يشهد نموا متواصلا مقارنة بالقطاعات الأخرى.
- ارتفاع نسبة إسهامه في الناتج المحلي الإجمالي: 79 % سنة 2011 مقابل 66 % سنة 1987.
- ارتفاع حصة الخدمات الأمريكية من صادرات الخدمات العالمية

4-أهداف الزراعة العلمية متعددة الإنتاج .

- تجنب فائض الإنتاج وهبوط الأسعار.
- الحفاظ على خصوبة التربة.
- تلبية حاجات السوق.

6- المزايا الطبيعية للمجال الجغرافي للاتحاد الأوروبي .

- مزايا الموقع
- التضاريس غير معيقة للأنشطة الاقتصادية
- مناخات ملائمة للنشاط الزراعي

7- خصائص الزراعات الرأسالية في الدول النامية .

- تمويلها من قبل مؤسسات زراعية كبرى.
- تشغيلها للعمال المحليين الذين يتقاضون أجورا متدنية.
- توسعها على حساب الزراعات المعيشية.
- استعمالها الممكنة بكثافة.

8- عوامل ترابط المجال العالمي .

- السوق المنظم
- الشركات المتعددة الجنسيات
- شبكات النقل والاتصال العالمية

9- تجتذب الشواطئ المؤسسات الصناعية .

- لتوفر المياه اللازمة للتصنيع.
- إمكانية الاستيراد والتصدير عبر الموانئ.

10- لماذا تشهد زراعة بعض الواحات تراجعا في الوقت الحالي ؟

- انجذاب الشباب نحو الحياة المدنية.
- تحول بعضها الى مناطق سياحية.
- شح الموارد المائية.

11- دعائم القفزة الاقتصادية البرازيلية .

- تعاقب نماذج التنمية
- رصيدها البشري الكبير
- الثروات الطبيعية والتحكم في المجال
- الاستثمارات الأجنبية والاقتراض الخارجي

12- خصائص زراعة القمح والحبوب في الولايات المتحدة وروسيا وأستراليا .

- الاستعمال الكثيف للألات والتقنيات في كل مراحل العمل.
- الانتاج الضخم والمردود المرتفع. تخزين الإنتاج في صوامع كبيرة.
- تصدير جزء كبير من الإنتاج.
- اتساع مساحات الأراضي المزروعة

13- النتائج الاقتصادية لتوقيع اتفاقية ماستريخت عام 1992م.

- التقريب بين اقتصادات الدول الأعضاء.
- تطبيق سياسة نقدية موحدة.
- اتخاذ الايكو كعملة مشتركة.

14- ما أسباب التحول في المجال الزراعي للولايات المتحدة ؟

- الأضرار البيئية الناجمة عن الزراعة أحادية المحصول.
- البحث العلمي الذي مكن من تطوير المحاصيل المعدلة جينياً.
- الأزمات الاقتصادية.

- التوسع المشهود في الري خاصة في المناطق جينياً

15- لماذا ارتفع المستوى التعليمي والتأهيلي

- لأن هذه البلدان خصصت حصة مهمة من الناتج المحلي الإجمالي للتعليم والتدريب .

16 – ما دور الدولة في التوطين الصناعي؟

- وضع السياسة الصناعيّة واتّخاذ التدابير القانونيّة والماليّة لتنفيذها.
- منحها للمؤسّسات قروضا بفوائد ميسّرة.
- إعفاء المؤسّسات من الضّرائب والرّسوم.
- إعادة تنشيط المناطق الصناعيّة القديمة لتحديثها.
- تأهيل اليد العاملة.
- تحديد المناطق الحرّة المخصّصة للصناعات المعدّة للتصدير.
- سنّ التشريعات البيئيّة.

17- وضح الحاجات البشرية وفق هرم ما سلو ؟

- حاجات أساسية مشتركة . " بعضها مادي مثل الغذاء والسكن والكساء .. وبعضها غير مادي مثل الأمن والحماية والانتماء
- حاجات ثانوية غير مشتركة . بعضها مادي مثل السلع الاستهلاكية مثل العطور .. وبعضها غير مادي مثل الترفيه

18- ما أسباب انتقال صناعة النسيج من الشمال الشرقي إلى الجنوب والحدود الأمريكية المكسيكية ؟

- رخص الأيدي العاملة .
- الاستفادة من الإعفاءات الضريبية .

السؤال الرابع:

-أولاً: صنف العناصر الآتية بوضع كل منها في مكانه المناسب من الجدول التالي.

1-الزراعات الكثيفة:

- تنتشر داخل الصحاري على شكل جزر خضراء.
- تنتشر في المناطق الجافة كوادي النيل وسهل الفرات وسهل الهندوس.
- الجمع بين الحاجات المحلية وحاجات السوق الدولية.
- تجمع بين زراعة الأشجار المثمرة والخضر التي تستفيد من ظل النخيل.

2-المجالات الصناعية:

- عبارة عن مناطق تتركز فيها الجامعات ومراكز البحوث.
- ضعف تأهيل اليد العاملة.
- ضعف القدرة الشرائية للسكان.
- ترجع الصناعات القديمة في وسط المدن بسبب قدم تقنياتها.

3-دعائم القوة الصناعية والزراعية الأمريكية:

- وفرة الكفاءات والمبدعين.
- تنوع أصول المهاجرين وأعرافهم المختلفة.
- تضاريس شاسعة ومفيدة.
- مناخات متنوعة ومفيدة.

زراعة الواحات	الزراعة المروية
-تنتشر داخل الصحاري على شكل جزر خضراء. -تجمع بين زراعة الأشجار المثمرة والخضر التي تستفيد من ظل النخيل	-تنتشر في المناطق الجافة كوادي النيل وسهل الفرات وسهل الهندوس. -الجمع بين الحاجات المحلية وحاجات السوق الدولية
المجالات الصناعية في البلدان النامية	المجالات الصناعية في البلدان المتقدمة
-ضعف تأهيل اليد العاملة. -ضعف القدرة الشرائية للسكان.	-عبارة عن مناطق تتركز فيها الجامعات ومراكز البحوث -ترجع الصناعات القديمة في وسط المدن بسبب قدم تقنياتها
الدعائم البشرية والتنظيمية	الدعائم الطبيعية
-وفرة الكفاءات والمبدعين. -تنوع أصول المهاجرين وأعرافهم المختلفة.	-تضاريس شاسعة ومفيدة. -مناخات متنوعة ومفيدة.

1. أنواع الزراعات التقليدية: -

- الرعي الواسع. - الزراعة المروية. - زراعة الأرز. - الزراعة المتنقلة.

2. الشمال (الدول المتقدمة): -

- تتكون من بلدان أوروبا الشرقية والوسطى غير الأعضاء في الاتحاد الأوروبي ومجموعة البلدان المستقلة.
- تضم (الولايات المتحدة الأمريكية -الاتحاد الأوروبي-اليابان). - استثنائه بأكبر عدد من الشركات عبر القطرية. - تمر هذه البلدان منذ بداية التسعينات بمرحلة انتقال من النظام الاشتراكي إلى اقتصاد السوق.

3. الخدمات في الولايات المتحدة الأمريكية: -

- تضم الخدمات المنزلية والفندقية وخدمات المطاعم. - يشجع هذا النصف من الخدمات الاستهلاك العائلي.
- تضم خدمات التأهيل الفني والمالي والاستشارة الهندسية. - يمثل هذا النصف خصوصية أمريكية.
- تضم خدمات البحث في بعض الأقاليم المحركة للاقتصاد الأمريكي. - الإقليم الشمال الشرقي يسيطر على نسبة 33% من الخدمات القيادية.

الزراعات الكثيفة	الزراعات الواسعة
- الزراعة المروية و الوسطى - زراعة الأرز	- الرعي الواسع - الزراعة المتنقلة
البلدان المتقدمة الاخرى	بلدان الثالث
- تتكون من بلدان أوروبا الشرقية ومجموعة البلدان المستقلة - تمر هذه البلدان بمرحلة الانتقال من النظام الاشتراكي إلى اقتصاد السوق	- الولايات المتحدة - اليابان - الإتحاد الأوروبي - استثنائه بأكبر عدد من الشركات عبر القطرية
الخدمات الموجهة للمؤسسات	الخدمات الموجهة للأفراد
- تضم خدمات التأهيل الفني والمالي والاستشارة الهندسية - تضم خدمات البحث في بعض الأقاليم المحركة للاقتصاد - إقليم الشمال الشرقي يسيطر على نسبة 33% من الخدمات المالية	- تضم الخدمات المنزلية والفندقية وخدمة المطاعم - يُمثل هذا النصف خصوصية أمريكية - يشجع هذا النصف من الخدمات الاستهلاك العائلي

السؤال الرابع:

أولاً: صنف العناصر الآتية بوضع كل منها في مكانه المناسب من الجدول التالي.
المراكز والأطراف: دول العالم النامي – الدول الصناعية – تراكم الرساميل والتقنيات الحديثة-
تستخرج المواد الأولية – تتوافر فيها مصادر الطاقة – تحرك الاقتصاد الدولي.

دول الأطراف	دول المراكز
– دول العالم النامي -تتوافر فيها مصادر الطاقة – تستخرج المواد الأولية	– الدول الصناعية -تراكم الرساميل والتقنيات الحديثة – اتحرك الاقتصاد العالمي



ثانياً: أكمل الجدول التالي بكتابة مدلول الأرقام المثبتة على خريطة العالم.

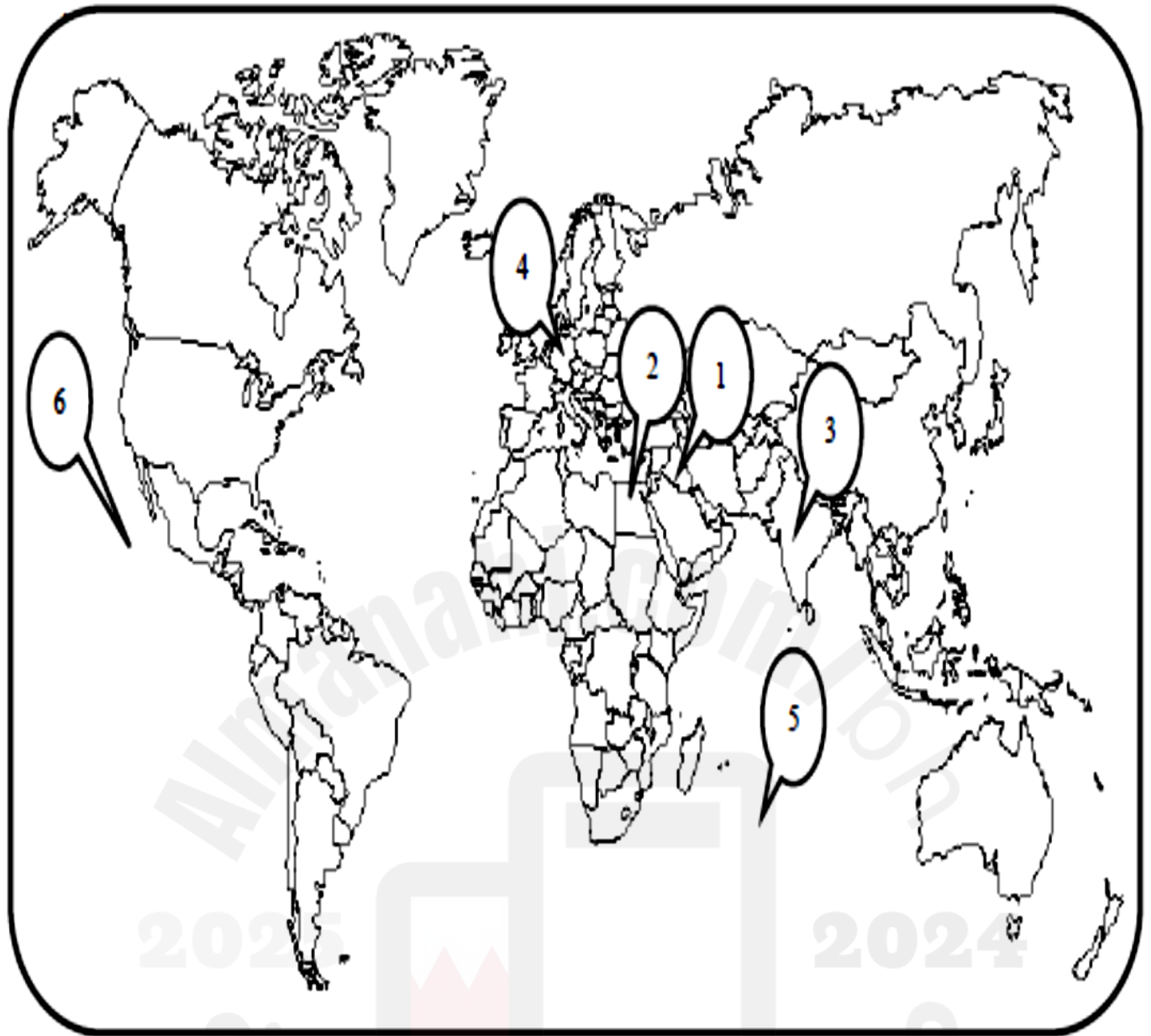


مدلول الرقم	الرقم	العنصر
أفريقيا	1	قارات.
أمريكا الشمالية	2	
الهادي	3	مسطحات مائية.
المحيط الهندي	4	
السعودية	5	دولة تنتشر بها زراعة الواحات.
الصين	6	دولة ذات سوق استهلاكية كبيرة.
روسيا	7	دولة ذات صناعات متقدمة.

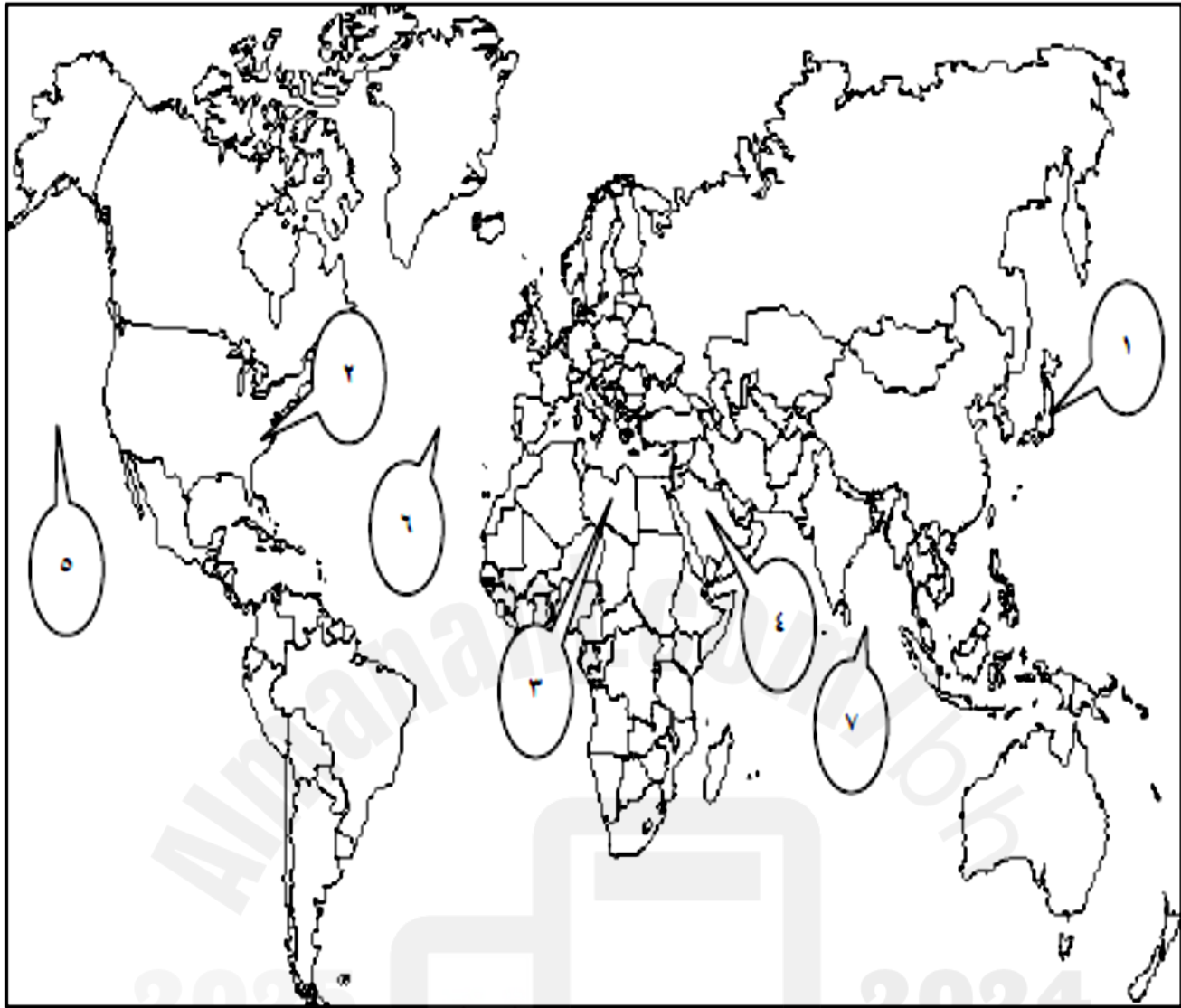
ثانيا: أكمل الجدول التالي بكتابة مدلول الأرقام المثبتة على خريطة العالم.



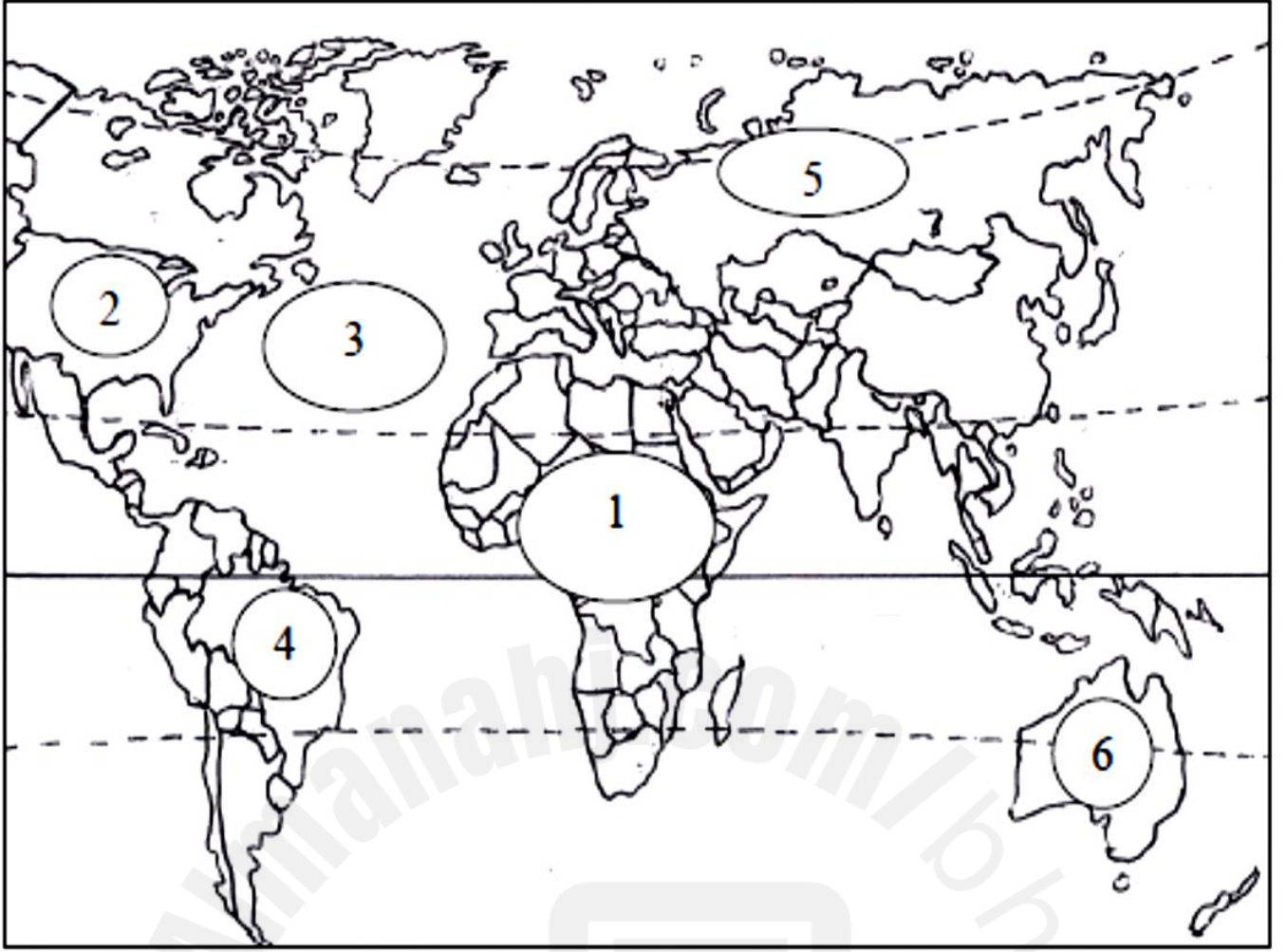
العبارة	الرقم	مدلول الرقم على الخريطة
بلدان الثالوث التي تعتبر من الأقطاب المحركة للاقتصاد العالمي.	1	اليابان
	2	الإتحاد الأوروبي
المسطحات المائية.	3	المحيط الهادي
	4	المحيط الأطلسي
دول تشتهر بزراعة الواحات تم تحديثها وتأمين مستلزمات البقاء فيها.	5	السعودية
دول حديثة التصنيع.	6	المكسيك



العبارة	الرقم	ملول الرقم على الخريطة
دولة تنتشر فيها الزراعة المروية.	1	العراق
بلدان نامية ذات مؤشر تنمية متوسط.	2	مصر
	3	الهند
دولة ضمن المجموعة الأوروبية للفحم والفلاذ.	4	ألمانيا
مسطحات مائية.	5	المحيط الهندي
	6	المحيط الهادي



العبارة	الرقم	مدلول الرقم على الخريطة
بلدان الثالوث (البلدان المتقدمة)	١	اليابان
	٢	الولايات المتحدة
البلدان النقطية	٣	ليبيا
	٤	السعودية
مسطحات مائية	٥	المحيط الهادي
	٦	المحيط الأطلسي
	٧	المحيط الهندي



مدلول الرقم على الخريطة	الرقم	العبرة
أفريقيا	1	قارة
الولايات المتحدة	2	بلد من بلدان النالوت
المحيط الأطلسي	3	مسطحات مائية
البرازيل	4	دولة حديثة التصنيع
روسيا	5	دولة تسود بها زراعة القمح والحبوب
أستراليا	6	دولة متقدمة