

تم تحميل هذا الملف من موقع المناهج البحرينية

الملف مذكرة و ملخص كامل لمقرر أجا

[موقع المناهج](#) ⇐ ⇐ [الصف الأول الثانوي](#) ⇐ [المواد الاجتماعية](#) ⇐ [الفصل الثاني](#)

روابط مواقع التواصل الاجتماعي بحسب الصف الأول الثانوي



روابط مواد الصف الأول الثانوي على تلغرام

[الرياضيات](#)

[اللغة الانجليزية](#)

[اللغة العربية](#)

[التربية الاسلامية](#)

المزيد من الملفات بحسب الصف الأول الثانوي والمادة المواد الاجتماعية في الفصل الثاني

<a href="#">مذكرات وطن 101</a>	1
<a href="#">ملخص مقرر أجا 102</a>	2
<a href="#">مراجعة مقرر وطن 101</a>	3
<a href="#">مذكرة ملخصة مقرر أجا 102</a>	4
<a href="#">خرائط مقرر أجا 102</a>	5

## الدرس الأول

### الاقتصاد العام

#### ١ - عرف المصطلحات الآتية:

- الاقتصاد: مجمل النشاطات التي يمارسها الإنسان لتحقيق الحاجات.
- المقايضة: عملية تبادل السلع والخدمات دون استخدام النقود.
- العرض: طرح السلع في الأسواق للبيع.
- الطلب: إقبال المستهلكين على شراء سلع معينة ضمن فترة زمنية معينة.
- السوق: المكان الذي يتم فيه تبادل السلع والخدمات ضمن عملية عرض وطلب.
- المجال الجغرافي: الحيز من الأرض الذي نظمته الإنسان من أجل إنتاج سلعة أو خدمة معينة.
- آلية السوق: تحرك أسعار السلع وفقاً للعرض والطلب.

#### ٣ - علل: الحاجات أساس الاقتصاد.

لأن حياة المجتمعات تقوم على حاجات ضرورية متعددة وعن طريق تلبية حاجات هذه المجتمعات فإنها تبني الاقتصاد ، كلما تطورت المجتمعات وامتدت تنوعت حاجاتها وتضاعفت فينشط بذلك اقتصادها.

#### ٢ - حدد الحاجات البشرية وفقاً لسلم أولوياتها.

١. الحاجات الفيزيائية      ٢. الأمان      ٣. الانتماء      ٤. التقدير      ٥. تحقيق الذات

#### ٣ - صنف الحاجات التالية حسب المكان المخصص لها في الجدول التالي:

( الانتماء - السكن - التجديد - الغذاء - الاكتشاف - الكساء - الحماية - الأمن )

الحاجات المادية	الحاجات المعنوية
السكن - الغذاء - الكساء	الانتماء - التجديد - الاكتشاف - الحماية - الأمن

#### ٤ - علل: يتجه الإنسان إلى التخصص الوظيفي لتلبية حاجاته.

- تنوع الحاجات وعجز الإنسان عن تلبيةها كاملة بالمهارة والجودة المطلوبة.
- توفير الكلفة والوقت.

#### ٥ - قارن بين الآتي:

سوق العمل في الدول الصناعية	سوق العمل في الدول النامية
<ul style="list-style-type: none"><li>تتعدد فيه الوظائف بتعدد الحاجات لزيادة التطور الاقتصادي والرخاء الاجتماعي.</li><li>تعمق الاختصاصات وتعقدتها</li></ul>	<ul style="list-style-type: none"><li>المهن والوظائف فيها أقل تعقيداً.</li><li>لا تتطلب مزاولتها تأهيلاً وتدريباً كبيرين.</li><li>تشهد تحولات مهمة في بعض ميادين العمل.</li></ul>

## **كتابة وطباعة: السيد احمد السيد مجيد السيد علي مقرر: الجغرافيا الاقتصادية (أجا ١٠٢)**

٦ - حدد الهدف من التخصص في الإنتاج وتقسيم العمل.

- رفع المهارة.
- الحد من هدر الوقت.
- إمكانية استعمال الآلات وتطويرها.
- زيادة الإنتاجية.
- تلبية الطلبات.

٧ - كيف يتم تحديد قيمة السلع والخدمات؟

يحدد العمل قيمة الأشياء . فالسلع والخدمات التي تتطلب مهارات وجهوداً كبيرة تكون عادة غالية الثمن أما السلع والخدمات البسيطة فتكون رخيصة الثمن لكن هذه القيم تتأثر مباشرة بأوضاع السوق.

٨ - فسر مفهوم السوق في عصرنا الحاضر.

أصبح يشمل مجموع العرض والطلب فيما يخص سلعة معينة ويشمل أيضاً عمليات التبادل التجاري بين الدول.

٩ - ما أثر العرض والطلب في الأسعار؟

- إذا زاد الطلب وقل العرض ارتفعت الأسعار.
- إذا زاد العرض وقل الطلب انخفضت الأسعار.

١٠ - حدد أهداف الدعاية المبرمجة.

- خلق حاجات جديدة لدى المستهلكين.
- بيع كميات أكبر من السلع.
- زيادة الطلب.
- إقناع الناس وتحفزهم على شراء أصناف معينة.

١١ - عدد أقسام القطاعات الاقتصادية الأساسية.

- الزراعة: تشمل الإنتاج الزراعي والحيواني والصيد واستثمار الموارد الغابية.
- الصناعة: تشتمل على الصناعات الاستخراجية والتحويلية والحرفية وصناعة البناء.
- الخدمات: تشتمل على التجارة والمواصلات والمال والإدارة والخدمات العامة والسياحية.

١٢ - كيف تتربط المجالات الجغرافية على أنواعها الزراعية والصناعية والتجارية؟

- طرق المواصلات والاتصالات.
- تبادل السلع والخدمات والأموال والأشخاص.

١٣ - متى يتماسك المجال؟ ومتى يتجزأ؟

يتمسك المجال الجغرافي إذا كان قوياً ونشطاً ويتجزأ إذا كان ضعيفاً.

## الدرس الثاني

### مقومات المجال الزراعي

١ - عرف المصطلحات الآتية:

- المجال الزراعي: المنطقة الجغرافية المعدة لإنتاج زراعي معين.
  - التربة: مورد زراعي أساسي يوفر للنبات غذاءه اللازم.
  - الرساميل الزراعية: الأموال المتراكمة لدى المزارعين أو المستثمرين الزراعيين من جراء العمل الزراعي.
- ٢ - عدد المقومات الطبيعية والمقومات البشرية في المجال الزراعي.

المقومات الطبيعية	المقومات البشرية.
<ul style="list-style-type: none"><li>المناخ.</li><li>التربة.</li><li>المياه.</li><li>التضاريس.</li></ul>	<ul style="list-style-type: none"><li>اليد العاملة.</li><li>الرساميل الزراعية.</li><li>التقنيات ووسائل الإنتاج.</li><li>المختبرات ومراكز الأبحاث.</li><li>المواصلات والاتصالات.</li><li>الأسواق.</li></ul>

٣ - قارن بين القمح والأرز:

الأرز	القمح	
تتراوح بين ٥° و ٣٧° مئوية.	تتراوح بين ٢٤° و ٢٧° مئوية.	درجة الحرارة
يقارب ١٢٠٠ ملم.	تقارب ٨٠٠ ملم	كمية الأمطار
يزرع في المناطق المدارية بين خطي العرض ٤٥° شمالاً و ٤٠° جنوباً.	تتركز زراعته بين درجتي العرض ٣٠° والـ ٥٥° شمالاً.	مكان زراعة النبات

٤ - حدد نوع التربة التي يجود زراعة المحاصيل التالية:

- الأرز: التربة الفيضية.
  - القمح: تربة مسامية قليلة الحموضة.
  - الشاي: التربة السوداء الغنية.
  - النخيل: ينمو في تربة رملية ملحية.
  - القطن: ينمو في تربة ترتفع فيها نسبة الحموضة.
- ٥ - كيف تتحكم الهندسة الزراعية.

تعمل على التحكم بالتربة عن طريق الأسمدة الكيماوية أو عن طريق الزراعة في تربة وجو اصطناعيين حتى أصبح بالإمكان إنتاج محاصيل عديدة بطرق اصطناعية.

## كتابة وطباعة: السيد احمد السيد مجيد السيد علي مقرر: الجغرافيا الاقتصادية (أجا ١٠٢)

٦ - علل: تعاني التربة اليوم بفعل التكتيف الزراعي من التدهور المستمر.

بسبب تراجع مردودها عما كان عليه في السابق وأصبح التصحر مشكلة في الأقاليم الممطرة والمعتدلة المناخ.

٧ - أكمل ما يلي:

- الحضارة السومرية قامت في بلاد الرافدين ، والفرعونية في وادي النيل ، والهندية على أحواض الغانج وبراهمابرتوا.

٨ - قارن بين وسائل الري قديما ووسائل الري حديثا.

وسائل الري قديما	وسائل الري حديثا
<ul style="list-style-type: none"> <li>• شق قنوات الري.</li> <li>• أقامت السدود الصغيرة.</li> <li>• استغلت مياه الينابيع والواحات مستعملة الشادوف والناعورة.</li> </ul>	<ul style="list-style-type: none"> <li>• تطور تقنيات الري وطرق استغلال المياه الجارية والجوفية.</li> <li>• إنشاء السدود الضخمة.</li> <li>• ضخ المياه الجوفية.</li> </ul>

٩ - بين أثر التضاريس في المجال الزراعي؟

- التضاريس تؤثر في المناخ والتقنيات.
- في السهول والهضاب يسهل استعمال الآلات ونقل الإنتاج.
- في المناطق الجبلية فاستصلاح الأراضي مكلف وشاق لأن العمل يتطلب طاقة عالية وجهداً كبيراً.

١٠ - قارن بين الآتي:

العمالة الزراعية في الدول النامية	العمالة الزراعية في الدول المتقدمة
<ul style="list-style-type: none"> <li>• نسبة المزارعين مرتفعة (٥٠%)</li> <li>• الإنتاجية متدنية.</li> <li>• غياب الكفاءة والتنظيم.</li> <li>• النقص في الآلات والمعدات.</li> <li>• الاعتماد على أدوات بدائية وتقنيات بسيطة وموروثة.</li> <li>• عقلية الفلاح تشكل عقبة أمام تحديث الأرياف.</li> </ul>	<ul style="list-style-type: none"> <li>• نسبة العمالة منخفضة (١٠%).</li> <li>• الإنتاجية مرتفعة.</li> <li>• وجود الكفاءة وتنظيم العمل.</li> <li>• مكننة العمل.</li> </ul>

١١ - علل لما يأتي:

١. ارتفاع إنتاجية المزارع في الدول المتقدمة.

- بسبب وجود الكفاءة والتنظيم في العمل.
- مكننة الإنتاج "استخدام الآلات في جميع مراحل العمل.
- ٢. انخفاض وتدني إنتاجية الفلاحين في الدول النامية.
- غياب الكفاءة والتنظيم.
- النقص في الآلات والمعدات.
- الاعتماد على أدوات بدائية وتقنيات بسيطة وموروثة.
- عقلية الفلاح تشكل عقبة أمام تحديث الأرياف.

## **كتابة وطباعة: السيد احمد السيد مجيد السيد علي مقرر: الجغرافيا الاقتصادية (أجا ١٠٣)**

١٢ - عرف تقنيات الري الحديثة والتقنيات التقليدية.

تقنيات الري التقليدية: التي تعتمد على السدود الصغيرة ومياه الواحات والشادوف والناعورة.

تقنيات الري الحديثة: التي تعتمد على إنشاء السدود الضخمة وضخ المياه الجوفية واستغلال المياه الجارية.

١٣ - كيف يتم تقسيم التقنيات الزراعية في عالمنا الراهن؟

زراعة تقليدية: القائمة على طاقة الإنسان والحيوان.

زراعة حديثة: تستعمل الطاقة الكهربائية والحرارية.

١٤ - قارن بين الآتي:

الهندسة الزراعية	الهندسة الوراثية
<ul style="list-style-type: none"><li>• تحسين طرق الري.</li><li>• زيادة خصوبة التربة.</li><li>• إنتاج محاصيل عديدة في تربة اصطناعية وفي جو اصطناعي.</li></ul>	<ul style="list-style-type: none"><li>• تأصيل أنواع متعددة من الحيوان والنبات.</li><li>• تتميز بإنتاجية عالية.</li><li>• قدرة كبيرة على مقاومة الأمراض.</li><li>• التكيف مع الشروط المناخية.</li></ul>

١٥ - حدد دور المواصلات والمختبرات ومراكز الأبحاث في المجال الزراعي.

### المواصلات:

- تسهل حركة العمالة والمحاصيل ومستلزمات الإنتاج.
- تربط المنتج الزراعي بالأسواق الاستهلاكية الصناعية.
- نقل مستلزمات الإنتاج.

### المختبرات والأبحاث:

- تحديث التقنيات المختلفة بهدف توفير الطاقة وزيادة الإنتاجية.
- تجري الاختبارات على الأدوية الزراعية والأنواع المؤصلة من النبات والحيوان.
- تحسين طرق الري وزيادة خصوبة التربة.
- إنتاج محاصيل عديدة في تربة اصطناعية وفي جو صناعي.

١٦ - بين أثر الأسواق الزراعية في اختيار الأنواع الزراعية.

إذا زاد الطلب على محصول زراعي ارتفع سعره وبدأ المزارعون في زراعته وإذا قل الطلب على محصول زراعي انخفض سعره وتلاشت زراعته.

## الدرس الثالث

### المجالات الزراعية في العالم

١ - عدد المجالات الزراعية التقليدية؟ مع الشرح؟

(١) الزراعة الانتشارية: الزراعة التي تعتمد على توسيع المساحة المزروعة لزيادة الإنتاج.

وهي نوعان:

(أ) الرعي الانتشاري: الأسلوب الوحيد لاستثمار الموارد الزراعية في البادية ، ونظرا لفقر الغطاء النباتي تنتقل قطعان الإبل والأغنام لمسافات طويلة بحثاً عن المراعي.

(ب) الزراعة المتنقلة تعتمد على الحرائق: تسود في مناطق السافانا والغابات الاستوائية ، تستعمل النار لاستصلاح الأرض ويكون رمادها بمثابة سماد ، وبعد استغلال الأرض لمدة ٣ سنوات تترك منهكة ، وينتقل الفلاحون لاستصلاح أراض جديدة متبعين الأسلوب نفسه.

(٢) الزراعة المكثفة وتشمل:

(أ) السهول المروية في المناطق الجافة: تساعد خصوبة التربة والكثافة السكانية على ممارسة الزراعة المكثفة في بعض المناطق الجافة ، وأدى إلى شق قنوات الري واستخدام الضخ الآلي وبناء السدود وتوصيل الكهرباء إلى تحديث هذه الزراعة.

(ب) زراعة الواحات: تجمع زراعة الواحات بين البستنة وزراعة الحبوب أو الخضر التي تستفيد من ظل النخيل الذي يخفف من النتح والتبخر.

(ت) زراعة الأرز في آسيا الموسمية: بسبب توافر أفضل الشروط لزراعة الأرز فهناك حرارة عالية وكمية وافرة من المياه يرتفع مستواها في الحقول أثناء نمو النبتة، وعدد كافٍ من الأيدي العاملة التي تنجز المهام الزراعية في الوقت المناسب والدورة النباتية للأرز سريعة.

٢ - قارن بين الرعي الانتشاري والزراعة المتنقلة :

الزراعة المتنقلة	الرعي الانتشاري
<ul style="list-style-type: none"><li>• تنتشر بمناطق السافانا والغابة الاستوائية.</li><li>• تستعمل النار لاستصلاح التربة.</li><li>• هذه الزراعة تستهلك مساحات واسعة من أجل عدد قليل من البشر.</li><li>• يقسم القرويون مجال القرية إلى ٣ مجالات.</li></ul>	<ul style="list-style-type: none"><li>• الأسلوب الوحيد لاستثمار الزراعي بالبادية.</li><li>• تضطر القطعان لقطع مسافات طويلة لأجل الكلاً.</li><li>• تفرض هذه الحياة على الرعيان الانكفاء اقتصاديا واجتماعيا.</li><li>• تتراجع البداة حالياً بشكل مستمر.</li></ul>

٣ - في بعض الأحيان يجمع القرويون بين الزراعة المستقرة والمنتقلة فيقسمون مجال القرية إلى ثلاث مجالات:

- المجال الأول: هو القرية نفسها حيث البيوت والبساتين التي تستفيد من السماد الطبيعي.
- المجال الثاني: يقع على أطرف القرية وفيه زراعة دائمة معيشية أو تجارية ويطبق فيه نظام المناوبة الزراعية.

## كتابة وطباعة: السيد احمد السيد مجيد السيد علي مقرر: الجغرافيا الاقتصادية (أج ١٠٢)

- المجال الثالث: يقع بعيداً عن القرية وفيه زراعات متنقلة تعتمد على الحرائق في منطقة الغابة أو الأعشاب حيث تبور الأرض أحياناً أكثر من ١٠ سنوات.

٤ - قارن بين زراعة السهول المروية وزراعة الواحات :

زراعة الواحات	زراعة السهول المروية
<ul style="list-style-type: none"> <li>جزر خضراء في الصحراء لتوفر المياه.</li> <li>تجمع بين البستنة وزراعة الحبوب أو الخضر.</li> <li>ينوع الفلاحون محاصيلهم لتلبية احتياجاتهم.</li> <li>تشهد تراجعاً بسبب انجذاب الشباب للمدن.</li> </ul>	<ul style="list-style-type: none"> <li>توافر خصوبة التربة والكثافة السكانية.</li> <li>أدى شق القنوات والضخ الآلي وبناء السدود لتحديثها.</li> <li>تندمج في السوق تدريجياً.</li> </ul>



٥ - علل: زراعة الأرز في آسيا الموسمية.

- الحرارة المرتفعة.
- عدد كاف من الأيدي العاملة.
- عدد خصائص المجالات الزراعية المندمجة في اقتصاد السوق؟
- تلبية حاجات السوق.
- تعتمد على الآلة والتقنيات في جميع مراحل العمل الزراعي.

٦ - قارن بين الزراعات الحديثة المتخصصة:

زراعة القمح والحبوب	التربية الانتشارية للماشية	تربية الماشية المكثفة
<ul style="list-style-type: none"> <li>تسود في أمريكا وكندا وأستراليا و أوروبا.</li> <li>تستعمل الآلات في جميع مراحل العمل.</li> <li>تستعمل الطائرة لرش المبيدات.</li> <li>يخزن الإنتاج ضمن صوامع كبيرة وسط الحقول الواسعة.</li> </ul>	<ul style="list-style-type: none"> <li>تسود هذه التربية في العالم حالياً لأتساع المراعي.</li> <li>تم التخلي عن أسلوب الرعي الحر أصبحت مسيجة.</li> <li>تطبق فيها نظام الدورة الرعوية.</li> <li>الاهتمام بنوعية المراعي وطاقتها الغذائية.</li> <li>اتجاه المؤسسات لتأصيل القطعان.</li> </ul>	<ul style="list-style-type: none"> <li>تربي الأبقار والأغنام لإنتاج الحليب ومشتقاته.</li> <li>تنتشر في غرب أوروبا وشمالها وفي منطقة البحيرات الكبرى في أمريكا الشمالية.</li> <li>نمط التربية مكثفة في إسبيلات حديثة.</li> <li>إنتاجها يزود الصناعة الغذائية.</li> <li>حققت فائضا مهما وتكاليف التخزين عاء اقتصادي.</li> </ul>

٧ - علل: تسمية مزارع الحبوب الأمريكي برجل أعمال.

- يمارس الزراعة خلال فترة زمنية معينة من السنة.
- ينقل إلى المدينة ليراقب بورصة الأسعار لبيع الإنتاج في الوقت المناسب.
- يتمتع بمهارات عدة كالإدارة، وعلم التربة، والهندسة الزراعية، والقدرة على مراقبة أسواق الحبوب العالمية.



## **كتابة وطباعة: السيد احمد السيد مجيد السيد علي مقرر: الجغرافيا الاقتصادية (أجبا ١٠٢)**

٨ - قارن بين الزراعة العلمية المتعددة الإنتاج و الزراعات الرأسمالية في العالم النامي:

الزراعة العلمية المتعددة	الزراعات الرأسمالية في العالم النامي
<ul style="list-style-type: none"><li>• تجمع في وقت واحد بين الزراعة وتربية الحيوان.</li><li>• هدفها ليس معيشياً بل تحاشي فائض الإنتاج وهبوط الأسعار والحفاظ على خصوبة التربة.</li><li>• تزدهر في وسط أوروبا وغربها.</li><li>• ازدهرت في المناطق المتوسطة زراعة الخضر والأشجار المثمرة.</li></ul>	<ul style="list-style-type: none"><li>• تمولها مؤسسات زراعية كبرى لتعذر الزراعة في الدول الصناعية.</li><li>• مثل زراعة الموز والأناناس والكاكاو والبن.</li><li>• العمال محليون بأجور شهرية أو شركاء محليون.</li><li>• تقع على السواحل قرب المرافئ وطرق المواصلات.</li><li>• تصدير الإنتاج مصدر للعملاء الصعبة</li></ul>



٩ - علل: الزراعة العلمية متعددة الإنتاج تجمع بين أكثر من نشاط زراعي.

• لتحاشي فائض الإنتاج وهبوط الأسعار.

• الحفاظ على خصوبة التربة.

١٠ - أذكر الصعوبات التي تعترض استثمار موارد الغابات.

• طول فصل الجليد في العروض العليا وبالتالي تتوقف أعمال القطع.

• كثافة النباتات في المناطق المدارية وكثرة المستنقعات.

• سوء الأحوال المناخية وشدة الرطوبة وكثرة الأمراض.

• عدم تجانس الأخشاب الأخشاب المدارية الصلبة وتنوع أجناسها.

• بعد المسافات بين الغابات ومرافئ التصدير.

## الدرس الرابع

### البحر مورد غذائي واقتصادي

١ - عدد الشروط الإحيائية لتوفر الأسماك.

§ الضوء § الغذاء § الحرارة § الأملاح المعدنية

٢ - ما الفرق بين الصيد التقليدي والصيد الصناعي الحديث:

الصيد التقليدي.	الصيد الصناعي الحديث
§ استعمال الشبكة والقرقور.	§ استعمال شباك الجر العائمة.
§ يتراجع بسبب عجزه عن مضاربة الأسعار.	§ استعمال جهاز السونار.
§ يمارسه الصيادون في المناطق الشاطئية.	§ استعمال شباك الجر في الأعماق.

٢ - اشرح طرق الصيد.

(١) الصيد التقليدي: يستعمل ألوف الصيادين وملايين الأشخاص في العالم النامي وسائل بسيطة كالصناعة

والشبكة والقرقور.

(٢) الصيد الصناعي:

أ) الصيد بشباك الجر: تجر شباك الجر سفينة حديثة التجهيز.

ب) الصيد بواسطة السونار: جهاز أساسي في الصيد البحري يكشف السونار مواقع الأسماك تحت الماء

بواسطة الموجات الصوتية وينقلها إلى الشاشة تلفزيونية.

٣ - علل: تعتبر طريقة الصيد بشباك الجر مضرّة بالبيئة البحرية.

§ أنقل الرصاص تتلف الكثير من الحيوانات والطحالب والبيوض.

§ تراكم الأسماك يحبس صغار الأسماك ويمنعها من النجاة.

٤ - صف طريقة الصيد بالسونار أو الصيد الصناعي.

§ تقوم طائرة مروحية بالتفتيش عن أسراب الأسماك.

§ تقوم سفينة مجهزة بالسونار في تحديد كمية السمك وعمق المياه.

§ تجمع سفينة أخرى الأسماك حول أنبوب يدفع الهواء.

§ تقوم سفينة بمحاصرة الأسماك كهربائياً ودفعها باتجاه خرطوم الضخ.

٥ - علل: مؤسسة الصيد حلقة وسطى في سلسلة الإنتاج.

§ تملك أساطيل مهمة من السفن التي أصبحت معامل عائمة تصل حولتها أحياناً إلى ٢٠ ألف طن.

§ يصل طاقم الصيادين إلى ٥٠٠ شخص ويشار بتصنيع أكثر من ٣٠٠ طن من الأسماك يومياً أو توضيبها.

§ تؤمن سفن صغيرة الاتصال بالمرافئ عبر رحلات مكوكية.

§ استثمار رساميل ضخمة للتجهيز والإنتاج.

## **كتابة وطباعة: السيد احمد السيد مجيد السيد علي مقرر: الجغرافيا الاقتصادية (أجا ١٠٢)**

§ تزيد أرباحها من خلال رفع إنتاجية العمل.

٦ - ما هي شروط رفع إنتاجية العمل بمؤسسات الصيد الحديث؟

§ مكنته العمل. § تخفيض الأيدي العاملة. § توفير في المحروقات.

٧ - عدد الخدمات الأساسية التي تحتاجها مؤسسات صيد الأسماك.

مرافئ - أرصفة لرسو السفن - مرائب الصيانة - خزانات الوقود - مخازن التبريد - أسواق البيع - محطات السيارات والقطارات - مركز للاتصالات اللاسلكية.

٨ - قارن بين مؤسسات الصناعة البحرية و مؤسسات الخدمات:

مؤسسات الخدمات	مؤسسات الصناعة البحرية
§ تؤمن تمويل العمليات الإنتاجية والتجارية.	§ توفر السفن والتجهيزات.
§ تقوم بالأبحاث اللازمة للتوسع والتحديث.	§ صيانة الأدوات.
§ تدرب السيد العاملة على التقنيات والأجهزة الحديثة.	§ تأمين الوسائل التقنية.

٩ - عدد الطرق المتبعة لتصريف الإنتاج في الدول المنتجة التي سعت إلى توسيع أسواقها.

§ إعداد جهاز توزيع يقوم بتوزيع الإنتاج طازجا إلى المخازن والمستهلكين.

§ إنشاء مصانع التبريد التي توضع الأسماك وتجمدها قبل تصريفها.

§ تطوير الصناعات الغذائية التي تقوم بتعليب الأسماك أو تصنيعها.

§ تنمية صناعة الأعلاف التي تطحن الأسماك لاستعمالها علفا للحيوانات.

١٠ - ما الآثار البيئية المفرطة في الصيد؟ وما التدابير المتخذة؟

الآثار: § تلوث البيئة. § انقراض الأسماك. § تناقص الكميات المنتجة.

التدابير: § إصدار تشريعات لحماية البيئة البحرية. § اتخاذ تدابير تحد من تلوث المحيطات.

١١ - علل: تربية الحيوانات المائية أكثر ربحا من تربية الحيوانات البرية.

§ قدرة هائلة للحيوانات المائية على التكاثر. § تحويل الغذاء إلى بروتين بنسبة مرتفعة.

§ مجال بحري مثلث الأبعاد "العمق"

١٢ - حدد سلبيات وإيجابيات زراعة المائيات.

السلبيات: § تحول العديد من الأرصفة القارية والخلجان إلى مزارع خاصة وحظائر مسيجة.

الإيجابيات: § الحد من التلوث البحري. § خفض الأسعار.

§ استمرار التطور التقني الإحيائي. § فتح آمال جديدة في القضاء على النقص الغذائي.

§ تحول الصياد من مغامر يطوف البحار إلى مزارع بحري.

١٣ - وضح الأزمات التي واجهت حرفة صيد اللؤلؤ خلال القرن العشرين.


§ تراجع الطلب على اللؤلؤ في أوروبا خلال أزمة ١٩٢٩م.

§ مضاربة اللؤلؤ الاصطناعي في اليابان.

§ تلوث البحار التي ينمو فيها اللؤلؤ فيؤثر في توعيته.

## **كتابة وطباعة: السيد احمد السيد مجيد السيد علي مقرر: الجغرافيا الاقتصادية (أجا ١٠٣)**

١٤ - أقرأ المستند الذي يبين آلة الصيد الحديثة ثم أجب عن الأسئلة التي تليه انطلاقاً منه وفي ضوء ما درسته:



١ - ما طريقة الصيد المستخدمة في هذا المستند؟

§ طريقة الصيد بالسونار.

٢ - كيف تتم آلية الصيد في هذه الطريقة؟

§ طوافة تفتيش عن رفوف السمك.

§ سفينة مجهزة بآلة السونار تمكنها من تحديد عمق الرفوف وحجمها.

§ سفينة تضع الهواء إلى الأعماق حيث يجتمع السمك إلى جانب خرطوم يقوم بشفطها.

§ سفينة تقوم بدفع الأسماك إلى فوهة الخرطوم بواسطة تيار كهربائي.

٣ - وضح خصائص الصيد التقليدي.

§ يزاوله ألوف الصيادين وملايين الأشخاص في العالم النامي الذين يعيشون من حرفة الصيد في المناطق الشاطئية.

§ يستعملون وسائل بسيطة كالصناعة والشبكة والقرقور.

§ يتراجع تدريجياً بسبب عجزه عن مضاربة الأسعار التي تفرضها مؤسسات الصيد الحديثة.

٤ - ما هي التدابير التي اتخذتها الدول للحد من الإفراط في الصيد وانقراض الأسماك؟

§ إصدار تشريعات لحماية البيئة البحرية.

§ تحديد نطاقات الصيد ضمن المياه الإقليمية لكل دولة تريد المحافظة على مواردها.

§ اتخاذ تدابير للحد من تلوث المحيطات.

## **الدرس الخامس**

### **الصناعة**

١ - عرف مفهوم الصناعة.

القطاع الثاني من النشاط الاقتصادي وهي مجمل النشاطات التي تحول المواد الأولية أو الزراعية إلى مود نهائية.

٢ - ما أهمية الصناعة؟

§ تحرك الاقتصاد بكامله.

§ مصدر التجديد التقني.



§ تملي على الزراعة والخدمات أن تتبعها لأنها تمدّها بطرق الإنتاج الحديثة وأدواته.

٣ - عدد المقومات الطبيعية للصناعة والمقومات البشرية؟

المقومات البشرية	المقومات الطبيعية للصناعة
§ الرساميل.	§ الموارد.
§ اليد العاملة.	§ الخامات المعدنية.
§ السوق.	§ موارد متجددة وموارد غير متجددة.

٤ - عدد الموارد الطبيعية التي تتركز عليها الصناعة.

§ الموارد الأولية ( تحولها الصناعة لسلع استهلاكية ).

§ مصادر الطاقة ( تولد القوة المحركة للآلات التي تعطي الإنتاج ).

٥ - أين توجد الخامات المعدنية التالية:

§ الفلزات: توجد في الطبقات القديمة التكوين (حديد الأورال والسويد والبرازيل وكندا ... ).

§ الفحم الحجري: تقع عند حافات الركائز القارية وأحياناً في وسطها (مناجم الأبالاش والكتلة الريمانية).

§ النفط: تكمن في الطبقات الرسوبية المنكشفة أو الواقعة تحت مياه البحر على الرصيف القاري ( الخليج العربي وخليج المكسيك وبحر الشمال).

٥ - عرف مفهوم الموارد المتجددة و الموارد غير المتجددة.

§ الموارد المتجددة: موارد تتجدد باستمرار كالضوء والحرارة والهواء والماء والموارد النباتية والحيوانية.

§ الموارد غير المتجددة: موارد لا تجدد نفسها إلا بعد ملايين السنين كالنفط والغاز والفوسفات والنحاس.

٦ - عدد طرق المحافظة على الموارد غير المتجددة.

§ إحلال تدريجي للموارد المتجددة والوافرة مكان الموارد غير المتجددة أو النادرة.

§ تطوير استخدام الطاقة الذرية وحرارة الأرض الجوفية.

§ إعادة تصنيع ما تلف من المواد المصنعة.

**كتابة وطباعة: السيد احمد السيد مجيد السيد علي مقرر: الجغرافيا الاقتصادية (أجا ١٠٣)**

٧ - ما الفرق بين كل من:

الرساميل الإنتاجية	الرساميل النقدية
§ مجموع المعامل والمنشآت الآلات العاملة ضمن بلد معين.	§ مجموع المال المتوافر في المصارف والمؤسسات المالية المختلفة.
§ تتزايد باستمرار كلما حدثت استثمارات صناعية جديدة أو لدى توسيع المعامل وتحديثها.	§ يمكن استثماره في بناء المصانع وتجهيزها وتشغيلها.
§ قيمة هذه الرساميل كبيرة جدا في الدول الصناعية ومحدودة في الدول النامية.	§ تؤمن المصارف الصناعية والمؤسسات المتخصصة في هذه الرساميل.
اليد العاملة الصناعية في الدول الصناعية	اليد العاملة الصناعية في الدول النامية
§ الأعداد والتأهيل من خلال التعليم الفني.	§ تشكو من ضعف التأهيل والنقص في الإعداد.
§ توافر الكوادر الوسطى.	§ عدم توافر كوادر وسطى محلياً.

٨ - عدد أنواع الأيدي العاملة في الصناعة.

- § العادية: تنفيذ مهام بسيطة.
- § الكوادر الوسطى: تيسر أقسام الإنتاج في المعامل والورش.
- § الكوادر العليا: مؤلفة من المهندسين والخبراء والباحثين.

٩ - بين أثر السوق على النمو الصناعي؟

كلما زاد الاستهلاك توسعت المؤسسات لتلبي الحاجات المتزايدة لذلك تفتش المؤسسات الصناعية عن الأسواق الكبيرة من حيث عدد سكان كأسواق الصين والهند أو من حيث ارتفاع مداخيلها كأسواق السعودية وألمانيا والولايات المتحدة الأمريكية.

١٠ - من خلال الجدول التالي، أذكر أنواع الصناعات حسب الجدول التالي:

صناعات تحويلية	صناعات قاعدية
§ الصناعات التقليدية.	§ الصناعات الاستخراجية
§ الصناعات المتقدمة.	§ صناعة الحديد والصلب.
	§ صناعة التعدين.
	§ صناعة الكيمياء الثقيلة.
الصناعات المتقدمة	الصناعات التقليدية
§ الصناعات الالكترونية.	§ صناعات النسيج والتركيب الميكانيكي.
§ صناعة الطائرات.	§ صناعة العدد والخياطة.
§ الصناعات الفضائية وهندسة المواد والطاقة الذرية.	§ صناعة المفروشات.
§ الكيمياء الإحيائية.	§ الصناعة الغذائية وصناعة الورق والطباعة.

## كتابة وطباعة: السيد احمد السيد مجيد السيد علي مقرر: الجغرافيا الاقتصادية (أجا ١٠٢)

١١ - ما الفرق بين كل من:

الصناعات الاستخراجية	صناعة الحديد والصلب
§ تستخرج المواد الأولية ومصادر الطاقة من جوف الأرض أو عن سطحها.	§ تتولى معالجة خامات الحديد وصناعة الصلب.
§ تتطلب اليوم رساميل كبيرة وتقنيات عالية.	§ تطورت بسرعة خلال القرن العشرين من حيث التقنيات وكميات الإنتاج.
§ لم تعد تعتمد على كثافة اليد العاملة كالسابق.	§ الطلب المتزايد على معدن الحديد ( من ٦ مليون طن سنة ١٩١٠م إلى ٢٥ مليون سنة ١٩٩٤م.
صناعة التعدين	صناعة الكيمياء الثقيلة
§ تتناول <u>الألمنيوم والنحاس</u> وغيرهما.	§ <u>تنتج مواد الكلور والكبريت واليوتاسيوم والنفط والبلاستيك والأزوت وغيرها.</u>
§ أصبحت هذه المعادن <u>حاجات أساسية</u> مع <u>الصناعات التحويلية</u> .	§ عرفت تطوراً هائلاً <u>بعد الحرب العالمية الثانية</u> .
§ صناعة الطيران والتعليب والتغليف <u>ضاعفت</u> الحاجة إلى <u>الألمنيوم</u> .	§ نمو الحاجات إلى الطاقة والأسمدة والمبيدات والمنظفات والألياف الاصطناعية والنسجية والضوئية.
§ صناعة الأسلاك والأجهزة الكهربائية <u>ضاعفت</u> الحاجة إلى <u>النحاس</u> .	
الصناعات التحويلية التقليدية	الصناعات التحويلية المتقدمة
§ راجت في القرن التاسع عشر حتى الحرب العالمية الثانية.	§ تتطلب تقنيات عالية ورساميل كبيرة.
§ أهمها الصناعات النسيجية والتركيب الميكانيكي وصناعة المفروشات والصناعات الغذائية وصناعة الورق والطباعة.	§ أهمها الصناعات الإلكترونية وصناعة الطائرات والصناعات الفضائية وهندسة المواد والطاقة الذرية والصيدلة والكيمياء الإحيائية.
§ تحتاج هذه الصناعات إلى كثافة في اليد العاملة وتقنيات عادية.	§ هذه الصناعات ما تزال محصورة بين الدول المتقدمة صناعياً كالولايات المتحدة واليابان وأوروبا الغربية واتحاد روسيا.
§ انتقلت إلى الدول النامية من حيث الأجور منخفضة والعمالة العادية متوفرة.	

## **الدرس السادس**

### **المجال الصناعي**

- ١ - علل: تتركز الصناعات في أماكن التجمعات البشرية قريبا من خطوط المواصلات.
  - § بهدف الحد من تكاليف النقل والإنتاج.
  - § الاستفادة من الخدمات العامة.
- ٢ - أذكر العوامل التي تؤثر في التمرکز الصناعي.
  - § العوامل الطبيعية
  - § طرق المواصلات ووسائل النقل.
  - § المناطق الصناعية الشاطئية.
  - § المناطق المدنية
  - § الاستقطاب الصناعي.
  - § دور الدولة
  - § تمرکز الصناعات المتقدمة
- ٣ - علل: نشأت أولى المناطق الصناعية في الأحواض الفنية بالفحم الحجري والحديد؟
  - § لتقل المواد
  - § ارتفاع تكاليف نقلها.
- ٤ - ما دور المواصلات في التمرکز الصناعي؟
  - § ضاعفت الحمولة وسرعة نقلها.
  - § جعل اختيار المكان أكثر مرونة.
  - § الوصول إلى الأسواق.
  - § تأمين مستلزمات الإنتاج.
- ٥ - علل: تجتذب الشواطئ المؤسسات الصناعية.
  - § توفر وسائل النقل المناسبة.
  - § تسهل التمرکز واستيراد المواد الأولية.
  - § توفر كميات المياه اللازمة للتصنيع.
  - § سهولة تصدير المنتجات.
- ٦ - علل: المناطق المدنية تجتذب المؤسسات الصناعية.
  - § المدينة سوق عمل.
  - § منجم أدمغة.
  - § منطقة استهلاكية.
  - § مركز للرساميل.
  - § مخزن أيدي عاملة.
  - § مركز القرار الاقتصادي.
  - § عقدة مواصلات مهمة ومتنوعة.
- ٧ - علل: وسط المدينة لا يوفر الشروط المثلى للمركز الصناعي.
  - § الازدحام.
  - § ارتفاع أسعار الأراضي.
- ٧ - ما المقصود بـ "الاستقطاب الصناعي"؟

تجتذب الصناعات بعضها بعضاً.
- ٨ - علل: يساهم دور الدولة في تمرکز وتنظيم المجال الصناعي.
  - § تضع سياسة صناعية تؤثر في توزيع المؤسسات واتساع المجال الصناعي.
  - § تستعمل تدابير قانونية ومالية لتنفيذ هذه السياسة.
  - § تمنح قروضا بفوائد ميسرة للمؤسسات التي تستقر في منطقة فقيرة ، وتعفيها من الضرائب والرسوم.
  - § تعيد تنشيط المناطق الصناعية والحرفية القديمة بمنحها الرساميل اللازمة للتحديث.



## كتابة وطباعة: السيد احمد السيد مجيد السيد علي مقرر: الجغرافيا الاقتصادية (أج ١٠٢)

§ تسهم في تأهيل اليد العاملة لاستيعاب التقنيات الحديثة عن طريق معاهد التعليم ودورات التدريب.

§ تحدد مناطق حرة مخصصة للصناعات المعدة للتصدير.

٩ - عرف مفهوم المناطق الحرة.

عبارة عن مساحات قريبة من المرفأ وهي مسيجة بحيث تخضع لمراقبة الدولة.

١٠ - أين تتمركز الصناعات الخفيفة العالية التقنية؟ ولماذا؟

تتمركز في المناطق الجميلة والحقول الخلابة المحاذية للمدن أو لخطوط المواصلات (حزام الشمس في أمريكا)

(بافاريا في ألمانيا) (حوض لندن في بريطانيا) (غرنوبل في فرنسا) (سيليكون فالي في سان فرانسيسكو)

١١ - اشرح مراحل اتساع المجال الصناعي الحديث.

• البؤرة الصناعية الرأسمالية الأولى.



موقع  
المنهج البحرينية  
almanahj.com/bh

- في إنجلترا أواخر القرن ١٨ حتى اليابان في أواخر القرن ١٩

- سلسلة متكاملة من الصناعات المتطورة.

- تزودها مراكز البحوث بالتجديد التقني الدائم.

• دول حديثة التصنيع.

- بعد الحرب العالمية الثانية في البرازيل والمكسيك (صناعة تحويلية).

- تمتلك مجموعة من المنتجات التنافسية لرخص الأيدي العاملة وحدثا التقنيات.

• بلدات تأخرت انطلاقها الصناعية.

- اندونيسيا والفلبين وماليزيا.

- تحاول الانطلاق على تقنيات بسيطة وأيدي عاملة رخيصة وكثيفة ورساميل قليل.

١٢ - قارن بين:

المجالات الصناعية القديمة في البلدان المتقدمة	المجالات الصناعية الحديثة في البلدان المتقدمة
§ تعود إلى الثورتين الصناعيتين الأولى والثانية.	§ تقع على خطوط المواصلات.
§ تقع في وسط المدن.	§ بعض المعامل تحلق حول مرفأ النفط أو مرفأ
§ تتراجع بسبب القدم في تقنياتها وبسبب ازدحام المدن وتلوثها.	§ للخامات المعدنية أو مرفأ لنقل المستوعبات.
§ نراها تنزح نحو الضواحي البعيدة الأمر الذي يولد بطاقة عالية وفراغا اقتصاديا.	§ منها ما يمتد على طول خطوط المواصلات الأساسية (مجرى الأنهار، سكك الحديد، الطرق السريعة).
§ تحاول الدول حل هذه المشكلات بإعادة تأهيل اليد العاملة.	§ تعتبر بعض المناطق الصناعية الجديدة مراكز استقطاب تقني، تجذب المؤسسات العالية التقنية والمختبرات ومراكز البحوث والجامعات.

**كتابة وطباعة: السيد احمد السيد مجيد السيد علي مقرر: الجغرافيا الاقتصادية (أج ١٠٢)**

١٣ - علل: بطئ النمو الصناعي في الدولة النامية.

- § النقص في الرساميل.
- § الضعف الفني والتقني.
- § عدم تأهيل اليد العاملة.
- § ضعف القدرة الشرائية لدى السكان.

١٤ - حدد السياسات التي انتهجتها الدول النامية في الصنيع؟

- § سياسة بناء وتشجيع الصناعات التي تنتج سلعا بديلة من السلع المستوردة.
- § سياسة رفع أسعار صادراتها من المواد الزراعية والمعدنية ومصادر الطاقة.
- § سياسة بناء صناعة رأسمالية تؤهل هذه الدول لإنتاج المواد الوسيطة.

## **الدرس السابع**

### **الخدمات والتجارة**

١ - ما أهم خصائص الخدمات.

- § الخدمات لا تنتج سلعا ولا مواد وآلات.
- § لكنها تحتاج في مسار علمها إلى آلات وأجهزة وإنشاءات معينة.

٢ - قارن بين :

الخدمات الاقتصادية	الخدمات الاجتماعية
§ تتصل مباشرة بالنشاط الاقتصادي أو بالآلة الاقتصادية.	§ يمولها المجتمع بواسطة القطاع العام.
§ تتدرج بها إدارة الأعمال (النشاط المالي والبورصة والتأمين والدراسات والدعاية) والتجارة.	§ توطد الأمن الاجتماعي.
§ تتضمن المهن الحرة كالطبابة والصيدلة والمحاماة وأعمال الفنادق والسياحة والخدمات المنزلية.	§ تؤمن حسن سير المجتمع.
	§ كالإدارة العامة والتعليم والشركة والجيش والخدمات الاجتماعية.

٣ - من خلال الجدول التالي، أذكر الخدمات الاقتصادية والخدمات الاجتماعية فيما يلي:

خدمات اقتصادية	خدمات اجتماعية
§ إدارة أعمال.	§ الإدارة العامة.
§ أعمال الفنادق.	§ الشرطة.
§ الطبابة	§ الخدمات الطبية.
§ السياحة	§ الخدمات المنزلية
§ التجارة.	§ التعليم.
§ الصيدلة	§ الجيش.
§ المحاماة.	

٤ - علل: توسع قطاع الخدمات في العالم.

- § مكنته العمل.
- § تعاظم أهمية الإدارة
- § الابتكار والدعاية والتسويق.

٥ - علل: عولمة الخدمات.

- § بسبب سهولة المعلومات والمعارف.
- § بفضل شبكات الكمبيوتر.
- § وجود الفاكس (النسخ اللاسلكي) والمحاضرات المتوفرة.

٦ - عرف التجارة.

عملية تبادل بين المنتجين والمستهلكين تقوم بها فئة اجتماعية هي فئة التجار.

التجارة الخارجية (الدولية)	التجارة الداخلية.
§ عمليات تبادل السلع بين الدول.	§ هي عملية تبادل السلع داخل البلد الواحد.
§ تكثفت بعد الحرب العالمية الثانية.	§ يرتبط توسعها بالنمو الاقتصادي والاجتماعي العام.
	§ تحديث شبكة المواصلات تدمج كل المناطق بالسوق التجارية وتسهل التوزيع.

٨ - عدد العوامل التي يخضع لها اختيار الموقع التجاري.

- § سهولة الوصول إليه.
- § القرب من الأحياء السكنية.
- § توافر الأرض بالسعر الملائم.
- § اتساع العقار لبناء وحدات المنشأة التجارية.

المناهج البحرينية  
almanahi.com/bh

٩ - علل: تكثف التجارة الخارجية بعد الحرب العالمية الثانية.

- § تعاضم النمو الاقتصادي.
- § تطور المواصلات.
- § اتساع دور الشركات المتعددة الجنسيات.

١٠ - قارن بين:

الدول المصدر للمواد المصنعة	الدول المصدرة للخامات
§ تصدر حوالي ٢٠ دولة في العالم المواد والسلع المصنعة.	§ تصدر أغلبية الدول النامية المواد الخام.
§ تستورد بشكل أساسي المواد الأولية ومواد الطاقة.	§ تستورد أغلب حاجاتها من السلع المصنعة.
§ مثل اليابان والولايات المتحدة وأوروبا الغربية.	§ تعاني من تدهور في شروط المبادلة.
	§ تستدين لتمويل وإدارتها.

١١ - وضح مفهوم شروط المبادلة.

احتساب أسعار صادرات البلدان النامية من المواد الأولية وأسعار صادرات البلدان المصنعة من المواد المصنعة.

١٢ - من خلال الجدول التالي، أذكر الدول لـ الأقطاب الأساسية المحركة للتجارة والأقطاب الثانوية للتجارة:

الأقطاب الأساسية المحركة للتجارة	الأقطاب الثانوية للتجارة
§ دول الشرق الأوسط.	§ دول الاتحاد الأوروبي.
§ دول أمريكا الجنوبية.	§ الولايات المتحدة الأمريكية.
§ دول آسيا الجنوبية.	§ اليابان

١٣ - عدد الأقطاب الأساسية المحركة للتجارة الدولية.

§ الاتحاد الأوروبي (يمثل القطب الأساسي في التجارة الدولية بسبب التسهيلات بينه وبين الدول الغربية وبسبب علاقاته الخارجية).

§ الولايات المتحدة الأمريكية (تحتل المرتبة الثانية في هذا المجال بسبب اتفاقيات التبادل الحر مع كندا واتفاقيات المماثلة مع المكسيك مما يؤسس في أمريكا سوقاً مشتركة واسعة).

## **كتابة وطباعة: السيد احمد السيد مجيد السيد علي مقرر: الجغرافيا الاقتصادية (أج ١٠٢)**

§ اليابان (بسبب العلاقات التكاملية مع الدول الآسيوية الحديثة التصنيع التي تخضع لتقنيته ورساميله).

١٤ - عرف الأقطاب الثانوية.

- § استراليا.
- § نيوزيلندا.
- § كندا.
- § اتحاد روسيا.
- § دول أوروبا الشرقية.
- § دول الشرق الأوسط.
- § البرازيل والمكسيك.
- § دول آسيا الجنوبية والشرقية.
- § الدول الإفريقية.

١٥ - أذكر المشاكل الأساسية للتجارة الدولية.

§ العجز في الموازين.

§ تدهور شروط المبادلة بين الدول الصناعية والدول النامية.

§ الحماية الاقتصادية الجديدة.

١٦ - علل: تدهور شروط المبادلة بين الدول الصناعية والدول النامية.

- § انخفاض أسعار المواد الأولية خلال الثمانينات إلى أدنى المستويات التي عرفت منذ الحرب العالمية الثانية.
- § ارتفاع أسعار بعض المواد المصنعة.
- § تصدير الدول النامية كميات أكبر من المواد الأولية لتغطية أسعار الواردات أو تقليص حجمها.

## الدرس الثامن

### الخدمات المالية والسياحة

١ - علل: أصبحت السياحة والخدمات المالية مهمة جدا في اقتصاديات الدول خلال الثمانينات والتسعينات.

- مصدر لتأمين الرساميل اللازمة.
- تخلق فرص عمل جديدة لمواطنيها.

٢ - أذكر وظائف ومسؤوليات المصارف المركزية.

- إصدار العملة الوطنية ومراقبة تداولها.
- حفظ وإدارة أموال الخزينة وتمويل مشاريع الدولة.
- الرقابة على المصارف الخاصة.

٣ - قارن بين أنواع المصارف لتالية:

المصارف التجارية	المصارف المركزية
<ul style="list-style-type: none"><li>• وظيفتها الأساسية قبول الودائع لتدفع عند الطلب.</li><li>• تعتمد لجذب الزبائن بالدعاية والتسهيلات المالية والفوائد.</li><li>• مضاعفة الخدمات للمودعين كالكشف الدوري على الحسابات.</li><li>• دفع الضرائب والرسوم كفواتير الكهرباء والماء.</li><li>• تسليفاتها قصيرة الأجل مرتفعة الفوائد.</li></ul>	<ul style="list-style-type: none"><li>• مصرف رسمي تابع للدولة لها عدة مهام.</li><li>• إصدار العملة الوطنية ومراقبة تداولها.</li><li>• حفظ وإدارة أموال الخزينة وتمويل مشاريع الدولة.</li><li>• الرقابة على المصارف الخاصة.</li></ul>
مصارف الأعمال	المصارف المتخصصة
<ul style="list-style-type: none"><li>• تابعة للشركات الكبرى التي تودع فيها أموالها لأجل طويلة.</li><li>• تمتلك قدرة مالية كبيرة.</li><li>• تحيط أعمالها بالسرية تجاه الناس.</li><li>• ليس لديها فروع ولا وكالات.</li><li>• تسلف المؤسسات التابعة لها قروضا طويلة الأجل.</li><li>• استثماراتها تتوجه إلى قطاع الأعمال (شراء الأسهم والعقارات والمعامل أو أي استثمار مربح).</li></ul>	<ul style="list-style-type: none"><li>• تنشئها الدولة وتمولها الحكومة والمصرف المركزي.</li><li>• يشارك فيها القطاع الخاص أحيانا بجزء من الرأسمال.</li><li>• تتوجه تسليفاتها نحو قطاعات إنتاجية محددة.</li><li>• تمنح التسليفات لأجل متوسطة أو طويلة بفوائد منخفضة.</li><li>• ضرورة لتنشيط الاقتصاد واستثمار الموارد المتوفرة.</li></ul>

٤ - عرف السياحة.

انتقال الناس من مكان إلى آخر بقصد الاستمتاع والترويح عن النفس وممارسة الهوايات المختلفة.

٥ - علل: ازدهار السياحة العالمية في النصف الثاني من القرن العشرين.

- التشريعات الاجتماعية التي أقرت حق الموظفين والعمال بالعطل المدفوعة.
- ارتفاع نسبة التوفيرات الأسرية بفعل ارتفاع المداخيل.

## **كتابة وطباعة: السيد احمد السيد مجيد السيد علي مقرر: الجغرافيا الاقتصادية (أجا ١٠٢)**

- انخفاض تكاليف النقل البري والجوي وتطور أنظمة السلامة.
- دخول السيارة الفردية إلى كل منزل وانخفاض كلفة السفر بواسطتها.
- تطور شبكة المواصلات واتساعها.
- ارتفاع معدل الأعمار وخفض السن التقاعدية.
- ٦ - عرف المجال السياحي.
- حيز جغرافي جاذب للسياح لما يوفره من مقومات سياحية بعضها طبيعي (المناخ المعتدل) وبعضها من عمل الإنسان (البنية التحتية السياحية).
- ٧ - ما هي المقومات الطبيعية والبشرية للمجال السياحي؟
  - المناخ المعتدل
  - المناظر الجميلة.
  - الموقع بالنسبة لخطوط المواصلات.
  - البنية التحتية السياحية (الفنادق، المقاهي... الخ)
- ٨ - وضح أهمية المجالات السياحية في العالم.
  - المناخ المعتدل.
  - المناظر الجميلة.
  - المقاهي.
  - دور اللهو.
  - المجمعات الرياضية.
  - الفنادق.
- ٩ - وضح الأهمية الاقتصادية للسياحة.
  - تمثل السياحة ٥% من التجارة الدولية.
  - عامل تنمية اقتصادي بشكل مباشر وغير مباشر العديد من القطاعات (كالزراعة بزيادة الطلب على المواد الغذائية والصناعات التحويلية على أنواعها).
  - تخلق فرص عمل جديدة أمام المواطنين بصورة سريعة.
- ١٠ - علل: تسعى دول العالم النامي إلى تنشيط القطاع السياحي.
  - وسيلة للحد من البطالة.
  - فتح الأسواق أمام القطاعات الاقتصادية الأخرى.
  - سد العجز في الميزان التجاري.
- ١١ - علل: تتمتع الدول العربية بمقومات سياحية مهمة.
  - عراقة التراث.
  - تنوع المناظر الطبيعية.
  - الإشعاع الدائم.
  - القرب من أسواق السياحة الأساسية في العالم.
  - الآثار.
  - المشاهد المعمارية.

## كتابة وطباعة: السيد احمد السيد مجيد السيد علي مقرر: الجغرافيا الاقتصادية (أجا ١٠٢)

١٢ - أقرأ المستند الذي يبين مهمات مؤسسة نقد البحرين، ثم أجب عن الأسئلة التي تليه انطلاقاً منه وفي ضوء ما درسته :-

٢

مهمات مؤسسة نقد البحرين:

- إصدار النقد وتنظيم تداوله .

- المحافظة على ثبات قيمة الدينار .

- تنظيم عمليات صرف العملات الأجنبية .

- الإشراف على النظام المصرفي ومراقبته .

- رقابة الائتمان المصرفي وتوجيهه .

- الإسهام في إيجاد سوق نقدية ومالية متطورة .

بتصرف، عن محمد سنان الشروقي : تطور الاقتصاد البحريني بعد الاستقلال .  
سلسلة بحوث ودراسات موظفي مؤسسة نقد البحرين

almanahj.com/bh

١ - أذكر مصدر النص .

تطور الاقتصاد البحريني بعد الاستقلال .

٢ - عدد مهمات مؤسسة نقد البحرين .

- إصدار النقد وتداوله .
- تنظيم عمليات صرف العملات الأجنبية .
- رقابة الائتمان في إيجاد سوق نقدية ومالية متطورة .
- المحافظة على ثبات قيمة الدينار .
- الإشراف على النظام المصرفي وتوجيهه .
- الإسهام في إيجاد سوق نقدية ومالية متطورة .

٣ - حدد نوع المصرف الذي ينتمي إليه مؤسسة نقد البحرين .

المصرف المركزي

٤ - وضح مفهوم المصرف المركزي .

هو مصرف رسمي تابع للدولة التي تعهد إليه بعدة وظائف ومسؤوليات .

٥ - قارن بين المصارف التجارية والمصارف المتخصصة .

المصارف المتخصصة	المصارف التجارية
<ul style="list-style-type: none"><li>• مصارف تنشئها الدولة .</li><li>• تعهد بعملية تمويلها الحكومة والمصرف المركزي .</li><li>• يشارك فيها القطاع الخاص أحياناً بجزء من الرأسمال .</li><li>• تتوجه تسليفات هذه المصارف نحو قطاعات إنتاجية محددة كالزراعة والصناعة .</li><li>• تمنح التسليفات لأجل متوسطة أو طويلة بفوائد منخفضة .</li><li>• هذه المصارف ضرورية لتنشيط الاقتصاد واستثمار الموارد المتوافرة .</li></ul>	<ul style="list-style-type: none"><li>• قبول الودائع .</li><li>• تعتمد لجذب الزبائن الدعاية والتسهيلات .</li><li>• مضاعفة الخدمات للمودعين .</li><li>• الكشف الدوري على الحسابات .</li><li>• دفع الضرائب والرسوم كفواتير الكهرباء والهاتف وأجور الموظفين .</li><li>• تحصيل السندات .</li></ul>



## **الدرس العاشر**

### **حركة الرساميل وميزان المدفوعات**

١ - أين تتركز الرساميل في العالم؟

تتركز في مدن مالية مشهورة بمدن الرساميل وهي (نيويورك، طوكيو، أوساكا، لندن، فرانكفورت، باريس...).

٢ - ما المقصود بحركة الرساميل؟

تجول (انتقال) الرساميل دون توقف في كل أنحاء العالم ضمن حركة التبادل مستمرة.

٣ - ماذا تشمل حركة الرساميل.



• القروض المصرفية.

• تغطية الوردات.

• الاستثمارات الإنتاجية الخارجية.

• التحويلات المالية على أنواعها.

• الهبات والمساعدات.

٤ - قارن بين المراحل الثلاث لاتجاهات حركة الرساميل:

١. تميزت بدفق مالي من الدول الصناعية باتجاه الدول النامية. ٢. استمرت حتى سنة ١٩٧٣ م. ٣. المصارف مولت العمليات التجارية. ٤. الشركات الكبرى قامت باستثمار مباشر في العالم.	المرحلة الأولى لتطور حركة الرساميل
١. أسعار النفط تعدل الدورة المالية. ٢. بعد سنة ١٩٧٣ م تعاظمت المداخل المالية بسبب ارتفاع أسعار النفط وتراكمت الرساميل في الدول النفطية. ٣. استثمرت الرساميل في عدة اتجاهات. ٤. أصبح دور الدولة تزويد الدول النفطية والنامية بالمعدات والآلات.	المرحلة الثانية لتطور حركة الرساميل
١. الرساميل تتخطى تمويل التجارة الخارجية. ٢. حركة الرساميل ليست لتغطية التبادل التجاري بل حركة مستقلة عن التجارة الخارجية. ٣. هدفها ليس تحويل الأموال إلى الخارج وإنما للاستثمار أو المضاربة.	المرحلة الثالثة لتطور حركة الرساميل

٥ - علل: اتجاهات استثمارات الرساميل الناجمة من ارتفاع أسعار النفط عام ١٩٧٣ م.

• إنشاء البنى التحتية.

• شراء أسهم بشركات عالمية.

• تقديم المساعدات والقروض.

• توظيفها في المصارف العالمية.

٦ - ما هي العوامل التي ساعدت على تنشيط حركة الرساميل؟

• الشركات المتعددة الجنسيات.

• تطور الاتصالات والمواصلات.

• الرساميل المتحفزة.

• الاتفاقات التجارية الدولية.

## كتابة وطباعة: السيد احمد السيد مجيد السيد علي مقرر: الجغرافيا الاقتصادية (أجا ١٠٢)

٧ - علل: تعتبر الشركات المتعددة الجنسيات من عوامل تنشيط حركة الرساميل.

- توسع مجال عمل هذه الشركات.
- أصبحت الرساميل تنتقل من بلد إلى آخر لبناء المؤسسات.
- دفع الأجور.
- تغطية النفقات على أنواعها.
- جمع الأرباح حيث ما وجدت.

٨ - عرف كلاً من:

- الرساميل المتحفزة: رساميل يتم استثمارها لمدة قصيرة لمدة قصيرة لتحقيق ربح سريع.
- ميزان المدفوعات: يحتسب الرساميل الداخلة والخارجة في بلد معين ويقارن بينها لتبين الخسارة والربح.
- ٩ - أذكر الموازين الأساسية لميزان المدفوعات.

- الميزان التجاري.
- ميزان المساعدات.
- ميزان الرساميل غير المنظورة.
- ميزان الرساميل.



١٠ - قارن بين الموازين التالية:

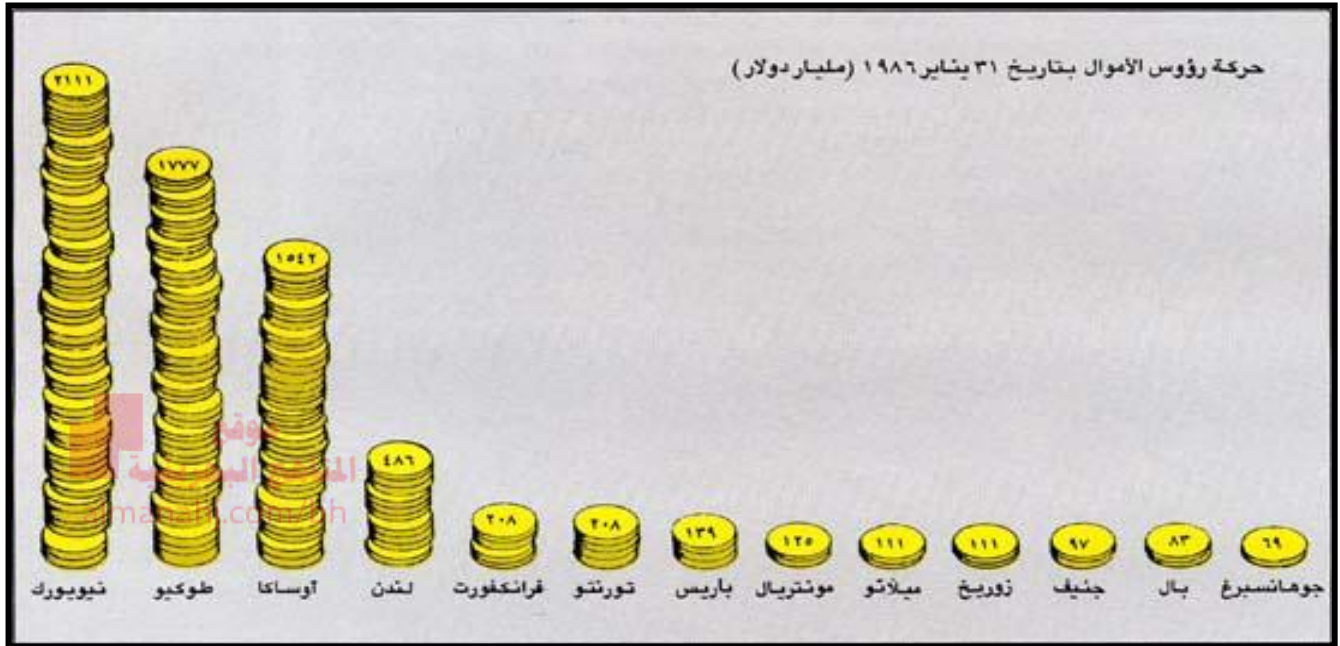
الميزان التجاري	ميزان الرساميل غير المنظورة
<ul style="list-style-type: none"> <li>• عملية مقارنة بين قيمة الصادرات وقيمة الواردات خلال سنة معينة.</li> </ul>	<ul style="list-style-type: none"> <li>• يحتسب الداخل والخارج من الأموال التي لا تطلب إدارات الجمارك تصريحها بها.</li> <li>• تشمل الداخل والخارج من المبالغ الخدمات الصحية والثقافية والسياحية ومصاريف المنظمات الدولية.</li> <li>• نتيجة المقارنة مؤشر واضح على نمو الاقتصاد.</li> <li>• تسجل الدول المتقدمة ربحاً واضحاً في الميزان.</li> </ul>
ميزان المساعدات	ميزان المساعدات
<ul style="list-style-type: none"> <li>• يحتسب الداخل والخارج من الهبات العينية والنقدية لبلد ما خلال سنة.</li> <li>• ترتفع قيمة الرساميل الداخلة خلال الحروب والكوارث.</li> <li>• شكل جزء مهم من ميزان مدفوعات في لبنان خلال الثمانينات.</li> </ul>	<ul style="list-style-type: none"> <li>• يحتسب الرساميل التي تحول إلى الخارج خلال سنة للاستثمارات المباشرة وشراء المؤسسات والأسهم.</li> <li>• يحتسب الأموال الداخلة لنفس الغرض وب نفس العام.</li> <li>• إذا كانت الرساميل الخارجة أكبر من الداخلة فهذا يعني فائض بالرساميل وللبلد تأثير اقتصادي.</li> </ul>

١١ - ما هي الوسائل التي اتبعتها الدول النامية لتعويض العجز في ميزان مدفوعاتها؟

- جلب الرساميل واستثمارها في القطاعات الإنتاجية.
- تشجيع الصادرات وتقليص الواردات.
- الاستدانة من صندوق النقد الدولي أو من المؤسسات المالية الدولية.
- أو صناديق الدعم أو من المصارف الخاصة.

## **كتابة وطباعة: السيد احمد السيد مجيد السيد علي مقرر: الجغرافيا الاقتصادية (أجا ١٠٣)**

١٢ - أقرأ المستند الذي يبين أهم المراكز المالية في العالم، ثم أجب عن الأسئلة التي تليه انطلاقاً منه وفي ضوء ما درسته:



١ - حدد التاريخ والعام الذي تم فيه حركة رؤوس الأموال للمراكز المالية.

• تاريخ ٣١ يناير ١٩٨٦م

٢ - كم تبلغ قيمة رؤوس الأموال في مركز لندن.

• ٤٨٦ مليار دولار.

٣ - سم أعلى مركزين من حيث توفر رؤوس الأموال.

• نيويورك (٢١١١ مليار دولار).

• طوكيو (١٧٧٧ مليار دولار).

٤ - سم أقل مركزين من حيث توفر رؤوس الأموال.

• بال (٨٣ مليار دولار).

• جوهانسبرغ (٦٩ مليار دولار).

٥ - ما هي المراكز المالية التي تتساوى في رؤوس أموالها؟

• فرانكفورت (٢٠٨ مليار دولار).

• باريس (٢٠٨ مليار دولار).

• ميلانو (١١١ مليار دولار).

• زيوريخ (١١١ مليار دولار).

٦ - عدد عوامل تنشيط حركة الرساميل.

• تطور الاتصالات والمواصلات.

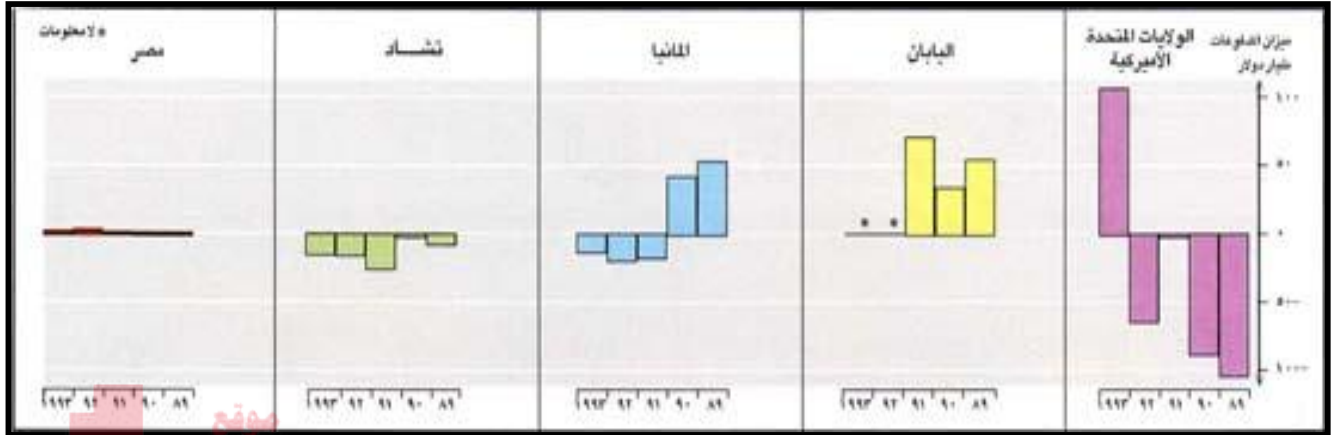
• الشركات المتعددة الجنسيات.

• الرساميل المتحفزة.

• الاتفاقات التجارية الدولية.

## كتابة وطباعة: السيد احمد السيد مجيد السيد علي مقرر: الجغرافيا الاقتصادية (أجا ١٠٣)

١٣ - اقرأ المستند الذي يبين موازين المدفوعات في بعض الدول، ثم أجب عن الأسئلة التي تليه انطلاقاً منه وفي ضوء ما درسته:



المناهج البحرينية  
almanahj.com/bh

١ - ما الدول التي سجلت عجزاً في ميزان مدفوعاتها في عام ١٩٩٢ م ؟

- الولايات المتحدة الأمريكية.
- ألمانيا.
- تشاد.

٢ - حدّد الدول التي سجلت فائضاً في ميزان مدفوعاتها في عام ١٩٩٠ م ؟

- اليابان.
- ألمانيا.

٣ - بم تفسر وجود فائض في ميزان مدفوعات هذه الدول ؟

- تراكم الرساميل.
- تملك عملية مستقرة السعر.
- تتوافر لها فرص الاستثمار في الداخل والخارج.
- ٤ - ما التدابير التي اتخذتها الدول النامية لتعويض العجز في ميزان المدفوعات ؟
- جلب الرساميل واستثمارها في القطاعات الإنتاجية.
- تشجيع الصادرات وتقليل الواردات.
- الاستدانة من صندوق النقد الدولي أو من المؤسسات المالية الدولية.

## **الدرس الحادي عشر**

### **المنظومة الدولية**

١ - عدد عناصر المنظومة الدولية.

- الدول.
- التجمعات السياسية والاقتصادية.

٢ - حدد العناصر التي تجعل من العالم وحدة متماسكة؟

- سوق منظم.
- شركات متعددة الجنسية.
- مواصلات عالمية.
- التقسيم الدولي للعمل.

٣ - علل: دور السوق المنظم في المنظومة الدولية.

- تخضع أسعار المواد الأساسية المتبادلة لبورصة عالمية.
- تسيطر الدول الصناعية كمصدر للسلع والآلات والأجهزة أو كمستوردة للمواد الأولية على التجارة الخارجية.
- تساعد أجهزة الإعلام الفعالة على إدارة الأسواق.
- تؤثر في أذواق المستهلكين حتى تجعل من بعض السلع حاجات عالمية.

٤ - علل: دور الشركات المتعددة الجنسيات في المنظومة الدولية.

- تنقل هذه المؤسسات المواد الأولية والسلع الوسيطة تلبية لضرورات الإنتاج.
- تنقل السلع الاستهلاكية من مصانعها لتوزعها على الأسواق العالمية.
- تسيطر على ثلث التجارة الدولية والخارجية.
- تحول هذه الشركات الرساميل من بلد إلى آخر لتمويل المنشآت والمعامل وتأمين الأموال اللازمة للعمل.
- تجمع الإدارة الأم الأرباح لتعيد توظيفها أو استثمارها مما يؤدي إلى عولمة الرساميل.

٥ - حدد العناصر التي أعطت المواصلات بعداً عالمياً وسهلت تكثف التبادل التجاري؟

- تطور الاتصالات السلكية واللاسلكية.
- البث التلفزيوني والسكك الحديدية والطرق البرية.
- عرفت شبكة المواصلات تطوراً في خفض تكاليف نقلها.

٦ - ما المقصود بالتقسيم الدولي للعالم؟

التخصص النسبي للاقتصادات الوطنية في إنتاج زراعي أو صناعي محدد أو في تقديم خدمات معينة.

٧ - علل: تسيطر الدول الصناعية على التقسيم الدولي للعمل.

- تسيطر على الأسواق
- تتجمع فيها الرساميل.
- تتمركز فيها الصناعات المتقدمة (الطيران، صناعة الفضاء، الإلكترونيات الدقيقة، الهندسة الإحيائية ...).

## **كتابة وطباعة: السيد احمد السيد مجيد السيد علي مقرر: الجغرافيا الاقتصادية (أجا ١٠٢)**

٨ - عدد أهم التحولات التي حصلت في المنظومة الدولية.

• سقوط الثنائية.

• بروز قوى اقتصادية جديدة.

٩ - اشرح مفهوم الثنائية الدولية.

تقسيم العالم إلى معسكر أحدهما برئاسة الولايات المتحدة الأمريكية (المعسكر الرأسمالي) والأخرى برئاسة الاتحاد السوفيتي (الدول الاشتراكية).

١٠ - ما هي القوى الاقتصادية الجديدة لتحولات المنظومة الدولية؟

• منطقة شمال أمريكا للتبادل الحر (المجال الأمريكي): يضم الولايات المتحدة - كندا - المكسيك.

• المجموعة الأوروبية (المجال الأوروبي).

• دول آسيا الشرقية (مجال الهادي): أهم أعضائها اليابان والدول الحديثة التصنيع.

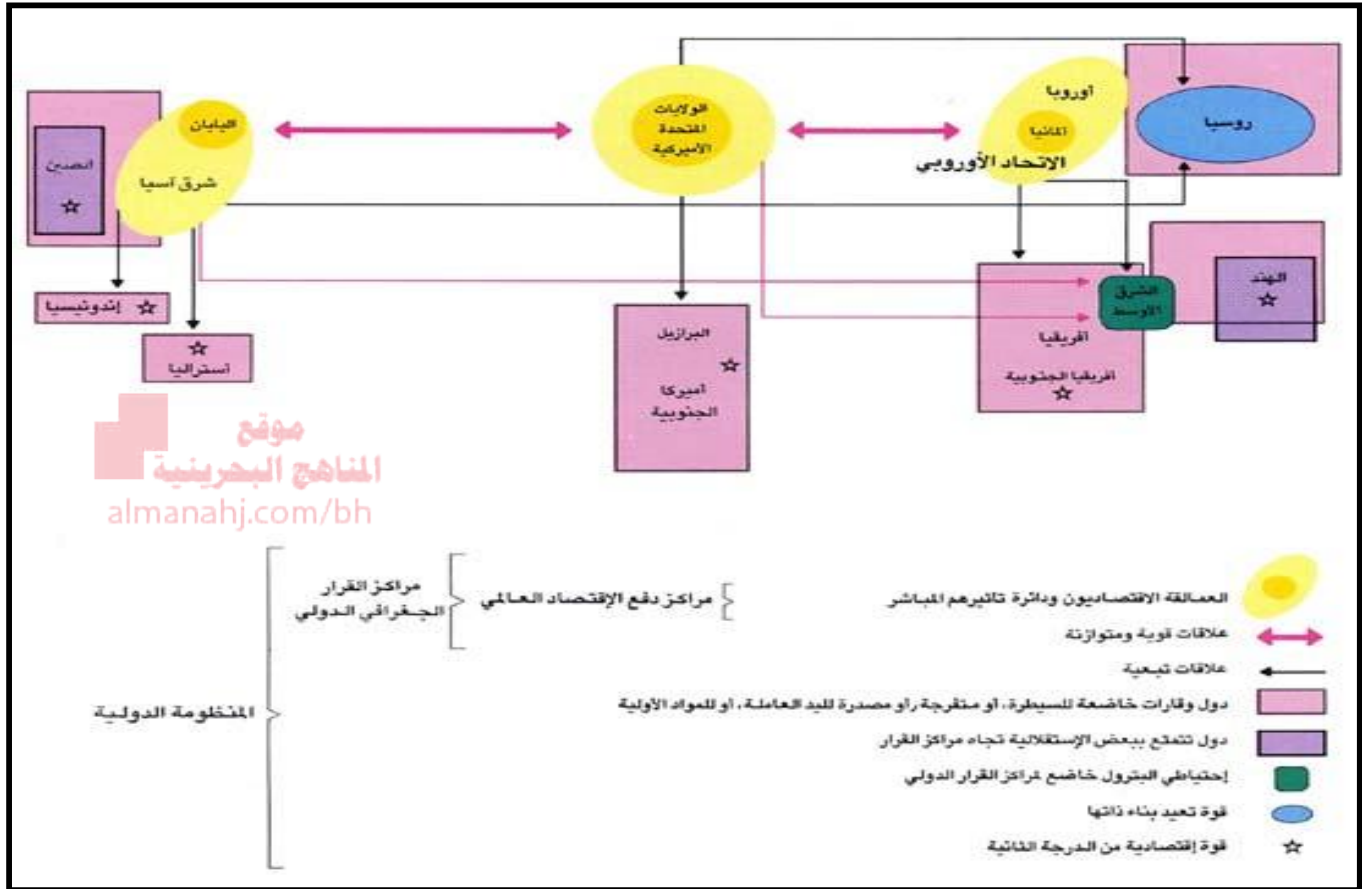
موقع  
المنهج البحرينية  
almanahj.com/bh

١١ - قارن بين الآتي:

١. إقامة سوق حرة للتبادل.	المجال الاقتصادي لمنطقة شمال أمريكا
٢. توسع السوق والاستفادة الاقتصاد من وفرة اليد العاملة.	
٣. بداية لتوسع قد يمتد إلى دول أخرى في القارة الأمريكية.	
١. تأسست هذه المجموعة مع اتفاقية روما سنة ١٩٥٧ م.	المجال الاقتصادي للمجموعة الأوروبية
٢. ضمت ٦ دول أوروبية (ألمانيا، فرنسا، إيطاليا، بلجيكا، هولندا، لوكسمبورغ).	
٣. سعت هذه المجموعة إلى تأسيس الاتحاد الأوروبي.	
٤. تشكل هذه المجموعة سوقاً استهلاكية ضخمة وغنية بالموارد والرساميل.	
١. أهم أعضائها اليابان والدول الحديثة التصنيع (هونغ كونغ، سنغافورا، تايوان، كوريا الجنوبية).	المجال الاقتصادي لدول آسيا الشرقية
٢. أدى إلى نمو هذه المجموعة الاقتصادية إلى تحويل التجارة الخارجية من المحيط الأطلسي إلى المحيط الهادي.	

## كتابة وطباعة: السيد احمد السيد مجيد السيد علي مقرر: الجغرافيا الاقتصادية (أجا ١٠٢)

١٢ -اقرأ المستند الذي يبين المنظومة الدولية، ثم أجب عن الأسئلة التي تليه انطلاقاً منه وفي ضوء ما درستته: -



١ - سمّ العمالة الاقتصادية في المنظومة الدولية .

- ألمانيا.
- الولايات المتحدة الأمريكية.
- اليابان.

٢ - في أي منطقة يخضع احتياطي البترول لمركز القرار الدولي؟

- الشرق الأوسط.

٣ - ما الدول التي تتمتع ببعض الاستقلالية تجاه مركز القرار؟

- الهند.
- الصين.

٤ - عدد عناصر المنظومة الدولية .

- سوق منظم.

- شركات متعددة الجنسيات.

- مواصلات عالمية.

- التقسيم الدولي للعمل.

٥ - بين التحولات التي طرأت على المنظومة الدولية .

- سقوط الثنائية (سقوط الاتحاد السوفيتي).

- بروز قوى اقتصادية جديدة (منطقة شمال أمريكا للتبادل الحر + المجموعة الأوروبية + دول شرق آسيا).







## الدرس الثاني عشر

### نمط التنمية الأوروبي

١ - ما هي المراحل التي مرت بها أوروبا؟

§ الثورة الزراعية. § الثورتان الصناعيتان الأولى والثانية. § الثورة الثالثة (التي يعيشها العالم اليوم).

٢ - أذكر أهم التغيرات التي أحدثتها الثورة الزراعية في أدوات الإنتاج وأنماطه في أوروبا.

§ إلغاء نظام المناوبة وإحلال الدورة الزراعية. § الجمع بين الزراعة وتربية الماشية.  
§ إدخال زراعات جديدة والتوسع في إنتاجها. § تحسين أدوات العمل الزراعي.  
§ تأصيل الحيوانات وانتقاء البذور. § تجفيف المستنقعات وتوسيع الأراضي.

٣ - كيف أدت الثورة الزراعية إلى توفير الشروط الأساسية لانطلاق الثورة الصناعية الأولى؟

§ زيادة الإنتاج إلى أكثر من ٥٠%. § أدت إلى النمو الديموغرافي الكبير  
§ تفريغ قطاع مهم من الأيدي العاملة للصناعة. § نشطت الصناعات النسيجية.

٤ - قارن بين الثورات الصناعية الأولى والثانية والثالثة من حيث أهم الخصائص:

§ تلبية حاجات السوق الداخلية من السلع الاستهلاكية الخاصة بالنسيج. § صناعة النسيج الرمز الأول للنمو الصناعي. § انتشار زراعة القطن وتربية الأغنام. § تضاعف الطلب على الحديد. § اختراع المحرك البخاري نهاية القرن ١٨م. § زاد استخدام الفحم الحجري. § ارتفعت حمولة الأسطول البحري التجاري الدولي.	§ الثورة الصناعية الأولى (تقنيات بسيطة، طاقة ملوثة وكثير من الحديد)
§ بدأت أوائل القرن ٢٠. § تمثلت باختراع توليد الكهرباء واكتشاف النفط وظهور الصناعات الكيماوية. § اختراع المحرك الانفجاري. § حل محرك الديزل محل الآلة البخارية في تشغيل الآلات الكبيرة. § إنتاج الألمنيوم وعدة مركبات كيماوية. § تزايد إنتاج الفحم الحجري. § تكثفت حركة وسائل النقل بين القارات § اجتذاب العمالة على حساب القطاع الزراعي.	§ الثورة الصناعية الثانية (تغيرات نوعية)
§ بدأت في العقود الأخيرة من القرن ٢٠. § استعمال الطاقة الذرية والجيوفيزيائية والالكترونيات. § تطور علوم الفضاء § أدت لتحسين نوعية نوعية الآلات وشروط العمل. § التوسع في استخدام العمل الآلي في المصانع الكبرى. § برزت أهمية الكادرات العليا المتخصصة في إدارة العمل. § نزوح العمالة قطاعيا نحو قطاع الخدمات.	§ الثورة الصناعية الثالثة (ثورة صناعة وتقنية)

## كتابة وطباعة: السيد احمد السيد مجيد السيد علي مقرر: الجغرافيا الاقتصادية (أجا ١٠٢)

٥ - ما أهم الصناعات في: الثورة الأولى، الثانية، والثالثة؟

الثورة الصناعية الأولى	§ صناعة النسيج - القطن - تربية الماشية - استخراج الفحم.
الثورة الصناعية الثانية	§ الألمنيوم - البلاستيك - النايلون.
الثورة الصناعية الثالثة	§ صناعات تقنية متطورة (فضاء - طائرات ...)

٦ - وضح خصائص نمط التنمية الأوروبي.

§ الزراعة أساس الانطلاقة الصناعية.

§ بساطة التقنيات وسهولة انتقالها.

§ الحاجات الداخلية محرك التنمية.

§ التأهيل المهني.

٧ - عدد المشاكل التي نتجت عن نمط التنمية الأوروبي.

§ السباق على الموارد والأسواق.

§ تفاوت النمو بين دول العالم.

§ التنافس على الأسواق والحروب الاقتصادية.

٨ - كيف واكب التأهيل المهني في الدول الصناعية تطور تقنيات العمل؟

§ في البداية: كانت الأعمال الصناعية بسيطة لا تتطلب طاقة عقلية بقدر ما يلزمها من طاقات عضلية.

§ في الثورة الصناعية الثانية: التنظيم العلمي للعمل فرض تخصصات مختلفة ومهارات محددة.

§ في الثورة الصناعية الثالثة: تفرض إعداداً عالياً للقسم الأكبر من اليد العاملة بسبب تعقد الآلات وبسبب

الحاجة الدائمة إلى الابتكار والتجديد لاستمرار النمو الاقتصادي.

٩ - ما نتائج الصراع بين الدول الصناعية من أجل السيطرة على الموارد الطبيعية في العالم؟

§ الاستعمار في مرحلة أولى.

§ تحول لاحقاً إلى أشكال جديدة من السيطرة الاقتصادية على بلدان العالم النامي.

١٠ - ما معنى المراكز والأطراف في بنية الاقتصاد العالمي؟

§ المراكز: هي الدول الصناعية التي تتراكم فيها الرساميل والتقنيات الحديثة وهي التي تحرك الاقتصاد الدولي.

§ الأطراف: هي دول العالم النامي حيث تستخرج المواد الأولية وتتوافر فيها مصادر الطاقة ويسوق إنتاج الدول

الصناعية وتكثر فيها اليد العاملة الرخيصة.

١١ - لماذا طبقت الدول الصناعية الحماية الجمركية منذ القرن ١٩م لغاية الحرب العالمية الثانية؟

لحماية السلع الوطنية والصناعات المحلية من المنافسة الخارجية.

## كتابة وطباعة: السيد احمد السيد مجيد السيد علي مقرر: الجغرافيا الاقتصادية (أجا ١٠٣)

١٢ - أقرأ المستند الذي يبين مفهوم الثورة الصناعية، ثم أجب عن الأسئلة التي تليه انطلاقاً منه وفي ضوء دراسته:

**١ مفهوم الثورة الصناعية**  
إن الثورة تعني تغيرات سريعة وعنيفة، تطول غالباً المجتمع على المستويات السياسية والاجتماعية والاقتصادية. لكن الثورة الصناعية تعني تغيرات تقنية واقتصادية أساسية. وقد أدت في أوروبا إلى انتقال بطيء وتدرجي من مجتمع تقليدي قائم على النشاط الزراعي إلى مجتمع حديث قائم على النشاط الصناعي. وكان لهذا الانتقال تأثيرات مهمة على البنى الاجتماعية والاقتصادية والسياسية لشعوب أوروبا، ثم على باقي مجتمعات العالم. وقد توافرت في إنجلترا، مهد الثورة الصناعية الأولى، عدة شروط اقتصادية وعلمية أدت إلى هذه الانطلاقة الصناعية، وهي: الرساميل، والتقنية، واليد العاملة، والسوق اللازمة لتصريف الإنتاج.

١ - حدد مفهوم الثورة الصناعية.

§ الثورة الصناعية تعني تغيرات تقنية واقتصادية وسياسية.

٢ - ما أثر الثورة الصناعية على المجتمع الأوروبي؟

§ أدت في أوروبا إلى انتقال بطيء وتدرجي من مجتمع تقليدي قائم على النشاط الزراعي إلى مجتمع حديث قائم على النشاط الصناعي.

§ كان لهذا الانتقال مهمة على البنى الاجتماعية والاقتصادية والسياسية لشعوب أوروبا.

٣ - ما الشروط التي توافرت في إنجلترا لانطلاق الثورة الصناعية؟

§ الرساميل § التقنية § اليد العاملة § السوق اللازمة لتصريف المنتجات

٤ - قارن بين الثورة الصناعية الثانية والثورة الصناعية الثالثة.

الثورة الصناعية الثانية	الثورة الصناعية الثالثة
§ بدأت في أوائل القرن العشرين.	§ بدأت في العقود الأخيرة من القرن العشرين.
§ تمثلت باختراع توليد الطاقة واكتشاف النفط.	§ استعمال الطاقة الذرية والشمسية والجيو فيزيائية.
§ ظهور الصناعة الكيميائية.	§ انتشار الالكترونيات والمعلوماتية الأتمتة.
§ اختراع المحرك الانفجاري.	§ تطور علوم الفضاء.
§ حل المحرك الديزل محل الآلة البخارية في تشغيل الآلات الكبيرة.	§ إحلال الموارد البلاستيكية محل الخشب والألياف الطبيعية والمطاط.
§ اجتذب القطاع الصناعي خلالها قسماً من اليد العاملة على حساب نسبة العاملين في القطاع الزراعي.	§ أدت إلى تحسين نوعية الآلات وشروط العمل.
	§ التوسع في استخدام العمل الآلي والروبوت في المصانع الكبرى.
	§ الرقابة الالكترونية لمراحل الإنتاج.
	§ برزت أهمية الكادرات العليا المتخصصة في إدارة العمل.

## الدرس الثالث عشر

### الولايات المتحدة الأمريكية - الزراعة والصناعة

١ - علل: تعتبر الولايات المتحدة الأمريكية قوة عظمى.

§ مركز النظام الدولي الحالي

§ خرجت منتصرة بعد الحرب العالمية الثانية التي لم تجر على أراضيها.

§ مارست قوتها السياسية والاقتصادية في العالم من خلال مجلس الأمن الدولي ، ونظام النقد الدولي وقوتها العسكرية.

٢ - عدد مواطن القوة في الزراعة الأمريكية.

§ الأسواق الزراعية محرك أساسي.

§ زراعة ممكنة تستعمل تقنيات متطورة.

§ التنظيم الزراعي.

§ الزراعة حلقة وسيطة في النظام الاقتصادي.

§ تحولات المجال الزراعي.

٣ - ما أثر الأسواق في الزراعة الأمريكية؟

§ المحرك الأساسي لقطاع الزراعة.

§ تلبي الحاجات الصناعية والاستهلاكية للمؤسسات الزراعية.

٤ - ما الفرق بين:

§ يملكها مزارعون يعملون جزئيا لزيادة دخلهم.	المزارع الصغيرة
§ تشكل ٧٠% من عدد الاستثمارات.	
§ تحقق ١٠% من الإنتاج.	
§ تتراوح قيمة إنتاج الواحدة سنويا بين ٤٠ و ٢٥٠ ألف دولار أمريكي.	المزارع العائلية
§ لا تزيد مساحة الواحدة منها عن ٣٠٠ هكتار.	
§ تعتمد على العمالة الزراعية.	
§ تشكل ٢٥% من الاستثمارات.	
§ تنتج ٤٠% من المحاصيل الزراعية.	
§ تشكل ٥% من عدد الاستثمارات.	المزارع الرأسمالية الحديث
§ معدل إنتاج الواحدة يفوق ٢٥٠ ألف دولار أمريكي سنويا.	
§ تديرها عائلات أو شركات مساهمة أو تجمعات صناعية غذائية.	
§ يبلغ إنتاجها ٥٠% من المحاصيل الزراعية.	

٥ - علل: تعاني الزراعة الأمريكية رغم تقدمها من مشاكل بيئية واقتصادية عدة.

§ التلوث.

§ التغيرات المناخية المفاجئة.

§ مديونية المزارعين.

§ ضيق الأسواق الزراعية.

## كتابة وطباعة: السيد احمد السيد مجيد السيد علي مقرر: الجغرافيا الاقتصادية (أجا ١٠٣)

٦ - علل: تواكب مؤسسات الاستثمار الزراعي صناعات وخدمات عديدة.

- § لتؤمن لها مقومات الإنتاج في مراحله كافة.
- § أولها صناعة الآليات والأدوات الزراعية والأسمدة والأعلاف والأدوية البيطرية ومبيدات الحشرات ...
- § آخرها الصناعات الغذائية ومؤسسات التوزيع والدعاية وصناعة النسيج والتبغ ...
- § هذه الصناعات تحت المؤسسات الزراعية على التحديث وزيادة الإنتاج.
- § تسعى للحفاظ على استقرار الأسعار.
- § تضغط أحيانا على الحكومة لدعم القطاع الزراعي وتسهيل الإنتاج.

٧ - علل: اهتمام الولايات المتحدة الأمريكية بالفحم الحجري لتوليد الطاقة بعد سنة ١٩٧٣ م.

- § توافره بكميات كبيرة (ثلث) الاحتياطي العالمي موجود في الولايات المتحدة الأمريكية.
- § كلفته متدنية.
- § ارتفاع أسعار النفط.
- § المحافظة على احتياطها من النفط.

٨ - علل: توافر اليد العاملة الصناعية بكثرة في الولايات المتحدة الأمريكية.

- § توافر الإعداد الفني والمهني للأيدي العاملة.
- § استقطاب الاختصاصيين من الخارج ومنهم جنسياتهم بشكل انتقائي.

٩ - حدد المناطق التي تتركز فيها الصناعات القديمة الأمريكية.

- § التعدين: تتركز في بيتسبرغ - كليفلند - شيكاغو.
- § قطاع النسيج: ١. الغزل والحياكة تتركز في كارولينا وجورجيا.
- ٢. التفصيل والخياطة في المناطق الحرة في المكسيك (ماكيلادوراس).
- § صناعة السيارات: في نقطة البحيرات الكبرى (ديترويت - عاصمة السيارات في العالم).

١٠ - علل: تعتبر صناعة الإلكترونيات والكيمياء من أهم دعائم الاقتصاد الأمريكي.

- § تسيطر عليها شركات عملاقة متعددة الجنسيات.
- § تسيطر على هذه الشركات على الأسواق الداخلية والعالمية.
- § يعود إليها اكتشاف الكثير من المواد والتقنيات.
- § تقوم هذه الشركات بتحديث الاكتشافات في مجال المعلوماتية والتقنيات الإحيائية.
- § تجتذب إليها الباحثين والعلماء والمهندسين من مختلف أنحاء العالم.

١١ - اشرح واقع الصناعات الفضائية الأمريكية.

- § تتقدم فيها الولايات المتحدة دون منافس.
- § مسيطرة على الأسواق العالمية الداخلية.
- § تستخدم ٢٥٠٠ طائرة نفثة.
- § تستفيد الشركات التي تعمل في هذا المجال من تنفيذ برامج ناسا لغزو الفضاء.

١٢ - علل: ازدهار صناعة البناء في حزام الشمس.

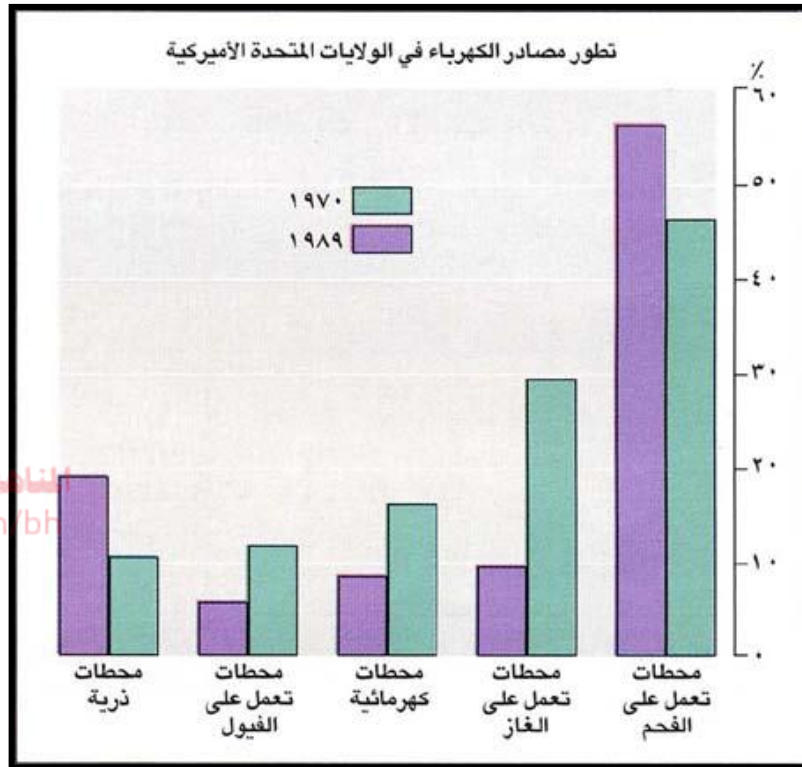
- § انتقال الصناعات الحديثة نحو الجنوب والجنوب الغربي.
- § جذب العمالة نحو الجنوب.
- § تعاضم نمو قطاع البناء في هذا الحزام.

١٣ - حدد أهم التحديات التي تواجه الصناعة في الولايات المتحدة الأمريكية.

- § منافسة أوروبية محدودة في مجال الطيران.
- § منافسة يابانية كبيرة في مجال تسويق الإلكترونيات.
- § منافسة الدول الحديثة التصنيع في السيارات والتعدين والنسيج.

## كتابة وطباعة: السيد احمد السيد مجيد السيد علي مقرر: الجغرافيا الاقتصادية (أجا ١٠٣)

١٤ - اقرأ المستند الذي يوضح تطور مصادر الكهرباء في الولايات المتحدة الأمريكية ثم أجب عن الأسئلة التي تليه انطلاقاً منه وفي ضوء ما درسته:



١ - عدد مصادر الكهرباء في الولايات المتحدة.

§ الفحم.

§ الغاز.

§ الكهرباء.

§ الفول.

§ الذرة.

٢ - حدد المصادر التي ساهمت بنسبة أكبر من ١٠% عام ١٩٨٩.

الفحم ، الذرة.

٣ - أحسب الفرق في نسبة مساهمة محطات الغاز بين عام ١٩٧٠ و ١٩٨٩.

$$30 - 20 = 20\%$$

٤ - لماذا أولت الولايات المتحدة الفحم الحجري اهتماماً خاصاً بعد سنة ١٩٧٣م؟

§ لتوافره.

§ كلفته متدنية.

§ لوجود ثلث الاحتياطي العالمي منه في الولايات المتحدة.

§ حفاظاً على احتياطها من السائل الأسود.

## الدرس الرابع عشر

### الولايات المتحدة الأمريكية - الخدمات والمبادلات

١ - بين أنواع الخدمات في الولايات المتحدة الأمريكية.

- الخدمات العادية: ١. التجارة والخدمات ٢. المواصلات
- الخدمات العليا: ١. القرار الاقتصادي ٢. مدن المال والأعمال ٣. اتجاهات المستقبل

٢ - ما الدور الذي تلعبه المواصلات في الولايات المتحدة الأمريكية؟



موقع  
المناهج البحرينية  
almanahj.com

- وحدة المواصلات المجال الجغرافي الأمريكي.

- وسعت السوق الداخلية.

- يعمل ثلاثة ملايين عامل في مجال الصيانة والإدارة وتوزيع الطاقة والتحميل والتفريغ

٣ - لماذا تم تطوير سكك الحديد والنقل المائي؟ وأي نتيجة خلفها التنافس بين هاتين الوسيلتين؟

- بفضل السيطرة على المجال الجغرافي.
- ربط شبكات سكك الحديد.
- وجود البحيرات سمح ببناء شبكة خطوط مائية.
- أدى إلى خفض تكاليف النقل.

٤ - صف واقع النقل البري؟

تتمتع بشبكة نقل بري حديثة ومتقدمة، وتولتها إنشاءها الإدارة الفدرالية فهناك خطوط تربط شواطئ الأطلسي بالهائي وأخرى تربط مدن الجنوب بمدن الشمال الصناعي.

٥ - ما العوامل التي أدت إلى تنشيط النقل الجوي وتلك التي أدت إلى خفض أسعار التذاكر؟

- اتساع الأعمال وازدهارها نشطت الطائرة في النقل الداخلي.
- المنافسة التي أدت إلى خفض أسعار التذاكر.

٦ - أين يتم اتخاذ القرار الاقتصادي بالنسبة للمؤسسات الكبرى؟

في المركز الرئيسي لأنه يجمع بين القرار والإدارة، والإدارة العامة تقوم بأعمال الإشراف الإداري، وتضع الخطط المستقبلية لعمل هذه المؤسسات، تتجمع مراكز الإدارة العامة للمؤسسات الكبرى في أحياء المال والأعمال.

٧ - كيف تتوزع مدن المال والأعمال في الولايات المتحدة؟

المنطقة	أهم المدن
منطقة الساحل الشمالي	نيويورك - فيلادلفيا - بلتيمور - واشنطن (مركز الحكم الفيدرالي).
منطقة البحيرات الكبرى والوسط الغربي	شيكاغو - ديترويت - مينيابوليس - كليفلاند
منطقة الجنوب	دالاس - هيوستن
منطقة الغرب	لوس أنجلوس - سان فرانسيسكو - سيائل

٨ - علل: تركزت الشركات الصناعية والمالية في السابق على الساحل الشمالي الشرقي للولايات المتحدة.

بسبب العلاقات التي كانت قائمة مع أوروبا إبان الثورة الصناعية الثانية.

## كتابة وطباعة: السيد احمد السيد مجيد السيد علي مقرر: الجغرافيا الاقتصادية (أجا ١٠٢)

٩ - حدد أنواع المبادلات الخارجية الأمريكية.

السلع - الرساميل - الإنتاج العلمي والثقافي (وتسيطر على الحبوب والنفط).

١٠ - حدد أسماء الشركات التجارية للولايات المتحدة الأمريكية.

§ كندا § أوروبا § اليابان § المكسيك

كندا الشريك التجاري الأول المكسيك المستدين الأول

١١ - قارن بين:

الواردات الأمريكية	الصادرات الأمريكية
<ul style="list-style-type: none"> <li>تدخل سوقها السلع الآسيوية والأوروبية والكندية والمكسيكية وغيرها.</li> <li>مؤلفة من البترول والمواد الزراعية والمدارية والسلع المصنعة والسيارات والأجهزة الكهربائية الإلكترونية.</li> <li>تزايدت هذه السلع في الثمانينات حيث شكا ١٤% من الاستهلاك العام.</li> <li>تملك قدرة تنافسية عالية بسبب جودتها ورخص ثمنها.</li> </ul>	<ul style="list-style-type: none"> <li>تصدر السلع المصنعة العالية التقنية.</li> <li>تسيطر على سوق الطيران والفضاء.</li> <li>سوق الإلكترونيات وسوق الأسلحة.</li> <li>تؤثر مباشرة في تجارة الفحم الحجري والحبوب والصناعات الغذائية.</li> </ul>

١٢ - علل: تواجه الولايات المتحدة الأمريكية رغم قوتها الاقتصادية صعوبات تجارية كبيرة.

- اشتداد المنافسة الخارجية بينها وبين الدول الصناعية.
- تراجع مبيعات الولايات المتحدة من الصلب وشبه المواصلات بسبب المنافسة اليابانية لها.
- نشأت حرب الحبوب بينها وبين السوق الأوروبية المشتركة.

١٣ - من يقوم بالاستثمارات الخارجية الأمريكية؟ وكيف يتم ذلك؟

الشركات المتعددة الجنسيات الأمريكية وذلك عن طريق فتح فروع متعددة لها في أنحاء العالم.

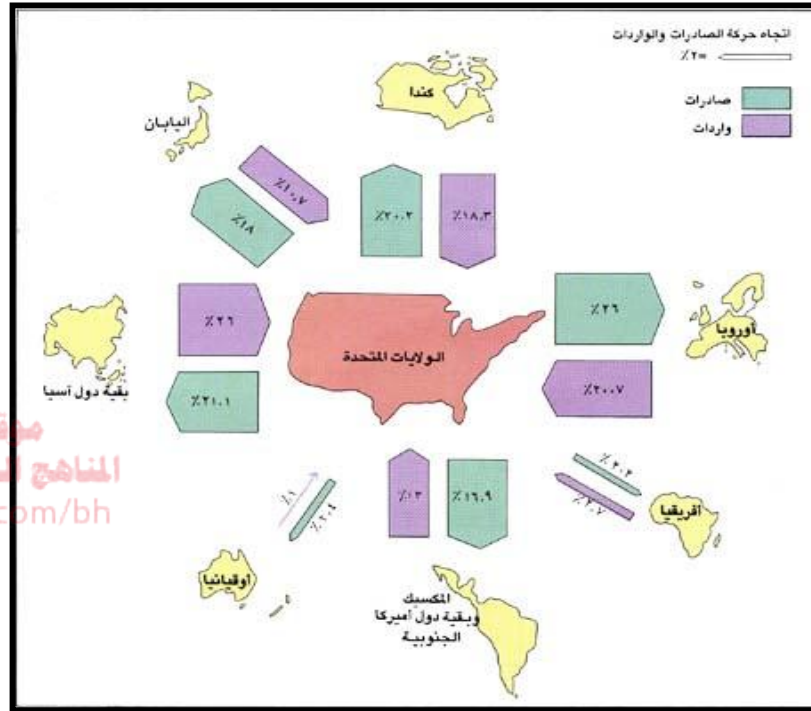
١٤ - علل: انتشار اللغة (الانجليزية - الأمريكية) في العالم.

- لغة الأعمال والعلوم.
- يتكلمها أكثر من ٧٠٠ مليون شخص في العالم.
- ينتشر نمط الحياة الأمريكية عبر دول العالم من خلال الموسيقى الأمريكية وأنماط الملابس وطرق الاستهلاك.
- مصدر المصطلحات العلمية في المعلوماتية والإلكترونية والفضاء.
- لغة المؤتمرات والأبحاث العلمية.
- دخلت الأطباق الأمريكية مطابخ العالم.
- تهتم مؤسسة فورد بنشر هذه اللغة فتخصص لها كل سنة ٦٠ مليون دولار تتفق في إعداد معلمي اللغة الانجليزية في أنحاء العالم كافة.



## كتابة وطباعة: السيد احمد السيد مجيد السيد علي مقرر: الجغرافيا الاقتصادية (أجا ١٠٣)

١٥ - أقرأ المستند الذي أمامك والذي يمثل التبادل التجاري بين الولايات المتحدة الأمريكية والعالم وفي ضوء المستند ومما درسته أجب عن الأسئلة التي تليه:



١ - سم الدول التي تقيم معها الولايات المتحدة الأمريكية علاقات تجارية.

- § كندا
- § أوروبا
- § أفريقيا
- § المكسيك وبقية دول أمريكا الجنوبية
- § بقية دول آسيا
- § أوقيانوسيا
- § اليابان.

٢ - أي من الدول تسجل أكبر صادرات مع الولايات المتحدة الأمريكية؟

§ أوروبا

٣ - أي من الدول تسجل أقل واردات مع الولايات المتحدة الأمريكية؟

§ أوقيانوسيا

٤ - ما مجموع صادرات كل من أفريقيا واليابان مع الولايات المتحدة الأمريكية؟

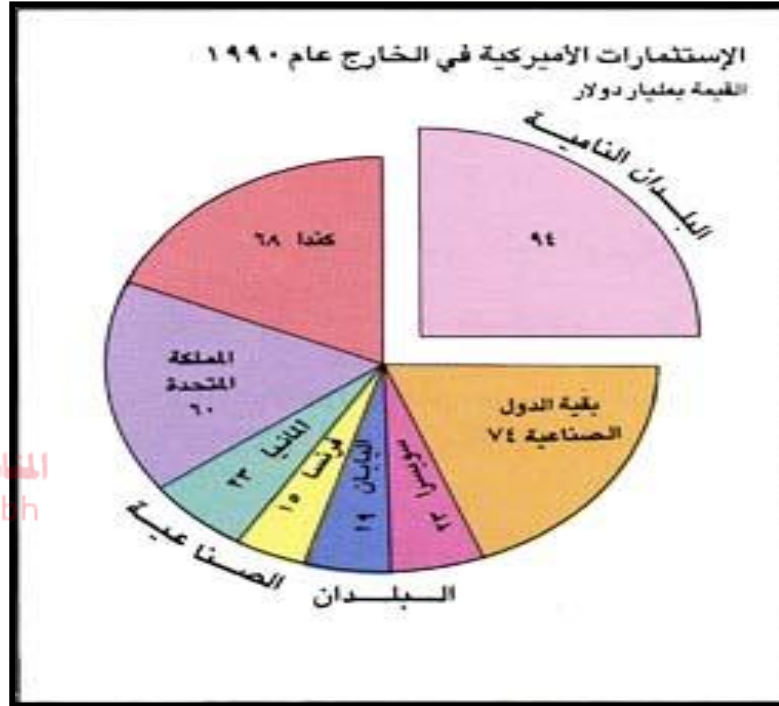
$$\text{§ } 2.2\% + 1.8\% = 4.0\%$$

٥ - قارن بين:

الواردات الأمريكية	الصادرات الأمريكية
البتترول والمواد الزراعية المدارية والسلع المصنعة والسيارات والأجهزة الكهربائية والإلكترونية بسبب جودتها ورخص ثمنها.	السلع المصنعة والعالية التقنية. تسيطر على سوق الطيران والفضاء. سوق الإلكترونيات وسوق الأسلحة تؤثر مباشرة في تجارة الفحم الحجري والحبوب والصناعات الغذائية.

## **كتابة وطباعة: السيد احمد السيد مجيد السيد علي مقرر: الجغرافيا الاقتصادية (أجا ١٠٣)**

١٦ - أقرأ المستند الذي يبين الاستثمارات الأمريكية في الخارج ثم أجب على الأسئلة التي تليه انطلاقاً منه وفي ضوء دراستك:



موقع  
المنهج البحرينية  
almanahj.com/ln

١ - سم ثلاث بلدان صناعية تنتمي إلى الاتحاد الأوروبي تتوجه إليها الاستثمارات الأمريكية.

§ فرنسا § ألمانيا § المملكة المتحدة.

٢ - احسب الفرق بين قيمة الاستثمارات الأمريكية في البلدان النامية وقيمة الاستثمارات في كندا.

§ ٩٤ - ٦٨ = ٢٦ مليار دولار.

٣ - بم تفسر ارتفاع قيمة الاستثمارات الأمريكية في البلدان النامية؟

ترتفع قيمة الاستثمارات الأمريكية في البلدان النامية بسبب امتلاك الدول النامية لعمالة رخيصة تمنح تسهيلات جمركية وضرائبية مهمة.

٤ - ماذا يطلق على الشركات الأمريكية التي تقوم بالاستثمارات الخارجية؟

يطلق عليها الشركات المتعددة الجنسيات.

٥ - ما الصعوبات التي تواجه التجارة الخارجية الأمريكية؟

§ المنافسة الخارجية بينها وبين الدول الصناعية.

§ تراجع مبيعات الولايات المتحدة من الصلب وشبه الموصلات بسبب المنافسة اليابانية لها.

§ نشأت حرب الحبوب بينها وبين السوق الأوروبية المشتركة.

## **الدرس الخامس عشر**

### **الاتحاد الأوروبي**

١ - أذكر أهداف السوق الأوروبية المشتركة.

- § توحيد السوق بإزالة الحواجز الجمركية بين الدول الأعضاء.
- § توحيد السياسة التجارية بإيجاد تعرفه جمركية موحدة للسلع المستوردة.
- § حرية انتقال الأشخاص والرساميل والخدمات بين الدول الأعضاء.
- § توحيد السياسة الزراعية والنقل.
- § تنسيق السياسة الاقتصادية والاجتماعية والتشريعية.
- § انضمام دول ما وراء البحار إلى السوق.
- § إنشاء السوق بطريقة مرحلية خلال ١٢ أو ١٥ سنة.



٢ - عدد المؤسسات التي أنشئت لدعم تطوير السوق، محدداً دورها.

- § المصرف الأوروبي للاستثمار (يسهم في إرسال تنمية متوازنة).
- § الصندوق والاجتماعي الأوروبي (يقدم تسهيلات في مجال استخدام الأيدي العاملة).
- § المجلس الاقتصادي الاجتماعي (يشجع على الحوار بين فرقاء العمل).
- § الصندوق الأوروبي للتوجيه والضمان الزراعي (يمول السياسة الزراعية المشتركة).

٣ - ما هي الخطوات التي اتبعتها الأوروبيون لتوسيع المجال الجغرافي للسوق الأوروبية المشتركة؟

- § عقدت السوق الأوروبية المشتركة اتفاقيات تبادل مع الدول التي كانت في السابق مستعمرات أوروبية بمنحها تسهيلات تجارية خاصة وأسعار ثابتة لصادراتها.
- § اتفاقية روما تركت الباب مفتوحاً أمام بقية الدول الأوروبية والدول المتوسطة للتعامل مع السوق.
- § وقعت الدول الأعضاء اتفاقية المرسوم الأوروبي الوحيد التي تنص على تحويل السوق المشتركة إلى سوق موحدة.

٤ - ما هي النتائج توقيع اتفاقية ماستريخت عام ١٩٩١م:

أهم بنودها الاقتصادية:

- § التقريب بين اقتصاديات الدول الأعضاء.
- § تطبيق سياسة نقدية موحدة.
- § اتخاذ وحدة النقد الأيكون عملة مشتركة صادرة عن المصرف المركزي الأوروبي.

أهم بنودها السياسية:

- § إتباع سياسة خارجية مشتركة.
- § السعي إلى تطبيق سياسة دفاع موحدة.
- § توسيع صلاحيات البرلمان الأوروبي.
- § تغيير مسمى السوق الأوروبية المشتركة إلى الاتحاد الأوروبي.

**كتابة وطباعة: السيد احمد السيد مجيد السيد علي مقرر: الجغرافيا الاقتصادية (أجا ١٠٣)**

٥ - علل: تحول الأوروبيون إلى عملة اليورو بدلا عن الإيکو.

§ عدم تمكن الإيکو من الصمود أما منافسة العملات الأخرى خاصة الدولار.

§ رغبة الاتحاد الأوروبي في ضمان نفوذه النقدي في العالم.

٦ - بين أهم النتائج الاقتصادية للاتحاد الأوروبي.

§ يمثل القوة التجارة الأولى في العالم.

§ القوة الصناعية الثانية في العالم.

§ أوسع سوق العالم.

§ في مجال التقنية الحديثة يملك برامج فضائية أوقمار ومصانع متطورة للطيران المدني والعسكري.

§ تنفذي برامج متطورة في المعلوماتية والمواصلات والتقنيات الحديثة.

## **الدرس السابع عشر**

### **اليابان**

١ - ما هي الشروط الطبيعية القاسية التي تواجه اليابان؟

- سهول زراعية ضيقة.
- موارد معدنية ومصادر طاقة محدودة جداً.
- هزات أرضية وانفجارات بركانية تهدد دائماً بالكوارث.

٢ - وضع مواطن القوة في الاقتصاد الياباني.

- الواجهة البحرية.
- اتفاق الدولة وأصحاب الأعمال.
- الادخار والاستثمار.
- الرأسمال البشري.
- ثنائية المؤسسات الصناعية.
- السوغوشوشا.



٣ - علل: تعتبر الواجهة البحرية من مواطن القوة في الاقتصاد الياباني.

- مكسب اقتصادي طبيعي.
- تجعلها قريبة من السواحل الآسيوية من جهة.
- منفوحة على المحيط الهادئ من جهة أخرى.
- تسمح الخلجان العميقة فيها بإقامة إنشاءات مرفئية متعددة.

٤ - ما هي أبرز مهمات وزارة الصناعة والتجارة وبين نقابات أصحاب العمل.

- جمع المعلومات حول التكنولوجيا المستعملة والأسواق الدولية.
- توجيه الأبحاث.
- مساعدة القطاعات الإنتاجية في أوقات الأزمات.
- إدارة المفاوضات التجارية مع الخارج.
- فتح أسواق جديدة

٥ - علل: تعد المؤسسات الصناعية الكبرى إحدى مواطن القوة في الاقتصاد الياباني.

- متنوعة الإنتاج.
- تستخدم تقنيات متطور.
- تعتمد على استثمار الرساميل الضخمة.
- تعتمد على الأعداد الكبيرة من الأيدي العاملة.
- قدرتها على المنافسة لاعتمادها على المؤسسات المتوسطة والصغيرة.

٦ - قارن بين:

المؤسسات الصناعية المتوسطة والصغيرة	المؤسسات الصناعية الكبرى في اليابان
<ul style="list-style-type: none"><li>• معظمها مؤسسات عائلية.</li><li>• تعتمد على تنفيذ الأعمال الصناعية التي تلزمها</li><li>• إياها المؤسسات الكبرى..</li><li>• تكاليف إنتاجها منخفضة بسبب الطابع العائلي</li><li>• ورخص أجور اليد العاملة.</li></ul>	<ul style="list-style-type: none"><li>• أبرزها الكبريات الثلاث: ميتسوبيشي، ميتسوي، وسوميتمو.</li><li>• متنوعة الإنتاج "تنتج الطائرة ولألعاب الأطفال".</li><li>• تعتمد على تقنيات متطورة ورساميل ضخمة وعدد كبير من العمالة المؤهلة.</li><li>• لها قدرة عالية على المنافسة العالمية.</li></ul>

## **كتابة وطباعة: السيد احمد السيد مجيد السيد علي مقرر: الجغرافيا الاقتصادية (أجا ١٠٢)**

٧ - عرف السوغوشوشا مينا دورها في التنمية الاقتصادية.

مؤسسة تجارية دورها الأساسي الوساطة في التبادلات التجارية الداخلية والخارجية والتنسيق بين مؤسسات الإنتاج والسوق.

٨ - بين أهم معوقات الزراعة في اليابان.

- قلة مساحة الأراضي الصالحة للزراعة.
- الزحف العمراني الناشط.
- تغطي الغابات ٧٠% من مساحة البلاد.
- ٦٠% من الأراضي الزراعية يحتاج إلى الري.
- وقوع باقي الأراضي في المنطقة المدارية شبه الرطبة التي تغزر فيه الأمطار الموسمية.

٩ - عدد العوامل الطبيعية والخارجية التي تعيق الصناعة في اليابان.

- نقص الموارد الطبيعية.
- ارتفاع كلفة اليد العاملة.
- منافسة الدول الحديثة التصنيع.
- تغير أسعار النفط.
- الركود الاقتصادي.

١٠ - أذكر الصناعات ذات القيمة المضافة العالية في اليابان.

- صناعة السيارات.
- صناعة الدراجات النارية.
- الصناعات الإلكترونية (الكمبيوتر، الأجهزة المكتبية، أجهزة الاتصالات...)

١١ - ما الأسس التي تقوم عليها التجارة الخارجية في اليابان؟

- توسيع الصادرات وتقليص الواردات.
- حماية سوقها الداخلية على نظام الحصص.
- الحواجز الجمركية غير الضريبية.
- الحس الوطني للمستهلك الياباني.

١٢ - علل: تعتبر اليابان القوة المالية الأولى في العالم.

- زيادة الفوائض المالية بسبب التجارة الخارجية والتوفير الداخلي.
- الدائن الأول في العالم.
- مصدر للرساميل التي يجري توظيفها في كل المجالات: شراء العقارات، شراء مؤسسات ...
- تفوق بورصة طوكيو بورصة نيويورك من حيث الأهمية وجذب الزبائن.
- تحتل المصارف اليابانية المراتب الأولى من حيث موجوداتها.

١٣ - عدد ٤ من المجالات التي توظف فيها الرساميل اليابانية في العالم.

- سندات في الخزينة الأمريكية.
- بناء فروع للشركات المهمة.
- شراء الروائع الفنية العالمية.
- شراء المناجم في العالم النامي.

١٤ - علل: تواجه اليابان رغم قوتها الصناعية والتجارية والمالية مشاكل عدة.

- الازدياد المطرد في عدد المتقاعدين.
- تنوع أنماط الحياة والاستهلاك وطلب رفع مستوى المعيشة.
- التلوث وتدهور البيئة.
- تبعية اليابان في الخارج في استيراد المواد الأولية.
- تبعيتها الأمنية للولايات المتحدة الأمريكية.
- المنافسة الحادة من الدول الحديثة التصنيع.

## **الدرس الثامن عشر**

### **نموذج التنمية في الدول الحديثة التصنيع**

١ - حدد المقياس الذي اعتمدته البنك الدولي في تصنيفه الدول السائرة على طريق التصنيع.

- قيمة الصادرات الصناعية فيها تزداد عن نسبة ٣٠% من مجموع صادراتها من السلع والخدمات.
- مثل سنغافورة هونغ كونغ وتايوان وكوريا الجنوبية في آسيا وتونس في أفريقيا والمكسيك والبرازيل في أمريكا.
- ارتبطت النهضة الصناعية في هذه الدول بالرسميل الخارجية والشركات المتعددة الجنسيات.

٢ - عدد المميزات العامة للدول الحديثة الصنيع.

- العامل البشري.
- بنية المؤسسات.
- دور الدولة.
- التصدير المكثف.
- المساعدات الخارجية.
- تبعية مزدوجة.

٣ - علل: تميز اليد العاملة بالدول الحديثة التصنيع.

- كثافة اليد العاملة.
- مهارتها.
- اكتفائها بأجور منخفضة.
- قبولها بشروط عمل قاسية.

٤ - علل: الدولة عامل أساسي في تحقيق الانطلاقة الاقتصادية.

- تتبنى مبادئ الاقتصاد الحر.
- تضع خطط التنمية.
- تنمية الصناعات الهادفة إلى استبدال المستوردات.
- إقامة الصناعات التصديرية.
- إدارة البناء التحتي للاقتصاد.
- مراقبة النظام المصرفي.

٥ - قارن بين:

المرحلة الأولى من التنمية في الدول الحديثة التصنيع	المرحلة الثانية من التنمية في الدول الحديثة التصنيع
<ul style="list-style-type: none"><li>• هي مرحلة الانطلاقة الصناعية وتجهيز البنى التحتية.</li><li>• يتم تطوير الفروع الصناعية البسيطة كالنسيج.</li><li>• تصنيع أجزاء معينة بعض الأجهزة والآلات.</li><li>• الحد من الاستيراد والصناعة المحلية تلبى الحاجات.</li></ul>	<ul style="list-style-type: none"><li>• هي مرحلة الانفتاح على الخارج والإنتاج لتلبية طلبات السوق الخارجي.</li><li>• الانتقال إلى الاقتصاد الذي يهدف لتلبية حاجات الأسواق الخارجية.</li><li>• تغطي السلع الاستهلاكية على الصادرات.</li></ul>
المرحلة الثالثة من التنمية في الدول الحديثة التصنيع	المرحلة الحالية من التنمية في الدول الحديثة التصنيع
<ul style="list-style-type: none"><li>• جذب الاستثمارات من الخارج.</li><li>• تمركز الشركات المتعددة الجنسيات.</li><li>• شراء التكنولوجيا الغربية.</li><li>• إنشاء المناطق الحرة.</li><li>• البنى التحتية الأكثر تطوراً وتحديثاً.</li><li>• تنوعت الصناعات الثقيلة.</li></ul>	<ul style="list-style-type: none"><li>• التوجه للتكنولوجيا المتطورة لأن اليد العاملة اكتسبت المهارات العليا واستوعبت لتقنيات المتقدمة.</li><li>• أصبحت قادرة على إنتاج المركبات الإلكترونية والمواد الطبية.</li><li>• في الدول الصغيرة تحول الأنشطة المرفئية وأنشطة التخزين إلى نشاطات تصديرية مكثفة.</li></ul>

## **كتابة وطباعة: السيد احمد السيد مجيد السيد علي مقرر: الجغرافيا الاقتصادية (أج ١٠٣)**

٦ - علل: مسار التنمية في مسار التنمية في الدول الحديثة التصنيع سريع ومتميز.

- جذب الرساميل واستثمارها في الصناعة.
- رخص اليد العاملة ومهارتها.
- التسهيلات الضريبية.
- تأمين بناء تحت يسهل الإنتاج والربح.

٧ - بين نقاط الضعف في نموذج التنمية في الدول الحديثة التصنيع.

- التضامن الاجتماعي.
- الحماية الاقتصادية الجديدة.
- تبادل الأدواق والتقنيات.

٨ - علل: يعتبر التضامن الاجتماعي نقطة ضعف في مسيرة التنمية بالدول الحديثة التصنيع.

موقع  
المناهج البحرينية  
almanahj.com/bh

- قبول العمال بأجور متدنية.
- حد أدنى من الضمانات الاجتماعية.
- ارتفاع المستوى التقني والعلمي للأيدي العاملة، جعل الأسر توافقة إلى بلوغ مستوى حياتي أفضل.
- تشهد هذه الدول نزاعات عنيفة حول الأجور.
- تؤدي زيادة الأجور إلى رفع كلفة الإنتاج مما يفقد السلع قدرتها التنافسية في الأسواق الخارجية ويخفض من أرباح الشركة.

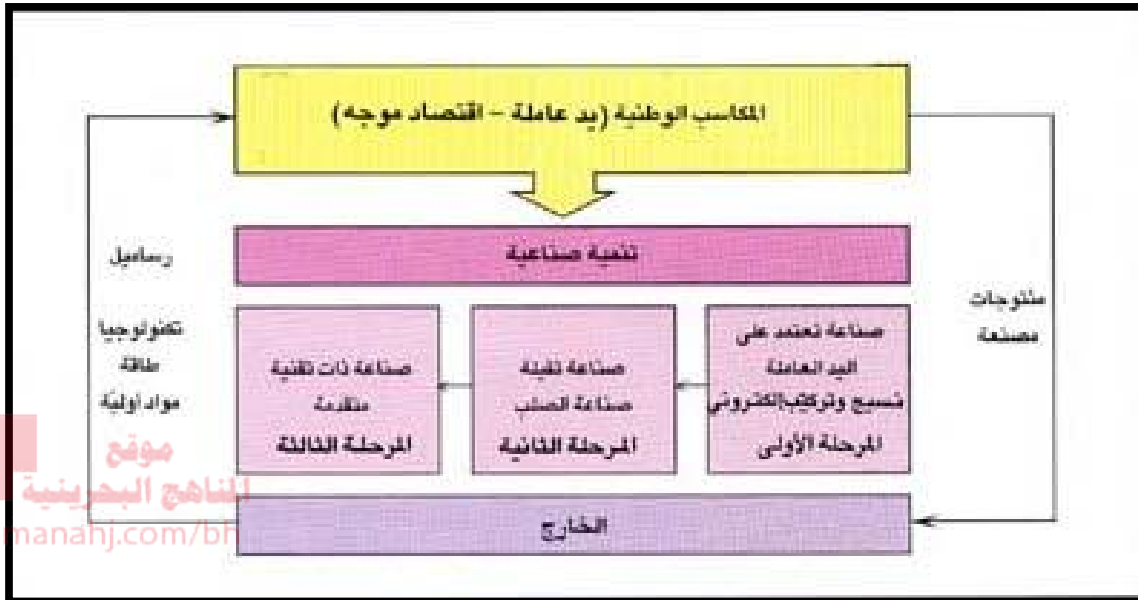
٩ - علل: تؤثر الحماية الاقتصادية الجديدة في مسيرة التنمية في الدول الحديثة التصنيع.

- يتأثر الاقتصاد الذي تموله التجارة الخارجية بقدرة الأسواق الأمريكية والأوروبية على الاستهلاك.
- تطبق الدول الصناعية سياسة الحماية الاقتصادية لأسواقها.
- تمارس ضغوطا على هذه الدول لكي تفتح أسواقها الداخلية أمام المنتجات المستوردة.
- تضطر إلى رفع الأجور مما يؤدي إلى زيادة الاستهلاك.
- يخفف الفائض التجاري المتراكم حاليا.



## **كتابة وطباعة: السيد احمد السيد مجيد السيد علي مقرر: الجغرافيا الاقتصادية (أجا ١٠٣)**

١٠ - أقرأ المستند الذي يبين ((تطور الاقتصاد في الدول الحديثة التصنيع)) ثم أجب عن الأسئلة التي تليه انطلاقاً منه وفي ضوء ما درسته:



١ - ما المكاسب الوطنية الأساسية المحركة للتنمية الصناعية في هذا النموذج؟

• يد عاملة.

• اقتصاد موجه.

٢ - سم مراحل التصنيع الثلاث.

• صناعة تعتمد على اليد العاملة (نسج وتركيب إلكتروني).

• صناعة ثقيلة (صناعة الصلب).

• صناعة ذات تقنية متقدمة.

٣ - إلى أين تتجه المنتجات المصنعة؟

• الخارج

٤ - بماذا تزود الدول الخارجية اقتصاد هذه الدول؟

• رساميل.

• تكنولوجيا.

• طاقة.

• مواد أولية.

٥ - عدد مميزات اليد العاملة في الدول الحديثة التصنيع.

• كثافة اليد العاملة.

• مهارتها.

• اكتفائها بأجور منخفضة.

• قبولها بشروط عمل قاسية.