

تم تحميل هذا الملف من موقع المناهج البحرينية



اهم الخرائط المطلوبة

موقع المناهج ← المناهج البحرينية ← الصف الأول الثانوي ← المواد الاجتماعية ← الفصل الأول ← ملفات متنوعة ← الملف

تاريخ إضافة الملف على موقع المناهج: 21:31:11 2025-01-13

ملفات اكتب للمعلم اكتب للطالب الاختبارات الكترونية الاختبارات ا حلول اعروض بوربوينت ا أوراق عمل منهج انجليزي ا ملخصات وتقارير ا مذكرات وبنوك الامتحان النهائي للمدرس

المزيد من مادة
المواد
الاجتماعية:

التواصل الاجتماعي بحسب الصف الأول الثانوي



صفحة المناهج
البحرينية على
فيسبوك

الرياضيات

اللغة الانجليزية

اللغة العربية

التربية الاسلامية

المواد على تلغرام

المزيد من الملفات بحسب الصف الأول الثانوي والمادة الاجتماعية في الفصل الأول

خريطة العالم

1

المراجعة العامة للجغرافيا

2

مراجعة عامة أجا 102

3

مراجعة دروس الوقفة التقييمية

4

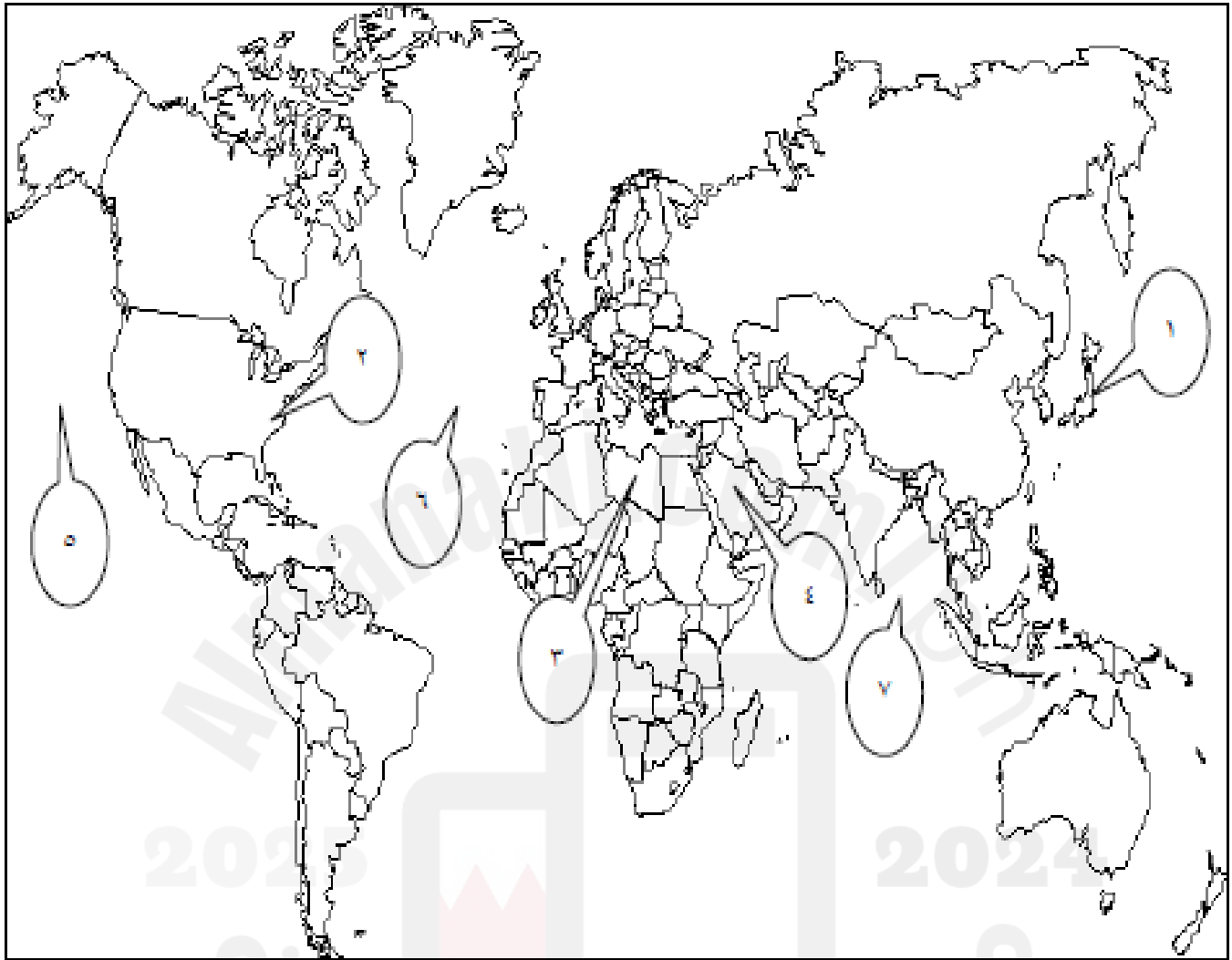
ملخصات أجا 102

5



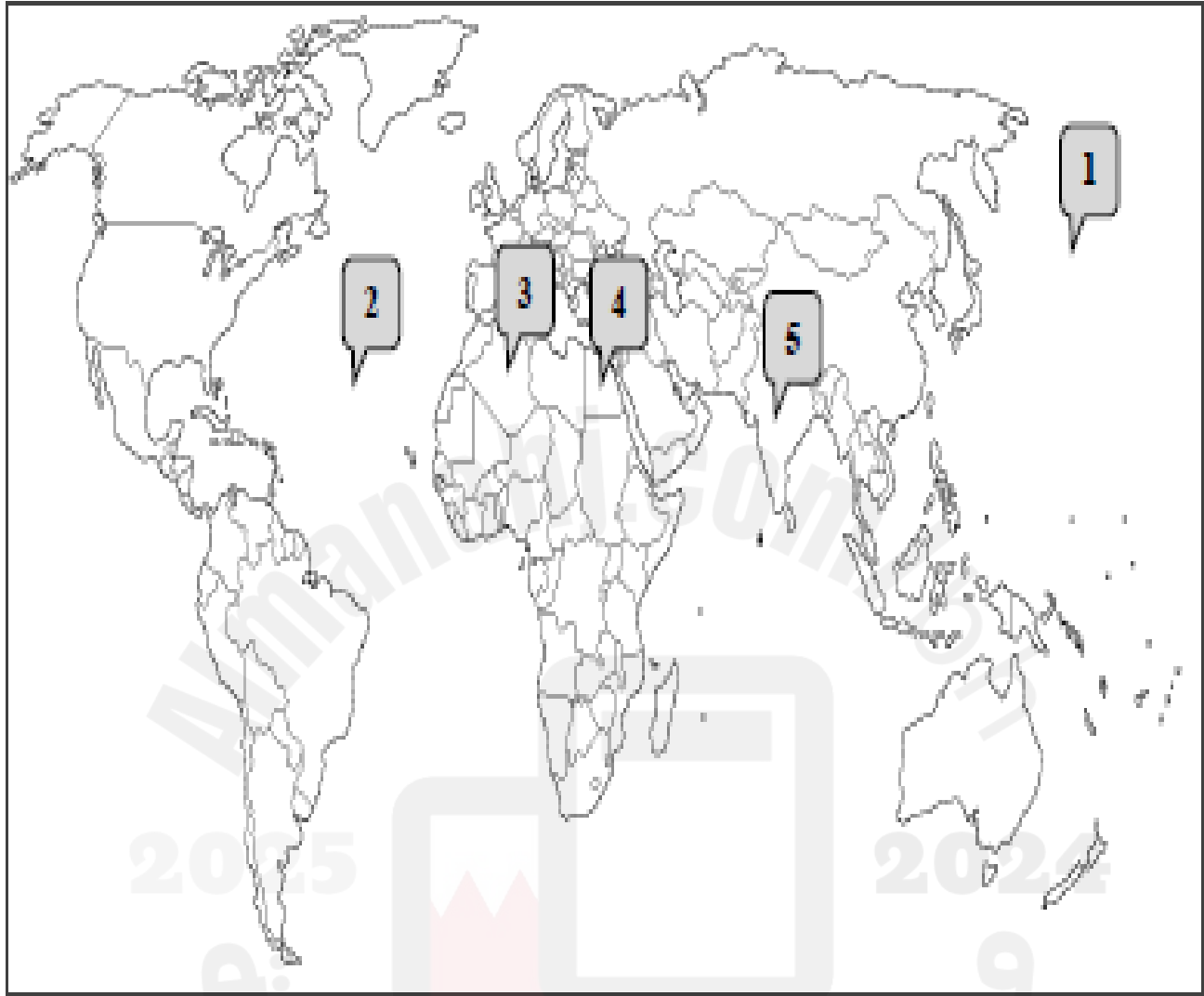
العنصر	الترقيم	مائلول الترقيم
قارات.	١	اسيا
	٢	أوروبا
مسطحات مائية.	٣	المحيط الأطلسي - الأطلنطي
	٤	المحيط الهندي
دولة تنتشر بها زراعة الواحات.	٥	المملكة العربية السعودية
دولة ذات سوق استهلاكية كبيرة.	٦	الصين
دولة ذات صناعات متقدمة.	٧	روسيا

ثانياً: أكمل الجدول التالي بكتابة مدلول الأرقام المثبتة على خريطة العالم.



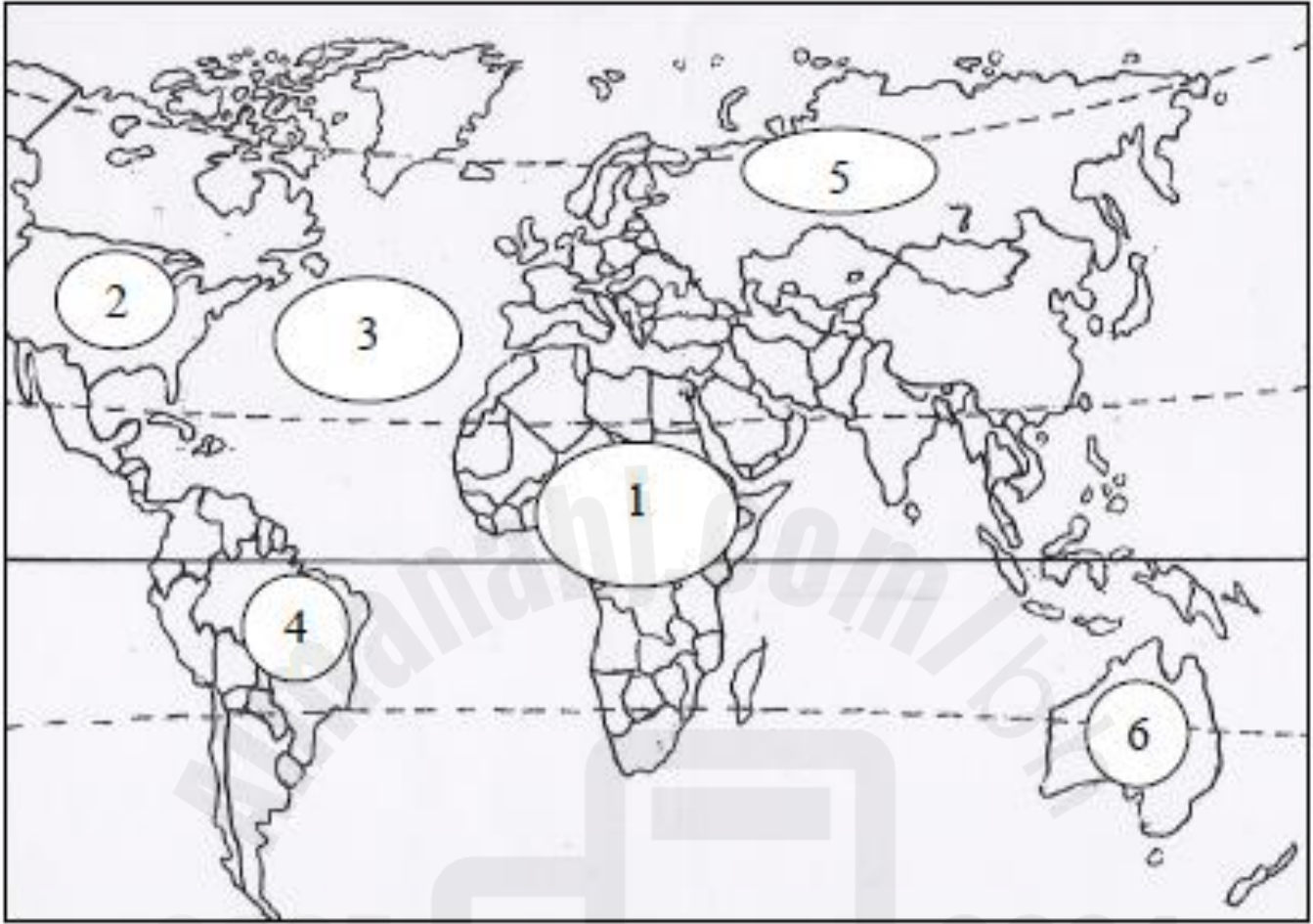
العبارة	الرقم	مدلول الرقم على الخريطة
بلدان الثالث (البلدان المتقدمة)	١	اليابان
	٢	الولايات المتحدة الأمريكية
البلدان النامية	٣	ليبيا
	٤	المملكة العربية السعودية
مسطحات مائية	٥	المحيط الهادى
	٦	المحيط الأطلسى
	٧	المحيط الهندى

ثانياً ضع في الجدول التالي مدلولات الأرقام المثبتة على خريطة العالم.



العبارة	الرقم المثبت على الخريطة	مدلول الرقم
سطحات مائية	1	المحيط الهادي
	2	المحيط الاطلسي
دول نامية ناطقة	3	الجزائر
دول نامية ذات مؤثر تنمية متوحد	4	مصر
	5	الهند

ثانيًا ضع في الجدول التالي مدلولات الأرقام المثبتة على خريطة العالم الصماء.



العبارة	الرقم	مدلول الرقم على الخريطة
قارة	1	أفريقيا
بلد من بلدان الثالوث	2	الولايات المتحدة الأمريكية
مسطحات مائية	3	المحيط الأطلسي
دولة حديثة التصنيع	4	البرازيل
دولة تسود بها زراعة القمح والحبوب	5	روسيا
دولة متقدمة	6	استراليا

ثانياً: أكمل الجدول التالي بكتابة مدلول الأرقام المثبتة على خريطة العالم.



العبارة	الرقم	مدلول الرقم على الخريطة
البلدان المتقدمة في طور الانتقال الاقتصادي.	1	روسيا
البلدان الصناعية الجديدة.	2	البرازيل
البلدان النفطية (بلدان منتجة ومصدرة للمحروقات).	3	المملكة العربية السعودية
البلدان النامية ذات مؤشر تنمية متوسط.	4	تونس
بلدان تنتشر فيها تربية الماشية الكثيفة.	5	استراليا
بلدان حديثة التصنيع.	6	كوريا الجنوبية