

شكراً لتحميلك هذا الملف من موقع المناهج البحرينية



خرائط مهمة على المستوى الأول أجا 102

موقع المناهج ← المناهج البحرينية ← الصف الأول الثانوي ← المواد الاجتماعية ← الفصل الثاني ← الملف

تاريخ نشر الملف على موقع المناهج: 07:37:36 2024-03-07

التواصل الاجتماعي بحسب الصف الأول الثانوي



روابط مواد الصف الأول الثانوي على تلغرام

[الرياضيات](#)

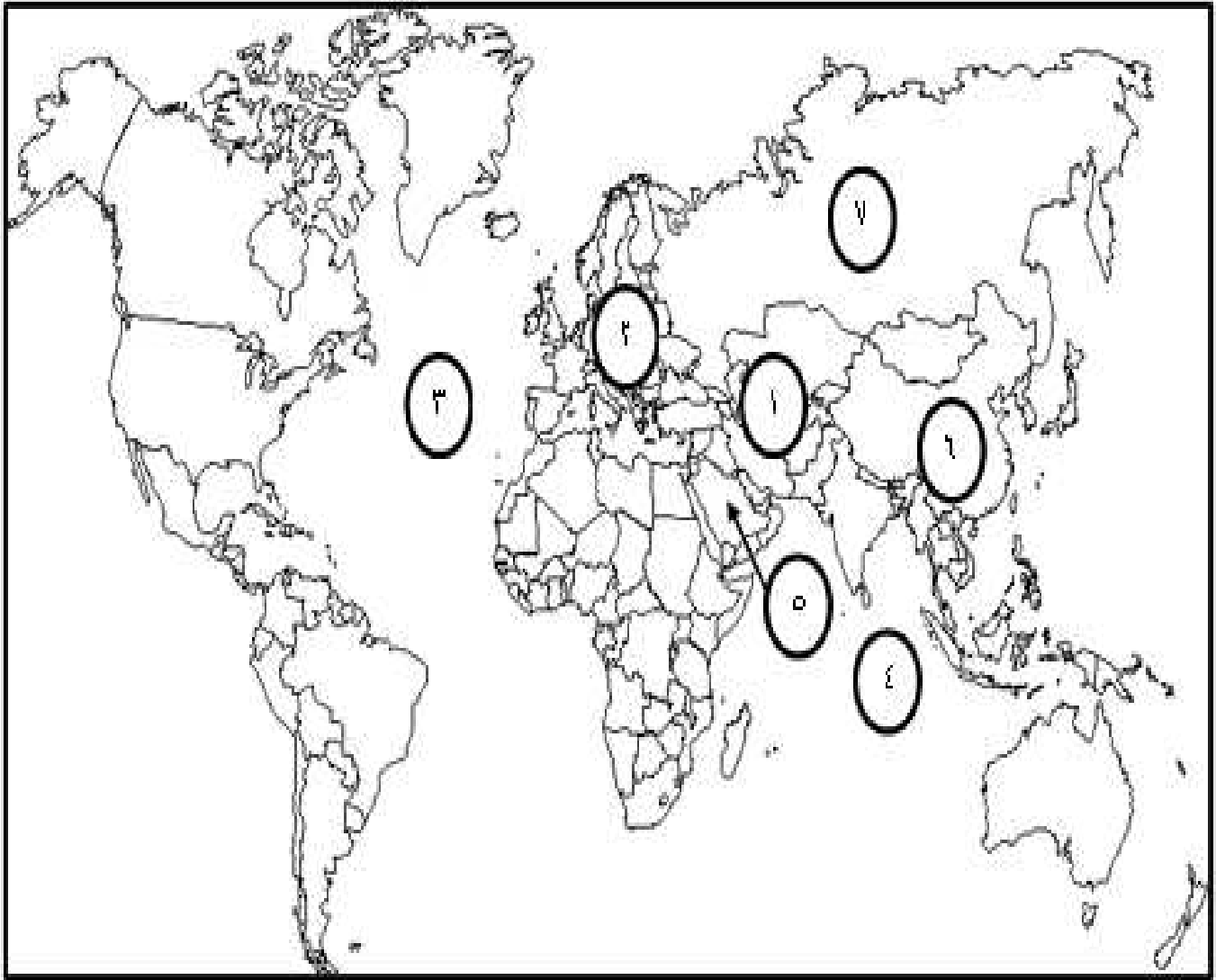
[اللغة الانجليزية](#)

[اللغة العربية](#)

[التربية الاسلامية](#)

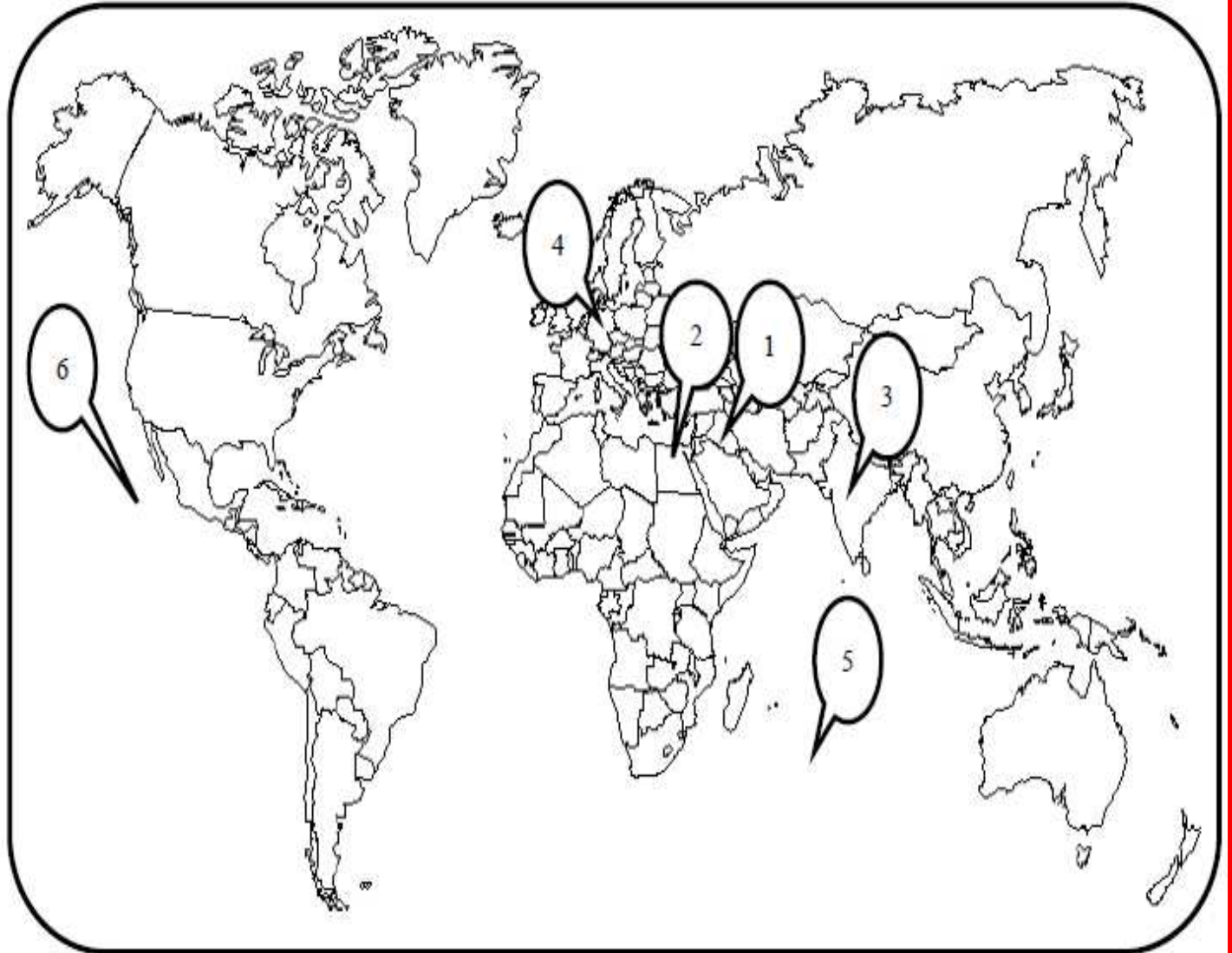
المزيد من الملفات بحسب الصف الأول الثانوي والمادة الاجتماعية في الفصل الثاني

مراجعة مقرر الجغرافيا الاقتصادية	1
مذكرة ملخصة مقرر أجا 102	2
مراجعة مقرر وطن 101	3
ملخص مقرر أجا 102	4
مذكرات وطن 101	5



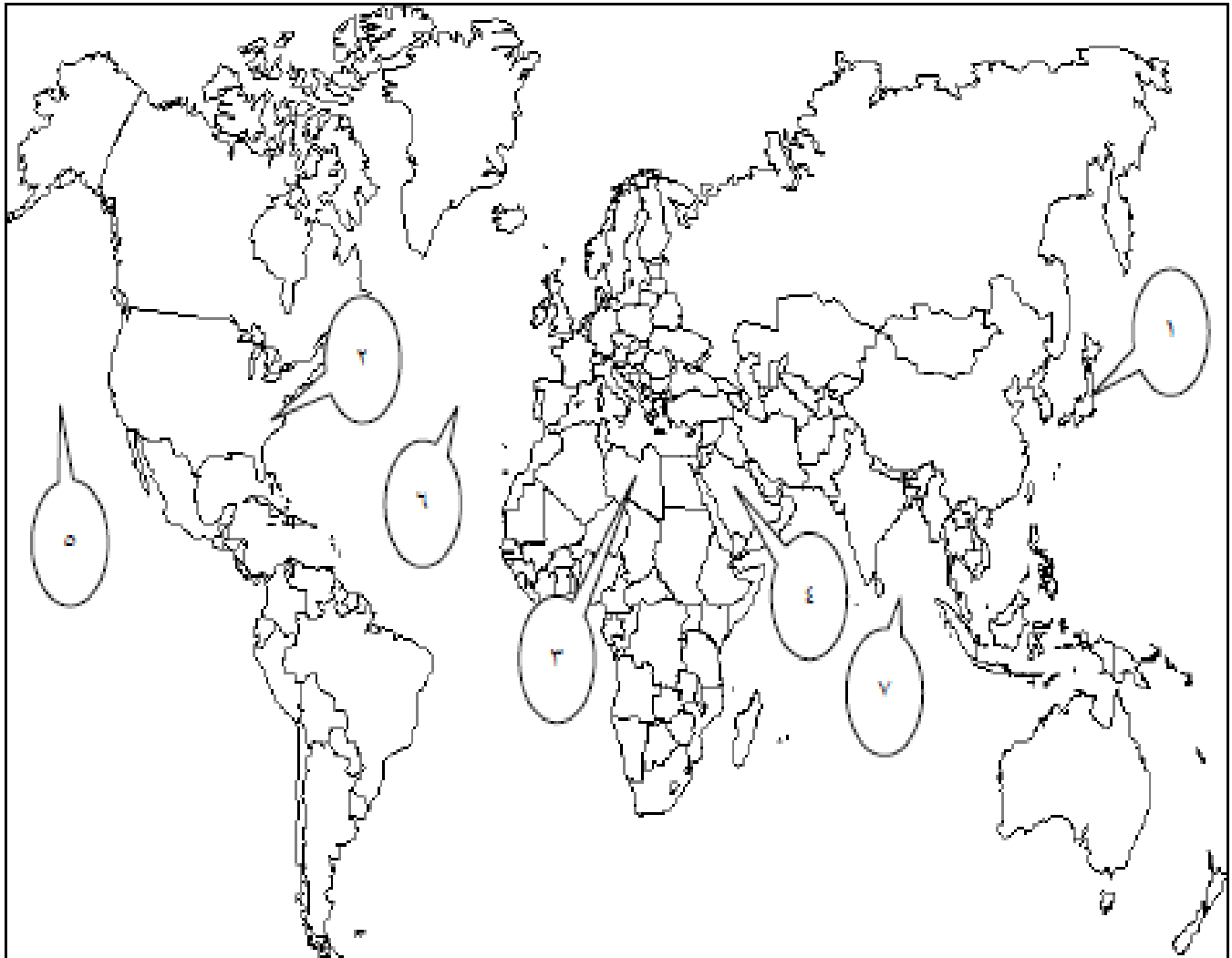
العنصر	الترقيم	ملائم للترقيم
قارات:	٦	آسيا
	٢	أوروبا
مسطحات مائية:	٣	المحيط الأطلسي - الأطلنطي
	٤	المحيط الهندي
دولة تنتشر بها زراعة الواحات:	٥	المملكة العربية السعودية
دولة ذات سوق استهلاكية كبيرة:	٦	الصين
دولة ذات صناعات متقدمة:	٧	روسيا

ثانياً: أكمل الجدول التالي بكتابة مدلول الأرقام المثبتة على خريطة العالم: -



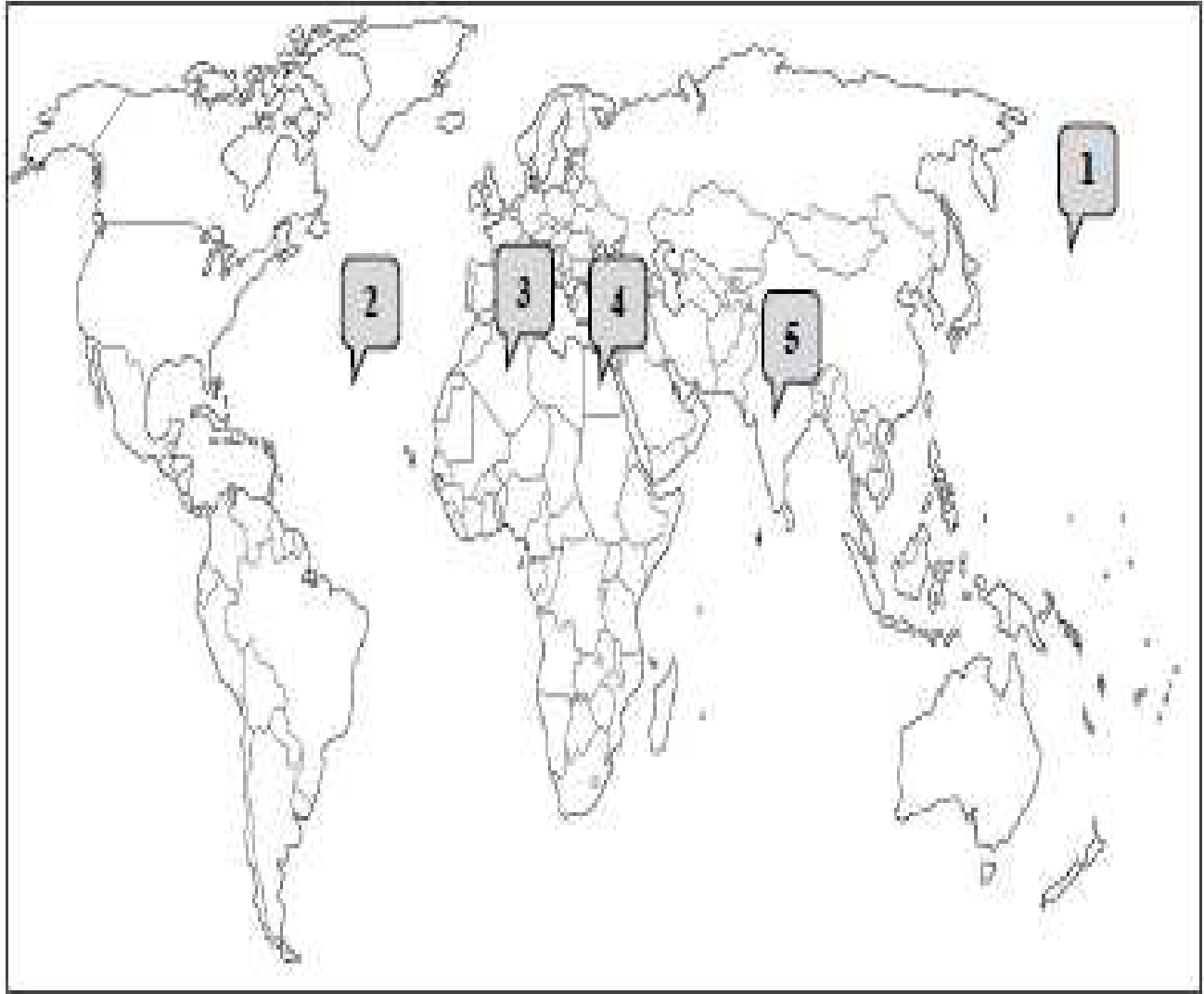
مدلول الرقم على الخريطة		الرقم	العبارة
	العراق	1	دولة تنتشر فيها الزراعة المروية.
	مصر	2	بلدان نامية ذات مؤشر تنمية متوسط.
	الهند	3	
	المانيا	4	دولة ضمن المجموعة الأوروبية للفحم والفولاذ.
	المحيط الهندي	5	مسطحات مائية.
	المحيط الهادي	6	

ثانياً: أكمل الجدول التالي بكتابة مدلول الأرقام المثبتة على خريطة العالم.



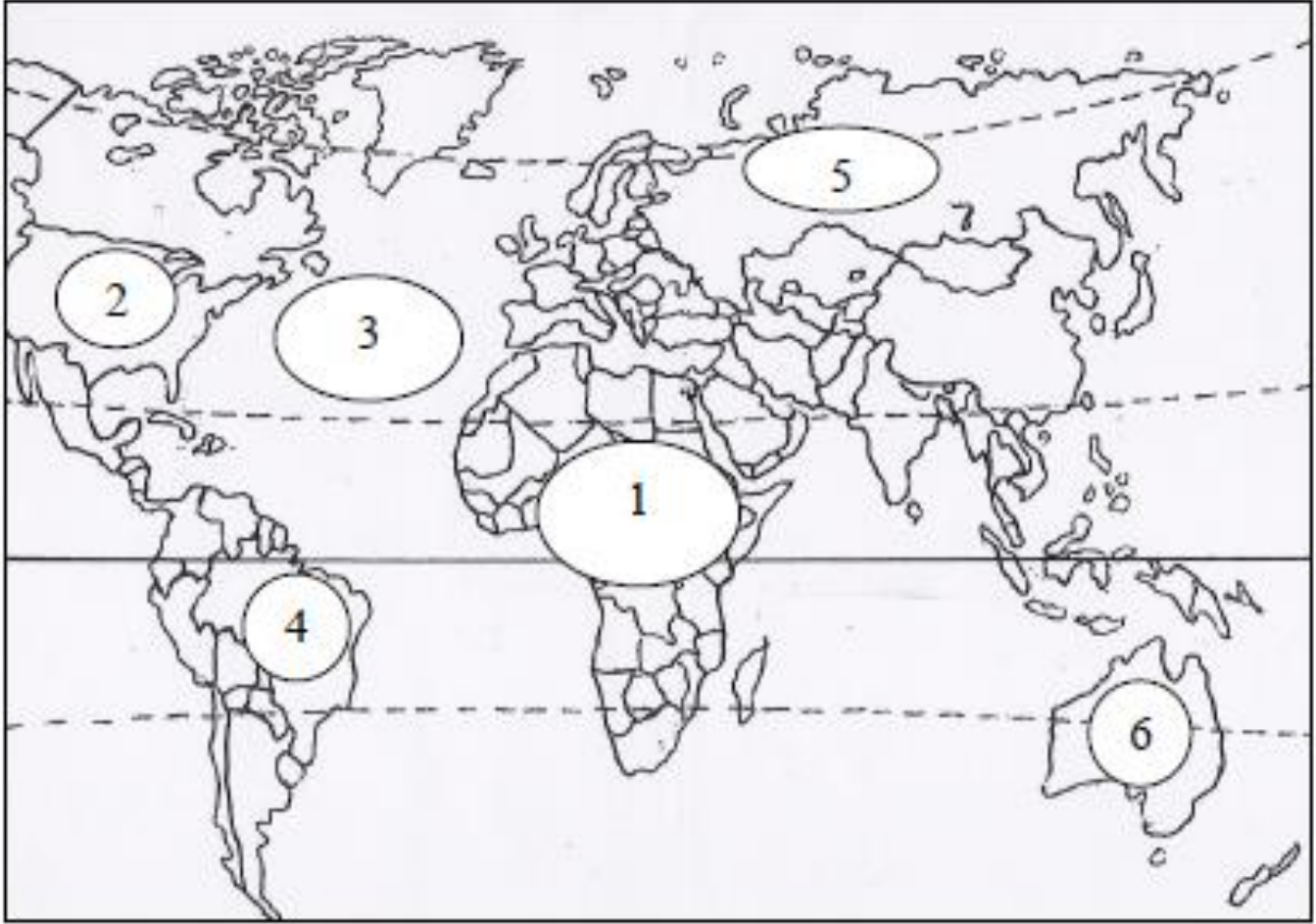
العبارة	الرقم	مدلول الرقم على الخريطة
بلدان الثالوث (البلدان المتقدمة)	١	اليابان
	٢	الولايات المتحدة الأمريكية
البلدان النامية	٣	ليبيا
	٤	المملكة العربية السعودية
مسطحات مائية	٥	المحيط الهادى
	٦	المحيط الأطلسى
	٧	المحيط الهندى

ثانياً ضع في الجدول التالي مدلولات الأرقام المثبتة على خريطة العالم.



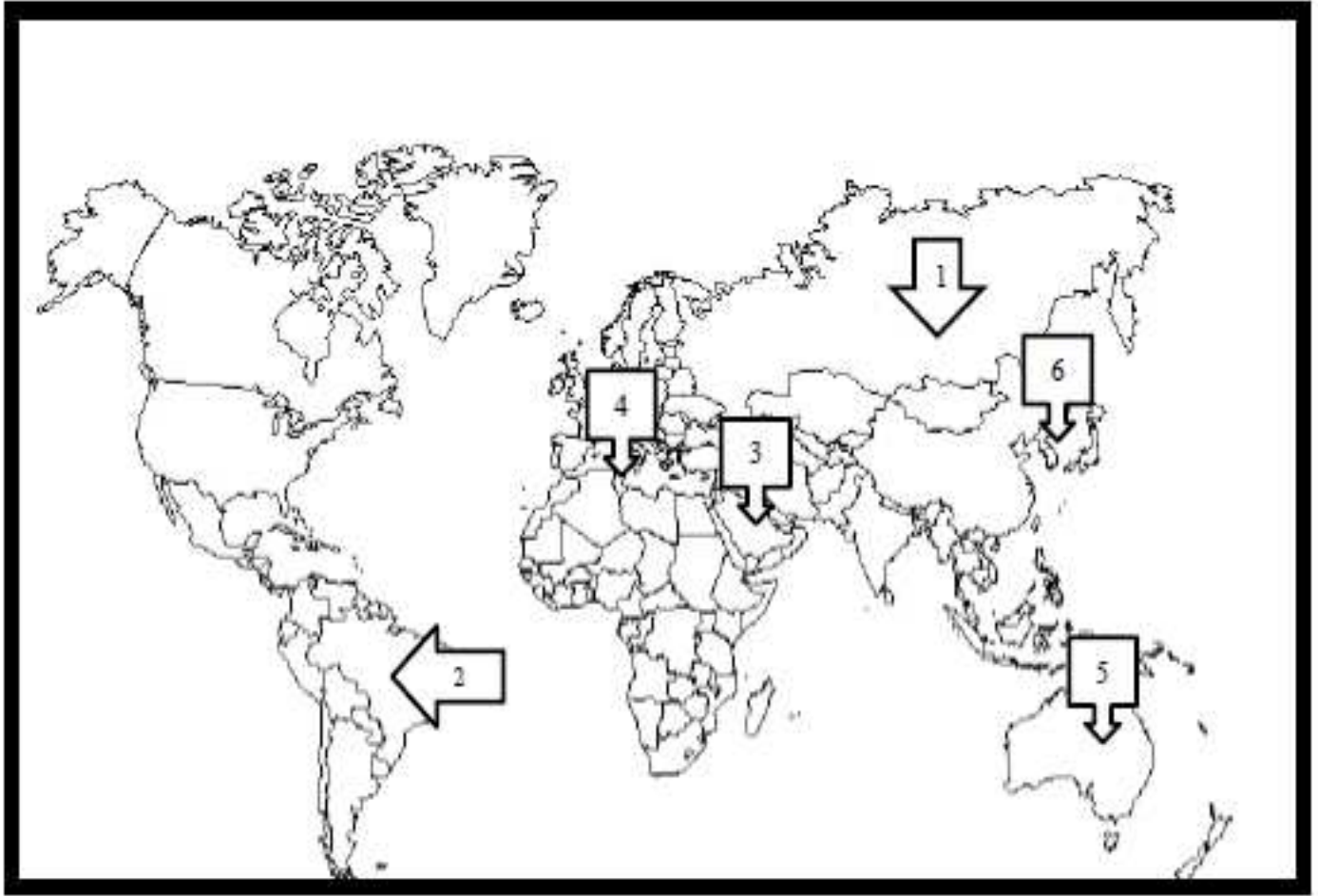
العبارة	الرقم المثبت على الخريطة	مدلول الرقم
مسطحات مائية	1	المحيط الهادي
	2	المحيط الاطلسي
دول نامية نفطية	3	الجزائر
دول نامية ذات مؤشر تنمية متوسنط	4	مصر
	5	الهند

ثانياً ضع في الجدول التالي مدلولات الأرقام المثبتة على خريطة العالم الصماء.



العبارة	الرقم	مدلول الرقم على الخريطة
قارة	1	أفريقيا
بلد من بلدان الثالوث	2	الولايات المتحدة الأمريكية
مسطحات مائية	3	المحيط الأطلسي
دولة حديثة التصنيع	4	البرازيل
دولة تسود بها زراعة القمح والحبوب	5	روسيا
دولة متقدمة	6	استراليا

ثانياً: أكمل الجدول التالي بكتابة مدلول الأرقام المثبتة على خريطة العالم.



العبارة	الرقم	مدلول الرقم على الخريطة
البلدان المتقدمة في طور الانتقال الاقتصادي.	1	روسيا
البلدان الصناعية الجديدة.	2	البرازيل
البلدان النفطية (بلدان منتجة ومصدرة للمحروقات).	3	المملكة العربية السعودية
البلدان النامية ذات مؤشر تنمية متوسط.	4	تونس
بلدان تنتشر فيها تربية الماشية الكثيفة.	5	استراليا
بلدان حديثة التصنيع.	6	كوريا الجنوبية