

تم تحميل هذا الملف من موقع المناهج البحرينية



\* للحصول على أوراق عمل لجميع الصفوف وجميع المواد اضغط هنا

<https://almanahj.com/bh>

\* للحصول على أوراق عمل لجميع مواد الصف الحادي عشر اضغط هنا

<https://almanahj.com/bh/11>

\* للحصول على جميع أوراق الصف الحادي عشر في مادة رياضيات ولجميع الفصول, اضغط هنا

<https://almanahj.com/bh/11math>

\* للحصول على أوراق عمل لجميع مواد الصف الحادي عشر في مادة رياضيات الخاصة بـ الفصل الأول اضغط هنا

<https://almanahj.com/bh/11math1>

\* لتحميل كتب جميع المواد في جميع الفصول للـ الصف الحادي عشر اضغط هنا


<https://almanahj.com/bh/grade11>

\* لتحميل جميع ملفات المدرس مرضية الشهابي اضغط هنا

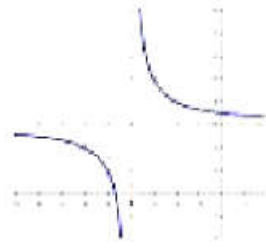
[almanahjbhbot/me.t//:https](https://t.me/almanahjbhbot)

للتحدث إلى بوت على تلغرام: اضغط هنا

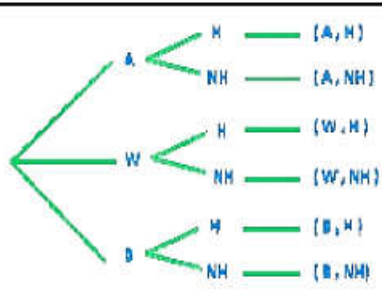
إجابات النماذج التجريبية لرياض 261

		النموذج التجريبي 1
السؤال الأول		
d	1	
a	2	
a	3	
b	4	
d	5	
0.1	السؤال الثاني	
	السؤال الثالث	
$\frac{2}{3}$	أ	
$\frac{7}{25}$	ب	
$\frac{403}{1650}$	ج	
	السؤال الرابع	
$x = 3$ $f(x) = -1$ $\{x   x \neq 3\}$ $f(x)   f(x) \neq -1$	أ	
	ب	
	السؤال الخامس	
$s = 7.5t$ $11h$	أ	
{2}	ب	

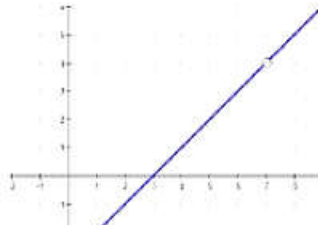
إجابات النماذج التجريبية لرياض 261

		النموذج التجريبي 2
السؤال الأول		
35	1	
720	2	
0.5226	3	
0.7	4	
0.5	5	
$y = 3$	6	
$x = 2$	7	
عكسيا	8	
$(-4, -2)$	9	
$x=0, x=7, x=-7$	10	
السؤال الثاني		
0.15	1	
$\frac{163}{275} \approx 0.6$	2	
السؤال الثالث		
-15	1	
	2	
المجال $\{x x \neq -4\}$ المدى $\{y y \neq 3\}$		
السؤال الرابع		
10.5	1	
$\{-1, 6\}$	2	

إجابات النماذج التجريبية لرياض 261

	السؤال الأول	النموذج التجريبي 3
0.4	1	
$y=1$ $x=3, x=-3$	2	
720	3	
$x = -3$	4	
$180x^3y^6$	5	
$\frac{3}{4}$	6	
	السؤال الثاني	
$\frac{254}{275} \approx 0.9$	1	
$\frac{5}{6}$ $\frac{2}{15}$	2	
	السؤال الثالث	
 <p>6</p>	1	
$\frac{1}{420}$	2	
$\frac{9}{136}$	3	

إجابات النماذج التجريبية لرياض 261

	السؤال الرابع	النموذج التجريبي 3
$x=3$ $y=-3$ $\{x x \neq 3\}$ $\{y y \neq -3\}$	أ	
	ب	
	السؤال الخامس	
{2}	1	
$\frac{1}{2}$	2	
$v = \frac{kt}{p}$ $p=4$		