

تم تحميل هذا الملف من موقع المناهج البحرينية



مذكرة كراسة أنشطة أجا 210

موقع المناهج ← المناهج البحرينية ← الصف الثاني الثانوي ← المواد الاجتماعية ← الفصل الأول ← مذكرات وبنوك ← الملف

تاريخ إضافة الملف على موقع المناهج: 2024-10-28 10:44:47

ملفات اكتب للمعلم اكتب للطالب الاختبارات الكترونية | اختبارات | حلول | عروض بوربوينت | أوراق عمل
منهج انجليزي | ملخصات وتقارير | مذكرات وبنوك | الامتحان النهائي للمدرس

المزيد من مادة
المواد
الاجتماعية:

التواصل الاجتماعي بحسب الصف الثاني الثانوي



صفحة المناهج
البحرينية على
فيسبوك

الرياضيات

اللغة الانجليزية

اللغة العربية

التربية الاسلامية

المواد على تلغرام

المزيد من الملفات بحسب الصف الثاني الثانوي والمادة المواد الاجتماعية في الفصل الأول

مراجعة على مقرر جغرافية الوطن العربي مقرر أجا 210

1

ملخص مقرر أجا 210

2

ملخص أجا 210

3

ملخص مقرر أجا 201

4

تلخيص مقرر أجا 211

5

مقرر اجا 210



تحتوي على أنشطة تميز ومهارات تفكير عليا
وتطبيقات بالتمكين الرقمي متوفر بها التغذية
الراجعة وتطبيقات لكسب المهارات الحياتية
والامتحانات السابقة للتدريب عليها

• الدعم المقدم	• التعزيز	• تقييم المعلمة للطالبة في هذا الدرس : الوصف
• أرجعي إلى للكتاب المدرسي . • أعيدي حل الاسئلة الخاطئة . • أستعيني بزميلتك للتوصل للإجابة الصحيحة .	• استمري بالصعود وستصلين لأعلى المراتب . • شكراً لجهودك الرائعة . • سعدت بمحاولاتك .	• عمك متقن حققت المطلوب منك بجدارة . • حققت المطلوب بشكل جزئي لديك بعض الأخطاء • لم تحققي المطلوب منك .
تاريخ المتابعة / التصحيح :	جيد متوسط تحتاج متابعة	تقييم أدائك لهذا الدرس هو : ممتاز

رؤيتنا

جيل ريادي
أخلاقيا مبدع
تقنيا يسمو
بالوطن

وثيقة الشراكة بين المعلمة والطالبة في الجغرافيا مقرر اجا 210

رسالتنا

نحن في مدرسة
الشروق الثانوية
للبنات نسعي لبناء
شخصية متكاملة
ملتزمة أخلاقيا
مبدعة تقنيا في بيئة
آمنة حاضنة
لمهارات القرن
الواحد والعشرين
معززة للمواطنة
المحلية والعالمية

قيمنا: الولاء والانتماء - الانضباط - التعاون - الابداع - تحمل المسؤولية

(كراستك تدخرين فيها كل انشطتك ومعلوماتك والمهارات التي تتدربين عليها،
ولكن الكتاب المدرسي هو المرجع الأساسي)

اسم الطالبة	
الرقم الأكاديمي	
الصف	
اسم المقرر	

حقوق الطالبة	واجبات الطالبة
1. توفير بيئة تربوية تؤمن المثل العليا والقُدوة الحسنة.	1. التقيد بأنظمة ولوائح المدرسة والعمل على إتباعها مع الاحترام المتبادل بين المعلمة والطالبات.
2. اثراء المعرفة بالأفكار والخبرات المتناسبة مع تقديم المادة العلمية الصحيحة.	2. عند التغيب في يوم الاختبار، فعلى الطالبة تقديم العذر الطبي للمعلمات وتسليمه للإرشاد الاجتماعي.
3. تقديم الدعم والمساندة وتنمية المهارات الشخصية والحياتية.	3. المشاركة الفعالة في الصف وتجنب الأحاديث الجانبية، وعدم التسرب والتأخير عن الحصة.
4. توفير فرص المشاركة في الأنشطة والبرامج والفعاليات والفرق واللجان المدرسية المختلفة.	4. احضار جميع الادوات المطلوبة للمقرر مع الكتاب والكراسة والالتزام بحل الأنشطة في الكراسة ومتابعة أنشطة البوابة التعليمية وعمل الأنشطة الصفية واللصافية.
5. متابعة الأنشطة والاثراءات والمبادرات مع تقديم التغذية الراجعة الداعمة.	5. تفعيل بطاقة الاستئذان عند الخروج من الصف.

اسم المعلمة	أستاذة صباح عزيز الدين	اسم الطالبة
توقيع المعلمة		توقيع الطالبة

تقييم المعلمة للطالبة في هذا الدرس : الوصف	• التعزيز	• الدعم المقدم
• عملك متقن حققت المطلوب منك بجدارة .	• استمري بالصعود وستصلين لأعلى المراتب .	• أرجعي إلى للكتاب المدرسي .
• حققت المطلوب بشكل جزئي لديك بعض الأخطاء	• شكراً لجهودك الرائعة .	• أعيدي حل الاسئلة الخاطئة .
• لم تحققي المطلوب منك .	• سعدت بمحاولاتك .	• أستعيني بزميلتك للتوصل للإجابة الصحيحة .
تقييم أدائك لهذا الدرس هو : ممتاز	جيد متوسط	تاريخ المتابعة / التصحيح :

معايير تقييم الأعمال الكتابية في مقرر أجا 210طالبتي المتميزة :

أرجو الالتزام بالمعايير الخاصة بتقييم دفترك لتصلي للتميز والقمة .

توقيع ولي الأمر	ملاحظات المعلمة	معايير التقييم					تاريخ التقييم
		مجموع الدرجات (5)	الانشطة الاثرانية و التعلم الذاتي (1)	الالتزام بالوقت المحدد (1)	النظافة والترتيب (1)	صحة ودقة الاجابات (2)	

الهدف التحصيلي من المقرر	الهدف العام

• الدعم المقدم	• التعزيز	• تقييم المعلمة للطالبة في هذا الدرس : الوصف
• أرجعي إلى للكتاب المدرسي . • أعيدي حل الاسئلة الخاطئة . • أستعيني بزميلتك للتوصل للإجابة الصحيحة .	• استمري بالصعود وستصلين لأعلى المراتب . • شكراً لجهودك الرائعة . • سعدت بمحاولاتك .	• عملك متقن حققت المطلوب منك بجدارة . • حققت المطلوب بشكل جزئي لديك بعض الأخطاء • لم تحققي المطلوب منك .
تاريخ المتابعة / التصحيح :	جيد متوسط تحتاج متابعة	تقييم أدائك لهذا الدرس هو : ممتاز

نشاط الدرس الأول الوطن العربي مقومات وملامح جغرافية

أولا بالاستعانة بخريطة الوطن العربي في الكتاب المدرسي ص 8 أجب عن الأسئلة الآتية:-

اكمل الجمل الآتية بما يناسبها :-

- 1- يمر خط جرينتش في دولة.....
 - 2- يمتد الوطن العربي من خط الطول شرقا الى غربا أي 77خط طول تعادل 5 مناطق زمنية
 - 3- يمتد الوطن العربي بين دائرتي العرض جنوبا الى شمالا أي 39درجة عرض
 - 4- يمر خط الاستواء أقصى جنوب الوطن العربي في دولة..... بينما يمر خط جرينتش في دولة.....
 - 5-الدولة العربية التي تقع خارج الموقع الفلكي للوطن العربي دولة
 - 6- من نتائج الموقع الفلكي للوطن العربي و.....
 - 7- يمتد الوطن العربي في قارتي.....و..... ويفصله عن القارة الأوروبية البحر.....
 - 8- الدولتان المنفصلتان جغرافيا عن باقي الأراضي العربية هماو.....
- ثانيا اكتب في الجدول أسماء المسطحات المائية والمضايق في الوطن العربي من خلال الخريطة ص18

الأنهار	المضايق المائية	المسطحات المائية

ثالثا علي ما يأتي

-تعتبر قناة السويس التي شقت في القرن التاسع عشر أهم المعابر في العالم

.....

.....

.....

الدعم المقدم	التعزيز	تقييم المعلمة للطالبة في هذا الدرس : الوصف
<ul style="list-style-type: none"> • أرجعي إلى للكتاب المدرسي . • أعيدي حل الاسئلة الخاطئة . • أستعيني بزميلتك للتوصل للإجابة الصحيحة . 	<ul style="list-style-type: none"> • استمري بالصعود وستصلين لأعلى المراتب . • شكراً لجهودك الرائعة . • سعدت بمحاولاتك . 	<ul style="list-style-type: none"> • عملك متقن حققت المطلوب منك بجدارة . • حققت المطلوب بشكل جزئي لديك بعض الأخطاء • لم تحققي المطلوب منك .
تاريخ المتابعة / التصحيح :	متوسط	تقييم أدائك لهذا الدرس هو : ممتاز

نشاط الجزء الثاني من الدرس الاول الوطن العربي مقومات وملامح جغرافية

أولا ضع دائرة حول الاجابة الصحيحة فيما يلي :-

- 1- تبلغ مساحة الوطن العربيأي 10% من مساحة العالم
 - أ-14 مليون كم2
 - ب-16 مليون كم2
 - ج-18 مليون كم2
- 2- تفوق مساحة الوطن العربي مساحة كل من قارتي
 - أ-أوروبا وأمريكا
 - ب- أوروبا وأوقيانيا
 - ج- أمريكا وآسيا
- 3- الأرض العربية متصلة الأجزاء و لايعتبر البحر الأحمر فاصلا بينها بسبب
 - أ-عرضه الضيق
 - ب-انتماء معظم سواحله الى دول عربية
 - ج-كل ما ذكر صحيح
- 4- ترتبط جيبوتي والصومال بالوطن العربي برا عبر أراضي
 - أ-أثيوبيا
 - ب - كينيا
 - ج-أريتريا
- 5- يبلغ عدد الدول العربية 22 دولة أكبرها من حيث المساحة
 - أ-الجزائر
 - ب-البحرين
 - ج-السودان

ثانيا ضعى المفاهيم التالية حسب مايناسبها من عبارات فى الجدول التالى :-

العمق الاقليمي - الحدود البرية - الحدود البحرية

المفهوم	العبارة
	يتجاوز طولها 20 كم وتتميز بكونها طبيعية وواضحة
	منها ما هو طبيعي كسلاسل الجبال ومنها ما هو سياسي جاء رسمه حصيلة المصالح والتوازنات الدولية
	اتساع الأراضي بما يسمح للتراجع عند صد هجوم الأعداء

ثالثا اكمل الجدول التالى بالاستعانة بخريطة الكتاب ص 12 :-

الجنح	الدول العربية	العدد	المساحة
الجنح الآسيوي			28% من مساحة الوطن العربي
الجنح الأفريقي			72% من مساحة الوطن العربي

<ul style="list-style-type: none"> تقييم المعلمة للطالبة في هذا الدرس : الوصف عملك متقن حققت المطلوب منك بجدارة . حققت المطلوب بشكل جزئي لديك بعض الأخطاء لم تحققي المطلوب منك . 	<ul style="list-style-type: none"> التعزيز استمري بالصعود وستصلين لأعلى المراتب . شكراً لجهودك الرائعة . سعدت بمحاولاتك . 	<ul style="list-style-type: none"> الدعم المقدم أرجعي إلى للكتاب المدرسي . أعيدي حل الاسئلة الخاطئة . أستعيني بزميلتك للتوصل للإجابة الصحيحة . 	
تقييم أدائك لهذا الدرس هو : ممتاز	جيد متوسط	تحتاج متابعة	تاريخ المتابعة / التصحيح :

مبادرة 1

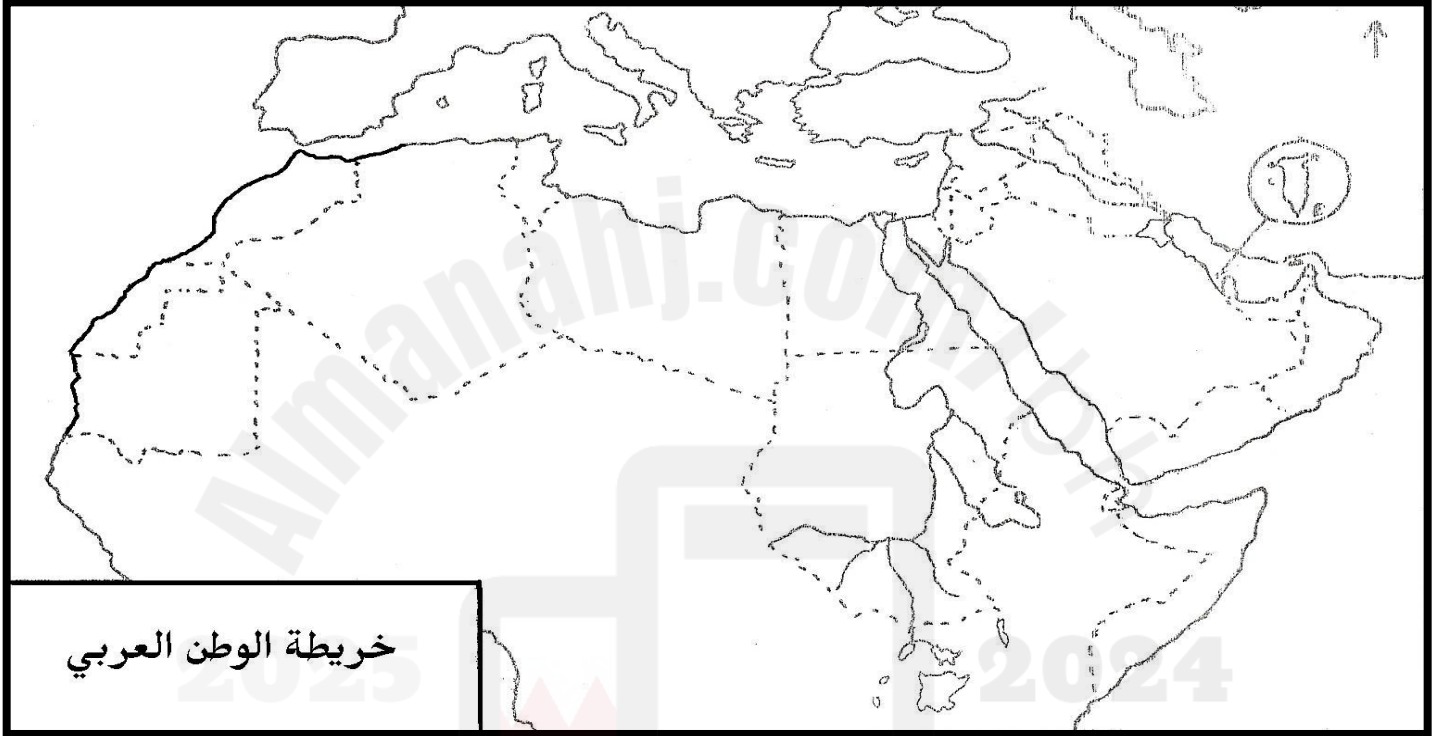
ملحوظة

استخدمي الالوان الخشبية لتلوين الدول العربية
وتمييزها

وتلوين المسطحات المائية

تطبيق أمامك خريطة الوطن العربي الصماء، حددي عليها مايلي

(الدول العربية - البحار والمحيطات - المضائق - خطوط الطول والعرض الرئيسية التي تمر بالوطن العربي))



خريطة الوطن العربي



اولا النشاط الاول عزيزتي الطالبة قومي باختيار ما يناسبك من (نشاط واحد) .. وارفقيه في صفحة البادلت الموجودة في المنصة الوطنية البوابة التعليمية (حلقة النقاش) متبعة الامن السيبراني



1. س: اکتبي مقال عن الاهمية الاستراتيجية للوطن العربي .
2. س: اکتبي نبذة مختصرة عن مشكلة فلسطين

wordwall

forms

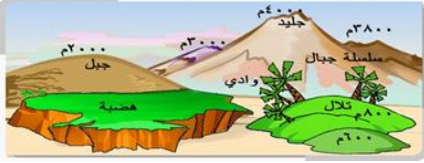
النشاط الثاني اجيبي عن الأسئلة في برنامج

ثالثا اجيبي في برنامج

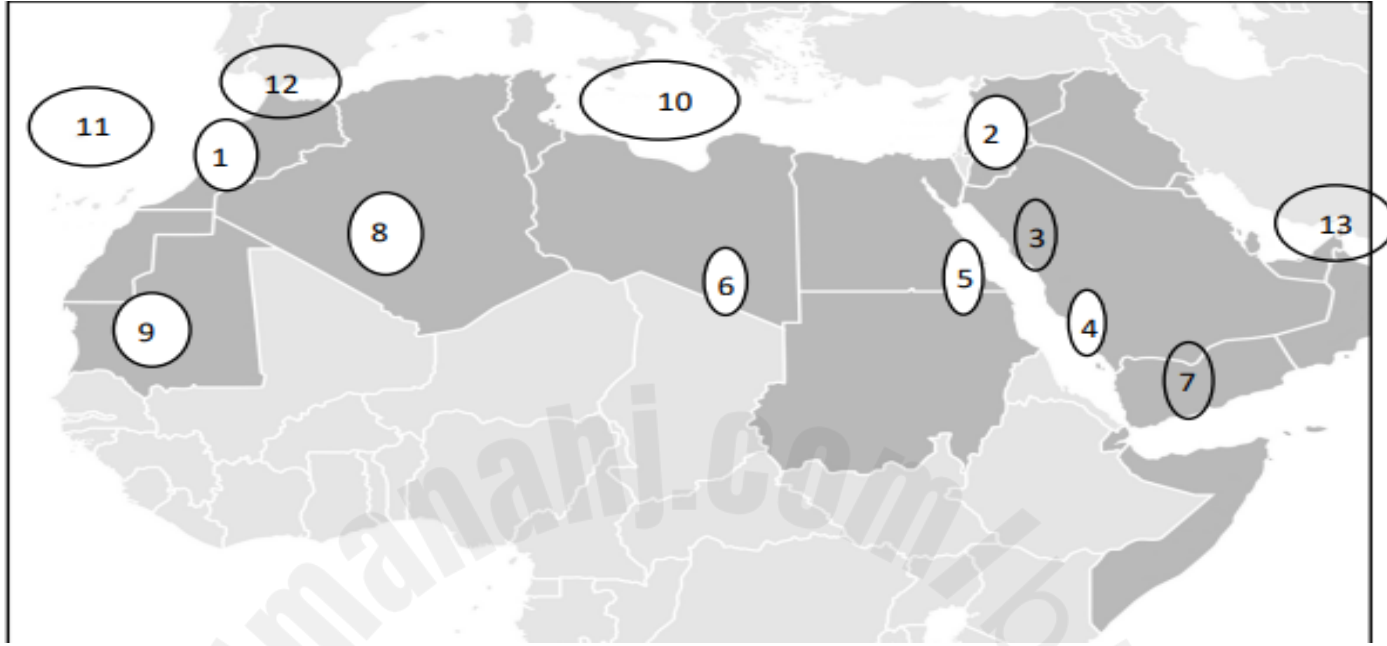
• الدعم المقدم	• التعزيز	• تقييم المعلمة للطالبة في هذا الدرس : الوصف
• أرجعي إلى للكتاب المدرسي . • أعيدي حل الاسئلة الخاطئة . • أستعيني بزميلتك للتوصل للإجابة الصحيحة .	• استمري بالصعود وستصلين لأعلى المراتب . • شكراً لجهودك الرائعة . • سعدت بمحاولاتك .	• عملك متقن حققت المطلوب منك بجدارة . • حققت المطلوب بشكل جزئي لديك بعض الأخطاء • لم تحققي المطلوب منك .
تاريخ المتابعة / التصحيح :	متوسط جيد تحتاج متابعة	تقييم أدائك لهذا الدرس هو : ممتاز



الدرس الثاني أشكال السطح في الوطن العربي أولا الجبال



أولاً: اكتب في الجدول التالي مدلولات الأرقام المثبتة على خريطة الوطن العربي مستعيناً بخريطة الكتاب ص 14



.....	7	دول عربية
.....	8	
.....	9	
.....	10	مسطحات مائية
.....	11	
.....	12	مضائق
.....	13	

الرقم	الجبال	نوعها
1		
2		
3		
4		
5		
6		

ثانياً اثبت بالأدلة صحة العبارة الآتية-

لم تشكل الجبال العربية حواجز مانعة للاتصال والتنقل

مهارة
تفكير
عليا

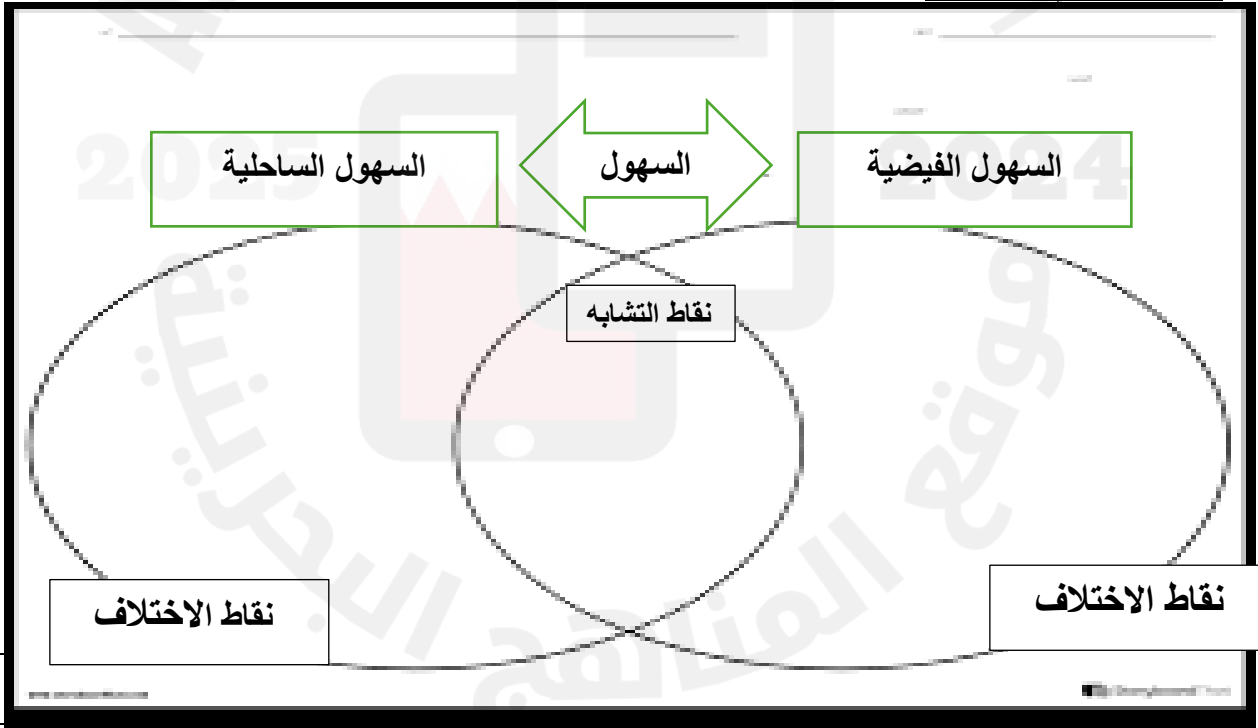
• الدعم المقدم	• التعزيز	• تقييم المعلمة للطالبة في هذا الدرس : الوصف
• أرجعي إلى الكتاب المدرسي . • أعيدي حل الاسئلة الخاطئة . • أستعيني بزميلتك للتوصل للإجابة الصحيحة .	• استمري بالصعود وستصلين لأعلى المراتب . • شكراً لجهودك الرائعة . • سعدت بمحاولاتك .	• عملك متقن حققت المطلوب منك بجدارة . • حققت المطلوب بشكل جزئي لديك بعض الأخطاء • لم تحققي المطلوب منك .
تاريخ المتابعة / التصحيح :	متوسط جيد	تقييم أدائك لهذا الدرس هو : ممتاز

الدرس الثاني أشكال السطح في الوطن العربي ثانيا الهضاب والسهول

أولا صنفى الهضاب الآتية بوضع علامة √ في المكان المناسب في الجدول المبين أدناه

العبارات	التاسيليات	الحمادات	هضبة نجد	هضبة حضرموت
هي الهضاب المحيطة بكتلة جبال الأحجار ترتفع الى 2000 م				
هضاب ذات سطوح حجرية أو كلسية أو جبسية				
ترجع الى الزمنين الثاني والثالث و احيانا الرابع مثل الجلف الكبير في مصر وتندوف وتنغريت				
يتكون سطحها من الصخور الرملية العائدة للزمن الجيولوجي الاول				
تقع في وسط شبه الجزيرة العربية ويتراوح ارتفاعها بين 500 و 900				
ترتفع الى 2000 متر ويفصلها عن هضبة نجد منخفض الربع الخالي				
تحتوي على بعض الواحات كسدير والقصيم وحنيفة والفالج تمتد في أقصى جنوب شبه الجزيرة العربية				

ثانيا باستخدام نموذج فن أوجد أوجه الشبه والخلاف بين السهول الفيضية والسهول الساحلية في الوطن العربي استعيني بالكتاب المدرسي ص 18 و 19



<ul style="list-style-type: none"> • ارجعي إلى للكتاب المدرسي . • أعيدي حل الاسئلة الخاطئة . • أستعيني بزميلتك للتوصل للإجابة الصحيحة . 	<ul style="list-style-type: none"> • استمري بالصعود وستصلين لأعلى المراتب . • شكراً لجهودك الرائعة . • سعدت بمحاولاتك . 	<ul style="list-style-type: none"> • عمك متقن حققت المطلوب منك بجدارة . • حققت المطلوب بشكل جزئي لديك بعض الأخطاء • لم تحققي المطلوب منك .
تاريخ المتابعة / التصحيح :	متوسط تحتاج متابعة	جيد ممتاز

عزيزتي الطالبة من خلال دراستك الى درس مظاهر السطح في الوطن العربي قومي برسم أشكال سطح الارض المختلفة أوالصقي صوراً مع كتابة مختصرة عن أعمق المنخفضات في الوطن العربي من خلال البحث من شبكة الانترنت متبعة الأمن السيبراني



WORD WALL

النشاط الاول في برنامج

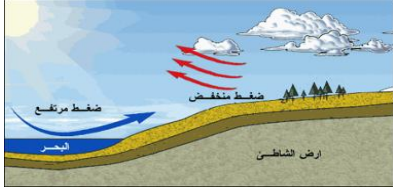
النشاط الثاني - عزيزتي الطالبة أجب عن أسئلة النشاط الثاني في Learning في المنصة الوطنية البوابة التعليمية (حلقة النقاش)

• الدعم المقدم	• التعزيز	• تقييم المعلمة للطالبة في هذا الدرس : الوصف
• أرجعي إلى للكتاب المدرسي . • أعيدي حل الاسئلة الخاطئة . • أستعيني بزميلتك للتوصل للإجابة الصحيحة .	• استمري بالصعود وستصلين لأعلى المراتب . • شكراً لجهودك الرائعة . • سعدت بمحاولاتك .	• عملك متقن حققت المطلوب منك بجدارة . • حققت المطلوب بشكل جزئي لديك بعض الأخطاء • لم تحفقي المطلوب منك .
تاريخ المتابعة / التصحيح :	جيد متوسط تحتاج متابعة	تقييم أدائك لهذا الدرس هو : ممتاز

Forms

النشاط الثالث أجب عن أسئلة النشاط في برنامج

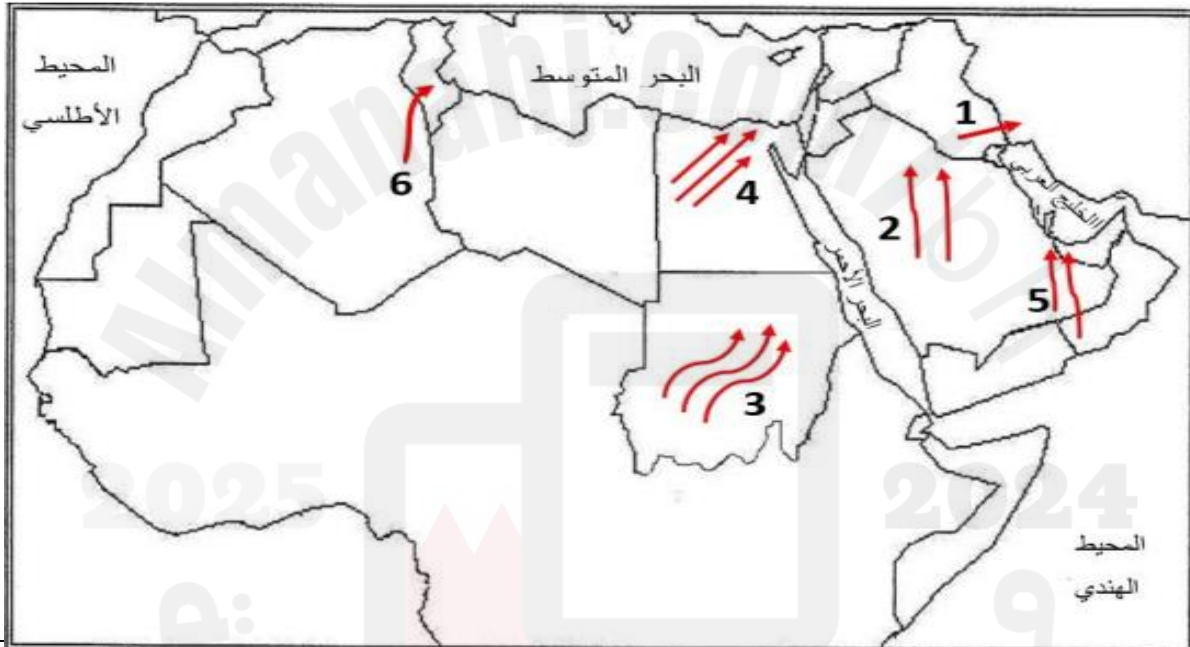
الدرس الثالث المناخ في الوطن العربي



أ- أكمل المخطط التالي الذي يبين العوامل المؤثرة في مناخ الوطن العربي:-

العوامل المؤثرة في مناخ الوطن العربي

ثانياً استخدم خريطة الكتاب ص 21 حدد أسماء الرياح المحلية التي تهب على الوطن العربي



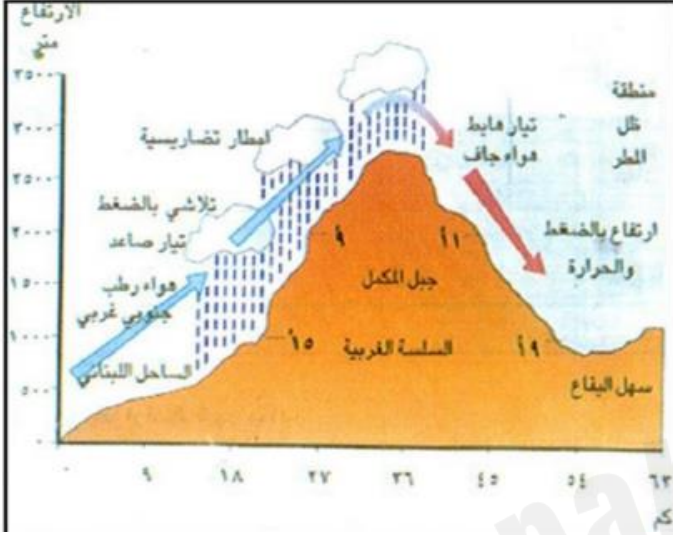
الرقم	الرياح	الرقم	الرياح
1		4	
2		5	
3		6	

ثالثاً ما التأثيرات المناخية الناتجة عن الحركة العامة للهواء ؟

1--2-

تقييم المعلمة للطالبة في هذا الدرس : الوصف	التعزيز	الدعم المقدم
<ul style="list-style-type: none"> عملك متقن حققت المطلوب منك بجدارة . حققت المطلوب بشكل جزئي لديك بعض الأخطاء لم تحققي المطلوب منك . 	<ul style="list-style-type: none"> استمري بالصعود وستصلين لأعلى المراتب . شكراً لجهودك الرائعة . سعدت بمحاولاتك . 	<ul style="list-style-type: none"> أرجعي إلى الكتاب المدرسي . أعيدي حل الاسئلة الخاطئة . أستعيني بزميلتك للتوصل للإجابة الصحيحة .
تقييم أدائك لهذا الدرس هو : ممتاز	جيد متوسط تحتاج متابعة	تاريخ المتابعة / التصحيح :

تابع الدرس الثالث المناخ في الوطن العربي (عناصر المناخ)



أولا أمامك مقطع نظري لجبل المكمل في لبنان،

تأمل المستند ثم أجب عن الأسئلة التي تليه:-

اكمل

1-تنخفض درجات الحرارة كلما ارتفعنا 1000 متر عن مستوى

سطح البحر بمعدل

2-الأمطار التي تسقط على السفوح المواجهة للبحر تسمى

.....

3-عندما تعبر الرياح قمم الجبال تصبح أقل رطوبة

و ترتفع حرارتها في منطقة تسمى

ثانيا أجب عن الأسئلة الآتية :-

1-وضح خصائص نظام الأمطار في الوطن العربي

.....
.....
.....

2-علل تعرض المسطحات المائية في المنطقة العربية للتبخر الشديد

.....
.....
.....

3- ماذا يحدث اذا :- 1-حدث الجفاف وانعكاساته

.....
.....
.....

ب- ما مقترحاتك لمعالجة ظاهرة الجفاف في الوطن العربي

.....

• الدعم المقدم	• التعزيز	• تقييم المعلمة للطالبة في هذا الدرس : الوصف
• أرجعي إلى للكتاب المدرسي . • أعيدي حل الاسئلة الخاطئة . • أستعيني بزميلتك للتوصل للإجابة الصحيحة .	• استمري بالصعود وستصلين لأعلى المراتب . • شكراً لجهودك الرائعة . • سعدت بمحاولاتك .	• عملك متقن حققت المطلوب منك بجدارة . • حققت المطلوب بشكل جزئي لديك بعض الأخطاء • لم تحققي المطلوب منك .
تاريخ المتابعة / التصحيح :	جيد متوسط تحتاج متابعة	تقييم أدائك لهذا الدرس هو : ممتاز

مهارات
تفكير
عليا

المناخ في الوطن العربي

نشاط تطبيقي

نشاط تحليلي عن الحرارة والمطر في مدينة المنامة (المستند 10 صفحة 25)

الشهر	يناير	فبراير	مارس	أبريل	مايو	يونيو	يوليو	أغسطس	سبتمبر	أكتوبر	نوفمبر	ديسمبر
الأمطار بالملمتر	16	17	11	8	1	0	0	0	0	1	4	13
الحرارة بالدرجات المنوية	17.1	18.2	20.9	25.4	29.5	31.9	33.5	34	32	28.6	24.3	19

أولا كيف تتوزع درجات الحرارة خلال أشهر السنة، والفصل أو الفصول الحراريّة

.....
.....

ثانيا احسبي المدى الحراري السنوي ملحوظة المدى الحراري السنوي: هو الفرق بين أقصى درجة حرارة وأدناها خلال السنة

.....

ثالثا احسبي مجموع كمية الأمطار، وتوزعها خلال أشهر السنة، والذروة المطرية وأدنى كمية للأمطار.

.....
.....

رابعا استنتجي نوع المناخ الذي تنتمي اليه مدينة المنامة وخصائصه

.....
.....

• الدعم المقدم	• التعزيز	• تقييم المعلمة للطالبة في هذا الدرس : الوصف
• أرجعي إلى للكتاب المدرسي . • أعيدي حل الاسئلة الخاطئة . • أستعيني بزميلتك للتوصل للإجابة الصحيحة .	• استمري بالصعود وستصلين لأعلى المراتب . • شكراً لجهودك الرائعة . • سعدت بمحاولاتك .	• عملك متقن حققت المطلوب منك بجدارة . • حققت المطلوب بشكل جزئي لديك بعض الأخطاء • لم تحققي المطلوب منك .
تاريخ المتابعة / التصحيح :	متوسط تحتاج متابعة	ممتاز تقييم أدائك لهذا الدرس هو :

المبادرة 2

النشاط الأول عزيزتي الطالبة قومي باختيار ما يناسبك من (نشاط واحد) .. و ارفقيه في صفحة البادلت الموجودة في المنصة الوطنية البوابة التعليمية (حلقة النقاش) متبعة الامن السيراني

1-اكتبي تقريراً عن الجفاف وعوامله في الوطن العربي مزوداً التقرير بصور ورسوم معبرة

2-أعدي فيديو في برنامج الكانفا عن انعكاسات ظاهرة الجفاف علي الكائنات الحية في الوطن العربي

النشاط الثاني



wordwall

أجبي عن الاسئلة الموجودة في صفحة

نشاط الدرس الخامس الثروة المائية في الوطن

أولاً- من خلال الصور الآتية استنتجي مصادر المياه في الوطن العربي :-



ب:- ضع إشارة صح (✓) أمام العبارة الصحيحة وإشارة خطأ (x) أمام العبارة الخاطئة لكل مما يأتي مع التصويب :-

- 1-الأمطار المصدر الرئيسي للمياه المخصصة الانتاج الزراعي في الوطن العربي ()
- 2-المياه السطحية هي الأكثر استخداماً لسهولة الحصول عليها ()
- 3- مشروع النهر العظيم في ليبيا من أكبر مشاريع المياه الجوفية العليا ()
- 4-- يعتبر من أفقر الأقاليم من حيث المياه الجوفية العليا والسطحية هو شبه الجزيرة العربية ()
- 5-تعتبر دول الخليج وليبيا أكثر الدول العربية اعتماداً على تحلية مياه البحر ()
- 6- تعتبر السودان من الدول العربية الأولى في استعمال مياه الصرف ()

الدعم المقدم	التعزيز	تقييم المعلمة للطالبة في هذا الدرس : الوصف
<ul style="list-style-type: none"> • أرجعي إلى للكتاب المدرسي . • أعيدي حل الاسئلة الخاطئة . • أستعيني بزميلتك للتوصل للإجابة الصحيحة . 	<ul style="list-style-type: none"> • استمري بالصعود وستصلين لأعلى المراتب . • شكراً لجهودك الرائعة . • سعدت بمحاولاتك . 	<ul style="list-style-type: none"> • عملك متقن حققت المطلوب منك بجدارة . • حققت المطلوب بشكل جزئي لديك بعض الأخطاء • لم تحققي المطلوب منك .
تاريخ المتابعة / التصحيح :	متوسط تحتاج متابعة	تقييم أدائك لهذا الدرس هو : ممتاز جيد متوسط

الدول الواقعة تحت خط الفقر المائي	الدول الواقعة فوق خط الفقر المائي
١- جيبوتي	١- العراق
٢- الجزائر	٢- سوريا
٣- الصومال	٣- موريتانيا
٤- المغرب	٤- السودان
٥- مصر	٥- سلطنة عمان
٦- تونس	
٧- اليمن	
٨- الإمارات العربية	
٩- الأردن	
١٠- السعودية	
١١- لبنان	
١٢- قطر	
١٣- الكويت	
١٤- البحرين	

خط الفقر المائي في الوطن العربي

ثانيا استعني بالمستند 6 ص 36 ثم أجبي عن الاسئلة الآتية:-

1-وضح مفهوم الميزان المائي

مهارة
تفكير
عليا

2-حدد أسماء الدول العربية الواقعة فوق خط الفقر المائي

3- اقترحي حولا لمواجهة مشكلة العجز المائي في البحرين

نشاط الجزء الثاني من الدرس الخامس الثروة المائية

أولا مشاكل استغلال المصادر المائية في الوطن العربي :-

ارجعي الي الكتاب ص 26 وأجبي عن الأسئلة الآتية:

وضحي أهم مشاكل استغلال
المصادر المائية في الوطن
العربي

بالرجوع الي الكتاب ص 27
اكتبي أكبر قدر من الحلول

من وجهة نظرك اقترحي
حولا سريعة وعملية لمشاكل
استغلال المصادر المائية

• الدعم المقدم	• التعزيز	• تقييم المعلمة للطالبة في هذا الدرس : الوصف
• أرجعي إلى الكتاب المدرسي . • أعيدي حل الاسئلة الخاطئة . • أستعيني بزميلتك للتوصل للإجابة الصحيحة .	• استمري بالصعود وستصلين لأعلى المراتب . • شكراً لجهودك الرائعة . • سعدت بمحاولاتك .	• عملك متقن حققت المطلوب منك بجدارة . • حققت المطلوب بشكل جزئي لديك بعض الأخطاء • لم تحققي المطلوب منك .
تاريخ المتابعة / التصحيح :	جيد متوسط تحتاج متابعة	تقييم أدائك لهذا الدرس هو : ممتاز

ثانيا

اكتب اسماء المشاريع المائية حسب كل دولة على خريطة الوطن العربي مستعينا بالجدول التالي

الهلال الخصيب			المغرب العربي				وادي النيل	
سوريا	الأردن	العراق	الجزائر	تونس	المغرب	ليبيا	السودان	مصر
مشروع الفرات	سد الملك طلال	بحيرة الحبانية	سد عنابة	سد مجردة	سد علال الفاسي	النهر الصناعي العظيم	خزان جبل الأولياء	السد العالي



مبادرة رقم 3

النشاط الأول عزيزتي الطالبة قومي باختيار ما يناسبك من (نشاط واحد) .. وارفقيه في صفحة البادلت الموجودة في المنصة الوطنية البوابة التعليمية (حلقة النقاش) متبعة الامن السيبراني

• الدعم المقدم	• التعزيز	• تقييم المعلمة للطالبة في هذا الدرس : الوصف
• أرجعي إلى للكتاب المدرسي . • أعيدي حل الاسئلة الخاطئة . • أستعيني بزميلتك للتوصل للإجابة الصحيحة .	• استمري بالصعود وستصلين لأعلى المراتب . • شكراً لجهودك الرائعة . • سعدت بمحاولاتك .	• عملك متقن حققت المطلوب منك بجدارة . • حققت المطلوب بشكل جزئي لديك بعض الأخطاء • لم تحققي المطلوب منك .
تاريخ المتابعة / التصحيح :	متوسط تحتاج متابعة	تقييم أدائك لهذا الدرس هو : ممتاز جيد متوسط



- 1- اكتب مقالاً عن مشاكل المياه في البحرين والحلول بالصور والصق في هذه الصفحة مستعيناً بالذكاء الصناعي ومراعياً للأمن السيبراني أو ارسم ما يعبر عن العجز المائي في البحرين
- 2- أعد فيديو بالذكاء الصناعي عن المخاطر التي تتعرض لها المياه الجوفية في الوطن العربي مع الحلول المناسبة



النشاط الثاني

forms

أجيب عن الاسئلة الموجودة في صفحة

ثالثاً حدد على خريطة الوطن العربي الدول التي تقع فوق خط الفقر المائي ثم اكتب اسم الدولة في الجدول



الرقم	الدولة	الرقم	الدولة	الرقم	الدولة
1		3		5	
2		4			

<ul style="list-style-type: none"> تقييم المعلمة للطالبة في هذا الدرس : الوصف 	<ul style="list-style-type: none"> استمري بالصعود وستصلين لأعلى المراتب . شكراً لجهودك الرائعة . سعدت بمحاولاتك . 	<ul style="list-style-type: none"> أرجعي إلى للكتاب المدرسي . أعيدي حل الاسئلة الخاطئة . أستعيني بزميلتك للتوصل للإجابة الصحيحة .
تقييم أدائك لهذا الدرس هو : ممتاز	جيد متوسط	تاريخ المتابعة / التصحيح :

تابع نشاط الدرس السادس السكان في الوطن العربي

الرقم	الاقليم	الدول العربية
1	اقليم الهلال الخصيب
2	اقليم شبه الجزيرة العربية
3	اقليم وادي النيل
4	اقليم المغرب العربي الكبير
5	اقليم القرن الأفريقي

ثالثا صنف الدول العربية الى 3 مجموعات وفقا لنسبة السكان الحضر فيها مستعينا بمستند 3 ص 42

دول ذات نسبة تحضر مرتفعة
دول ذات نسبة تحضر متوسطة
دول ذات نسبة تحضر منخفضة

رابعا أجبني عن الأسئلة الآتية:-

1- علل: سرعة النمو السكاني في الوطن العربي

1- 2- 3-



علل: زيادة الهجرة الوافدة للوطن العربي

عللي بقاء معدل المواليد مرتفعا

أسباب تدني الوفيات



1- 1- 1-

2- 2- 2-

3- 3- 3-

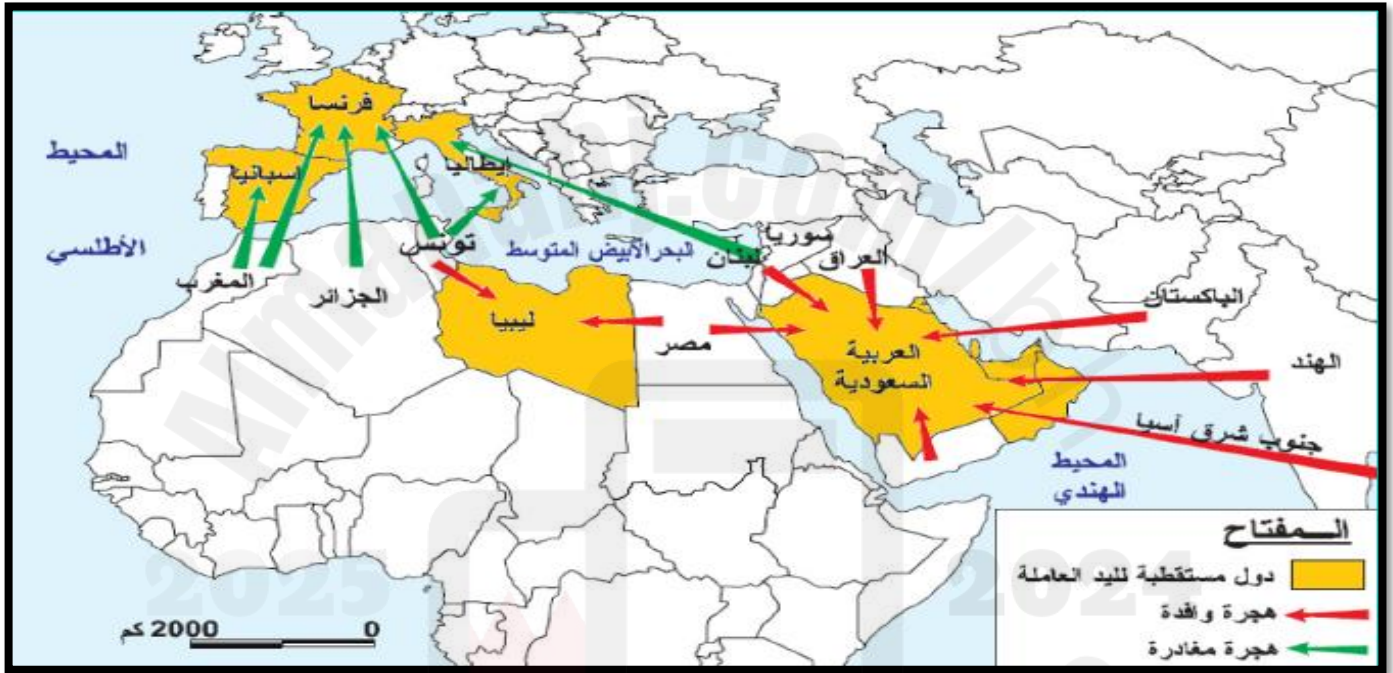
الدعم المقدم	التعزيز	تقييم المعلمة للطالبة في هذا الدرس : الوصف
<ul style="list-style-type: none"> أرجعي إلى للكتاب المدرسي . أعيدي حل الاسئلة الخاطئة . أستعيني بزميلتك للتوصل للإجابة الصحيحة . 	<ul style="list-style-type: none"> استمري بالصعود وستصلين لأعلى المراتب . شكراً لجهودك الرائعة . سعدت بمحاولاتك . 	<ul style="list-style-type: none"> عملك متقن حققت المطلوب منك بجدارة . حققت المطلوب بشكل جزئي لديك بعض الأخطاء لم تحققي المطلوب منك .
تاريخ المتابعة / التصحيح :	متوسط	تقييم أدائك لهذا الدرس هو : ممتاز

تابع نشاط الدرس السادس السكان في الوطن العربي

أولاً باستخدام مستند 6 ص 43 صنف الدول العربية الى 3 فئات وفقاً لمعدلات النمو السكاني

الفئات	الدول العربية	سنوات التضاعف
دول ذات نمو سكاني مرتفع (يتجاوز 2%)		35 سنة
دول ذات نمو سكاني متوسط (1.4% - 2%)		50 سنة
دول ذات نمو سكاني منخفض (0.7% - 1.4%)		100 سنة

ثانياً اجيبي عن الاسئلة الآتية مستعينا بالخريطة التي أمامك:-



1- اکتبي الدول العربية المستقبلة للهجرة وأسماء الدول الوافدة اليها من خارج الوطن العربي

.....

.....

2- ما الدول العربية التي تهاجر الي دول عربية ؟ ولماذا من وجهة نظرك ؟

.....

.....

الدعم المقدم	التعزيز	تقييم المعلمة للطالبة في هذا الدرس : الوصف
<ul style="list-style-type: none"> أرجعي إلى الكتاب المدرسي . أعيدي حل الاسئلة الخاطئة . أستعيني بزميلتك للتوصل للإجابة الصحيحة . 	<ul style="list-style-type: none"> استمري بالصعود وستصلين لأعلى المراتب . شكراً لجهودك الرائعة . سعدت بمحاولاتك . 	<ul style="list-style-type: none"> عملك متقن حققت المطلوب منك بجدارة . حققت المطلوب بشكل جزئي لديك بعض الأخطاء لم تحققي المطلوب منك .
تاريخ المتابعة / التصحيح :	جيد متوسط تحتاج متابعة	تقييم أدائك لهذا الدرس هو : ممتاز

3- اكتب أسماء الدول العربية التي تهاجر الي دول أوروبية ؟ مع ذكر الدول المستقبلية لها؟

.....

4- مارأيك في هذه المقولة :

العقول العربية المهاجرة.. "مكاسب قليلة وخسائر فادحة

.....

النشاط الأول :

عزيزتي الطالبة قومي باختيار ما يناسبك من (نشاط واحد) .. و ارفقيه في صفحة البادلت الموجودة في المنصة الوطنية البوابة التعليمية (حلقة النقاش) متبعة الامن السيبراني

1. س: اعدى فيديو في برنامج الكانقا يوضح فيه نتائج النزوح الريفي الكثيف نحو المدن
2. س: ابحتي عن المدن المليونية في الوطن العربي وزودي البحث بالصور



النشاط الثاني :

أجيب عليه من خلال برنامج

Learningapp



2- أجيب عن الأسئلة الآتية في برنامج

FORMS

• الدعم المقدم	• التعزيز	• تقييم المعلمة للطالبة في هذا الدرس : الوصف
• أرجعي إلى للكتاب المدرسي . • أعيدي حل الاسئلة الخاطئة . • أستعيني بزميلتك للتوصل للإجابة الصحيحة .	• استمري بالصعود وستصلين لأعلى المراتب . • شكراً لجهودك الرائعة . • سعدت بمحاولاتك .	• عملك متقن حققت المطلوب منك بجدارة . • حققت المطلوب بشكل جزئي لديك بعض الأخطاء • لم تحققي المطلوب منك .
تاريخ المتابعة / التصحيح :	جيد متوسط تحتاج متابعة	تقييم أدائك لهذا الدرس هو : ممتاز

نشاط الدرس السابع التنمية البشرية في الوطن العربي

أولا العبارات التالية جميعها خاطئة أوجدي الخطأ ثم صححيه :

- 1-الكثافة السكانية هي تنمية المؤسسات التي تعنى بالإنسان مباشرة كالرعاية الصحية والتعليم والغذاء
- 2- تصنف دول العالم الي خمس فئات تنمية بشرية
- 3- تعتبر جيبوتي أعلى مؤشر تنمية بشرية تسجل 846,
- 4- يقاس مؤشر التنمية البشرية في أي بلد من حيث أربع أبعاد أساسية
- 5 -حالة الغذاء من مشرات الوضع الاجتماعي
- 6-يتفوق معدل العمر عند الذكور عن الاناث في الدول العربية والعالم

ثانيا صنف مؤشرات التنمية البشرية وفقا للجدول:-

- العمر المتوقع عند الولادة -التعليم - أوضاع المرأة -تفاوت المداخل بين الدول العربية
- الرعاية الصحية وفيات الرضع - خدمات المياه والطاقة - حالة الغذاء

مؤشرات الوضع الاقتصادي	مؤشرات الوضع الاجتماعي	مؤشرات الوضع الصحي
.....
.....
.....

ثالثا ماهي التطورات الايجابية التي حققها الوطن العربي في مجال الرعاية الصحية؟

.....

.....

.....

رابعا مامقترحاتك للتغلب على سلبيات الرعاية الصحية في بعض الدول العربية

.....

.....

.....

<ul style="list-style-type: none"> • الدعم المقدم 	<ul style="list-style-type: none"> • التعزيز 	<ul style="list-style-type: none"> • تقييم المعلمة للطالبة في هذا الدرس : الوصف
<ul style="list-style-type: none"> • أرجعي إلى للكتاب المدرسي . • أعيدي حل الاسئلة الخاطئة . • أستعيني بزميلتك للتوصل للإجابة الصحيحة . 	<ul style="list-style-type: none"> • استمري بالصعود وستصلين لأعلى المراتب . • شكراً لجهودك الرائعة . • سعدت بمحاولاتك . 	<ul style="list-style-type: none"> • عملك متقن حققت المطلوب منك بجدارة . • حققت المطلوب بشكل جزئي لديك بعض الأخطاء • لم تحققي المطلوب منك .
تاريخ المتابعة / التصحيح :	متوسط جيد ممتاز	تحتاج متابعة

تابع نشاط الدرس السابع التنمية البشرية في الوطن العربي

أولاً أ- اذكرى معوقات التعليم في الوطن العربي:-

.....

.....

.....

ب - وضحى أوضاع المرأة في الوطن العربي

.....

.....

.....

ج- اشرحى المشاكل التى تعاني منها الدول العربية الزراعية ذات المداخل المتدنية مثل السودان واليمن

1..... 2..... 3.....

ثانياً ما رأيك ماهي المرتبة التي حققتها البحرين في مجال التنمية البشرية للأمم المتحدة للعام 2011 على المستويين العربي والاسلامي والعالمي .

.....

.....

النشاط الأول

في صفحة البادلت الموجودة اعزيتي الطالبة قومي باختيار ما يناسبك من (نشاط واحد) .. و ارفقي في المنصة الوطنية البوابة التعليمية (حلقة النقاش) متبعة الامن السيبراني

1- أعدي فيديو عن مشكلة النقص الغذائي في قطاع غزة المحتل وأثره علي السكان

2- أعدي تقريراً مزوداً بالصور عن الأوضاع الأساوية في السودان جراء الحرب الأهلية المتصاعدة



wizer

النشاط الثاني

اجيبي عن أسئلة النشاط في البرنامج

	<ul style="list-style-type: none"> التعزيز 	<ul style="list-style-type: none"> تقييم المعلمة للطالبة في هذا الدرس : الوصف
<ul style="list-style-type: none"> أرجعي إلى للكتاب المدرسي . أعدي حل الاسئلة الخاطئة . أستعيني بزميلتك للتوصل للإجابة الصحيحة . 	<ul style="list-style-type: none"> استمري بالصعود وستصلين لأعلى المراتب . شكراً لجهودك الرائعة . سعدت بمحاولاتك . 	<ul style="list-style-type: none"> عملك متقن حققت المطلوب منك بجدارة . حققت المطلوب بشكل جزئي لديك بعض الأخطاء لم تحققي المطلوب منك .
تاريخ المتابعة / التصحيح :	متوسط	تحتاج متابعة
	جيد	ممتاز

forms

ثالثا نشاط في برنامج

نشاط الدرس الثامن بنية الاقتصاد وخصائصه في الوطن العربي

أولاً اختر الاجابة الصحيحة مما يأتي :-

- 1- جميع ماياتي من التغيرات التي حدثت في بنية الاقتصاد العربي ماعدا :-
أ- ارتفاع حصة الصناعة الاستخراجية ب- ارتفاع مساهمة قطاع الزراعة ج- بقاء مساهمة قطاع الخدمات 43%
2- يتكون الاقتصاد من قطاعات أساسية هي الزراعة و..... و.....
أ-الصناعة ب-قطاع الخدمات ج- كل ما ذكر صحيح
3- جميع الدول الآتية يعتمد اقتصادها على النفط ماعدا
أ -السعودية ب-ليبيا ج- تونس
4- الاقتصاد المعيشي الكفائي الذي يهدف إلى تلبية الحاجات الداخلية هو
أ-نمط الانتاج التقليدي ب- نمط الانتاج الحديث ج-نمط أحادي الانتاج
5- من خصائص نمط الانتاج الحديث :-
أ- مداخيله منخفضة ب- يعتمد على اقتصاد تبادلي ج- يعتمد علي الطاقة العضوية
ثانيا صنفى الاقتصادات النفطية وغير النفطية بوضع علامة v وفقا للجدول :-

الرقم	العبارات	الاقتصادات النفطية	الاقتصادات غير النفطية
1	الدول العربية التي لا تعتمد على النفط مثل: زراعي: الصومال ، نصف مصنع مثل مصر وتونس وسوريا، الخدمات: لبنان		
2	نمو الصناعات التحويلية مع بقائها عاجزة عن تلبية حاجات السوق المحلية		
3	سيطرة قطاع الصناعات الاستخراجية		
4	تراجع حصة القطاع الزراعي من الناتج المحلي الاجمالي		

تقييم المعلمة للطالبة في هذا الدرس : الوصف	التعزيز	الدعم المقدم
<ul style="list-style-type: none"> • عملك متقن حققت المطلوب منك بجدارة . • حققت المطلوب بشكل جزئي لديك بعض الأخطاء • لم تحققي المطلوب منك . 	<ul style="list-style-type: none"> • استمري بالصعود وستصلين لأعلى المراتب . • شكراً لجهودك الرائعة . • سعدت بمحاولاتك . 	<ul style="list-style-type: none"> • أرجعي إلى الكتاب المدرسي . • أعيدي حل الاسئلة الخاطئة . • أستعيني بزميلتك للتوصل للإجابة الصحيحة .
تقييم أدائك لهذا الدرس هو : ممتاز	جيد متوسط تحتاج متابعة	تاريخ المتابعة / التصحيح :

5	تراجع نمو القطاع الزراعي بسبب ضعف الاستثمارات المخصصة للزراعة
6	سيطرة قطاع التجارة و الخدمات
7	استقرار نمو الصناعات التحويلية لأن الدولة هي الممول الأساسي للمشاريع

تابع نشاط الدرس الثامن بنية الاقتصاد العربي (خصائص الاقتصاد العربي)

أولاً أكمل الشكل التالي الذي يوضح خصائص الاقتصاد العربي

خصائص الاقتصاد العربي



--	--	--	--	--

ثانياً صنف المصطلحات امام ما يناسبها من عبارات في الجدول المبين أدناه:-

-الناتج المحلي الاجمالي -الخصخصة - التأميم - اقتصاد ثنائي - اقتصاد قائم على تصدير الخامات

المصطلح	العبارات
	1 مجموع دخل القطاعات الأساسية وهي الزراعة والصناعة والخدمات والتجارة
	2 أي أن المؤسسات أصبحت ملكاً للدولة بهدف تكوين رأس مال وطني و إيجاد فرص عمل
	3 يتضمن الاقتصاد العربي أنماطاً من الإنتاج الأول تقليدي والثاني حديث.
	4 إعادة بعض المؤسسات إلى القطاع الخاص
	5 يوفر تصدير الخامات مداخيل للدولة (الجزائر-السعودية-الامارات العربية المتحدة)

ثالثاً وضح أسباب تدنى انتاجية القطاع العام

.....

.....

.....

رابعاً أيهما أفضل ولماذا تصدير الخامات أم تصنيع الخامات

.....

.....

.....

الدعم المقدم	التعزيز	تقييم المعلمة للطالبة في هذا الدرس : الوصف
<ul style="list-style-type: none"> أرجعي إلى للكتاب المدرسي . أعيدي حل الاسئلة الخاطئة . أستعيني بزميلتك للتوصل للإجابة الصحيحة . 	<ul style="list-style-type: none"> استمري بالصعود وستصلين لأعلى المراتب . شكراً لجهودك الرائعة . سعدت بمحاولاتك . 	<ul style="list-style-type: none"> عملك متقن حققت المطلوب منك بجدارة . حققت المطلوب بشكل جزئي لديك بعض الأخطاء لم تحققي المطلوب منك .
تاريخ المتابعة / التصحيح :	جيد متوسط تحتاج متابعة	تقييم أدائك لهذا الدرس هو : ممتاز

النشاط الأول قومي باختيار ما يناسبك من (نشاط واحد) .. و ارفقيها في صفحة البادلت الموجودة في المنصة الوطنية البوابة التعليمية (حلقة النقاش) متبعة الامن السيبراني

س1: اکتبي مقالة عن التجارة البينية العربية ومقترحاتك لزيادة حجمها .

س 2 اعداد فيديو بالذكاء الصناعي عن الخصخصة

النشاط الثاني 1-أجبي عن الأسئلة الآتية في برنامج Forms

2- اجبي عن الاسئلة في برنامج

app.wizer.me



نشاط الدرس التاسع الزراعة 1 في الوطن العربي

أولا عزيزتي الطالبة استعيني الكتاب المدرسي ص 57- 60 ثم أجبي عن الأسئلة الآتية

(6) - أولا اکتبي العبارات الآتية في المكان المناسب من الجدول المبين أدناه: -

- اليد العاملة الزراعية - الأرض واستخداماتها - الاستثمارات في قطاع الزراعة -
- الأسواق - المياه والمناخ - السياسة الرسمية - استخدام التكنولوجيا

المقومات الطبيعية	المقومات البشرية	المقومات الاقتصادية
.....
.....
.....

ثانيا بالرجوع للكتاب ص 57 أجبي عن الخريطة المفاهيمية لتوزيع الاراضي القابلة للزراعة:-

أنواع الزراعات

التعريف	تقييم المعلمة للطالبة في هذا الدرس : الوصف	الدعم المقدم
<ul style="list-style-type: none"> استمري بالصعود وستصلين لأعلى المراتب . شكراً لجهودك الرائعة . سعدت بمحاولاتك . 	<ul style="list-style-type: none"> عملك متقن حققت المطلوب منك بجدارة . حققت المطلوب بشكل جزئي لديك بعض الأخطاء لم تحققي المطلوب منك . 	<ul style="list-style-type: none"> أرجعي إلى الكتاب المدرسي . أعدي حل الاسئلة الخاطئة . أستعيني بزميلتك للتوصل للإجابة الصحيحة .
تحتاج متابعة	جيد متوسط	تاريخ المتابعة / التصحيح :

توجد في السودان والصومال

فقيرة بسبب الجفاف

تساهم بالجزء الأكبر من الانتاج الزراعي

تعتمد علي الاساليب التقليدية

تابع نشاط الدرس التاسع الزراعة 1 في الوطن العربي

أولا ضع إشارة (√) أمام العبارة الصحيحة وإشارة (x) أمام العبارة الخاطئة لكل مما يأتي:

- 1-) توفر الزراعة فرص عمل لحوالي ثلث القوة العاملة في الوطن العربي
- 2-) تعتمد الزراعة المطرية علي الاساليب الحديثة وجاذبة للاستثمارات
- 3-) تسهم الزراعة المروية بالجزء الأكبر من الانتاج الزراعي لكنها فقيرة
- 4-) يهتم نمط الزراعة أحادي الانتاج بانتاج المحاصيل المخصصة للأسواق
- 5-) تنخفض نسبة العمالة الزراعية في كل من الإمارات (2%) والبحرين (0,6%)...

ثانيا - على

1- استخدام التكنولوجيا في معظم ميادين النشاط الزراعي مازال محدوداً في الوطن العربي:

.....

2- ما الآثار الناتجة عن استعمال طرق ري غير مناسبة وتردي نظم صرف المياه؟

أ..... ب..... ج.....

3- يشكل المناخ بختلف عناصره أبرز العوامل المؤثرة في الانتاج الزراعي؟

.....

4- وضح الطرق التي سعت اليها الدول العربية الى تنمية الزراعة يكتفي بثلاث نقاط

1..... 2..... 3.....

ثالثاً لو أنك مسؤولة في وزارة الزراعة ماهي اجراءاتك لمعالجة ضعف البنية الأساسية الزراعية

• تقييم المعلمة للطالبة في هذا الدرس : الوصف	• التعزيز	• الدعم المقدم
• عمالك متقن حققت المطلوب منك بجدارة .	• استمري بالصعود وستصلين لأعلى المراتب .	• أرجعي إلى للكتاب المدرسي .
• حققت المطلوب بشكل جزئي لديك بعض الأخطاء	• شكراً لجهودك الرائعة .	• أعيدي حل الاسئلة الخاطئة .
• لم تحققي المطلوب منك .	• سعدت بمحاولاتك .	• أستعيني بزميلتك للتوصل للإجابة الصحيحة .
تقييم أدائك لهذا الدرس هو : ممتاز	جيد متوسط	تاريخ المتابعة / التصحيح :



النشاط الاول

1- اجيبي عن الأسئلة الآتية في برنامج FORMS

النشاط الثاني

قومي باختيار ما يناسبك من (نشاط واحد) .. و ارفقيها في صفحة البادلت الموجودة في المنصة الوطنية البوابة التعليمية (حلقة النقاش) متبعة الامن السيبراني

- 1- قومي بتأليف قصة عن الزراعة في الوطن العربي
- 2- جمع صوراً تبين أساليب وطرق الزراعة قديماً وفي عصرنا الحالي

نشاط الدرس الثاني عشر: النفط والغاز

أولاً من خلال الفيديو

1- اكتبي 3 من خصائص النفط العربي

.....

.....

.....

2- اكمل

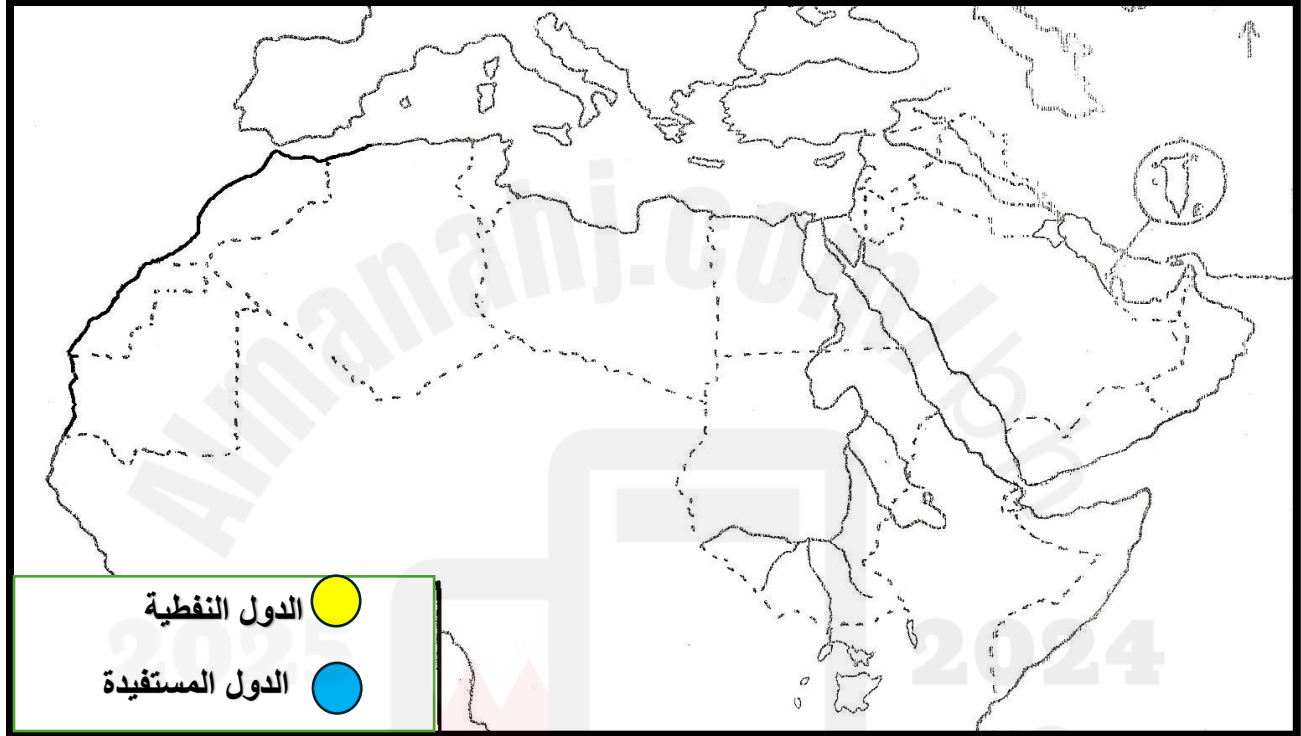
- تتوزع حقول النفط على دولة عربية
- تمتلك السعودية وحدها نحو من الاحتياطي العربي (ربع الاحتياطي العالمي)
- تحتل المركز الأول في انتاج النفط بين الدول العربية

2- وضح أهمية أنابيب نقل النفط:

• الدعم المقدم	• التعزيز	• تقييم المعلمة للطالبة في هذا الدرس : الوصف
• أرجعي إلى للكتاب المدرسي . • أعيدي حل الاسئلة الخاطئة . • أستعيني بزميلتك للتوصل للإجابة الصحيحة .	• استمري بالصعود وستصلين لأعلى المراتب . • شكراً لجهودك الرائعة . • سعدت بمحاولاتك .	• عملك متقن حققت المطلوب منك بجدارة . • حققت المطلوب بشكل جزئي لديك بعض الأخطاء • لم تحققي المطلوب منك .
تاريخ المتابعة / التصحيح :	متوسط تحتاج متابعة	جيد ممتاز

ثانياً حددي علي خريطة الوطن العربي التالية الدول النفطية مستخدمة اللون الأصفر لتوينها وكتابة الدولة -الدول العربية التي تستفيد من مرور أنابيب النفط على أراضيها مستخدمة اللون الازرق وكتابة الدولة

تابع نشاط الدرس العاشر النفط والغاز في الوطن العربي



أولاً ضع المصطلحات التالية أمام ما يناسبها من العبارات الواردة في الجدول التالي:-

-الكارتل الدولي - السلسلة النفطية - منظمة الأوبك - الصدمة البترولية الاولي - منظمة الأوابك

المصطلح	العبارات	
	تكونت من البلاد العربية المصدرة للنفط	1
	تأسست عام 1960م يتكون من السعودية والكويت والعراق ثم فنزويلا وإيران و9 دول أخرى	2

الدعم المقدم	التعزيز	تقييم المعلمة للطالبة في هذا الدرس : الوصف
<ul style="list-style-type: none"> أرجعي إلى للكتاب المدرسي . أعيدي حل الاسئلة الخاطئة . أستعيني بزميلتك للتوصل للإجابة الصحيحة . 	<ul style="list-style-type: none"> استمري بالصعود وستصلين لأعلى المراتب . شكراً لجهودك الرائعة . سعدت بمحاولاتك . 	<ul style="list-style-type: none"> عملك متقن حققت المطلوب منك بجدارة . حققت المطلوب بشكل جزئي لديك بعض الأخطاء لم تحققي المطلوب منك .
تاريخ المتابعة / التصحيح :	متوسط	تقييم أدائك لهذا الدرس هو : ممتاز

3	المسح و التنقيب - الإنتاج - النقل - التكرير - توزيع المنتجات النهائية
4	يتألف من سبع شركات كبرى من جنسيات متعددة تسيطر علي الإنتاج والتكرير والتسويق
5	جاءت بعد حرب أكتوبر حيث اهتزت السوق النفطية بشكل لم تعرفه من قبل

ثانياً إلى أين يصدر النفط العربي ؟ ولماذا ؟ من خلال المستند ص 79

تابع نشاط الدرس العاشر النفط والغاز في الوطن العربي

أكملي الشكل التالي الذي يبين الصدمات البترولية بالاستعانة بالكتاب المدرسي ص 79 80 :-

الصدمة
البترولية
الأولي
عام 1973

السبب.....

النتائج.....

الصدمة
البترولية
الثانية
عام 1979م

السياسة التي اتبعتها
الدول بعد الصدمة البترولية الثانية

نتائج هذه السياسة.....

الصدمة
البترولية
الثالثة
عام 1990

السبب.....

النتيجة.....

النشاط الأول

قومي باختيار ما يناسبك من (نشاط واحد) .. و ارفقيها في صفحة البادلت الموجودة في المنصة الوطنية البوابة التعليمية (حلقة النقاش) متبعة الامن السيبراني

1-أعداد فيديو بالذكاء الصناعي عن مراحل السلسلة النفطية

• الدعم المقدم	• التعزيز	• تقييم المعلمة للطالبة في هذا الدرس : الوصف
• أرجعي إلى للكتاب المدرسي . • أعيدي حل الاسئلة الخاطئة . • أستعيني بزميلتك للتوصل للإجابة الصحيحة .	• استمري بالصعود وستصلين لأعلى المراتب . • شكراً لجهودك الرائعة . • سعدت بمحاولاتك .	• عملك متقن حققت المطلوب منك بجدارة . • حققت المطلوب بشكل جزئي لديك بعض الأخطاء • لم تحققي المطلوب منك .
تاريخ المتابعة / التصحيح :	متوسط جيد ممتاز	تحتاج متابعة

2- كتابة تقرير مزود بالصور عن استخدام النفط كسلاح استراتيجي في حرب أكتوبر 1973



النشاط الثاني 1-أجبي عن الأسئلة في برنامج

FORMS



2-صنفي العبارات الآتية في برنامج learningapps

نشاط الدرس السادس عشر: الخدمات والمبادلت

أولا

1-وضحي العوامل المساعدة لنمو الخدمات

.....

.....

.....

2-على شهدت السياحة في الوطن العربي نموا متفاوتا بين الأقطار

.....

.....

3-على: عرفت الدول العربية المتوسطة مثل مصر والمغرب وسوريا ولبنان نهضة سياحية كبيرة



**أجمل الاماكن السياحية
في سوريا**

EHGEZZ

-1

.....

.....

-2.

.....

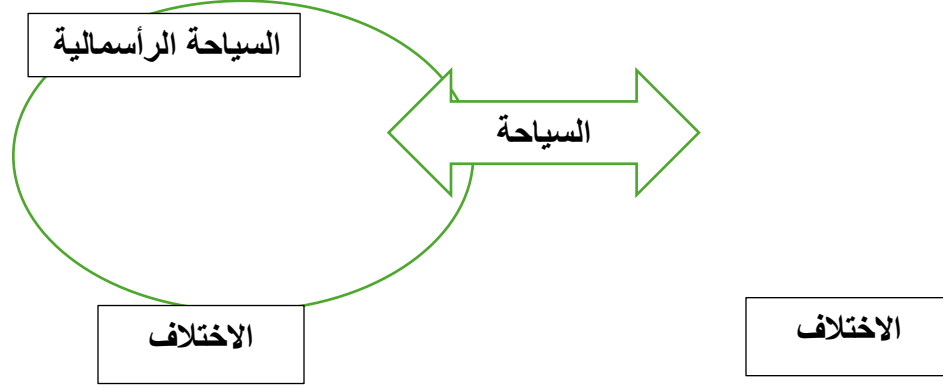
.....

.....



ثانيا وضحي الفرق بين السياحة الجماهيرية والسياحة الرأسالية من خلال المخطط

السياحة الجماهيرية	التعزيز	الدعم المقدم
<ul style="list-style-type: none"> • عود وستصلين • مراتب • ردة الرائعة • بمحاولاتك 	<ul style="list-style-type: none"> • أرجعي إلى للكتاب المدرسي • أعيدي حل الاسئلة الخاطئة • أستعيني بزميلتك للتوصل للإجابة الصحيحة 	<ul style="list-style-type: none"> • الدعم المقدم
<p>تقييم</p>	<p>متماز جيد متوسط تحتاج متابعة</p>	<p>تاريخ المتابعة / التصحيح :</p>



تابع نشاط الدرس السادس عشر: الخدمات والمبادلات التجارية

أولاً على: أ- أصبحت الإدارة عبنا على الدولة :-

ب- يعتبر القطاع المصرفي اليوم من أهم قطاعات الخدمات في الوطن العربي

ج- اذكرى أنواع المصارف وخدمات التأمين

.....

ثانياً وضح الفرق بين الصادرات والواردات العربية في جدول مستعينا بالكتاب ص 101

الصادرات العربية	الواردات العربية

ثالثاً ضع إشارة (✓) أمام العبارة الصحيحة وإشارة (x) أمام العبارة الخاطئة لكل مما يأتي مع تصويب الخطأ:

1- () من الدول التي تسجل عجزاً في الميزان التجاري مجموعة الدول النفطية

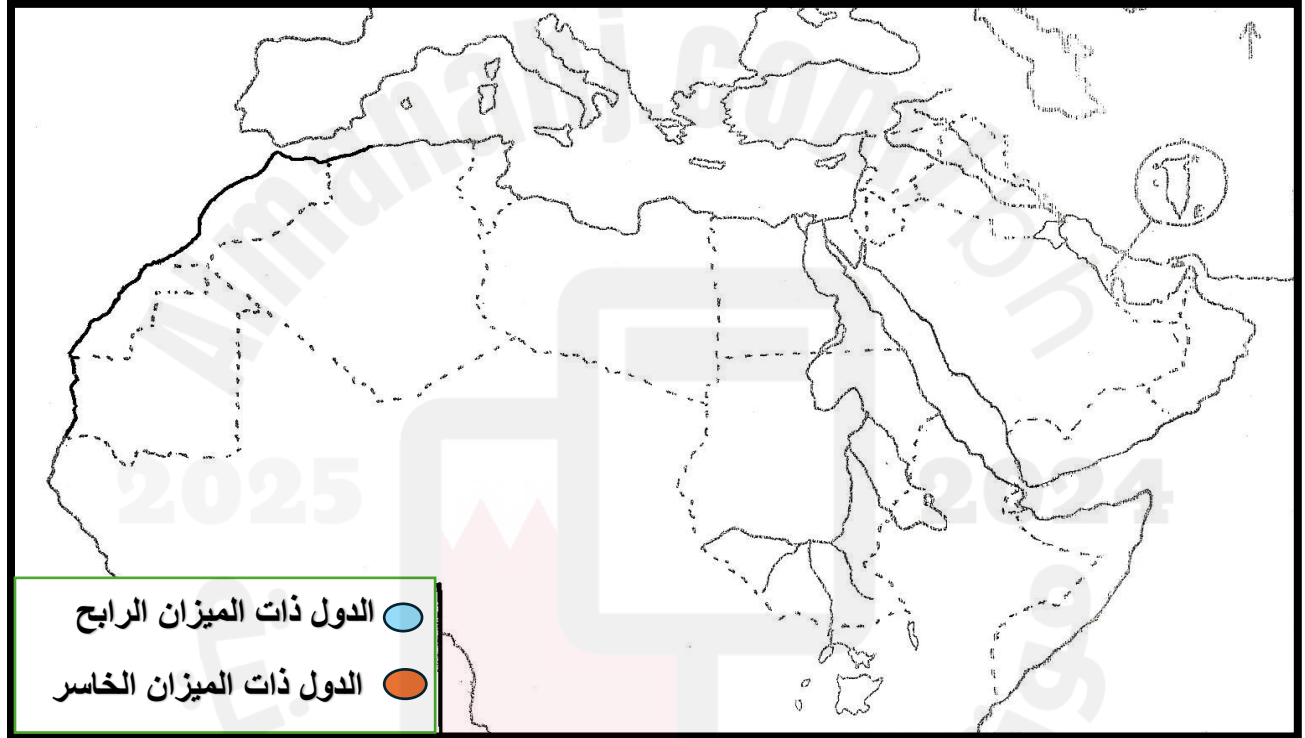
تقييم المعلمة للطالبة في هذا الدرس : الوصف	التعزيز	الدعم المقدم
<ul style="list-style-type: none"> عملك متقن حققت المطلوب منك بجدارة . حققت المطلوب بشكل جزئي لديك بعض الأخطاء لم تحققي المطلوب منك . 	<ul style="list-style-type: none"> استمري بالصعود وستصلين لأعلى المراتب . شكراً لجهودك الرائعة . سعدت بمحاولاتك . 	<ul style="list-style-type: none"> أرجعي إلى للكتاب المدرسي . أعيدي حل الاسئلة الخاطئة . أستعيني بزميلتك للتوصل للإجابة الصحيحة .
تقييم أدائك لهذا الدرس هو : ممتاز	جيد متوسط	تاريخ المتابعة / التصحيح :

- 2-) تسد الدول الغير نفطية عجزها في الموازنة بالمساعدات التي تقدمها الدول النفطية
 3-) يحتكر الاتحاد الأوروبي ربع الصادرات العربية ونصف الواردات العربية
 4-) تزداد حجم التجارة البينية العربية الي أكثر من 90%
 5-) تصنف الدول العربية الي ثلاث مجموعات وفقا للميزانها التجاري

نشاط تطبيقي نشاط حلقة النقاش الإجابة علي أسئلة المستند ص102 من الكتاب المدرسي وارفقي الإجابة في البادلت والرابط مرسل لك في حلقة النقاش

المطلوب احسي الميزان التجاري للدول العربية الواردة بالجدول

حددي الدول العربية ذات الميزان التجاري الايجابي والدول العربية ذات الميزان التجاري السلبي مستخدما الالوان



النشاط الثاني :

1. أجيبي عن الأسئلة في برنامج

learningapps



• الدعم المقدم	• التعزيز	• تقييم المعلمة للطالبة في هذا الدرس : الوصف
• أرجعي إلى للكتاب المدرسي . • أعيدي حل الاسئلة الخاطئة . • أستعيني بزميلتك للتوصل للإجابة الصحيحة .	• استمري بالصعود وستصلين لأعلى المراتب . • شكراً لجهودك الرائعة . • سعدت بمحاولاتك .	• عملك متقن حققت المطلوب منك بجدارة . • حققت المطلوب بشكل جزئي لديك بعض الأخطاء • لم تحققي المطلوب منك .
تاريخ المتابعة / التصحيح :	جيد متوسط تحتاج متابعة	تقييم أدائك لهذا الدرس هو : ممتاز

2-أجيب عن الأسئلة في برنامج forms



مراجعة عامة علي مقرر اجا 210



forms

اجيب عن الأسئلة الآتية في برنامج



اختبارات سابقة لمقرر اجا210

2025

2024

• الدعم المقدم	• التعزيز	• تقييم المعلمة للطالبة في هذا الدرس : الوصف
• أرجعي إلى للكتاب المدرسي . • أعيدي حل الاسئلة الخاطئة . • أستعيني بزميلتك للتوصل للإجابة الصحيحة .	• استمري بالصعود وستصلين لأعلى المراتب . • شكراً لجهودك الرائعة . • سعدت بمحاولاتك .	• عملك متقن حققت المطلوب منك بجدارة . • حققت المطلوب بشكل جزئي لديك بعض الأخطاء • لم تحققي المطلوب منك .
تاريخ المتابعة / التصحيح :	جيد متوسط تحتاج متابعة	تقييم أدائك لهذا الدرس هو : ممتاز