


تم تحميل هذا الملف من موقع المناهج البحرينية



الملف مراجعة خرائط أجا 213

موقع المناهج ← ← الصف الثالث الثانوي ← المواد الاجتماعية ← الفصل الثاني ← الملف

روابط مواقع التواصل الاجتماعي بحسب الصف الثالث الثانوي



روابط مواد الصف الثالث الثانوي على تلغرام

[الرياضيات](#)

[اللغة الانجليزية](#)

[اللغة العربية](#)

[التربية الاسلامية](#)

المزيد من الملفات بحسب الصف الثالث الثانوي والمادة المواد الاجتماعية في الفصل الثاني

الملخص الوافي و مفتاح النجاح الشافي في مقرر أجا 213	1
إجابة امتحان نهاية الفصل الدراسي الثاني مقرر الجغرافيا الطبيعية رمز المقرر أجا 211	2
حل النزاعات والخلافات الدولية بالطرق السلمية مقرر وطن 301	3
ملخص الدرس الأول المجتمع الدولي	4
شرح درس الطرق السلمية لحل النزاعات والخلافات الدولية	5

مراجعة خرائط أجا 213 أفضيلة مرهون

تم تحميل هذا الملف من

موقع المنتدى الحرنية

alManahj.com

**النجاح يحققه فقط الذين يواصلون المحاولة
وينظرون للأشياء بنظرة إيجابية.**



تم تحميل هذا الملف من
موقع المناهج البحرينية

alManahj.com/bh

انطلق نابليون

فرنسا
(ميناء طولون)

احتلت

قتل نابليون في دخول
عكا بعد حصار دام شهرين



عكا

حيفا

يافا

غزة

العريش

البحر المتوسط

القدس

البحر الميت

أمر نابليون بإعدام ٣٠٠٠٠ جندي من حاميه يافا

القاهرة

احتلت القاهرة
بعد معركة الأهرام
الفرنسيين X المماليك



خريطة ص 45

تتبع خط سير
الحملة
الفرنسية على
مصر والشام
-1798
1801م،
على
الخريطة:

أولاً: الاحتلال الفرنسي للجزائر (1830م)

النشاط الأول: فردي - 5 دقائق -



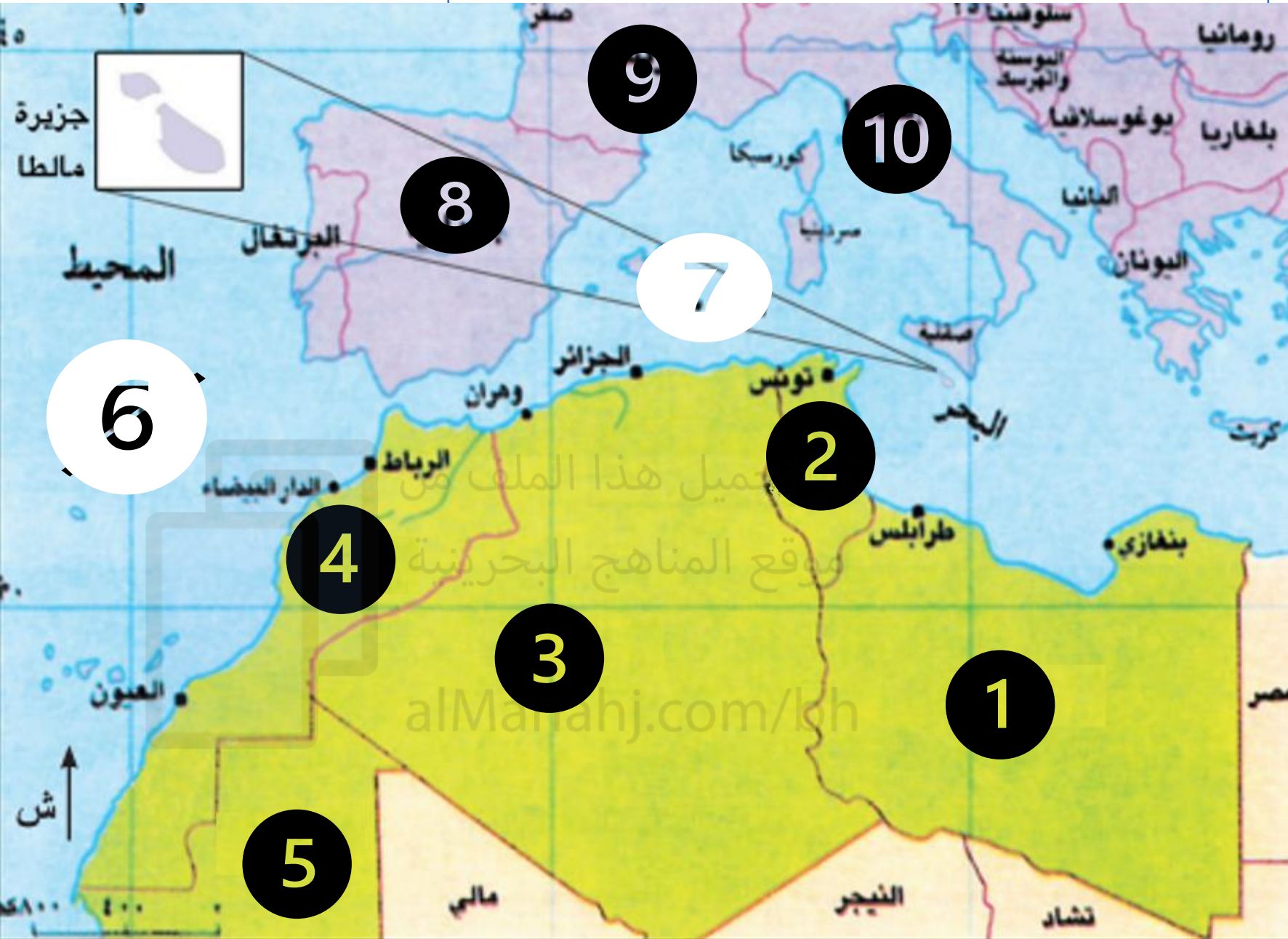
- اقرأ خريطة المغرب العربي، ثم أجب عن الأسئلة التالية:

• اكتب أسماء دول المغرب العربي في مواقعها الصحيحة.

• حدد الدول الاستعمارية المسيطرة على أقطار المغرب العربي.

أولاً: الاحتلال الفرنسي للجزائر (1830م)

النشاط الأول: فردي - 5 دقائق -



- اقرأ خريطة المغرب العربي، ثم أجب عن الأسئلة التالية:
- اكتب أسماء دول المغرب العربي في مواقعها الصحيحة.
- حدد الدول الاستعمارية المسيطرة على أقطار المغرب العربي.

ثانيا: الاحتلال الفرنسي والاسباني للمغرب الاقصى

النشاط الثاني: فردي- 5
دقائق -

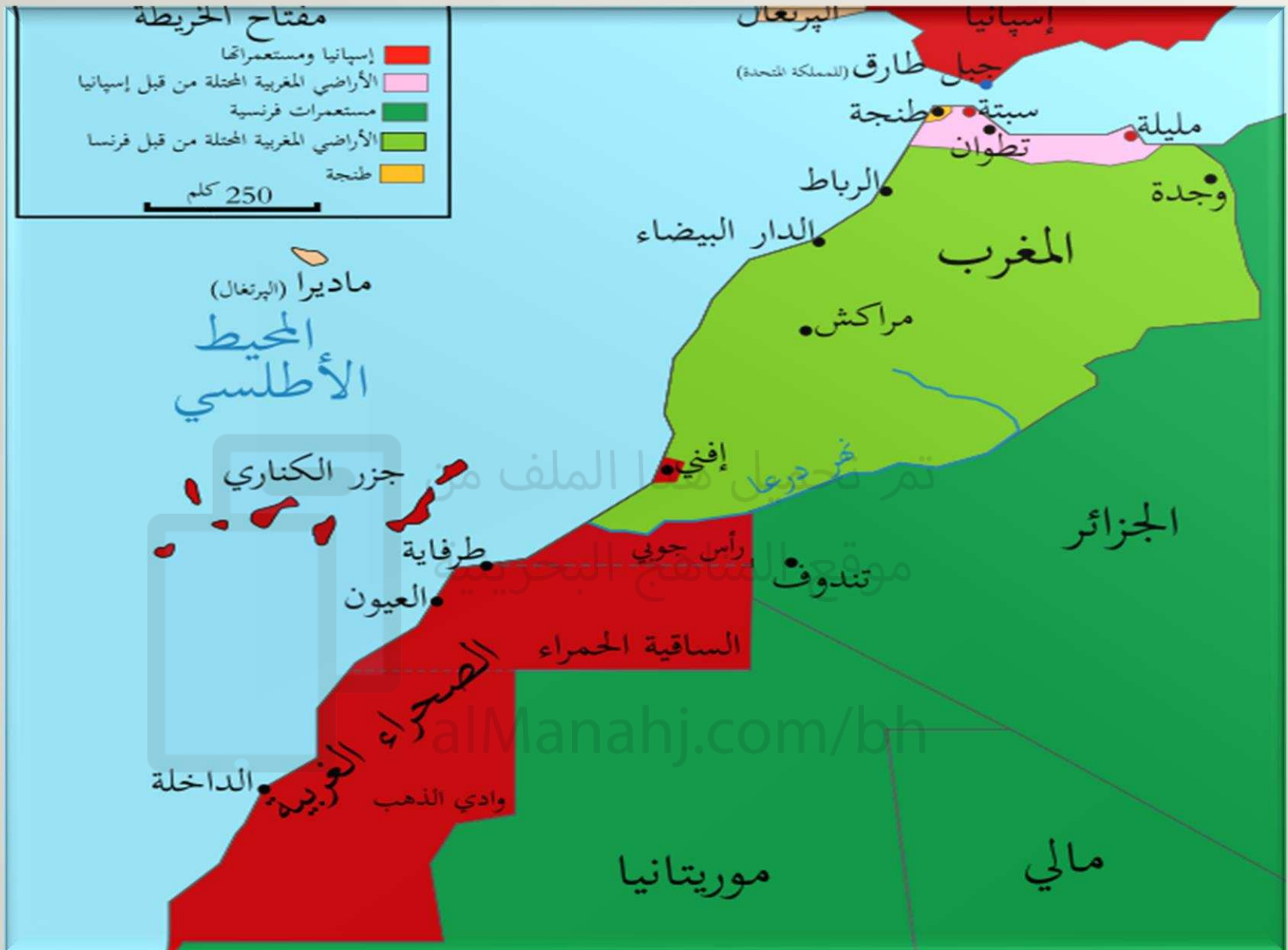


- اقرأ خريطة الاحتلال الفرنسي والاسباني للمغرب الاقصى، ثم أجب عن الأسئلة التالية:
- 1- سمي الدول الأوروبية التي تقاسمت احتلال المغرب الأقصى .
- 2- أذكرني أسماء المناطق التي احتلتها اسبانيا في المغرب الاقصى.
- 3- ما المناطق المحتلة من قبل فرنسا في المغرب الاقصى.
- 4- ما اسم المنطقة التي وضعت تحت اشراف دولي
- 5- ما اسم المسطحات المائية التي تشرف عليها دولة المغرب
- 6- ما اسم المضيق الذي تشرف عليه دولة المغرب

ثانيا: الاحتلال الفرنسي والاسباني للمغرب الأقصى

تصويب النشاط 2

- 1- سمي الدول الأوروبية التي تقاسمت احتلال المغرب الأقصى .(فرنسا – إسبانيا)
- 2- أذكر أسماء المناطق التي احتلتها اسبانيا في المغرب الأقصى. (مليلة- سبتة- تطوان)
- 3- ما المناطق المحتلة من قبل فرنسا في المغرب الأقصى. (مراكش- الرباط- الدار البيضاء-وجدة)
- 4- ما اسم المنطقة التي وضعت تحت اشراف دولي (طنجة)
- 5- ما اسم المسطحات المائية التي تشرف عليها دولة المغرب (البحر المتوسط- المحيط الأطلسي)
- 6- ما اسم المضيق الذي تشرف عليه دولة المغرب (مضيق جبل طارق)



النشاط الثاني:

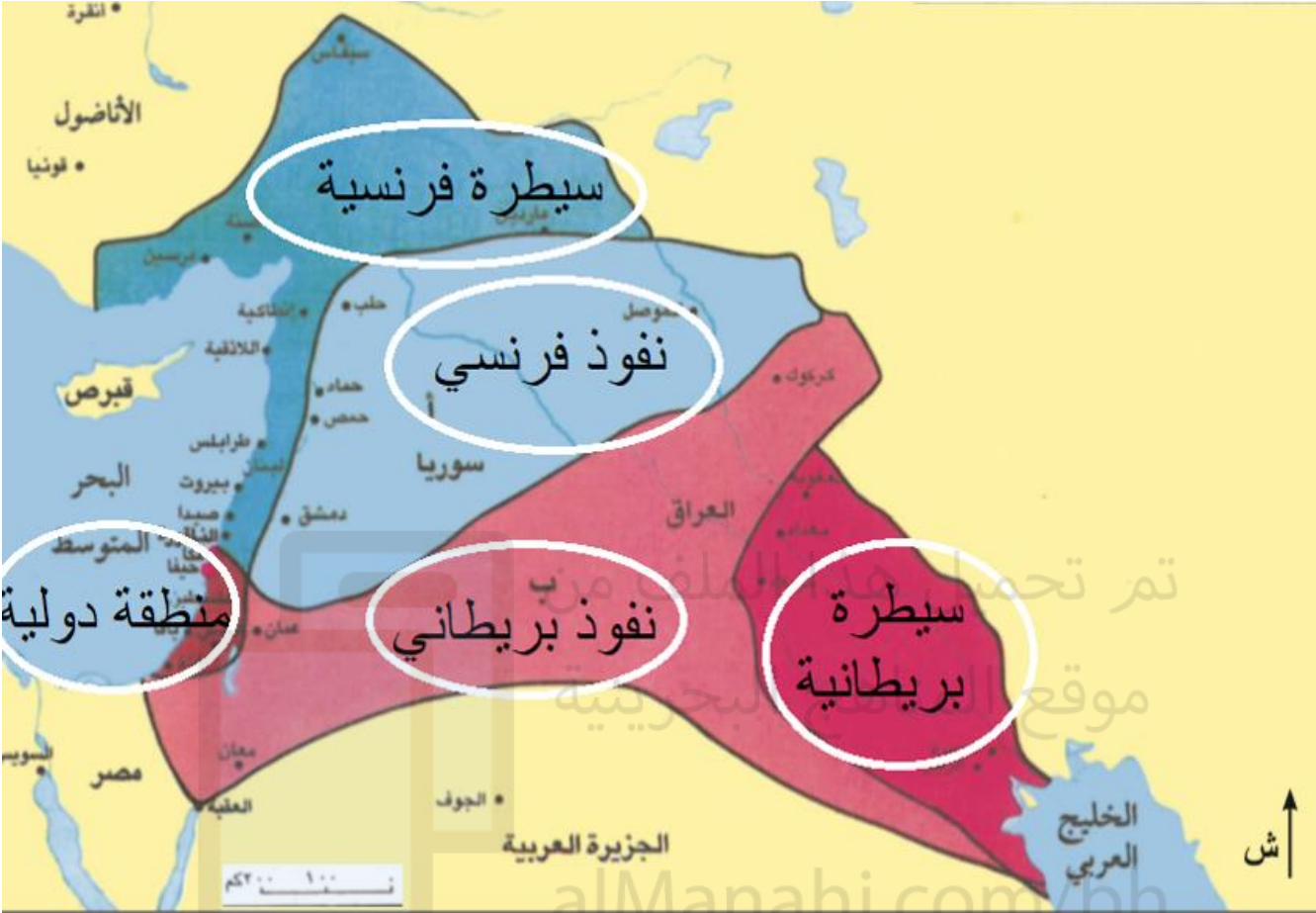
من خلال خريطة سير قوات الثورة العربية، حدد مراحل الثورة العربية الكبرى والمدن التي حُررت في كل مرحلة.

- **المرحلة الاولى:** تحرير مدن الحجاز (مكة المكرمة، الطائف، الوجه، تبوك).
- **المرحلة الثانية:** تحرير بلاد الشام وتمكن فيها من تحرير مدن (العقبة، معان، الطفيلة، عمان، درعا، دمشق، حمص، حماة حلب).



(٥) خريطة سير قوات الثورة العربية

النشاط الثالث:



خريطة اتفاقية سايكس - بيكو ١٩١٦م.
خريطه اتفاقية سايكس - بيكو ١٩١٦م.

• من خلال خريطة اتفاقية سايكس بيكو
حدد المناطق التالية:

نفوذ بريطاني

نفوذ فرنسي

السيطرة الفرنسية

السيطرة
البريطانية

منطقة دولية

النشاط الرابع:

• على خريطة اتفاقية سان ريمو حدد المناطق التالية:

الانتداب البريطاني

الانتداب الفرنسي



خريطة اتفاقية سان ريمو ١٩٢٠م.

حركات التحرر والاستقلال في دول القرن الإفريقي

نشاط

- من خلال خريطة دول القرن الإفريقي، أجب عن الأسئلة الآتية:
 - 1- حدد دول القرن الإفريقي.
 - 2- بين أهمية موقع دول القرن الإفريقي.

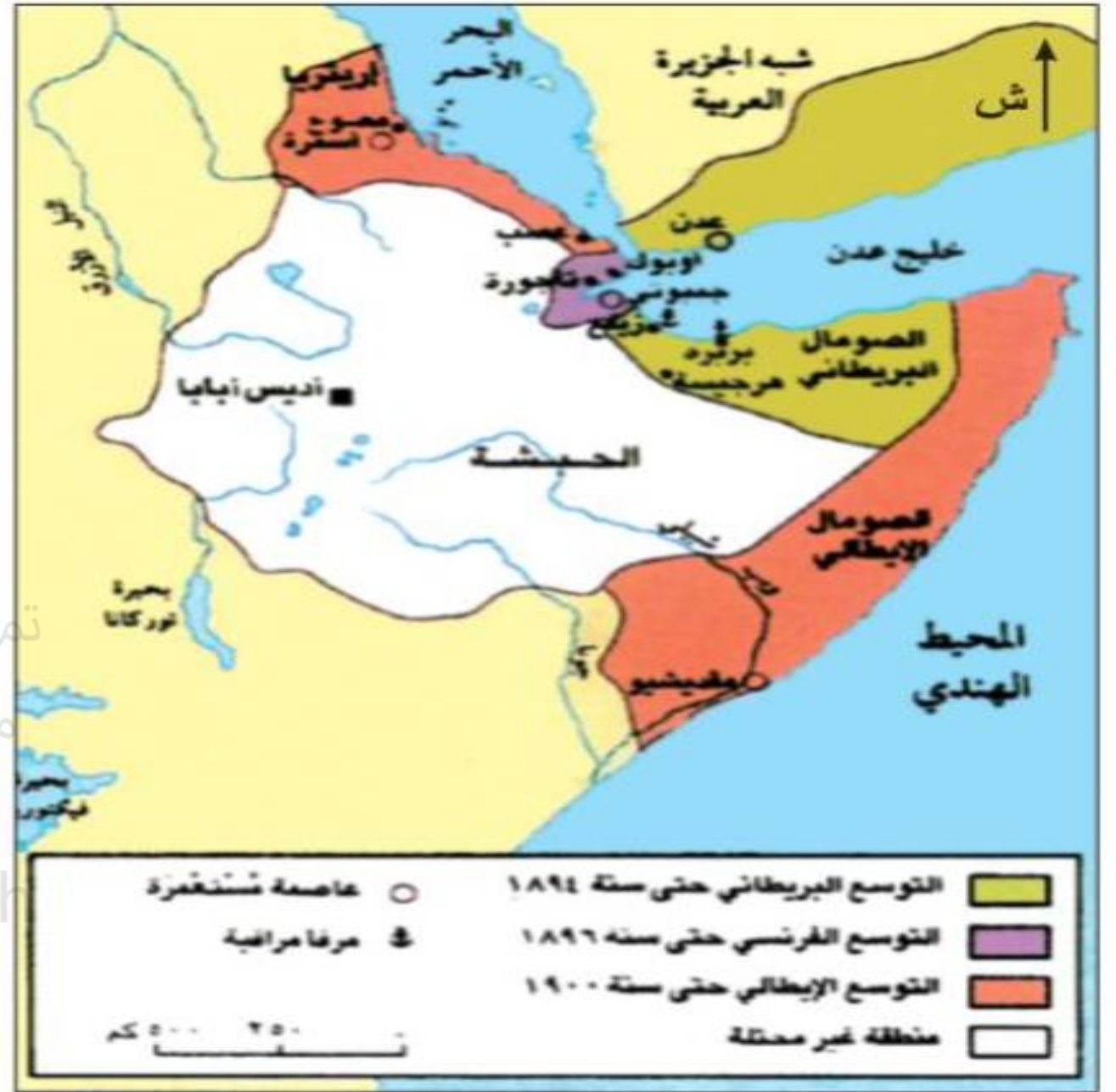
مطللة على باب المنذب وخليج عدن



نشاط 3-فردى -
5د- مهارة تحليل
الخريطة

من خلال الخريطة التي امامك
اجيبى عن الأسئلة التالية :

- 1- ما عنوان الخريطة ؟
- 2- حسب مفتاح الخريطة ماذا
يمثل اللون الأخضر ؟
- 3- حسب الخريطة ما أسماء
المناطق التي احتلتها فرنسا ؟
- 4- ما اسم الدولة الأوروبية التي
احتلت مقديشو ؟
- 5- حددي أسماء المسطحات
المائية التي تشرف عليهم دول
القرن الإفريقي.



(٦) السيطرة الاستعمارية على القرن الإفريقي.

نشاط 3- فردي -
5د- مهارة تحليل
الخريطة

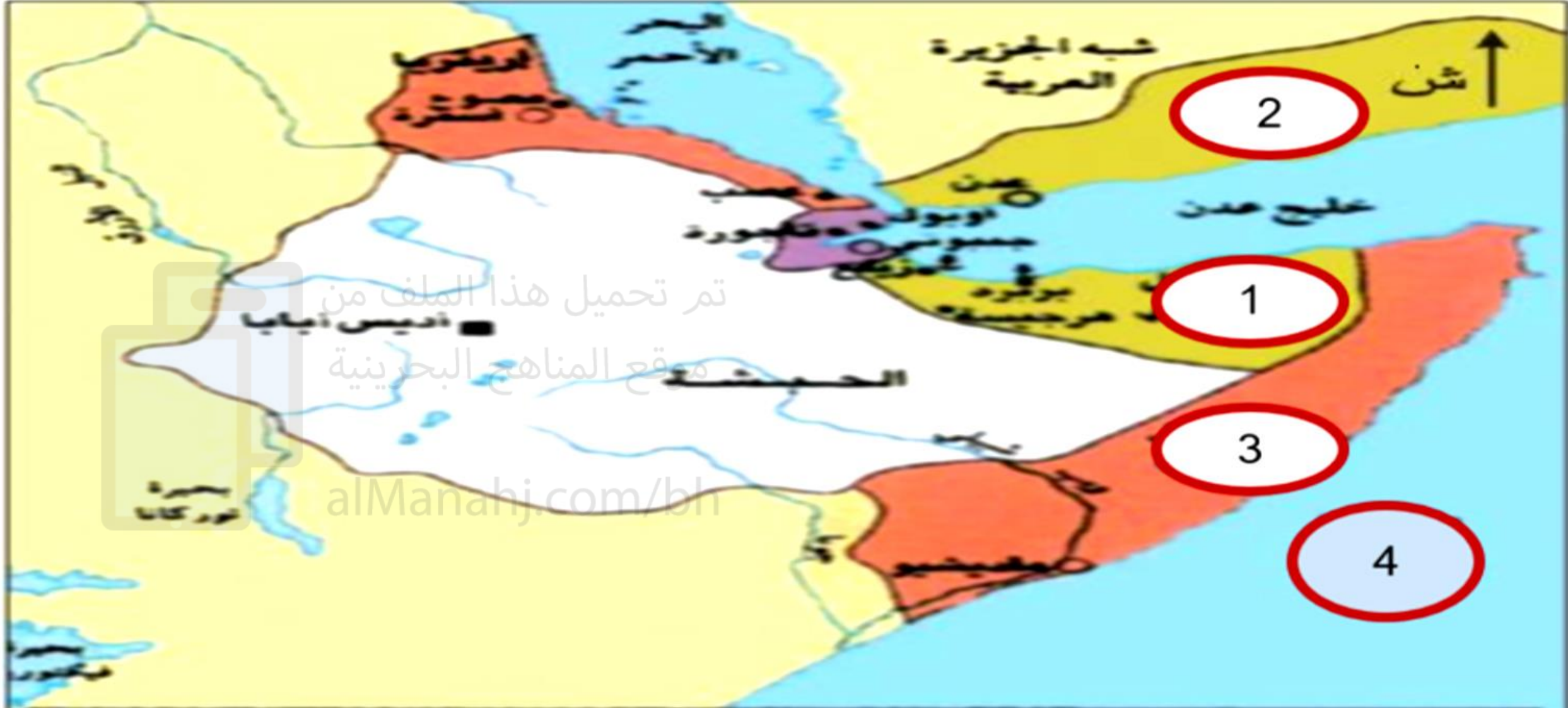
من خلال الخريطة التي امامك اجيبي عن الأسئلة التالية

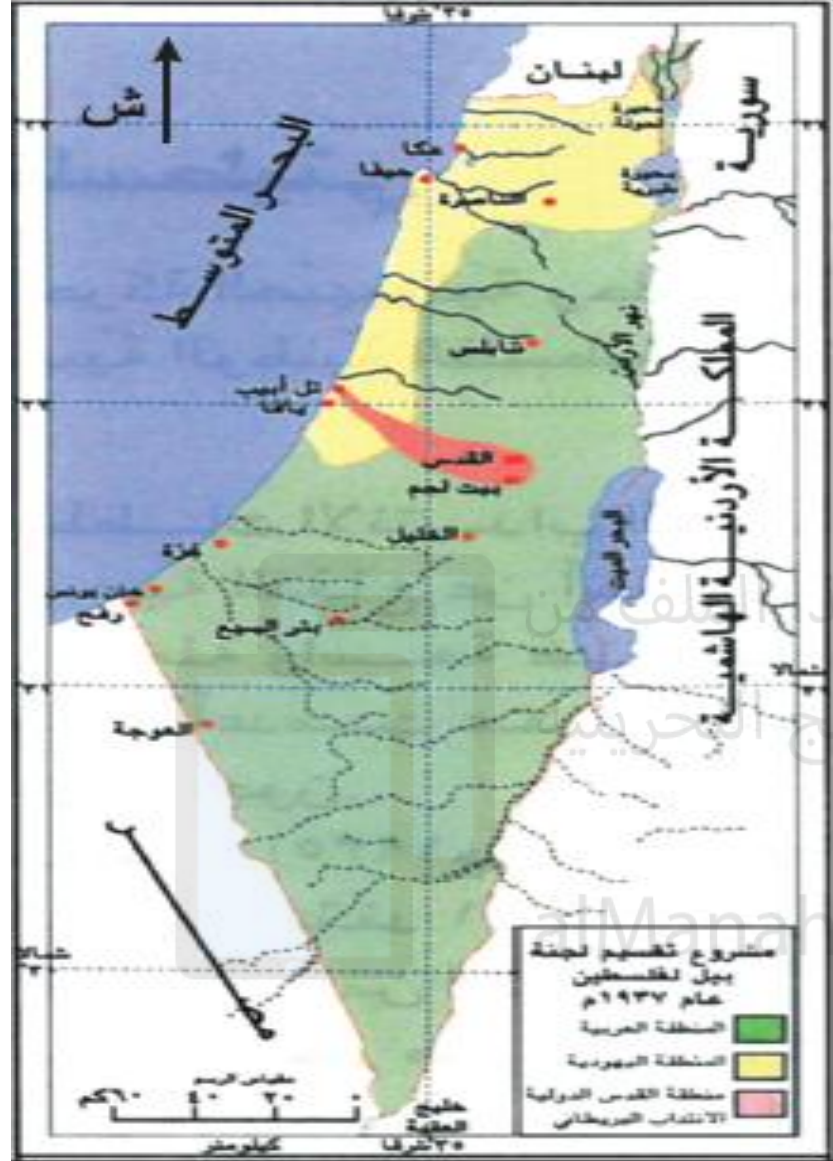
:

- 1- ما عنوان الخريطة ؟ السيطرة الاستعمارية على القرن الافريقي
- 2- حسب مفتاح الخريطة ماذا يمثل اللون الأخضر ؟ التوسع البريطاني حتى 1894
- 3- حسب الخريطة ما أسماء المناطق التي احتلتها فرنسا ؟ جيبوتي، تاجورة ، دوميرانية
- 4- ما اسم الدولة الأوروبية التي احتلت مقديشيو ؟ إيطاليا
- 5- حددي أسماء المسطحات المائية التي تشرف عليهم دول القرن الافريقي.
المحيط الهندي، خليج عدن، البحر الأحمر



أكتبي نوع الاستعمار حسب ما تمثله الأرقام (1-2-3)





(٧) خريطة مشروع تقسيم بيل لفلسطين

2- مشروعات التقسيم

أ- مشروع لجنة بيل 1936م.

أعلنت بريطانيا بعد قيام الثورة الفلسطينية عام 1936م عن إرسالها لجنة ملكية إلى فلسطين كما يظهر في المخطط الآتي:

- أسم اللجنة:

- لجنة بيل بقيادة اللورد « بيل » الملكية

• سبب قدوم قيام لجنة.

- التحقيق في أسباب الثورة الفلسطينية الكبرى عام 1936م.

• اقتراحات اللجنة.

- تقسم فلسطين إلى ثلاث مناطق كما يظهر في الخريطة إلى:

- منطقة يهودية، منطقة عربية، منطقة خاضعة للانتداب البريطاني.

• موقف الأطراف المتنازعة.

- رفض العرب واليهود هذا الاقتراح.

بعد رفض مشروع لجنة بيل قررت بريطانيا إحالة قضية فلسطين إلى الأمم المتحدة التي تعاملت مع القضية الفلسطينية كما يظهر في المخطط الآتي:

• أسباب إحالة قضية فلسطين إلى الأمم المتحدة.

- رفض الفلسطينيين مشروع التقسيم.

- قرار بريطانيا إنهاء الانتداب وإحالة القضية للأمم المتحدة.

• قرار الأمم المتحدة.

- بتأثير من الولايات المتحدة قررت الأمم المتحدة كما يظهر في الخريطة.

- تقسيم فلسطين إلى ثلاث مناطق: دولتين عربية ويهودية وتدويل مدينة القدس.

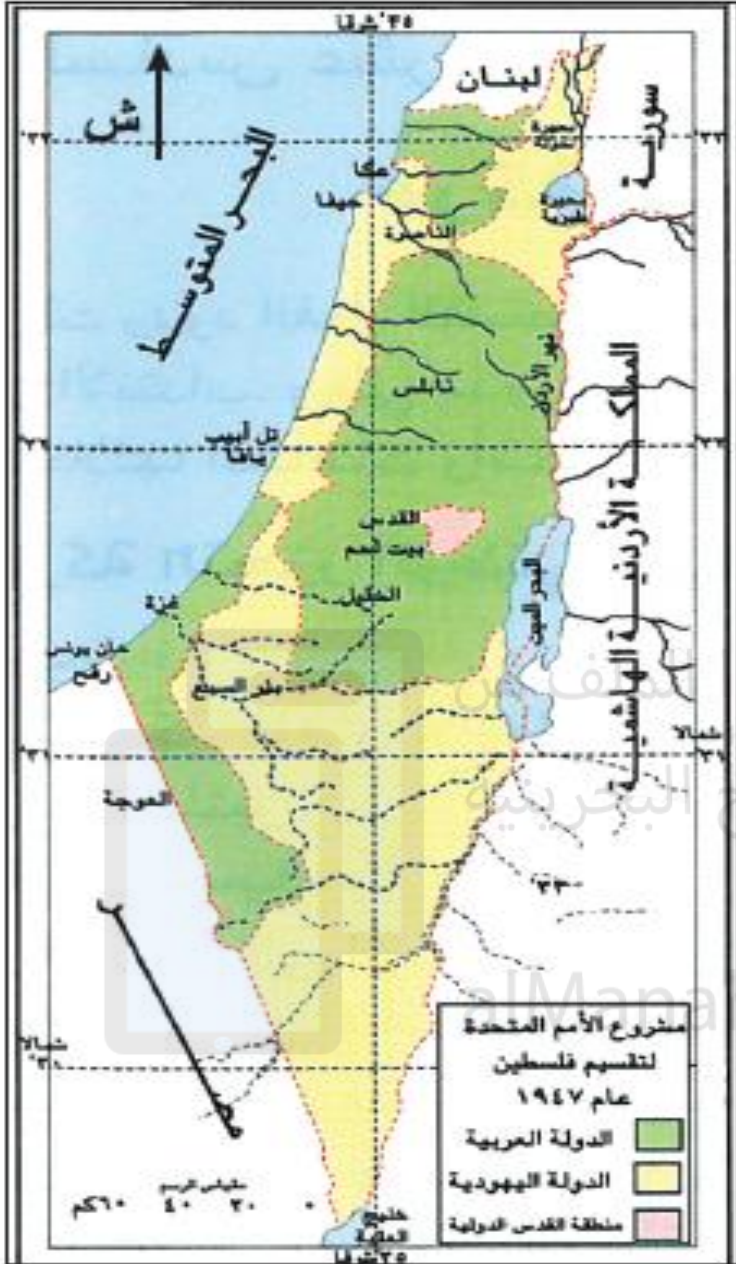
• موقف الأطراف المتنازعة.

- العرب : جعلت الدولة العربية دولة داخلية مما أثار سخطهم

وأدى إلى بروز حركة التحرر الوطني الفلسطيني

- الحركة الصهيونية : أتاح هذا القرار لها السيطرة

على الأراضي الخصبة المطلة على الساحل ومكنها من إعلان قيام دولة «إسرائيل».



(٨) خريطة مشروع تقسيم الأمم المتحدة لفلسطين